

平鎮高中 103 學年度第 2 學期高二第一次定期評量公民與社會科試卷

範圍：1-1~2-5				年級&班級：		201~213	
學生：	班級	座號：		姓名：			

※若答案卡上班級、座號未畫記、畫記不清楚或畫記錯誤以致電腦無法辨識者，酌扣評量成績 5 分。

一、 單一選擇題：(每題 3 分，答錯不倒扣)

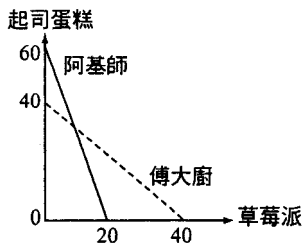
- () 1. 2011 年 3 月，日本強震導致福島核電廠爆炸，引發核能外洩輻射飄散的問題，大陸民眾誤以為吃鹽可以防止輻射，同時也爆發嚴重的「搶鹽潮」，許多人紛紛購買足以讓全家吃 40 年的鹽，因此有網友諷刺道：「世上最痛苦的是什麼？輻射來了，鹽沒了；世上最最痛苦的是什麼？輻射來了，吃鹽沒用；世上最最最痛苦的是什麼？輻射沒來，鹽買太多了；世上最最最痛苦是什麼？人都死了，鹽還沒用完。」請問：搶鹽的行為是否屬於經濟學中所謂「理性的選擇」？ (A)是，無法以經濟學解釋的行為也可稱理性 (B)是，理性選擇的結果不見得會有利於自己 (C)否，這些民眾的行為雖是自私卻不算理性 (D)否，理性的選擇是指經過真正的深思熟慮。
- () 2. 下表是友志與友慧每小時製作雞蛋糕與紅豆餅的產量，請根據表中判斷下列敘述何者正確？ (A)友慧無論在生產雞蛋糕或紅豆餅均具有比較利益 (B)友志應專心生產紅豆餅，友慧專心生產雞蛋糕較符合比較利益法則 (C)友志生產 1 個雞蛋糕的機會成本為 3/2 個紅豆餅 (D)友慧生產 1 個紅豆餅的機會成本為 5/4 個雞蛋糕。

	友志	友慧
雞蛋糕(個/小時)	12	20
紅豆餅(個/小時)	8	16

- () 3. 幾年前 H1N1 病毒引發的新型流感快速蔓延，引起各國關注，並建立防範機制。首先我國政府針對受感染之入境旅客檢疫隔離，其後國內口罩因需求增加造成價格上揚，引發社會議論，政府因此協調廠商緊急調度資源，24 小時生產線不停工，供給增加才使得口罩價格回穩。隨著疫情加溫，政府已針對學校感染情況發布停課標準，並逐步展開全面性的疫苗注射。請問：下列何者價格上升而後回跌的供需變動原因與上述口罩的例子一樣？ (A)颱風過後，蔥價暴漲；其後產地氣候大致穩定，蔥價因此回跌 (B)油價飆升，國道客運車票價格調升；但因高鐵的競爭，車票價格隨後調降 (C)澎湖的地價因離島博弈條例之施行而急揚；但公投沒過使得地價下滑 (D)研究指出蒜頭有益健康使得蒜價高漲；農民因此搶種蒜頭，價格回跌。
- () 4. 微軟公司過去為了確立 Windows 在作業系統市場上的地位，創辦人比爾·蓋茲便鼓勵其他廠商開發 Windows 的應用程式，於是用戶選擇的天平開始明顯地倒向微軟，因為市場上有將近三萬種的應用軟體，無法使用於麥金塔等其他作業系統上。請依上文判斷，若 Windows 作業系統在市場上的價格提高，則 Windows 的應用程式的供需將產生何種變化？ (A)應用程式需求減少 (B)應用程式需求量減少 (C)應用程式供給減少 (D)應用程式供給量減少。
- () 5. 伊斯蘭教的先知穆罕默德，原本是一位經商的生意人，他對於市場的運作方式相當地了解。當有人向他陳情，希望他能協助平抑物價、減輕百姓的生活負擔時，他斷然地拒絕了，因為他認為這麼做反而會對市場造成負面的影響。請問：下列哪些概念是穆罕默德所重視的？(甲)公平；(乙)效率；(丙)社會正義；(丁)經濟自由；(戊)私有財產；(己)集體主義。 (A)甲丙己 (B)甲丁戊 (C)乙丙己 (D)乙丁戊。
- () 6. 政府油電雙漲的情況之下，物價蠢蠢欲動，政府於是要求各商家商品凍漲，於是有人畫了下面的那張漫畫。下圖漫畫中反映出該政府的立場可能為下列何者？ (A)係屬有限政府的性質 (B)認為放任價格機能運作，可達最佳經濟效率 (C)此種決策在專制國家中較易施行 (D)相信「無形之手」的力量。



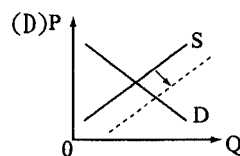
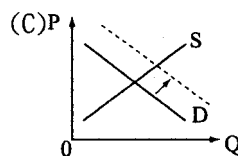
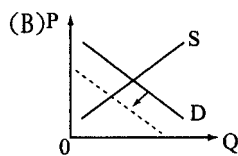
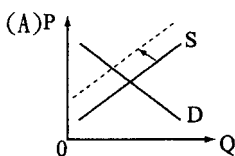
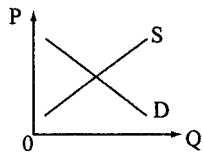
- () 7. 阿基師和傅大廚是廚藝世界的兩大角色，兩人常常在廚藝競賽中爭得你死我活，不僅比食物美味，也比生產產量。假設下圖為阿基師和傅大廚運用相同的資源和技術之下，一個工作天可生產草莓派和起司蛋糕兩種產品的生產可能曲線。請問：下列相關敘述何者正確？ (A) 傅大廚生產 1 個草莓派的機會成本是 3 個起司蛋糕 (B) 阿基師生產 1 個起司蛋糕的機會成本是 1 個草莓派 (C) 在兩人分工生產且進行有利的分配後，傅大廚可以得到 28 個草莓派以及 38 個起司蛋糕 (D) 在兩人分工生產且進行有利的分配後，阿基師可以得到 15 個草莓派以及 25 個起司蛋糕。



- () 8. 永續發展是我們人類現正面臨的重要課題，請問：永續發展與傳統的經濟發展相比較，兩者最重要的不同點為何？ (A) 傳統經濟發展未能考慮後代滿足其需求的能力 (B) 傳統經濟發展重視與追求當代人的消費與享受 (C) 永續發展未能考慮後代滿足其需求的能力 (D) 永續發展不重視追求當代人的消費與享受。
- () 9. 小華放棄 4 小時的 120 元/小時的打工機會，與小明一同出外郊遊，小明騎摩托車載小華加油花費 150 元，小華請小明吃午餐花費 300 元，由此例中，小華的會計成本與機會成本各為多少（會計成本，機會成本）？ (A) (530, 930) (B) (120, 420) (C) (300, 780) (D) (450, 570)。
- () 10. 某報報導自從金融風暴之後，成衣市場的消費型態改變，花俏、流行度高的衣服不再吃香，反而是一些實穿、基本的款式銷售增加。此外修改衣服的師傅表示：「金融風暴發生後，生意反而變好了，許多顧客會拿著舊衣服來改。」但服飾店店員則抱怨連連：「逛街買新衣的顧客大量流失，盈收短少使得店家快撐不下去了。」請問消費型態發生如此轉變，主因應該是受下列何者影響所致？ (A) 所得的減少 (B) 所得的增加 (C) 消費者的年齡 (D) 衣服消費人數減少。
- () 11. 下表是市場上對特定財貨的供需關係資訊，就市場機能觀之，下列選項何者正確？ (A) 市場均衡時，消費者剩餘總計 300 元 (B) 當價格為 140 元時，會產生供過於求的情況 (C) 市場均衡時，最大社會福利總計 900 元 (D) 達到市場均衡時，均衡價格為 100 元、均衡數量為 10 單位。

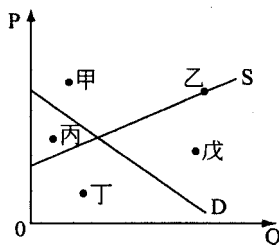
價格 (元)	20	60	100	120	140	180
供給量	0	4	8	10	12	16
需求量	24	20	14	10	6	0

- () 12. 小好看到新聞報導：「近日由於日本核電廠連環爆，引發民眾核危機恐慌，日本、美國民眾瘋狂搶買碘片。臺灣核一、核二廠附近的居民，也趕緊到衛生所領取碘片，實際上臺灣還不到吃碘片時機，民眾可以選擇其他富含碘的食物取代，例如：海帶，100 公克就含有高達 400 微克的碘，其他各類海產像是魚蝦貝類，也都富含碘。」下圖為臺灣地區原來含碘海帶的供需圖，請問：受到日本核電廠爆炸的影響，民眾對於含碘海帶的供需圖形可能會產生下列哪一種變化？（虛線為變動後的情形）

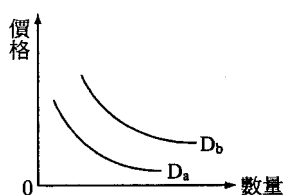


- () 13. 經濟學之父亞當·斯密的名言：「我們的晚餐並不是來自屠宰商、釀酒師和麵包師的恩惠，而是來自他們對自身利益的關切。」根據這番敘述，下列哪一句話是正確的？ (A) 經濟學的「自利」指的是追求自利但也必須尊重他人意願 (B) 經濟學所指的「效用」因人而異 (C) 經濟學認為「自利」行為反而能促成社會公益 (D) 經濟學是關於選擇的科學，「自利」也是個人的選擇。

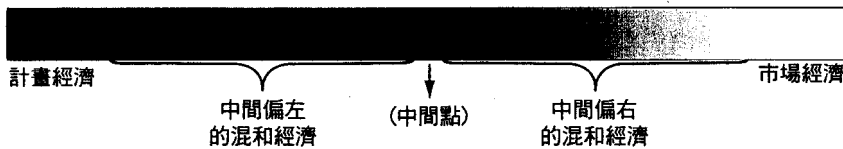
- ()14. 1987年聯合國世界環境及發展委員會提出何種觀念，強調任何國家在經濟發展過程中，不能為了滿足這一代的需求，而剝奪了後代子孫享受現有環境資源的機會？(A)資源回收 (B)綠色消費 (C)永續發展 (D)天人合一。
- ()15. 近來大環境不佳，許多日本女性紛紛重回職場，雙薪家庭增加，使宅配需求也大增。根據矢野經濟研究所的報告，日本網路超市2008年的營業額比前一年大幅成長71%，看準此一趨勢，許多連鎖餐廳與超市也紛紛加入宅配服務。依據前述，宅配市場最可能發生的變動情形為何？(A)均衡數量不一定、均衡價格下降 (B)均衡數量不一定、均衡價格上升 (C)均衡數量減少、均衡價格不一定 (D)均衡數量增加、均衡價格不一定。
- ()16. 年關將近，量販店看準時機打出家電低價牌，精打細算的花媽準備買一臺吸塵器，預算是4,000元；翻翻型錄，其中A品牌價格2,999元，B品牌3,999元附贈終身保固。最終，花媽決定買有終身保固的B品牌而未選擇較便宜的A品牌。根據題幹敘述，何者最能說明花媽此經濟決策的影響因素？(A)吸塵器功能影響花媽的選擇 (B)吸塵器價格影響花媽的選擇 (C)其他之誘因影響花媽的選擇 (D)吸塵器預算影響花媽的選擇。
- ()17. 生產可能曲線通常是一條凹向原點的曲線，而較少是一條負斜率的直線，請問生產可能曲線凹向原點或是呈一條直線的原因為何？(A)直線表示機會成本固定，而凹向原點表示機會成本遞增 (B)直線表示變動的機機會成本，而凹向原點表示機會成本固定 (C)直線表示機會成本不存在，而凹向原點表示機會成本存在 (D)機會成本的變化與曲線之形狀無關。
- ()18. 「義美」是在三氯氫氣及塑化劑風波中少數沒有中標的食品業大廠之一，甚至在食用油風波中也能夠全身而退，也因此被網友封為「義神」。該公司總經理表示，義美在食品安全上的把關主要靠的是從源頭控管，包括原物料產地來源、採購價格、廠商的客戶參考名單等，「光是這樣，不用檢驗就可以先踢掉很多可能有問題的原料供應商。」因為所有的原料採購都有市場價格可以參考，「突然哪一種東西，價格特別便宜，你就要有所懷疑。」請問：總經理的這席話是根據下列哪一經濟學概念所得出的結論？(A)經濟效率 (B)市場機能 (C)消費者剩餘 (D)需求法則。
- ()19. 由於台北某位議員所引爆的疑似漂流木與山老鼠事件，透過新聞知道這些事情，讓我們再次感嘆「殺頭的生意有人做，賠錢的生意沒人做」這句話。請問：圖中哪些價量關係對生產者來說可謂「賠本的生意」？(A)甲丙 (B)甲乙丙 (C)丁戊 (D)乙丁戊。



- ()20. 據報導，近年來某名牌的包包在歐美爆紅，造成臺灣社會名媛不惜重金購買。因為太受歡迎，使得限量供應的名牌包價格暴漲，對許多人的荷包已造成沉重負擔，但臺灣名媛仍是趨之若鶩，在節目上表示以擁有該種包包為榮。根據上文，以臺灣社會名媛對該種名牌包的消費需求和價格變化來看，該種名牌包應具有何種性質？(A)符合需求法則的觀念 (B)通常發生在貧困的社會中 (C)因為商品價格高因此需求也高 (D)這種商品炫耀性質大於金錢價值。
- ()21. 假設市場需求曲線如下圖所示，請從下列事件中，分析何者是正確的？(A)當石油價格上漲，替代品「煤」的需求曲線會從原 D_a 右移到 D_b (B)當石油價格上漲，替代品「汽車」的需求曲線會從 D_a 右移到 D_b (C)經濟衰退時期，劣等財的需求曲線會從原 D_b 右移到 D_a (D)鋼鐵的價格上漲，豬肉需求曲線會從原 D_a 右移到 D_b 。



- () 22. 羅斯福曾經當選了三屆的美國總統，某位記者詢問他對於第二次連任有何感想時，羅斯福一言不發地拿出一個三明治請記者吃，記者吃完後羅斯福就拿出第二個三明治，記者只好勉強吞下去，沒想到羅斯福緊接著又拿出第三個，記者趕忙婉拒，這時羅斯福笑著告訴記者：「現在你了解我當選三次的感受了吧。」關於羅斯福的回答，下列解釋何者正確？ (A) 羅斯福認為自己三度競選總統的這個選擇是不理性的 (B) 羅斯福認為自己在擔任第三屆總統上不具有比較利益 (C) 羅斯福認為自己一次次擔任總統的邊際效用正在遞減 (D) 羅斯福認為自己欲望無窮，相較之下資源卻顯得有限。
- () 23. 有一次在上高中公民與社會課，老師想了解學生對於「生產可能曲線」概念知多少，以下是5位同學發表。請選出正確的選項。婷婷：「生產可能曲線線上任何一點都是最有效率的組合。」清河：「線上的每一點都是有效率的。」美美：「只要稍稍偷懶，就會掉至生產可能線之外了。」小英：「公司研發新技術，產量組合將會移到生產可能線上的任何一點。」安安：「從生產可能曲線，可以看出品質改善。」 (A) 小英、安安 (B) 婷婷、清河 (C) 美美、安安 (D) 小英、清河。
- () 24. 小凱大學畢業後應徵了3份工作，A工作月薪35,000元，須額外花費通勤費用5,000元；B工作月薪40,000元，須另外支付食宿每月費用20,000元；C工作則是月薪25,000元。若小凱最後選擇C工作，則機會成本為多少？ (A) 75,000元 (B) 40,000元 (C) 35,000元 (D) 30,000元。
- () 25. 如下圖所示，不同的經濟制度之間，有如一道光譜，難以截然二分。請問：以「從搖籃到墳墓」的社會照顧著稱的北歐國家，應屬於上圖光譜中的哪個部分？ (A) 極左派的計畫經濟 (B) 中間偏左的混和經濟 (C) 中間偏右的混和經濟 (D) 極右派的市場經濟。



題組：

- (一) 隨著農曆春節來臨，過年家家戶戶必備的嗑牙零嘴，通通漲價了；民眾三大必買零嘴包括開心果、瓜子、花生全部上漲，開心果從每斤240元漲到300元；瓜子從每斤130元漲到150元，花生也從每斤130元漲到150元，魷魚絲則沒有波動，維持每斤280元。而受到日圓貶值的影響，日本進口的零嘴反而大幅降價，成為民眾採購年貨的新選擇。
- () 26. 民眾面對年節必吃零嘴開心果、瓜子、花生通通漲價的現象，表示無奈，有人選擇拒吃，也有人選擇少買一點。民眾的反應會對市場直接產生何種變化？ (A) 供給減少 (B) 需求減少 (C) 供給量減少 (D) 需求量減少。
- () 27. 由於量販店通路的年貨零嘴提早進貨，所以價格沒有調整；日元呈現低點，日本進口零嘴通通降價，兩者都成為民眾採買年貨的新選擇。對消費者而言，此時量販店、日本零嘴跟傳統年貨大街，呈現何者關係？ (A) 替代品 (B) 互補品 (C) 正常財 (D) 劣等財
- (二) 簽FTA (Free Trade Agreement, 自由貿易協定)，臺灣準備好了嗎？經濟部國貿局長卓士昭指出，目前臺灣還沒準備好，因此，要想辦法準備好，因為「別人的優勢，會是臺灣的劣勢，別人自由化程度高，相對就會顯得臺灣的障礙多」。他說，韓歐盟FTA生效即日起，90%以上工業部門的關稅立即降為零，生效5年後則是100%的工業部門關稅降為零，同樣的農業部門也是在生效5年後逾90%關稅降為零。臺灣要與他國簽定FTA，必須先問自己是否準備好？唯有臺灣自己準備好，「人家才會跟你臺灣談」。而臺灣在洽簽FTA上，是否能做到像韓國一樣？他認為，「目前是做不到，所以，要想辦法做得到」。
- () 28. 上文中「別人的優勢，會是臺灣的劣勢，別人自由化程度高，相對就會顯得臺灣的障礙多」。請問這句話比較符合下列哪一種理論的說法？ (A) 絕對利益 (B) 比較利益 (C) 效用最大 (D) 永續發展。
- () 29. 假設其他條件不變，單就簽定FTA的貿易兩國而論，在「比較利益法則」影響下，其國內的產業通常會發生下列何種現象？ (A) 強與弱漸趨均質化 (B) 所有產業同時強化 (C) 強者續強，弱者續弱 (D) 強者轉弱，弱者轉強。

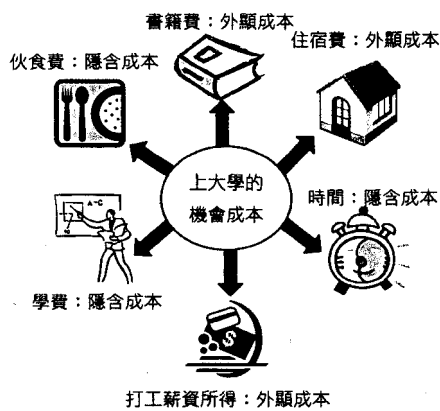
- ()30. 韓歐盟 FTA 生效後，90%以上工業部門的關稅立即降為零，生效 5 年後則是 100%的工業部門關稅降為零，同樣的農業部門也是在生效 5 年後逾 90%關稅降為零。請問這對臺灣有何影響？ (A)對於外銷歐洲且與韓國競爭激烈的產業衝擊較大 (B)臺灣輸出歐盟具競爭優勢的產品不會因關稅受到影響 (C)歐盟市場非常大，對於臺灣的產業幾乎沒有影響 (D)基於自由經濟制度，政府面對此一問題無需介入。

二、多重選擇題：(每題 2 分，答錯不倒扣)

- ()31. 附表為某國汽油的供需情形，該國政府為體諒人民所苦，儘管面臨國際油價飆漲，仍決定對國內汽油凍漲，讓其價格不能超過每公升 30 元。請問：此舉會對市場造成何種影響？ (A)會出現供不應求 (B)汽油會過剩 5 公升 (C)汽油會短缺 5 公升 (D)會出現排隊加油的民眾 (E)30 元為新的市場均衡價格。

汽油價格	45	40	35	30	25
需求量	2	3	5	8	10
供給量	9	7	5	3	1

- ()32. 前不久臺北市長曾經說過外籍配偶「進口」而引發一陣討論，但如果我們把「婚姻」當作是一種交易，把適婚男性和女性當作是一種商品，那麼與其他國家相較之下，臺灣這些年來適婚女性比例較低的現象，可能對臺灣的婚姻市場造成何種影響？ (A)臺灣適婚男性有較嚴重的「過剩」 (B)臺灣適婚女性的「價格」較高 (C)臺灣婚姻市場對適婚男性的「需求」較少 (D)臺灣婚姻市場對適婚女性的「供給」較少 (E)臺灣從國外「進口」的適婚女性比例較多。
- ()33. 甫高中畢業的一休，因為家境清寒，於是考慮先打工賺錢，但母親卻希望他繼續完成大學學業。面臨取捨的過程，一休想起公民課所學之「機會成本」概念，於是他將上大學可能付出的代價歸納於圖中，但一休有些地方寫錯了，請根據下圖幫他找出錯誤的地方，並從選項中選出改正後正確的選項？ (A)學費應改為「外顯成本」 (B)時間應改為「外顯成本」 (C)伙食費應改為「外顯成本」 (D)住宿費應改為「隱含成本」 (E)打工薪資所得應改為「隱含成本」。



- ()34. 在地球環境和氣候急遽變化的今日，人類不再只著眼於經濟的發展，對於永續發展的關注也逐漸提高。請問：關於永續發展和經濟發展的敘述，下列何者正確？ (A)人造資本的存量愈低，永續發展的程度愈高 (B)永續發展關注後代人類的福祉，遠勝過於當代人類的福祉 (C)經濟發展所討論的重點在於增進當代人類的福祉，而未顧及後代 (D)開發中國家的貧窮，不僅是經濟發展的課題，亦是永續發展的課題 (E)經濟發展和永續發展之間不必然是呈現反向變動關係。
- ()35. 下列關於各種經濟學用詞的敘述，何者正確？ (A)「消費者剩餘」的數據可能會出現小於 0 的情形 (B)老王會隨著薪水的增加而減少對「劣等財」的購買量 (C)薯條與沾取使用之番茄醬間的關係屬於「生產上的互補品」 (D)速食店中原價的漢堡與特價的漢堡套餐之關係為「消費上的替代品」 (E)極貧窮環境下，老百姓會在「季芬財」價格上漲時，持續購買。

()36. 3M 的便利貼家喻戶曉，但很少人會知道，發明 3M 便利貼的人當初本來是想發明一種超強的黏合劑，而結果卻令他大失所望，因為發明出來的黏合劑黏性不佳，貼上的東西總是能被輕易地撕開，不過他靈機一動，將他的失敗作品做成可以隨撕隨黏的便利貼，結果廣受好評，為 3M 公司獲得了前所未有的巨大商機。請依上文判斷，下列敘述何者正確？ (A)3M 公司是「產品市場」中的需求者 (B)3M 公司在「生產要素市場」中販售生產要素 (C)便利貼對 3M 公司來說是一種「生產要素」 (D)便利貼的「專利權」屬於 3M 公司的「資本」 (E)在故事中，生產要素之一的「企業才能」是 3M 公司獲利的關鍵。

()37. 請問有關於「市場經濟制度」與「計畫經濟制度」的內容，下列哪些是正確的？

	市場經濟制度	計畫經濟制度
(A)特徵	是以私有財產與市場分權為基礎	是以公有財產與中央集權為基礎
(B)別稱	共產主義制度	資本主義制度
(C)國家	美國、西歐各國	改革開放前的中國
(D)優點	有效率與自由	較沒有貧富差距的問題
(E)缺點	較不具有效率與自由	貧富差距大、失業、勞資衝突

()38. 下列哪些敘述會產生經濟問題？ (A)赤道地區的日照 (B)到福利社買飲料 (C)排隊領免費門票 (D)無窮盡的水源 (E)指考倒數剩下 50 日，書卻還沒唸完。

()39. 假設市場上甲商品的需求線為： $P=-Q+50$ ；供給線為： $P=Q+10$ ，其中 P 代表價格，Q 代表數量。下列敘述正確的有哪些？ (A)當在某一個價格下，需求量剛好與供給量相等，則此價格為均衡價格 (B)均衡價格=20 (C)均衡數量=30 (D)當 $P=25$ ，市場會出現短缺現象 (E)當 $P=40$ ，市場會產生過剩 40 個單位數量。

()40. 據財經雜誌報導，近年來某一藥妝連鎖店業績每年都能以 2 位數以上成長，除了堅持高度專業之外，並將目標設在「站在客人立場想，幫客人創造新理由來店消費。」因此在金融海嘯肆虐過後，其業績仍然可以逆勢成長，此種現象說明了廠商創造顧客需求的重要性。請問：有關需求概念下列敘述何者正確？ (A)在不景氣的年代，依供給法則，廠商降價可以增加需求數量銷售 (B)電影院分早晚場不同的門票價格，是因為消費者間可以接受的價格不同 (C)需求法則是價量呈現「價高多產、價低減產」的關係 (D)供給數量低於需求數量稱為供不應求 (E)需求量與供給量相減為零稱為市場均衡。