

桃園市立平鎮高級中學 103 學年度第二學期地理期末考考卷

適用班級：高三社會組

考試範圍：選修應用地理上 ch5~10，選修應用地理下 ch4~6

注意事項：基本資料於答案卡畫記錯誤或缺漏者扣總分 5 分

填答方式：答案卡、答案卷

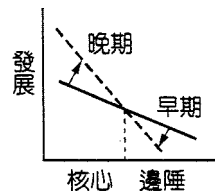
一、單選題(每題 2 分)

1. 下表為全球甚為重要的一個區域性經貿組織成員國。該國際組織的運作方式，並「不包括」下列何者？ (A) 決議採多數決的方式，但不具法律約束力 (B) 以區域論壇的方式進行 (C) 透過經濟領袖會議揭示未來政策方向 (D) 會員國達成的貿易自由化協議適用於非會員國。

地區	會員國(國家或地區)名稱	小計
東亞	臺灣、中國(香港)、日本、韓國	5
東南亞	印尼、馬來西亞、新加坡、汶萊、菲律賓、泰國、越南	7
大洋洲	澳洲、紐西蘭、巴布亞紐幾內亞	3
北美洲	美國、加拿大	2
中南美洲	墨西哥、秘魯、智利	3
北亞	俄羅斯	1
總計		21

2. 在二次大戰後，許多國家為求軍事共防或經濟合作而組成各種聯盟、組織。下列哪一組的國際組織，彼此的會員國完全沒有重疊？ (A) 北大西洋公約組織—上海合作組織 (B) 非洲聯盟—阿拉伯國家聯盟 (C) 亞太經濟合作會議—東南亞國協 (D) 亞太經濟合作會議—北美自由貿易區。

3. 右圖為核心區與邊陲區的一種交互作用模式。就全球各地的實際例子而言，下列有關此模式的敘述，何者「正確」？ (A) 臺灣於1980年代提倡的「產業東移」策略，尤其鼓勵西部的水泥廠東移至花蓮地區 (B) 邊陲區國家經由此種發展模式可以成為新興工業化國家 (C) 巴西於1960年代將首都遷至內陸的巴西利亞 (D) 目前中南半島5國中，緬甸即屬於此種發展模式的邊陲區。



4. 柚子先生在容易發生土石流的縣區內，向當地原住民承租了一片山麓沖積扇坡地來種植巨峰葡萄，辛苦的耕耘希望能在台灣物、房、油價高漲但薪資倒退到16前水準的時代，換來一家溫飽。柚子先生為了就近照顧農作，將農舍蓋在山麓沖積扇上，但他發現原地主的房子卻蓋在谷口旁較高的山坡上。當地的原住民地主依經驗深知，柚子先生的屋舍蓋在土石流的哪一區段上？ (A) 發生區 (B) 流動區 (C) 堆積區 (D) 逃命區。

5. 全球化的金融活動是 24 小時不斷進行的，需要國際銀行（金融批發銀行，資金收支最終結算銀行）相互間緊密不鬆的業務交付。因此東京要維持其世界金融中心之一的地位，最可能的競爭對手應是 (A) 倫敦 (B) 新加坡 (C) 紐約 (D) 北京。

6. 茉莉花革命稍息，北非戰火將起？始於突尼西亞的「茉莉花革命」，在埃及、利比亞、葉門、巴林、阿爾及利亞、約旦、阿曼等周邊國家燎原之火稍稍停息之際，利比亞開始轟炸叛軍、內戰已起。歐盟一名外交官日前表示，歐盟有意對利比亞實施禁止飛航措施，但表示還是「必須在聯合國安理會，通過制裁利比亞的決議案」之後，才可望實施這項禁飛制裁。北大西洋公約組織秘書長拉斯穆森 (Anders Fogh Rasmussen) 也與會，討論如何在當前利比亞國內動亂之際，撤離外國在利比亞的僑民與勞工等問題。並表達北約組織不排除加入對利比亞實施的禁航令，利比亞強人格達費揚言絕不下臺，誓言與十字軍奮戰到底。請問：上文中提及的區域組織中，下列何者並未提及？

(A)



(B)



(C)



(D)



7. 某企業於1972年在台灣設廠，1992年以後，陸續在江蘇(1992年)、上海(1994年)、荷蘭(1996年)和四川(2004年)設廠。江蘇、上海和四川廠的產品多在該地銷售或外銷東南亞；荷蘭廠和台灣廠的產品多在歐洲銷售。目前留在台灣的為研發部門，下列哪個概念最足以說明該企業在各地設廠的目的？ (A) 工業慣性 (B) 區位擴散 (C) 區位聚集 (D) 空間移轉。

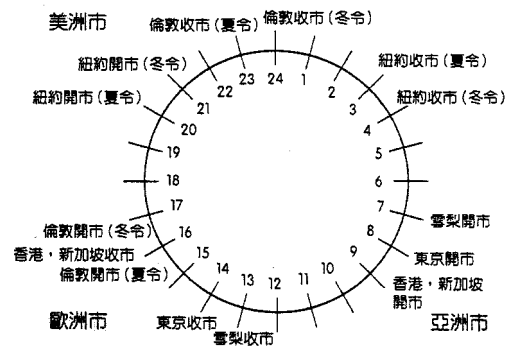
8. 建構「全球地理理論」，下列哪三個概念是最主要的基礎？(甲)時差阻隔降低 (乙)產品生命週期縮短 (丙)領域界線模糊 (丁)距離障礙減弱 (戊)知識經濟時代來臨 (A)甲丙丁 (B)乙丙戊 (C)甲丙戊 (D)甲丁戊。

9. 土石流可說是台灣地區相當重要的自然現象，目前台灣西部廣大的平原，即是一次又一次的土石流所造就而成。而今，土石流已成為台灣主要的自然災害，從自然現象成為自然災害，若就其發生的因子來判斷，其關鍵條件為何？ (A) 有無建物存在 (B) 材料破碎程度不一 (C) 地形坡度日漸陡峻 (D) 地表植被被破壞日益嚴重。

10. 「1997年亞洲金融風暴起源於泰國，當時因喬治·索羅斯(George Soros)旗下的量子基金大量賣空泰銖，迫使泰國放棄維持已久的與美元掛鈎的固定匯率而實行自由浮動匯率制度，但也因此引發了一場泰國金融市場前所未有的重大危機。」請問泰銖一直以來對美元實行固定匯率的主要原因，為下列何者？ (A)穩定的幣值吸引FDI進入泰國投資 (B)豐厚的外匯存底為發行貨幣準備 (C)降低對美採購的成本，減緩泰美貿易摩擦 (D)固定匯率有利商品大量進口泰國。
11. 紐約、西雅圖、東京、台北街頭，甚至曾出現在北京故宮的星巴克咖啡店，是全球化趨勢下產物的最佳實例之一，此一連鎖店的設立，說明何項事實？ (A)運輸革新所致 (B)各地趨於均質化 (C)各地相互依賴程度提高 (D)技術人力高度流動。
12. (甲)產生貨幣升值壓力、(乙)幣值被低估、(丙)貨幣升值、(丁)出口貿易暢旺、(戊)出口貿易趨緩。台灣在50、60年代時，積極地發展出口貿易，並逐漸累積大量外匯存底，創造出台灣的經濟奇蹟。試問，當台灣由「進口替代」階段演變至「出口擴張」階段，並開始出現貿易順差時，台灣的經貿發展與匯率變化應呈何種關係演變順序？ (A)甲乙丙丁戊 (B)丁甲戊乙丙 (C)乙戊甲丙丁 (D)丁乙甲丙戊。
13. 東協-中國自由貿易協定(CAFTA)已於2010年1月1日生效。未來東協中哪兩國因中國對棕櫚油、橡膠、天然氣等自然資源擴大進口，將成為最大的受益國家？ (A)泰國、馬來西亞 (B)印尼、泰國 (C)菲律賓、泰國 (D)印尼、馬來西亞。

二、整合題(每小題2分)

★全球金融市場隨著地球的運轉，影響是無國界的，故當重大政治或經濟事件發生時，常立即影響全球股票價格。馬來西亞航空不幸在2014年7月17日，在莫斯科當地時間16時前後(莫斯科時區為GMT+3，目前為日光節約時間)，在烏克蘭境內與俄羅斯邊境地區，遭不明攻擊而使全機機組人員喪生，消息一出，全球股市立刻震盪下跌。右圖為全球金融匯市交易時間表，請問：



14. 在空難消息之後，香港(營業時間：9:30~16:00)、倫敦(營業時間：8:00~16:00)、紐約(營業時間：8:30~15:00)、東京(營業時間：9:00~15:00)等地的股票市場，發生股價波動的先後順序為何？ (A)紐約、倫敦、香港、東京 (B)紐約、東京、香港、倫敦 (C)香港、倫敦、紐約、東京 (D)倫敦、紐約、東京、香港。
15. 此一烏克蘭與俄羅斯的戰爭行為，其實與烏克蘭國家境內分裂成親俄派與反俄派有關。反俄派積極運作脫離俄羅斯並加入另一區域經濟組織，根據地緣關係判斷，反俄派積極想加入的區域經濟組織應為 (A)東亞自由貿易區 (B)北大西洋公約組織 (C)歐洲聯盟 (D)東南亞國協。

★21世紀以來的最大規模金融風暴為2007年的美國次級房貸事件，連帶拖累了歐洲與亞洲地區國家的發展，引發歐洲部分國家的債務危機。這種貸款是提供信用程度較差，及還款能力比較弱的購屋者。因房市過熱，為了抑制過高的房價以及甲的壓力，美國聯準會連續17次的乙，貸款者還不出錢，引發連鎖效應，價值六千多億的雷曼兄弟也宣布破產。請問：

16. 甲、乙應分別填入哪些名詞？ (A)通貨膨脹；升息 (B)貧富不均；升息 (C)通貨膨脹；降息 (D)失業率、降息。
17. 下列哪一個已開發國家是這波金融危機中受創最為嚴重者？ (A)冰島 (B)德國 (C)法國 (D)英國。
18. 這場金融海嘯襲捲全球，全球投資人信心崩潰，市場上只要有任何負面消息傳出，就大砍手中股票，還掉入了「美股跌完、亞股跌，亞股跌完、歐股跌，歐股跌完、隔天的美股再跌」全球性的惡性循環中，熊市(空頭市場)早已悄然降臨。上述現象說明了下列哪一個事實？ (A)全球金融的證券化是這一波金融危機的最大元凶 (B)全球共有紐約、東京、倫敦三大金融交易時區的中心 (C)在全球化與資訊化的推波助瀾下，全球的金融版圖已連成一片，牽一髮而動全身 (D)目前全球有三大金融中心和許多新興的區域金融中心，每天有大量資金在其彼此間流動。

★為因應全球暖化現象，攸關溫室氣體排放的重要環保公約在俄羅斯簽署後，使簽署國超過55國的門檻，已於2005年2月16日正式生效。該公約的目標是預計2008年~2012年間，將已開發國家溫室氣體的排放量降至低於1990年20~40%的標準。溫室氣體中的CO₂排放量與電力的生產方式密切相關，右表中甲~丁為2005年冰島、阿拉伯聯合大公國、巴西及法國等國電力生產來源分配表。請問：

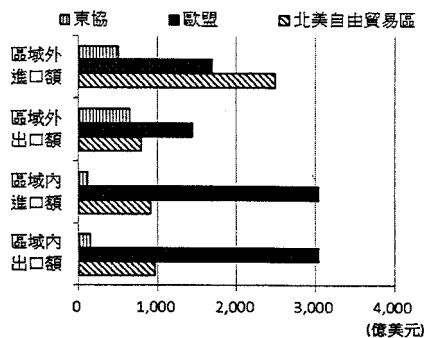
國家	火力發電	水力發電	核能發電	其他
甲	10.5%	9.8%	78.5%	1.2%
乙	10.1%	83.7%	2.4%	3.8%(生質能)
丙	0.1%	80.8%	0%	19.1%(地熱)
丁	100%	0%	0%	0%

19. 上述所指公約應為下列何者？ (A)哥本哈根議定書 (B)蒙特婁公約 (C)京都議定書 (D)氣候變化綱要公約。
20. 綜合發電方式與人口數量來考量，表中哪一個國家因發電所造成的CO₂排放量最少？ (A)甲 (B)乙 (C)丙 (D)丁。
21. 依各國的發電方式與資源特性來判斷，表中四國由甲~丁依序排列應為 (A)法國、冰島、巴西、阿拉伯聯合大公國 (B)阿拉伯聯合大公國、巴西、法國、冰島 (C)法國、巴西、冰島、阿拉伯聯合大公國 (D)阿拉伯聯

合大公國、巴西、冰島、法國。

★右圖為世界三大區域結盟進出口貿易統計圖，請問：

22. 為何東協區域內進出口比例較低？ (A)結盟國間互補性較低 (B)結盟國間人口密度較低 (C)結盟國間以政策限制出口 (D)結盟國間交通不便，運費較高。
23. 為何歐盟區域內進出口較區域外的比例高？ (A)歐盟各國政策限制出口 (B)結盟國間無關稅障礙，市場較大 (C)結盟國間產品相似性較高 (D)歐盟對結盟國間的貿易有補貼政策。



★源於熱帶非洲的愛滋病，20世紀在撒哈拉沙漠以南的非洲蔓延，再逐漸擴散到全世界，成為21世紀全世界最嚴重的傳染病。其傳染方式是由鄉村移入都市工作的年輕人得到愛滋病後，回家傳給配偶的水平傳染；再經由母親傳染給胎兒的垂直傳染，非洲成為愛滋病患者最多的地區。請問：

24. 「非洲由於距離愛滋病傳染源較近，最早成為擴散區」此句話可用何種概念解釋較佳？ (A)接觸密度 (B)鄰近效應 (C)區位擴散 (D)推拉理論。
25. 愛滋病水平傳染的範圍、強度與速度，受到哪三項因素的影響？(甲)鄰近效應 (乙)接觸密度 (丙)阻礙效果 (丁)經濟發展。 (A)甲乙丙 (B)乙丙丁 (C)甲丙丁 (D)甲乙丁。
26. 根據文中敘述，愛滋病在非洲的水平擴散方式較近似於哪一種擴散類型？ (A)擴張型 (B)位移型 (C)綜合型 (D)階層型。

★盛產石油的阿拉伯聯合大公國仍是阿拉伯世界一部製造就業的機器，但阿拉伯人獲得的工作卻沒有以往那麼多了。據世界銀行(World Bank)的數據，海灣合作理事會(Gulf Cooperation Council)成員國(如右圖所示)僱用的「外勞」在1,500萬人以上。阿拉伯勞工一度是這部分勞動力的主要構成部分。而現在海灣合作理事會成員國來自波斯灣以東地區的外勞約有1,100萬，他們主要來自印度和巴基斯坦；亞洲人首先是在服務業和建築業崗位上擠走了阿拉伯人。但現在除了醫藥與法律等專業領域以外，其他行業亞洲外勞的人數全都超過了阿拉伯外勞；在產油國家的雇主眼中，僱用亞洲人有好幾個優勢……。請回答下列問題：



27. 題幹中的海灣合作理事會(Gulf Cooperation Council)成員國「不包括」 (A)科威特 (B)巴林 (C)阿拉伯聯合大公國 (D)伊拉克。
28. 僱用印度、巴基斯坦外勞的優勢應為 (A)宗教優勢 (B)同人種優勢 (C)語言優勢 (D)距離優勢。
29. 印度來的阿里在沙烏地阿拉伯賺了一筆錢準備回國去，若海外匯款均以「美元」計價時，阿里回國後，何時兌換印度盧比最划算？ (A)盧比升值時 (B)盧比貶值時 (C)美金貶值時 (D)幣值不影響匯兌。

★馬英九總統在2015年3月指出，由於TPP(跨太平洋夥伴協定)與RCEP(區域全面經濟夥伴關係)的成員國占台灣對外貿易額分別為34%與57%，扣除重疊國家後占比高達7成，因此「我們不可能不進去」強調無論是哪個政黨執政都要爭取，因為「這是冷酷的國際現實」。


TPP原是汶萊、智利、紐西蘭、新加坡在2005年簽署的多邊貿易協定，美國在2009年加入，但歐巴馬總統大張旗鼓的把TPP幾乎變成美國的自由貿易計畫，目前加入談判的還包括馬來西亞、秘魯、澳洲、越南、墨西哥。而RCEP是由東協十國發起，邀請中國、日本、南韓、澳大利亞、紐西蘭、印度共同參加，欲建立16國統一市場的自由貿易協定。

30. 自20世紀以來，許多區域性或全球性經濟組織相繼產生，這是基於下列哪一種經濟效益而形成的？ (A)全球分工 (B)產業連鎖 (C)規模經濟 (D)聚集經濟。
31. 近年來，各國競相簽署自由貿易協定，其目的為何？ (A)降低商品關稅，甚至零關稅 (B)促進區域政治經濟上的統一 (C)全球經濟自由化，有利資金流動 (D)統一交易計價方式，減少匯兌的損失。
32. 由加入的國家來看，TPP最有可能是哪一個區域組織的自由貿易協定(FTA)？ (A)APEC (B)ASEAN (C)NAFTA (D)NATO。
33. 美國全力推進TPP並且動作頻頻，其目標最可能是著眼於哪個市場？ (A)日本 (B)南韓 (C)印度 (D)中國。

★青魚的日記這麼寫著：「星期天中午，我和吵吵逛完整腳石書店準備去吃午餐，走在街上突然發現身邊熙熙攘攘全是成群的外勞捧油(朋友)。吵吵看了一眼說：『他們應該是剛從天主堂做完禮拜出來，中壢外勞很多哦，我們去體會一下唄！』於是我們就往火車站前的小吃店和許多外勞一起吃了一頓泰式美食，感覺恍如置身異國，最後還買了幾包菲律賓泡麵和印尼餅干準備明天請同學吃。」

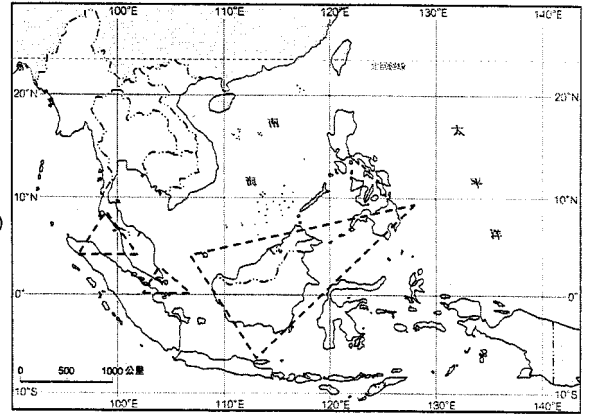
34. 青魚的日記所敘述的現象，最適合以下列何者加以說明？ (A)在地全球化 (B)全球在地化 (C)跨國社會空間 (D)區域經濟整合。

35. 根據內政部的資料，到2014年底為止，台灣的外籍勞工已達到55萬2000人，主要來自東南亞，其來源國比例如右圖，請問其中甲和丙分國為哪一個國家？ (A)印尼、越南 (B)印尼、菲律賓 (C)菲律賓、泰國 (D)越南、菲律賓。



★在地理上若相近國家的邊境地區能結合成跨國界的經濟合作區，並以其優勢互補取得比較利益來實現促進各自經濟發展，此地區我們通常稱之為成長三角。右圖即是東南亞的三個成長三角。請問：

36. 「成長三角」有何共同特性？ (A)皆信奉伊斯蘭教 (B)為南洋群島國家 (C)皆被西班牙殖民過 (D)傳統水稻業發達。
37. 「南三角」中經濟實力最強的是哪一個國家？ (A)新加坡 (B)馬來西亞 (C)印尼 (D)泰國。
38. 「東三角」是由菲律賓提出，包含菲律賓的民答那峨、馬來西亞的沙勞越和沙巴、汶萊以及印尼的加里曼丹和北蘇拉威西等地區組成東協「東三角」區。請問：菲律賓將該國的民答那峨與其他國家的部分區域湊成東三角，是因為這些地區具有哪一種共同的特質？ (A)氣候 (B)宗教 (C)農產品 (D)礦產。



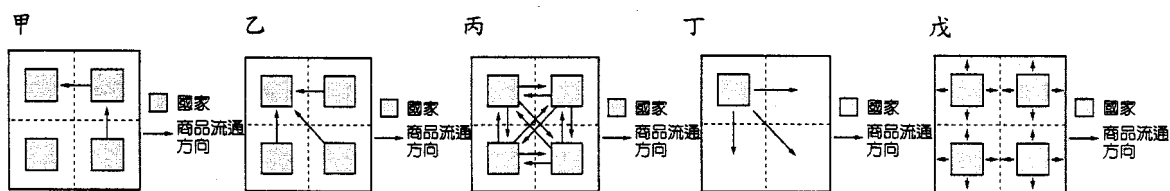
★右表為臺灣本島6座國家公園管理處的橫麥卡托投影二度分帶坐標。請問：

39. 甲~己哪一公園擁有獨特的國寶魚—櫻花鉤吻鮭，並為其劃定保護復育分區？ (A)甲 (B)丙 (C)丁 (D)己。
40. 於2009年10月15日正式公告設立的台江國家公園，應位居甲~己何處？ (A)乙 (B)丙 (C)丁 (D)戊。

	X 坐標	Y 坐標
甲	305216	2783145
乙	227404	2427884
丙	163091	2543768
丁	237676	2704896
戊	234746	2634355
己	313167	2672604

三、非選題(每題2分)

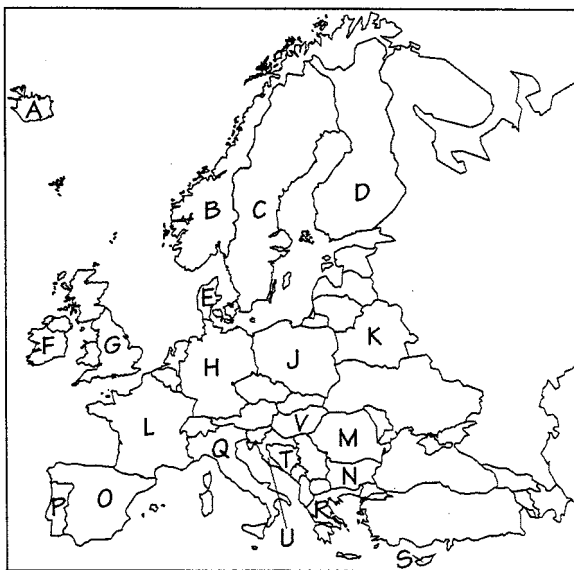
★產業發展中各階段的製程由不同的地區專門負責，形相互聯繫的產業網絡系統，下圖為五種產業空間分工鏈。請問各題敘述回答問題：



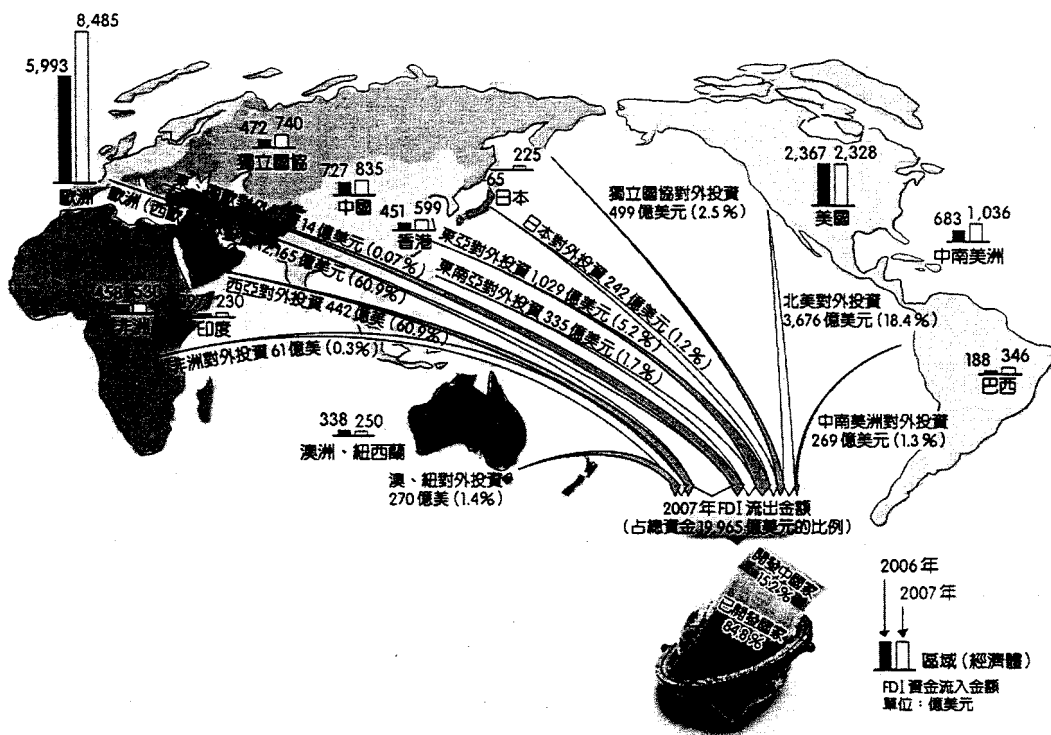
41. 早期日本豐田汽車易受到關稅壁壘與貿易保護等政策影響是屬於何種產業分工鏈？(代號及名稱全對才給分)
42. iPhone 的上百個零件，其中約90%在美國以外生產，半導體來自德國、中國和台灣，記憶體來自南韓和日本，螢幕和電路板來自南韓、中國和台灣，芯片組來自歐洲，稀有金屬來自非洲和亞洲，但所有零件最終都在中國由富士康組裝。請問iPhone的產業空間分工鏈應屬於哪一種類型？(代號及名稱全對才給分)
43. 印度是許多手機大廠看好的市場，擁有12億人口，至今仍有九成人口未使用手機，平均每年可以增加5000萬新用戶。然而印度貧富差距大，聯合國統計有81%的人口一天收入不到2美元(中國約52%)，諾基亞以超低價手機搶攻印度市場；主打高價智慧型手機的宏達電，也在中國及印度設廠並推出平價智慧型手機。文中宏達電的手機製造較接近何種分工模式？(代號及名稱全對才給分)

★「歐豬 (P. I. G. S.) 四國」爆發嚴重債信危機，分析師眼見局勢迅速惡化，紛紛表示 2010 年後全球總體經濟風險將來自歐元區中這些國家，認為這些深陷赤字泥淖的歐元區國家，恐將引發系統性危機，成為全球最新一場金融危機的引爆點。而繼歐債風暴、希臘可能脫離歐元區之後的另一震撼彈，日前某歐盟會員國決議將讓國內民眾行使公投權，來決定接下來是否繼續留在「歐盟區」？此一議題一出讓其他會員國同聲譴責該國不能共患難。

44. 從 2013 年 7 月 1 日起，歐盟已成為擁有 28 個會員國，請問最後一個加入的國家是哪一個？(請寫出圖中代號及名稱，全對才給分)
45. 請依序寫出歐債風暴中的歐豬四國 (P. I. G. S.) 在圖中的代號及國家名稱。(全對才給分，共 4 分)
46. 文中宣稱即將公投退出歐盟的國家，是上繳稅金的第三名、雖沒有使用歐元也沒有加入申根，但若真的退出歐盟，對歐盟將是雪上加霜。此一會員國最可能為何？(請寫出圖中代號及名稱，全對才給分)



★下圖為 2007 年全球外人直接投資 (FDI) 的資金分布概況。請問：



47. 獨立國協 2006 ~ 2007 年的 FDI 成長率高達 57%，其主要的原因是俄羅斯仰賴哪兩種自然資源的出口而大幅獲利？
48. 就地緣關係而言，中南美洲的 FDI 金額超越獨立國協、香港、澳洲、紐西蘭等地，最可能為哪一個國家的大舉投資？
49. 若以單一國家而言，哪一個國家吸引的 FDI 金額最大？