

桃園市立平鎮高中 104 學年度第一學期 高二 歷史科 第一次定期評量

適用班級:201~207、209、214 範圍:第三冊第一章第一節~第四章第三節 第二冊第一章第一節~第四章第二節

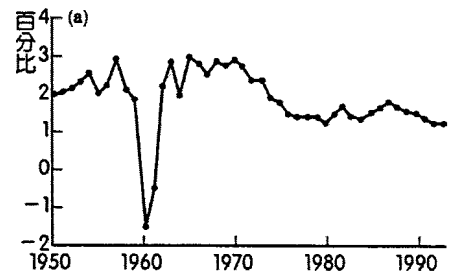
注意事項:基本資料劃記錯誤或不完整者,扣5分 試題張數:共計5頁 填答方式:答案卡

一、單一選擇題 1題2分 60%

1. 「他一生政治思想出現三次變化,可從未改變的是救亡圖存愛國之心、立憲之志和新民思想,與晚年堅持倒袁,卻是他令後人最為景仰之事。」請問資料中的「他」是指何人? (A)陳獨秀 (B)蔣中正 (C)梁啟超 (D)胡適。
2. 「臨時政府,革命時代之政府也。它將盡掃專制之流毒,確定共和,普利民生,以達革命之宗旨,完國民之志願;臨時政府謀民族之統一、領土之統一、軍政之統一、內政之統一、財政之統一;滿清時代辱國之舉措,及排外之心理,務必一洗而去之。持平和主義,與我友邦益增親睦,將使中國見於國際社會,且將使世界漸趨於大同」。請問:這是何人就職演說? (A)溥儀 (B)孫中山 (C)袁世凱 (D)蔣中正
3. 下面是著名的史學家史景遷所寫的一段評論:「有充分的證據顯示,瀰漫在國民政府各階層中的冷漠;怨恨與失敗主義氛圍,導致投降與逃敗。主要原因在於共產黨在兵力上的優勢,國民政府的士兵對於前途不抱希望」。請問:這段話主要在談論甚麼? (A)國共內戰的起因 (B)國共內戰國民黨失敗的原因 (C)國共內戰列強勢力對中國的影響 (D)國共內戰對美國的影響。
4. 「第十八條、大總統提出法律案及預算案於立法院。第十九條、大總統為增進公益或執行法律,或基於法律之委任發布命令并得使發布之,但不得以命令變更法律」。請問:從上文可推斷是哪一文件的內容? (A)《中華民國臨時約法》 (B)《中華民國約法》 (C)《訓政時期約法》 (D)《抗戰建國綱領》
5. 「中國近代知識分子救國的目標是圖『富』求『強』,到五四時,許多人找出貧弱的根源在傳統、在西方勢力。他們尋求的辦法是以『西方』對付『西方』。不過,當他們熱中於學『老西方』的文明時,被歐戰後『西方文明的危機論』澆了冷水,就此時他們找到了『新西方』。……至此,中西文化的對壘大有形成『東方』、『老西方』、『新西方』三家鼎立的形勢。」請問上文的「新西方」是指哪一個國家? (A)英國 (B)俄國 (C)法國 (D)德國。
6. 歷史的發展中,每一時代,都有其當代的特色文學發展。民初時,有人曾說:「古人已造就古人之文學,今人當造就今人之文學。……觀古今文學變遷之趨勢,以為白話之文學種子已伏於唐人之小詩短詞。……自宋以來,而終一線相承,至今不絕。」請問這是何人的主張? (A)魯迅 (B)梁啟超 (C)胡適 (D)梁漱溟。
7. 安徽祁門紅茶原由水路,從產地到上海最快需一星期,慢則十餘天。不過自何時開始後,時間可縮短為二、三天? (A)清末新政 (B)民初袁世凱主政 (C)黃金十年建設 (D)對日抗戰期間。
8. 1927年4月,中國共產黨發動十萬名工人、學生舉行集會、請願、抗議。蔣介石下令士兵持槍掃射抗議民眾,接著又大肆捕殺共產黨員,數千人因而死亡或失蹤。汪精衛主持的武漢政府聽聞此消息後大怒,公開宣布開除蔣介石黨籍,稱他是「總理之叛徒,本黨之敗類」。請問以上資料內容描述的是哪一事件? (A)中原大戰 (B)聯俄容共 (C)寧漢分裂 (D)北伐統一。
9. 一幅民國29年的某個城市地圖上,標出美、英、法、蘇四國大使館、政府機關辦公區、金融商業區,以及蔣中正作戰指揮中心的位置。地圖的下方,則畫出長江。這個城市是 (A)廣州 (B)南京 (C)重慶 (D)漢口。
10. 「我的家在東北松花江上,那裡有森林煤礦,還有那滿山遍野的大豆、高粱。我的家在東北松花江上,那裡有我的同胞,還有那衰老的爹娘。□□,□□,從那個悲慘的時候,□□,□□,從那個悲慘的時候,脫離了我的家鄉,拋棄那無盡的寶藏,流浪!流浪!整日價在關內,流浪!哪年,哪月,才能夠回到我那可愛的故鄉?」請問這首歌所描述的創作背景,最可能和下列哪個事件的發生有關? (A)九一八事變 (B)一二八事變 (C)七七事變 (D)八一三淞滬會戰。
11. 某評論提到:「1946年2月,馬歇爾制定出一個包括停火在內的協議。這是美國人、也是中國人自己最接近達成和平方案的時刻,到4月中旬,這項安排就進展不下去了。馬歇爾後來把這場災難歸咎於蔣介石,因為蔣堅持用武力奪取滿洲。不過馬歇爾也指出,在談判的最後環節上,共產黨並不願意採取公平的妥協,特別是在對其軍隊的處置問題。」請問這場會議應當為何? (A)政治協商會議 (B)國軍編遣會議 (C)制憲國

民大會 (D)重慶會談。

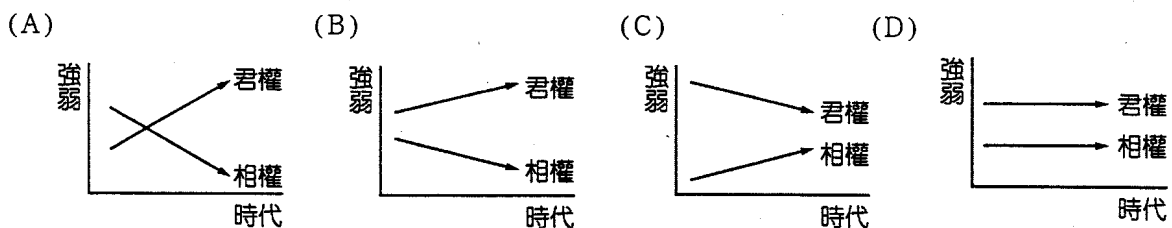
12. 周恩來曾經說過：「侵略中國的日本，是中共崛起大陸的恩人。」學者評論周恩來的說法，認為：「他這話只吐露了中共四十年間國際關係史的三分之一。餘下的三分之二，我以為再分一半：一半的恩人，應該提到1946年6月以後，大批武裝中共部隊的○○；後半的恩人，應該提到1945年12月以後變更對華政策的□□。」文中的○○與□□，依序應填入 (A)蘇俄；英國 (B)英國；蘇俄 (C)美國；蘇俄 (D)蘇俄；美國。
13. 1949年武漢發行面額50元郵票，不料幣值大幅貶值，短短1個月從面額50元印到500萬元，這封寄到美國的信貼了8,000多萬元郵票，用現在郵資計算，相當於新臺幣100多元。請問該郵票所用的幣別為何？ (A)人民幣 (B)金圓券 (C)法幣 (D)銀元。
14. 某份協約的前言是：「大日本帝國政府及中華民國國民政府希望兩國互相尊重其本來的特質，在以道義為基礎建設東亞新秩序的共同理想下，互為善鄰，緊密合作，以確立東亞的永久和平，並希望以此為核心，而貢獻於全世界的和平。」根據你的歷史知識，這份文件應是何人簽署的？ (A)袁世凱 (B)段祺瑞 (C)蔣中正 (D)汪兆銘
15. 中國某一時期，有一諷刺漫畫，畫面中的富商換上了一身破舊長衫準備出門，妻子疑問何以要如此打扮？富商回答：「我有三個月營業稅沒繳，稅務局叫我去談話。」請問這應該是下列哪一時期的情景？ (A)五反運動 (B)思想改造 (C)三反運動 (D)土地改革。
16. 下圖為中國1950～1993年的每年人口成長率，到了1960年人口成長率降到谷底。回顧歷史，當時中國發生什麼史實，導致人口成長率降低？ (A)大躍進 (B)土地改革 (C)第一次五年計畫 (D)文化大革命。



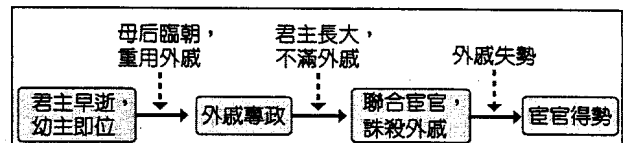
17. 從1956年5月起，共產黨敦促知識分子發表意見，並且盡量批評態度盛氣凌人的黨幹部。毛澤東預估五百萬的知識分子中，有低於3%的人對馬克思主義有敵意，這些對黨的批評，應該是有建設性的。雖然知識分子第一年不敢表達意見，但到了1957年5月，就開始批評共產黨政府了，而且態度愈演愈烈，共產黨的基本前提、辦事作風、教條全都成了箭靶。5星期之內，此一運動被勒令停止。這應是哪一運動？ (A)三面紅旗運動 (B)文化大革命 (C)一五計畫 (D)雙百運動
18. 某次戰役後，南線國民黨軍主力全部殲滅，長江中下游地區全部易手。南京、上海及武漢已處於人民解放軍的威脅之下，國民黨軍敗局初定。紐約《先鋒論壇報》感嘆：「中國打完規模最大的一場戰爭，南京國民政府所遭到的悲劇，顯示出一個時代的結束」。請問：這應該是發生於下列何時的情況？ (A)辛亥革命 (B)北伐時期 (C)八年抗戰時期 (D)戰後國共內戰時期。
19. 一位教授曾目睹了一場發生在中國的浩劫。紅衛兵四處破壞各地文物古蹟，並且打著掃除舊思想、舊文化的名義，破壞傳統倫理道德、摧毀文物古蹟。這位教授也被學生們「批鬥」，被迫掛著「反動權威」的牌子跪在校門口反省。請問導致這場浩劫發生的原因為何？ (A)改革開放的風潮盛行 (B)毛澤東想藉此行動奪回權力 (C)中共欲藉此建立「一黨專政」的權威 (D)毛澤東發起「除四害」運動。
20. 「有一天大雨驟冷，忽然有不知何處闖來造反的紅衛兵，把我們的人都揪出來召到大蓆棚裡，押上臺去示眾，還給我們都戴上報紙做成的尖頂高帽。在群眾憤怒叫罵聲中，我方知我們這一大群示眾的都是『牛鬼蛇神』。……我一直猜測我自己是個什麼東西。散會後……我早已脫下自己的高帽子看了一眼，我原來是個『資本階級學者』。」請問依文中敘述，這指的是哪一歷史事件？ (A)國民黨清黨 (B)三面紅旗 (C)三反五反 (D)文化大革命。
21. 中國傳統上以農業立國，需要眾多的勞動力，來創造經濟成長上的奇蹟，也因此形成「多子多孫多福氣」的觀念，在人口政策上，就有「人多好辦事」的思維。但在哪一項政策執行後有了變化？ (A)三反五反 (B)大躍進 (C)土地改革 (D)一胎化。
22. 以下有關對中共人口問題的認識，何者為是？ (A)1958年毛澤東發動三面紅旗，已意識到要超英趕美，須妥善控制人口問題 (B)毛澤東曾說：「人口問題是中國一切麻煩的總根源」 (C)經濟學家普遍認為，當珍

惜人力資源，因人多好辦事 (D)1960 年代，發生嚴重饑荒，中共當局才體認控制人口問題的重要性。

23. 由近人研究得知：「伏羲、女媧的傳說來自南方的苗蠻集團，蚩尤為來自東夷集團，炎帝、黃帝來自西北方的華夏集團。」請問上述論點與以下哪一說法相呼應？ (A)黃帝與蚩尤東西作戰的傳說得到證實 (B)中國文化的核心在中原，由此處向外輻射擴散 (C)史前時代中國地區的種族、文化是多元且相互作用的 (D)仰韶文化與龍山文化正是華夏與東夷並立的二元證據。
24. 王國維在《殷周制度論》有一段文字敘述曰：「任天者定，任人者爭，定之於天，爭乃不生。」這段話指的是西周的哪一個制度？ (A)封建制度 (B)禮樂制度 (C)井田制度 (D)宗法制度。
25. 社會階層是指社會上分成不同地位高下的階層，如貴族、奴隸等；社會流動是指不同階層出身者可以因為後天因素而轉換成另一個階層，如平民可以因為努力而變成官員。社會流動變大的意思是不同階層出身的人轉換另一個階層的可能性變大。若用這兩個概念分析春秋、戰國的歷史變動，下列何者為是？ (A)社會階層的分級趨於模糊，社會流動也變小 (B)社會階層的分級變多，社會流動也變大 (C)社會階層的分級趨於模糊，社會流動則變大 (D)社會階層的分級變多，社會流動則變小。
26. 齊柏林執導的《看見台灣》，反映台灣的生態環境正遭受嚴重破壞，此環保議題引起廣泛討論。請問先秦諸子中哪一學派最能因應此一議題？ (A)儒家 (B)道家 (C)墨家 (D)農家。
27. 以下四個選項，何者能具體說明中國古代君權與相權的發展？



28. 依右圖，這應是發生於何時？ (A)西漢 (B)東漢 (C)秦朝 (D)周朝。



29. 中國古代帝王的典型形象是：「一手捧著儒家經典，宣示教化；一手高舉法家利劍，厲行專制。」這種帝王的典型是從哪一位皇帝開始的？ (A)秦始皇 (B)漢武帝 (C)王莽 (D)漢光武帝
30. 商代青銅器種類繁多，有兵器、樂器、炊食器等。而青銅器中亦有許多酒器，除反映商人手工藝技術的進步外，尚包含何種意涵？ (A)禮節周到 (B)農業發達 (C)迷信鬼神 (D)文教盛行

二、題組 1 題 2 分 20%

(一) 孫中山在發動某一革命行動時曾發表如下的言論：「民國成立，六年於茲，而梟雄畔換，頻繁不已，文不能救，自念無以對我邦人兄弟。今者叛督倡亂，權奸竊柄，國會解散，元首遷廢。此誠勇夫志士發憤倡議之時也。而遷延數月，大兵未舉，政府未立，內無以攘寇亂，外不足以示友邦。文以國會諸君不釋之故，不得不統攝軍政。任職以後，唯當竭股肱之力，攘除奸兇，恢復《約法》，以竟元年未盡之責，雪數歲無功之恥。」

31. 這是哪一次的革命行動？ (A) 二次革命 (B) 反袁氏稱帝 (C) 護法戰爭 (D) 反對曹錕賄選
32. 文中提到《約法》，是指什麼法？ (A)中華民國臨時約法 (B)中華民國約法 (C)中華民國訓政時期約法 (D) 五五憲草。

(二) 有一幅暗喻某場戰爭的漫畫內容是：「蔣中正一手握著機槍，一手拿著銀元；馮玉祥一手提著大刀，一手捧著窩窩頭；閻錫山一手拿著手榴彈，一手拿著算盤。」顯示三人實力懸殊，戰爭結果勝負立見。請問：

33. 這是指哪一場戰爭？ (A)北伐 (B)中原大戰 (C)抗日 (D)國共內戰。
34. 該場戰役的意義為何？ (A)瓦解地方勢力，鞏固中央統治權威 (B)列強介入中國事務，激起民眾一致仇外 (C)國共合作破裂，彼此各自發展 (D)北洋軍閥控制政局，北伐終告失敗

- (三) 資料一：1936年12月14日《消息報》：西安叛亂不論以任何口號和方案為藉口，這一行動實代表一項危機。不僅危害南京政府，而且為禍整個中國。張學良雖高舉抗日旗幟，其行動卻顯然於日本帝國主義有利。
- 資料二：1936年12月16日《紅色中華》：西安的抗日起義，這是蔣介石自己出賣中國、鎮壓全國抗日運動的必然結果，蔣介石，雖百死也不足以贖其罪於萬一，蔣介石應當交給人民審判。請問：
35. 依據資料一與資料二的報導內容，試分析兩份報紙的立場有何異同？ (A)對事件的立場及主張全完相同 (B)對事件的立場相同，但對蔣介石的處理態度不同 (C)對事件的立場不同，但對蔣介石的處理態度相同 (D)對事件的立場及主張皆不相同。
36. 此事件結束後有何影響？ (A)使國民黨清黨 (B)促使國共第二次合作 (C)造成國共內戰的爆發 (D)造成寧漢分裂

- (四) 民國29年10月時一份資料寫道：「西起南京，東至海邊，北至徐州，應儘可能迅速、有步驟、有計畫地將一切控制在我們的手中。……中央要你們在一年內，在江浙兩省敵後地區擴大抗日武裝，達到十萬人槍和迅速建立政權等項，不知你們具體布置如何？」請問：
37. 根據內容所言，這應是何人對誰所下的指示？ (A)蔣中正對十八集團軍 (B)溥儀對偽軍 (C)汪兆銘對偽軍 (D)毛澤東對新四軍。
38. 這份資料，可做為下列哪一論述的直接證據？ (A)國軍迫使共軍的蘇區瓦解 (B)國軍萬餘人被汪偽軍殲滅 (C)共軍利用抗戰擴充軍力 (D)共軍有計畫的消滅日軍。

- (五) 資料一：首先，讓我們共同敬祝：「全世界人民心中最紅最紅的紅太陽，偉大的導師，偉大的領袖，偉大的統帥，偉大的舵手，我們最最最敬愛的毛主席，萬壽無疆，萬壽無疆，萬壽無疆。」
- 資料二：讓我們共同敬祝：「毛主席的親密戰友，我們最最最敬愛的□□，永遠健康，永遠健康，永遠健康。」
- 請問：
39. 資料一、二中的祝詞應該是發生在哪一個運動中？ (A)三面紅旗 (B)雙百運動 (C)三反五反 (D)文化大革命。
40. 請問資料二中的□□是哪一位？ (A)劉少奇 (B)周恩來 (C)林彪 (D)鄧小平。

三、多重選擇題 1題2分 20% (錯一選項倒扣1/5題分)

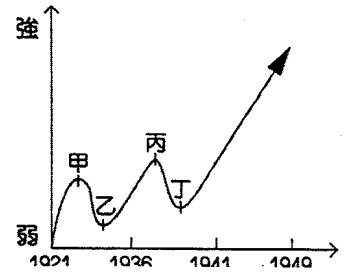
41. 袁世凱處心積慮想要稱帝，但是洪憲帝制仍然是失敗。請問袁世凱稱帝最後失敗的原因為何？ (A)未能拉攏知識分子，導致學者都反對 (B)日本因為《二十一條》的關係，一直支持袁世凱的稱帝 (C)袁世凱親信恐袁帝制專權，暗中抵制 (D)不能體會君主立憲已非主流 (E)英、美、俄等國都不支持袁世凱稱帝。

42. 右圖為1917~1920年出現的報章雜誌。請問這些報章雜誌的內容，可能會出現哪些主題？ (A)批判傳統禮教吃人 (B)鼓吹君主立憲制 (C)鼓吹婦女的解放 (D)抨擊袁世凱刺殺宋教仁，違法亂紀 (E)提倡採用白話文從事創作。



43. 美國經濟學家楊格於民國18年起受中國財政部聘為顧問，他曾說：「到了1937年，中國的財政制度顯然已從十年前的混亂狀態轉變過來。」這是因為中國政府採取哪些有效的措施？ (A)裁撤釐金 (B)改用銀兩 (C)收回關稅自主權 (D)法幣政策 (E)改銀本位為匯兌本位。
44. 「我得到了這個通知，簡直樂得心花怒放。我考慮到的第一件事情，就是必須準備一套龍袍。……我獨自欣賞著榮惠太妃保存了二十二年的龍袍，心中充滿了感情。這是光緒皇帝穿過的，真正的皇帝龍袍。這是我想了二十二年的龍袍。我必須穿它去登基，這是恢復清朝的起點。」請依據前文，選出下列敘述，何者正確？ (A)文中的「我」是溥儀 (B)幫助「我」登基之人是張勳 (C)即將在北京舉行「登基」大典 (D)這段話的場景在1917年出現 (E)滿洲國的成立即文中所提的「恢復清朝」。

45. 1930年代，一位婦女寄給蔣中正的公開詩，其文：「枉自稱男兒，甘受倭奴氣（日本）；不戰送河山，萬世同羞恥。吾儕婦女們，願往沙場死；將我巾幗裳，換作征衣去。」我們應該如何解讀此詩文？ (A)詩文讚頌蔣中正領導的國府對日本的態度 (B)詩文嘲諷蔣中正對日本侵略所做的處理 (C)「不戰送河山」是指「九一八事件」東北淪陷 (D)詩文反映出國人對國民政府「不抵抗主義」的強烈不滿 (E)詩文呈現出強烈的民族主義精神。
46. 右圖是中共成立到取得政權期間的勢力消長情形，請依圖判斷圖上各點描述，其中符合史實的是 (A)到甲點之前，因聯俄容共，共黨開始發展 (B)甲點時，國民黨剿共，共軍發展受挫 (C)乙點時，西安事變後，國共決定合作 (D)丁點以後，透過抗戰保存實力，共軍勢力逐漸壯大 (E)1949年國民政府退守臺灣，中共大獲全勝。



47. 「生下就挨餓，上學就停課；畢業就下鄉，回來沒工作。」此句順口溜的背景是何時？ (A)內容是敘述抗戰後中國青年的情況 (B)「生下就挨餓」是說生下不久就遇到1959年到1961年的三年大饑荒時期 (C)「上學就停課」是說上中學或大學時就因為文革而停課 (D)「畢業就下鄉」是說離開學校就必須下鄉勞動 (E)「回來沒工作」是說文革結束被調回原戶籍地後，又因為學歷不完整而面臨就業問題。
48. 某一時期，市場裡總是把3隻雄的和1隻雌的綁在一起賣，老闆說：「曾經張牙舞爪的螃蟹，看你們能橫行到幾時，現在我偏要把你們拆開來賣。」根據上文所述，下列哪些選項正確？ (A)此時應為1976年之後 (B)此時為文化大革命初期 (C)老闆在暗諷四人幫的瓦解 (D)老闆在批評毛澤東在大躍進的失敗 (E)此時適逢毛澤東上臺。
49. 從「春秋五霸」到「戰國七雄」呈現出下列哪些歷史趨勢？ (A)國家數量愈來愈少 (B)各國國君權力愈來愈大 (C)維護中原文化到被髮左衽 (D)周天子由名義上的共主到連共主的名義都不可得 (E)政治中心由黃河流域轉移到長江流域。
50. 有關周朝的封建制度，你認為可以顯示出下列哪些歷史訊息？ (A)中國歷史自周朝以降的各朝代均實行此種制度 (B)為嫡長子繼承制 (C)同一個人有可能兼具大宗與小宗的雙重身分 (D)其藉由契約關係來鞏固政治臣屬穩定性 (E)充分發揮「尊尊」和「親親」的精神。

