

桃園市立平鎮高級中學 104 學年度 第一學期 期中考

科目：地理科 年級：二年級 適用班級：201~214 考試範圍：第三冊第 1~5 章、第 10 章

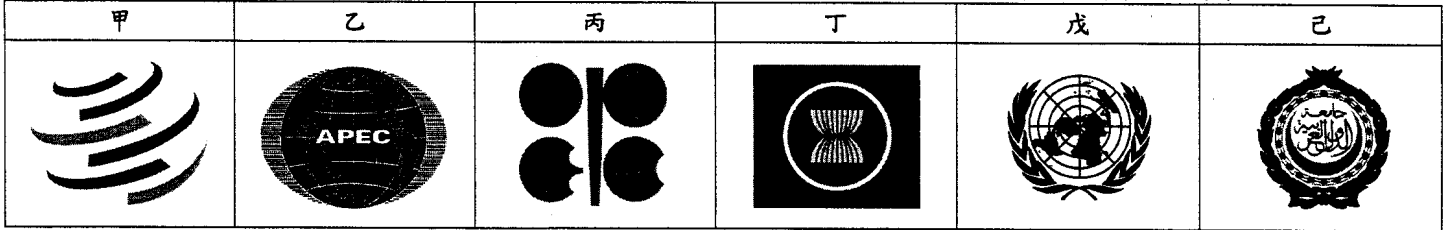
注意事項：劃卡資料不完全扣 5 分

填答方式 (繳回)：■答案卡 □答案卷 □答案卡+答案卷 □試題直接作答

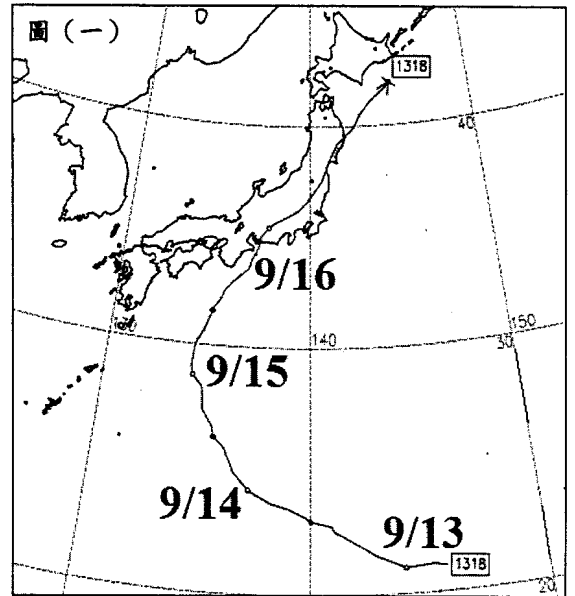
班級：二年__班 姓名：_____ 座號：_____

一、單選題：每題 2 分，共 36 分 (答錯不倒扣)

1. 在美國的推動下，「跨太平洋夥伴關係協定 (The Trans-Pacific Partnership, 簡稱 TPP)」，至 2015 年已有汶萊、新加坡、紐西蘭、智利、美國、澳洲、秘魯、越南、馬來西亞、墨西哥、加拿大、日本等共 12 國加入此區域自由貿易協定，匯集了太平洋地區各個經濟體，未來不管是開發中、還是已開發國家，期能成為一個統一的經濟體。「跨太平洋夥伴關係協定」可望整合下列哪兩大區域合作組織，成為太平洋地區的小型世界貿易組織？(A)甲丙 (B)乙丁 (C)丙戊 (D)丁己。



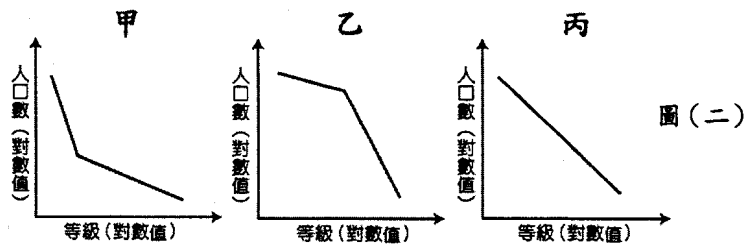
2. 2013 年第 18 號的萬宜颱風於 9 月 13 日形成，9 月 16 日登陸日本，夾帶強風豪雨，引發洪水與土石流，最終造成 56 人受傷，860 間民宅淹水等重大災情。觀察圖(一)萬宜颱風路徑，下列相關敘述何者有誤？(A)此時太平洋高壓勢力減弱使颱風路徑偏西 (B)颱風自濃尾平原登陸，帶來嚴重災情 (C)颱風與冬季季風的共伴效應，使本州島東部降下豪大雨 (D)311 地震受創嚴重的福島核電廠位於颱風侵襲路徑上，需緊急撤離人員與加強戒備。



3. 2014 年年中，因中、越的南海石油開採問題，觸發主權爭議並引起越南排華暴動。暴亂中，臺商飽受攻擊，損失慘重。輿論對此事件的解釋角度，普遍認為，越南暴民不知中國與臺灣之異，怒砸臺資工廠。亦有看法認為，並非越南人不知臺商兩岸的問題，而是臺灣廠商平日管理苛刻，越南工人藉機洩憤。對於臺商而言，越南具有下列哪些區位優勢？(甲)動力來源供應充足(乙)可以避開中國企業競爭(丙)工廠勞力薪資便宜低廉(丁)與東亞自由貿易區聯繫較強。(A)甲乙 (B)甲丁 (C)乙丙 (D)丙丁。

4. 下表為澳洲的城市人口資料，按照表中資料可以判別澳洲都市規模分布屬於圖(二)中哪一類型？(A)甲 (B)乙 (C)丙。

城市	人口數
1 雪梨	4627345
2 墨爾本	4137432
3 布里斯班	2074222
4 伯斯	1738807
5 阿德雷得	1212982



5. 2014 年世界盃足球賽前四名國家之相關資料 (2012 年) 如下表所示。表中四國之「平均受教年數」由大至小之順序排列，應是？(A)丙甲乙丁 (B)甲丙乙丁 (C)甲丙丁乙 (D)丙甲丁乙。

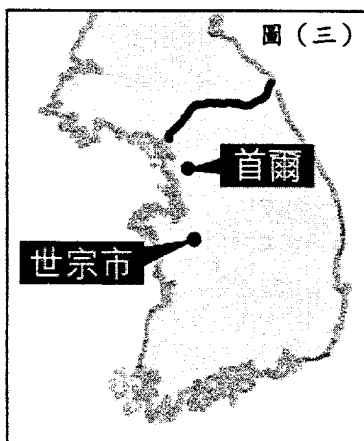
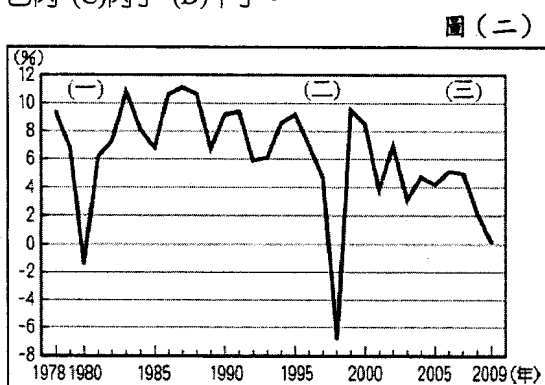
名次	國家	預期壽命	平均受教年數	人均 GNI	HDI (排名)
1	德國	80.6	甲	35431	0.92 (5)
2	阿根廷	76.1	乙	15347	0.811 (45)
3	荷蘭	80.8	丙	37282	0.921 (4)
4	巴西	73.8	丁	10152	0.73 (85)

6. 日本近年來由於經濟不景氣，使得 SONY (索尼)、HITACHI (日立)、Panasonic (松下) 等大企業，在兼顧「某項理念」與成本平衡的考量下，設立了「職場開發課」，也就是實質上的「開除課」，把想解聘的員工調到閒置的部門，不擔任要務，每天做著雜事等退休或迫使員工因而自行離職，日本俗稱這群員工為「窗邊族」。請問，「窗邊族」的出現，是由於日本大

- 企業為了兼顧哪一理念與解決過剩人力問題，所因應而生的？(A)產業外移 (B)即時生產 (C)終身雇用制 (D)年功式薪資。
7. 大成集團的白肉雞在臺灣市佔率高達 25%，但早在 1995 年便前往印尼投資布局，與當地華僑合作成立水產養殖公司，於加里曼丹東北方 Tarakan 島的紅樹林濕地，進行天然粗放的草蝦養殖，利用潮汐漲落自然換水的方式，供應天然的浮游生物作為草蝦的食物來源，年產量約 3600 噸，是東南亞最大的生態蝦供應者，品質相當受到肯定，幾乎所有的草蝦加工品都外銷到日本。臺灣水產養殖業亦相當發達，但大成集團捨臺灣前往印尼投資的考量因素是？(甲)颱風侵襲的有無(乙)地層下陷的問題(丙)勞工成本的高低(丁)低密度的養殖方法(戊)國際航線的位置優勢(己)內需市場的廣大。(A)甲乙丙丁 (B)甲丙戊己 (C)乙丁戊己 (D)丙丁戊己。
8. 下表為某國各項貿易資料表，根據表中內容判斷「某國」應指下列哪一國家？(A)澳洲 (B)泰國 (C)紐西蘭 (D)阿根廷。

各項資料項目	內容
輸出總值(美元)	11615 億美元(2009 年)
輸入總值(美元)	1609 億美元(2009 年)
主要輸出項目	煤、鐵、天然氣、石油及其製品、肉類及調製品、穀物
主要輸入項目	汽車、石油及其製品、事務機器及電腦、電訊及錄音設備、電動機器及設備
主要目的地	日本、中國、南韓、印度、美國
主要來源地	中國、美國、日本、新加坡、德國

9. 圖(二)為南韓近年來經濟成長率變化過程。(甲)2009 年後南韓一蹶不振，成為「亞洲的冰島」(乙)時期(二)經濟成長率急遽下滑與美國次貸風暴有關(丙)高科技產業及電玩動畫使南韓在國際產業上占有一席之地，有助於南韓經濟成長(丁)時期(二)、(三)南韓經濟受到嚴重打擊主因為企業發展需仰賴國外資金向國外大量舉債所致。以上敘述正確的有？(A)甲乙 (B)乙丙 (C)丙丁 (D)甲丁。

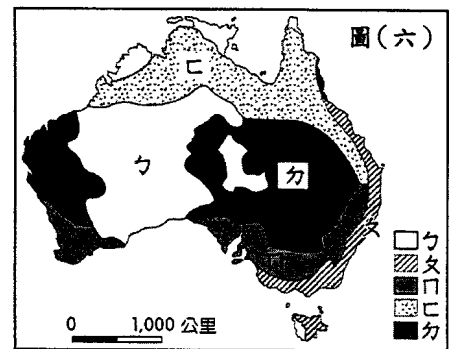
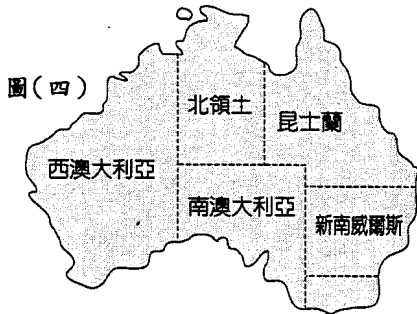


0~14 歲(%)	26.6%
15~64 歲(%)	66.9%
65 歲以上(%)	6.4%
出生率	17.38‰
死亡率	6.31‰
社會增加率	-1.19‰
表(一)	資料來源：CIA

10. 2010 年「東協—中國自由貿易區」正式成立，在其籌建過程中，西方已開發國家並不看好，並稱其為「南南型自由貿易區」，意指由開發中國家組成，缺乏成熟的內部市場，將造成區域內部貿易額不大的問題。請問，早期「東協—中國自由貿易區」不被看好的原因是？(甲)各國每人平均國民所得高低懸殊(乙)東協各國與中國的經濟支柱皆需仰賴區域外市場 (丙)偏重農、林、礦及勞力密集工業產品輸出，互補性弱(丁)即使產業上有互補性，仍因地形的阻隔，使各國相互聯繫程度不佳(戊)區域內無單一民族國家，政治、社會情勢緊張(己)區域內宗教信仰的差異，對立與衝突問題持續惡化。(A)甲乙丙丁 (B)甲丙戊己 (C)甲丁戊己 (D)甲乙丁己。
11. 2003 年 12 月，南韓國會通過《新行政首都特別法》，決定將南韓「行政首都」遷至中部的世宗市(見圖(三))，而首爾市則持續扮演「經濟首都」的角色。2010 年 6 月，南韓國會決議除了中樞機關的總統府(青瓦台)、國防部、外交部等續留首爾市，其他「九部二處二廳」需於 2014 年前遷移至世宗市。促使南韓「雙首都」規劃成形的原因是？(甲)避戰北韓(乙)促進區域之間的平衡發展(丙)打破「首要型」的都市規模體系(丁)吸引建商投資世宗市使房價抬升(戊)透過開發世宗市減少南韓企業外移的現象。(A)甲乙丙 (B)乙丙丁 (C)丙丁戊 (D)乙丙戊。
12. 表(一)為 2013 年印尼人口相關的數據資料。請問，下列新聞標題何者與此數據資料顯示的意涵關係最密切？(A)《印尼「漢語熱」，一千所學校開設課程》(B)《印尼，成鴻海新據點，2014 年設手機廠》(C)《印尼政府支持加里曼丹發展生態旅遊業》(D)《臺灣出口印尼年增率 15%，未來挑戰仍大》。
13. 2012 年南韓十大企業(三星、現代汽車、SK 集團、LG、GS 集團、現代重工、樂天集團、韓華集團、韓進集團、斗山集團)的營業額占全國 GDP 的 76.5%，此比率在 2002 年只有 53.4%，2008 年提高至 63.8%。其中三星集團營業額占全國 GDP 的 21.9%，為十大企業之冠，吸引外國資金投入，外資對三星持股比例大多維持 47~50% 以上。三星成為南韓民族的驕傲，也是成功與時尚流行的同義詞，南韓媒體常稱大韓民國為「三星共和國」，其重要性可見一斑。由以上敘述中可知南韓哪些社會與經濟發展的特色？(甲)利於國家總體經濟成長(乙)易受國際金融風暴的影響(丙)帶動國內中小企業同步成長(丁)大型

企業擴張迅速，企業至今基礎仍未穩固(戊)國內貧富差距擴大，生活壓力不斷升高(己)政府政策限制產業外移，保障南韓國民就業機會。(A)甲丙丁 (B)甲乙戊 (C)甲丙戊 (D)甲乙己。

14. 某省是澳洲人口最稠密的省分，其於 2013 年遭遇了 40 年來最嚴重的森林大火，火線曾長達 300 公里，並有逾百個起火點同時存在，由於大火發生時，當地氣溫持續上升，且風勢不斷增大讓大火迅速蔓延，在滅火不及下造成嚴重災情。若依澳洲的環境判斷，此次發生大火的省分（見圖(四)）及月分最有可能是下列何者？(A)新南威爾斯、10 月 (B)北領土、1 月 (C)昆士蘭、1 月 (D)西澳大利亞、7 月。



15. 「羅先」位處北韓圖們江下游地區，2011 年頒布「羅先經濟貿易區法」，旨在將其建設成為國際性轉口、運輸、貿易、投資、金融、旅遊的基地、世界性的港口城市。「一眼望三國，雞鳴聞三疆」，近年來北韓積極邀請各國使節與媒體記者前往「羅先經濟特區」，顯示其加強國際交流合作的誠意與迫切。根據圖(五)顯示的地理區位與對北韓近況的認識，「羅先經濟特區」的設置所代表的意義為何？(A)「一眼望三國，雞鳴聞三疆」顯示與中國、日本及俄羅斯接壤的地理位置優勢 (B) 透過特區內的羅津港，就近進口日本糧食作物，解決饑荒問題 (C) 與中國東北、俄羅斯西伯利亞地區因鐵、公路網相連結的優勢，吸引他國投資 (D) 朝鮮半島政治情勢持續緊張，透過加強與中、俄兩國的合作，制衡南韓。
16. 下列何者最能說明東南亞「殖地式經濟」的真正意涵？(A)分布在低緯度、高溫、多雨等自然環境的產業活動 (B)大規模栽培咖啡、香蕉、可可等市場指向作物的農業 (C)農場或礦場需引入大量外籍勞工發展的勞力密集型產業 (D)由東南亞各國提供勞力和土地，歐、美國家負責技術、管理、銷售並囊括大部分利潤。
17. 娉娉在澳洲欣賞了著名的剪羊毛秀，且在附近看到許多自流井的開鑿以提供水源。請問，她最可能在圖(六)中的哪一地區看到剪羊毛秀？(A)女 (B)口 (C)口 (D)力。
18. 阿拉伯聯合大公國的杜拜，於 1966 年發現了石油，並擁有開採權，但其蘊藏量並不豐富。因此，杜拜酋長很早便已規劃，將累積眾多的「油元」進行投資與擴大建設，使杜拜成為今日重要的觀光勝地與轉口貿易港，更是資訊技術與金融產業的重鎮。東南亞地區亦有一國其未來的發展方向與杜拜相同，此國是？(A)馬來西亞 (B)東帝汶 (C)印尼 (D)汶萊。

二、題組題：每題 2 分，共 64 分（答錯不倒扣）

◎國際貿易主要受(甲)開發程度(乙)人口多寡(丙)邦交國數目(丁)距離遠近(戊)區域經濟貿易結盟等多項條件影響。下表為 2013 年世界三大核心區對世界主要區域貿易額的比重，表中★為某國。請問：

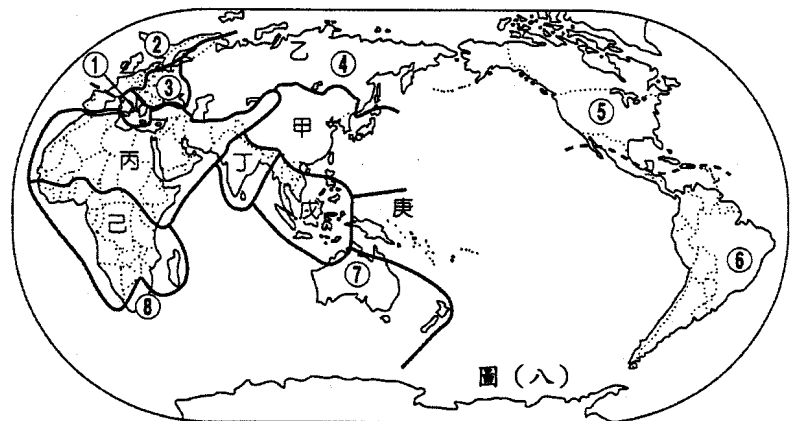
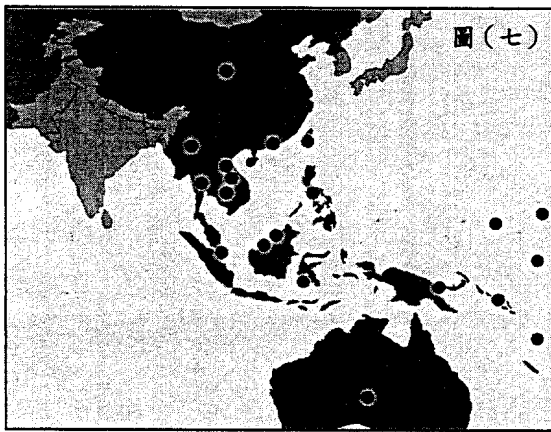
經濟核心區	金額（百萬美元）		歐洲	亞洲	北美	國協	非洲	中東	中南美	澳、紐	★
	出口	進口									
I	出口	6076450	69.2%	9.9%	7.5%	3.7%	3.3%	2.9%	2.0%	0.7%	3.2%
	進口	6004045	67.9%	12.6%	5.8%	5.3%	5.3%	1.8%	1.8%	0.2%	6.2%
II	出口	1579563	19.6%	27.4%	33.4%	33.4%	1.0%	4.6%	11.5%	1.6%	7.7%
	進口	2329060	18.9%	39.2%	26.6%	26.6%	1.4%	4.7%	7.0%	0.4%	19.8%
III	出口	715097	15.7%	57.2%	21.4%	21.4%	1.8%	3.6%	2.2%	2.7%	18.1%
	進口	833166	10.7%	50.9%	10.6%	10.6%	3.0%	19.3%	3.3%	6.4%	21.7%

19. 根據表中資料判斷，I、II、III 分別是？(A)美國、歐盟、日本 (B)日本、美國、歐盟 (C)歐盟、美國、日本 (D)日本、歐盟、美國。
20. 澳、紐與 III 的貿易比重較高的主要原因是？(A)甲乙 (B)乙丙 (C)丙丁 (D)丁戊。
21. ★與三大經濟體的貿易額比重均高且不斷增長，此現象主要受到何種原因影響？(A)甲 (B)乙 (C)丙 (D)丁。
- ◎「半澤直樹」為日本 TBS 電視臺於 2013 年 7 月 7 日推出的夏季連續劇。劇情描寫於泡沫經濟時期進入職場的銀行員半澤直樹與銀行內、外敵人戰鬥的故事，最終話收視率達 42.2%，為近 13 年來最高收視率。請問：
22. 半澤直樹於泡沫經濟時期求職，造成當時（1985~1990 年）經濟泡沫化的原因是？(甲)降低利率(乙)日圓升值(丙)日圓貶值(丁)國際油價下跌(戊)美國大力援助(己)經濟長期成長的結果。(A)甲乙戊己 (B)甲乙丁己 (C)甲丙丁戊 (D)甲丙戊己。

23. 承上題，日後泡沫經濟破滅對日本經濟、社會的衝擊是？(甲)企業倒閉(乙)失業率上升(丙)市場購買力不變(丁)股市與房市大跌(戊)經濟成長率下降(己)產業空洞化問題嚴重。(A)甲乙丙丁 (B)甲乙丁戊 (C)甲乙丙戊 (D)甲乙戊己。
24. 劇中的一段臺詞：「從國外買進原料，做成這樣輕便結實的螺絲，再出口國外，汽車也是這樣的發展模式，靠的是工匠的技術、手藝，才使日本發展成經濟大國的。」關於此段文字的最佳解讀是？(A)日本位於東亞島弧上，火山作用帶來多樣的礦產以發展工業 (B)日本政府獎勵、補貼與扶助之下，改善中小企業的發展與成長環境 (C)日本產品能因應市場需求進行彈性調整，迅速反應顧客偏好 (D)日本缺乏天然資源，且精緻工藝品以外銷為主，國際貿易成為經濟發展支柱。
25. 「半澤直樹」收視率節節高升，TBS 電視臺還開關「半澤直樹專賣店」，販售周邊商品，如「倍返饅頭」、「半澤名片巧克力」及各式文具商品，全部狂銷熱賣且缺貨。此外，臺灣、香港、南韓也競相購買海外版權，網友整理的「半澤拍攝地點介紹」文章點閱率亦高。電視劇屬於「文化產業」，則日本大力發展文化產業的原因是？(甲)創造產值與增加就業(乙)提升資訊、傳播與自動化技術(丙)減少高耗能、勞力密集產業外移的現象(丁)支持智慧財產權的實施以保護創意與研發(戊)減少天然資源的消耗以降低經濟逆差的情況(己)發掘、保存並維護在地歷史文化資源、工藝技術等。(A)甲乙丙戊 (B)甲乙丙己 (C)甲乙丁戊 (D)甲乙丁己。

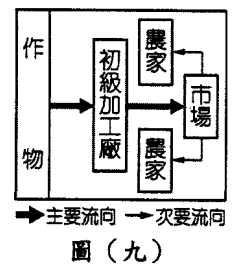
◎根據 WTO 統計，直至 2015 年 3 月世界各區域經濟貿易結盟 (RTA) 的數量已達 600 個以上。圖(七)為某國的區域經濟貿易結盟分布圖，圖中圓點表示與該國簽訂貨物與服務貿易協定的國家 (尚包括南美洲的智利，但沒有顯示於圖中)。請問：

26. 此一國家為何？(A)日本 (B)南韓 (C)紐西蘭 (D)東帝汶。
27. 各國加入區域貿易結盟主要可以享受哪一種經濟利益？(A)聚集經濟 (B)產業群聚 (C)計畫經濟 (D)規模經濟。



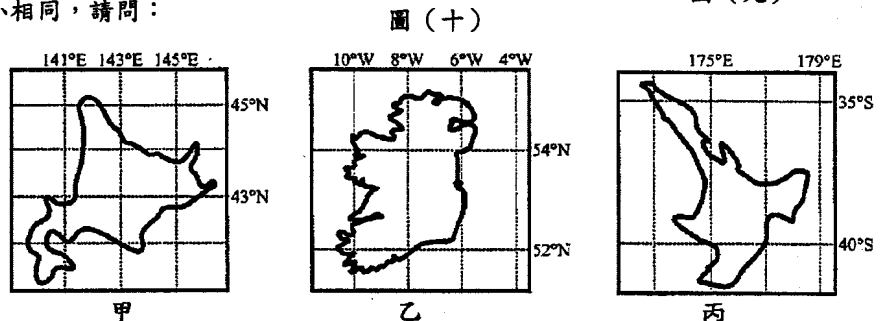
◎圖(八)為世界文化的分區圖，請回答下列問題：

28. 「文化區」劃分的依據是？(A)合作與競爭關係 (B)語言與宗教信仰 (C)族群與生活水準 (D)所得與技術高低。
29. 哪一個文化區在自然景觀上受氣候影響，一致性最高？(A)甲 (B)乙 (C)丙 (D)己。
30. 圖(九)為某種市場指向農牧活動的流程示意圖，哪些文化區內此種農牧活動最為盛行？(A)戊己⑥ (B)丁戊⑥ (C)丙庚⑦ (D)己庚⑦。



◎圖(十)是世界某三個島嶼的經緯線地圖，圖幅大小相同，請問：

31. 依據這三張地圖的經緯線，判斷三地的平均 1° 經距，由長至短排列為何？(A)甲乙丙 (B)乙甲丙 (C)丙甲乙 (D)丙乙甲。
32. 丙島嶼所屬之國是以農牧立國，其中牧的比重大大於農，主因為何？(A)地廣人稀 (B)土壤貧瘠 (C)氣候乾燥 (D)接近市場。



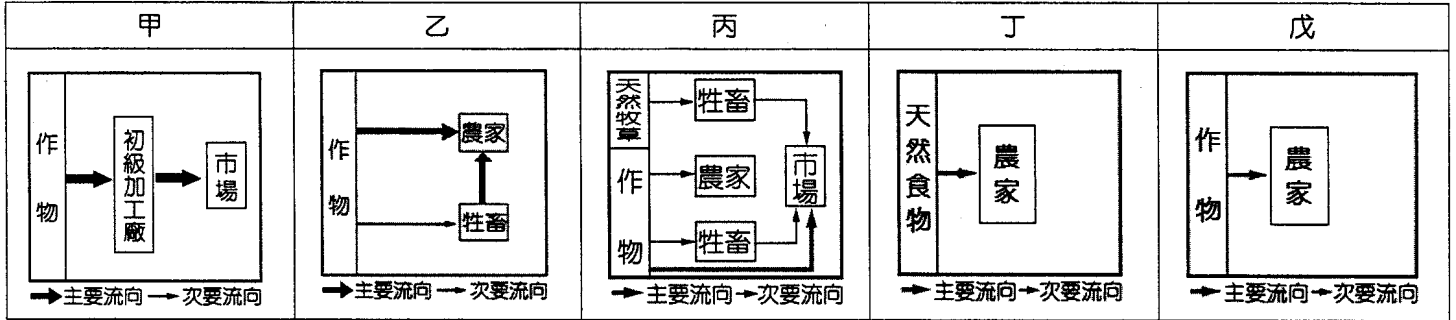
33. 此三島嶼的共同點為何？(A)皆有冰河地 (B)皆有暖流通過 (C)皆乾濕季節分明 (D)皆有酪農業的發展。

◎印尼蘇門答臘島至今仍有放火開荒以便將林地用於農耕的「燒芭」傳統。近年來，一些大型農園為了節省成本也採用放火的辦法來清理土地。請問：

34. 每年 6~10 月的乾旱季節，「燒芭」的林火蔓延，產生的煙霧隨「風」飄至馬來西亞、新加坡、汶萊等地，形成跨境「霾害」問題，造成空氣污染、能見度下降，影響空中交通、迫使機場關閉，導致觀光收益減少。請問，形成此季節盛行風的主因是？(A)太平洋的高氣壓沉降氣流，受地球自轉偏向力影響而形成 (B)西伯利亞的高氣壓沉降氣流，受地球自轉偏向力影響而形成 (C)夏威夷的高氣壓沉降氣流，受地球自轉偏向力影響而形成 (D)印度洋和澳洲的高氣壓沉降氣流，向北越過赤

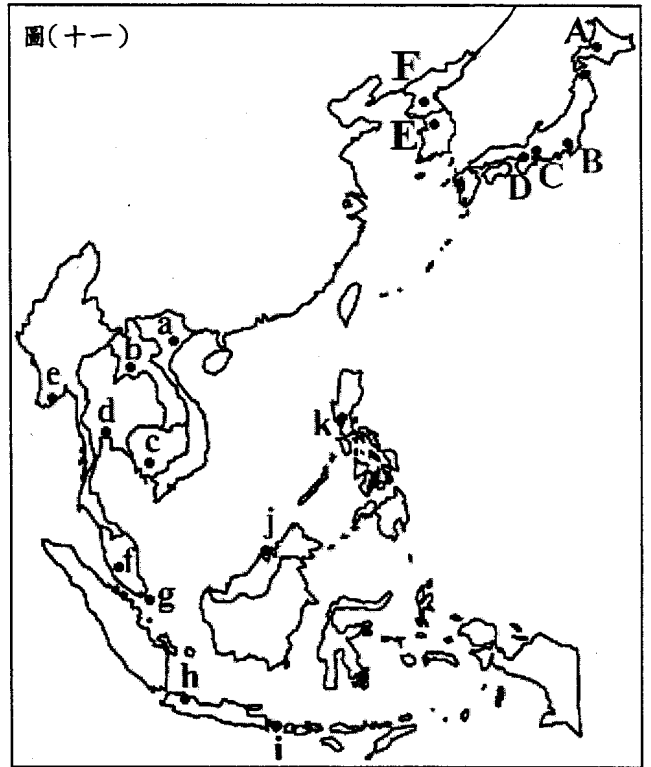
道，受地球自轉偏向力影響而形成。

35. 承上題，蘇門答臘部分居民進行「燒芭」與大型農園放火清理土地的目的，分別是為了進行下列哪些生產活動？(A)乙甲 (B)丙甲 (C)丁甲 (D)戊甲。



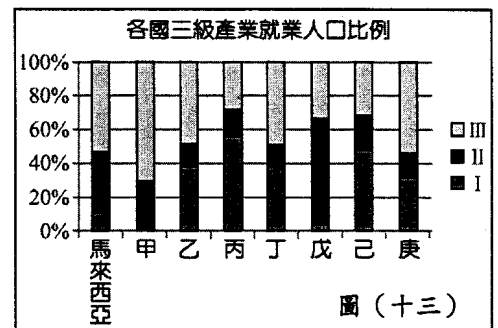
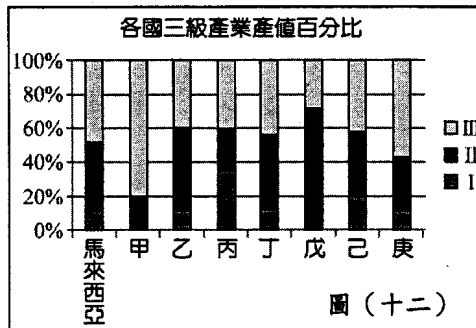
◎圖(十一)為東亞地區主要國家分布圖。請回答下列問題：

36. 哪一城市成功取得 2020 年夏季奧運主辦權，也是亞洲首個取得二度舉辦奧運的城市？(A)A 城 (B)B 城 (C)D 城 (D)E 城。
37. 承上題，2013 年 9 月 7 日，國際奧委會於阿根廷首都布宜諾斯艾利斯當地時間 17 時 20 分宣布該城取得主辦權。消息透過衛星即時電視直播傳回該城，此時該城當地民眾的作息是？(A)特地早起的早晨 5 時 20 分 (B)準備宵夜的晚上 10 時 20 分 (C)準備就寢的深夜 0 時 20 分 (D)準備午餐的中午 12 時 20 分。
38. 2013 年 10 月 1~8 日，亞太經合會年會暨經濟領袖會議將於某地盛大舉行。該地是相當熱門的旅遊度假勝地，有著名的印度教廟宇，及悠閒的海島風情。請問，該地位於何處？(A)a 地 (B)d 地 (C)g 地 (D)i 地。
39. 承上題，此時各國出席的經濟領袖於該地可能的體驗為何？
 (A)正逢雨季來臨，降水量豐 (B)島嶼面積不大，無活火山可觀察
 (C)環島鐵、公路網完工，陸運交通完整且便利 (D)四處可見穿著寬袖長袍、包覆頭巾的穆斯林。
40. 由於亞洲金融風暴影響後，連續四年(1998~2002)經濟負成長，失業率居高不下，決定打破長達 40 年的「禁賭令」，開放博奕，於 2005 年宣布興建二個賭場休閒村，一個是由美國拉斯維加斯金沙集團投資的「濱海灣金沙娛樂城」，主打商務客；一個是由馬來西亞雲頂集團投資的「聖淘沙名勝世界」，屬於家庭式的度假勝地。「賭場」其實只是帶動產業發展的一部分，加上博物館、環球影城等所產生的綜合效果，吸引全球更多觀光客到訪。請問，此地位於？(A)d 地 (B)f 地 (C)g 地 (D)j 地。



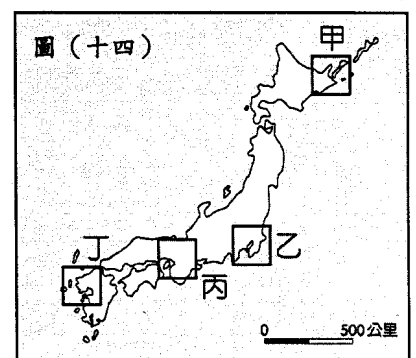
◎圖(十二)、圖(十三)為 2013 年東南亞國家(不含緬甸、寮國、東帝汶)的三級產業結構圖，請問：

41. 根據圖中三級產業產值及就業人口比例判斷，印尼、泰國、新加坡、越南依序分別是圖中的？(A)甲丙戊庚 (B)乙丁甲己 (C)丁庚乙丙 (D)己戊甲庚。
42. 對於「戊」這個國家的正確敘述是？
 (A)地廣人稀，資源豐富 (B)華人比例高，以儒道信仰為主 (C)四小虎之一，汽車零件專業生產區 (D)因出口重要能源，為東南亞地區所得第二高國家。




◎圖(十四)為日本群島分布圖，請回答下列問題：

43. 2013 年 6 月，聯合國教科文組織(UNESCO)宣布將富士山列入世界文化遺產名錄中，正式名稱為「富士山：信仰的對象與藝術的源泉」，成為日本第 17 處世界遺產。請問，富士山位於圖中哪一個區域內？(A)甲 (B)乙 (C)丙 (D)丁。
44. 由日本發展的歷史過程判斷，何處擁有的世界文化遺產最多？(A)甲 (B)乙 (C)丙 (D)丁。



45. 承上題，前往當地可以就近旅遊觀賞的景點為何？



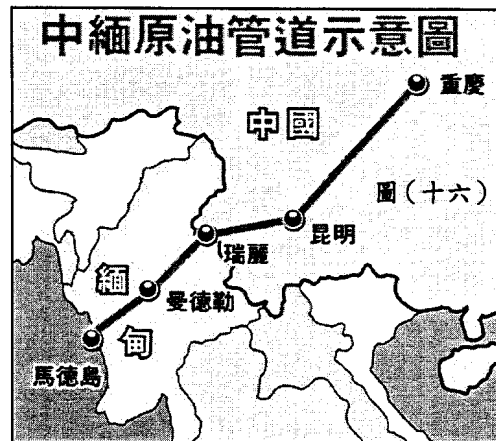
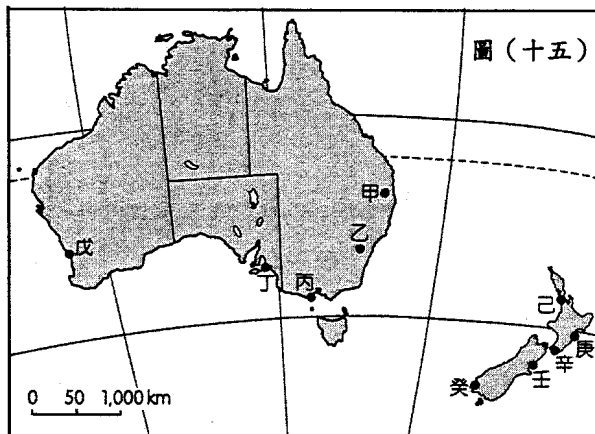
◎小惠利用年假到澳洲與紐西蘭旅遊，享受南半球國家的陽光，並隨身攜帶了澳、紐主要城市分布圖，如圖(十五)所示，請問：

46. 小惠首先抵達位於(175°E, 36°S)的某城，是該國最大的城市，當時的氣溫與冬天的高雄相似，約20°C左右，涼爽宜人。

請問，某城的名稱及位於圖(十五)中何處？(A)乙，雪梨 (B)丙，墨爾本 (C)己，奧克蘭 (D)壬，基督城。

47. 承上題，該國雖然水力資源豐富，但當地人注重環保，反對過度開發，反對興建水庫與核電廠來進行發電。選擇利用某種再生能源做為電廠的動力來源，請問該種再生能源為何？(A)風力 (B)地熱 (C)天然氣 (D)潮汐能。

48. 小惠此次澳、紐旅程的最後一站來到與臺灣零時差的某城，在市中心有免費的「貓巴士」(CAT)可搭乘，盡情探索觀光景點。也可以選擇悠閒的步行至貫穿市中心的天鵝河邊(Swan River)，隨性找塊空地，坐在草地上發呆、閒話家常。請問，此最後一站的某城，其名稱及位於圖(十五)中何處？(A)戊，伯斯 (B)丁，阿得雷德 (C)甲，布里斯班 (D)辛，威靈頓。



◎2014年第25屆東協高峰會與東亞高峰會在11月12日於緬甸首都奈比多舉行，除了東協會員國外，中、美、日、韓等國領袖亦與會。緬甸這個過去被認為是少數不民主的國家，此時成為了全球的焦點，緬甸的改變讓全世界目不轉睛。請問：

49. 此次會議中，美國總統歐巴馬對於少數族群羅興亞人 (Rohingya) 的人權狀況表達了關切之意。過去三年，累計超過12萬名飽受排擠，不被承認為緬甸國民的羅興亞人，繳交大筆費用給人蛇集團，欲前往相同信仰的孟加拉、印尼或馬來西亞等國，卻屢遭此三國拒絕、互踢皮球，使得安曼達海成為難民搶奪救難物資、為食物互相殺害、餓死、被丟包終至沉沒的「海上墳場」。請問，緬甸90%的國民，迫害且不公平對待僅占全國人口1.25%的羅興亞人，是為哪兩種宗教教徒間的衝突？(A)大乘佛教、伊斯蘭教 (B)印度教、伊斯蘭教 (C)東正教、伊斯蘭教 (D)小乘佛教、伊斯蘭教。

50. 會議中緬甸也與中國就油管問題提到「中、緬在共同開發油氣管線相關設施上合作無間」，這將使中國進口自中東的原油不必經過□□□，而直接從面向印度洋安達曼海的緬甸若開邦馬德島上岸，並經管線輸送至中國西南地區(如圖(十六))，從而對於實現中國能源多元化和確保能源安全具有重大戰略意義。□□□內應填入？(A)克拉運河 (B)荷莫茲海峽 (C)蘇伊士運河 (D)麻六甲海峽。

~~~~記得再檢查一遍喔！~~~~

堅持到最後，加油！ p ~~~~~ q

| 題號 | 題型  | 題分 | 標準答案 | 全體  |     |     |     |   | 551 |     |     |     |     | 高分組 |   |     |     |     | 149 |   |   |        |       | 全體答對率 | 難易指數 | 鑑別指數 |
|----|-----|----|------|-----|-----|-----|-----|---|-----|-----|-----|-----|-----|-----|---|-----|-----|-----|-----|---|---|--------|-------|-------|------|------|
|    |     |    |      | A   | B   | C   | D   | E | 未   | A   | B   | C   | D   | E   | 未 | A   | B   | C   | D   | E | 未 |        |       |       |      |      |
| 1  | 單選題 | 2  | B    | 22  | 499 | 17  | 12  | 0 | 1   | 2   | 139 | 6   | 2   | 0   | 0 | 10  | 129 | 4   | 5   | 0 | 1 | 90.56% | 0.899 | 0.067 |      |      |
| 2  | 單選題 | 2  | C,A  | 155 | 97  | 246 | 53  | 0 | 0   | 41  | 20  | 78  | 10  | 0   | 0 | 43  | 37  | 52  | 17  | 0 | 0 | 72.78% | 0.718 | 0.161 |      |      |
| 3  | 單選題 | 2  | D    | 0   | 5   | 44  | 501 | 0 | 1   | 0   | 2   | 12  | 135 | 0   | 0 | 0   | 2   | 13  | 133 | 0 | 1 | 90.93% | 0.899 | 0.013 |      |      |
| 4  | 單選題 | 2  | B    | 101 | 419 | 30  | 1   | 0 | 0   | 22  | 120 | 6   | 1   | 0   | 0 | 32  | 103 | 14  | 0   | 0 | 0 | 76.04% | 0.748 | 0.114 |      |      |
| 5  | 單選題 | 2  | B    | 376 | 133 | 30  | 11  | 0 | 1   | 82  | 60  | 4   | 2   | 0   | 1 | 106 | 26  | 11  | 6   | 0 | 0 | 24.14% | 0.289 | 0.228 |      |      |
| 6  | 單選題 | 2  | C    | 13  | 4   | 513 | 21  | 0 | 0   | 5   | 1   | 137 | 6   | 0   | 0 | 5   | 2   | 131 | 11  | 0 | 0 | 93.10% | 0.899 | 0.040 |      |      |
| 7  | 單選題 | 2  | A    | 225 | 152 | 5   | 169 | 0 | 0   | 70  | 38  | 3   | 38  | 0   | 0 | 43  | 41  | 1   | 64  | 0 | 0 | 40.83% | 0.379 | 0.181 |      |      |
| 8  | 單選題 | 2  | A    | 475 | 47  | 27  | 2   | 0 | 0   | 132 | 9   | 7   | 1   | 0   | 0 | 116 | 20  | 12  | 1   | 0 | 0 | 86.21% | 0.832 | 0.107 |      |      |
| 9  | 單選題 | 2  | C    | 9   | 194 | 320 | 28  | 0 | 0   | 2   | 34  | 107 | 6   | 0   | 0 | 3   | 63  | 76  | 7   | 0 | 0 | 58.08% | 0.614 | 0.208 |      |      |
| 10 | 單選題 | 2  | B    | 186 | 287 | 31  | 45  | 0 | 2   | 50  | 85  | 5   | 9   | 0   | 0 | 55  | 66  | 12  | 14  | 0 | 2 | 52.09% | 0.507 | 0.128 |      |      |
| 11 | 單選題 | 2  | A    | 89  | 112 | 9   | 341 | 0 | 0   | 35  | 32  | 3   | 79  | 0   | 0 | 13  | 30  | 5   | 101 | 0 | 0 | 16.15% | 0.161 | 0.148 |      |      |
| 12 | 單選題 | 2  | B    | 154 | 334 | 18  | 45  | 0 | 0   | 37  | 97  | 4   | 11  | 0   | 0 | 46  | 81  | 4   | 18  | 0 | 0 | 60.62% | 0.597 | 0.107 |      |      |
| 13 | 單選題 | 2  | B    | 32  | 378 | 33  | 107 | 0 | 1   | 11  | 115 | 2   | 21  | 0   | 0 | 9   | 81  | 19  | 39  | 0 | 1 | 68.60% | 0.658 | 0.228 |      |      |
| 14 | 單選題 | 2  | A    | 282 | 83  | 141 | 45  | 0 | 0   | 98  | 18  | 26  | 7   | 0   | 0 | 52  | 30  | 48  | 19  | 0 | 0 | 51.18% | 0.503 | 0.309 |      |      |
| 15 | 單選題 | 2  | C    | 271 | 74  | 154 | 50  | 0 | 2   | 63  | 22  | 50  | 14  | 0   | 0 | 85  | 24  | 27  | 12  | 0 | 1 | 27.95% | 0.258 | 0.154 |      |      |
| 16 | 單選題 | 2  | D    | 15  | 169 | 28  | 339 | 0 | 0   | 5   | 40  | 6   | 98  | 0   | 0 | 6   | 46  | 12  | 85  | 0 | 0 | 61.52% | 0.614 | 0.087 |      |      |
| 17 | 單選題 | 2  | D    | 19  | 73  | 32  | 427 | 0 | 0   | 3   | 22  | 7   | 117 | 0   | 0 | 11  | 19  | 15  | 104 | 0 | 0 | 77.50% | 0.742 | 0.087 |      |      |
| 18 | 單選題 | 2  | D    | 41  | 59  | 45  | 406 | 0 | 0   | 6   | 12  | 8   | 123 | 0   | 0 | 22  | 21  | 20  | 86  | 0 | 0 | 73.68% | 0.701 | 0.248 |      |      |
| 19 | 單選題 | 2  | C    | 60  | 10  | 466 | 15  | 0 | 0   | 17  | 1   | 126 | 5   | 0   | 0 | 24  | 6   | 114 | 5   | 0 | 0 | 84.57% | 0.805 | 0.081 |      |      |
| 20 | 單選題 | 2  | D    | 15  | 7   | 9   | 520 | 0 | 0   | 5   | 2   | 4   | 138 | 0   | 0 | 6   | 4   | 3   | 136 | 0 | 0 | 94.37% | 0.919 | 0.013 |      |      |
| 21 | 單選題 | 2  | B    | 291 | 105 | 52  | 103 | 0 | 0   | 86  | 30  | 13  | 20  | 0   | 0 | 82  | 21  | 17  | 29  | 0 | 0 | 19.06% | 0.171 | 0.060 |      |      |
| 22 | 單選題 | 2  | B    | 107 | 310 | 48  | 86  | 0 | 0   | 19  | 102 | 11  | 17  | 0   | 0 | 34  | 62  | 16  | 37  | 0 | 0 | 56.26% | 0.550 | 0.268 |      |      |
| 23 | 單選題 | 2  | B    | 2   | 411 | 4   | 135 | 0 | 0   | 0   | 122 | 1   | 26  | 0   | 0 | 2   | 99  | 1   | 47  | 0 | 0 | 74.59% | 0.742 | 0.154 |      |      |
| 24 | 單選題 | 2  | D    | 4   | 23  | 111 | 412 | 0 | 1   | 2   | 5   | 22  | 120 | 0   | 0 | 2   | 9   | 45  | 92  | 0 | 1 | 74.77% | 0.711 | 0.188 |      |      |
| 25 | 單選題 | 2  | D    | 35  | 40  | 105 | 371 | 0 | 1   | 7   | 3   | 27  | 112 | 0   | 0 | 16  | 17  | 31  | 84  | 0 | 1 | 67.15% | 0.658 | 0.188 |      |      |
| 26 | 單選題 | 2  | C    | 183 | 32  | 255 | 79  | 0 | 2   | 37  | 9   | 89  | 13  | 0   | 1 | 63  | 9   | 50  | 26  | 0 | 1 | 46.28% | 0.466 | 0.262 |      |      |
| 27 | 單選題 | 2  | D    | 198 | 41  | 39  | 271 | 0 | 2   | 39  | 6   | 10  | 93  | 0   | 1 | 66  | 14  | 10  | 58  | 0 | 1 | 49.18% | 0.507 | 0.235 |      |      |
| 28 | 單選題 | 2  | B    | 6   | 490 | 50  | 4   | 0 | 1   | 0   | 142 | 6   | 1   | 0   | 0 | 1   | 125 | 21  | 1   | 0 | 1 | 88.93% | 0.896 | 0.114 |      |      |
| 29 | 單選題 | 2  | C    | 108 | 147 | 181 | 114 | 0 | 1   | 27  | 30  | 70  | 22  | 0   | 0 | 33  | 53  | 33  | 29  | 0 | 1 | 32.85% | 0.346 | 0.248 |      |      |
| 30 | 單選題 | 2  | A    | 282 | 91  | 85  | 92  | 0 | 1   | 105 | 20  | 15  | 9   | 0   | 0 | 39  | 30  | 33  | 46  | 0 | 1 | 51.18% | 0.483 | 0.443 |      |      |
| 31 | 單選題 | 2  | B,C  | 58  | 105 | 301 | 86  | 0 | 1   | 15  | 32  | 81  | 21  | 0   | 0 | 22  | 31  | 63  | 32  | 0 | 1 | 73.68% | 0.695 | 0.128 |      |      |
| 32 | 單選題 | 2  | A    | 333 | 46  | 154 | 17  | 0 | 1   | 109 | 15  | 21  | 4   | 0   | 0 | 71  | 10  | 62  | 5   | 0 | 1 | 60.44% | 0.604 | 0.255 |      |      |
| 33 | 單選題 | 2  | D    | 86  | 124 | 122 | 215 | 0 | 4   | 34  | 34  | 15  | 66  | 0   | 0 | 14  | 30  | 53  | 48  | 0 | 4 | 39.02% | 0.383 | 0.121 |      |      |
| 34 | 單選題 | 2  | D    | 274 | 49  | 9   | 217 | 0 | 2   | 66  | 8   | 3   | 72  | 0   | 0 | 85  | 22  | 2   | 39  | 0 | 1 | 39.38% | 0.372 | 0.221 |      |      |
| 35 | 單選題 | 2  | D    | 82  | 108 | 65  | 294 | 0 | 2   | 16  | 15  | 16  | 102 | 0   | 0 | 32  | 44  | 20  | 52  | 0 | 1 | 53.36% | 0.517 | 0.336 |      |      |
| 36 | 單選題 | 2  | B    | 8   | 350 | 45  | 144 | 3 | 1   | 1   | 107 | 8   | 31  | 2   | 0 | 3   | 79  | 18  | 47  | 1 | 1 | 63.52% | 0.624 | 0.188 |      |      |
| 37 | 單選題 | 2  | A    | 255 | 73  | 123 | 99  | 0 | 1   | 77  | 16  | 29  | 27  | 0   | 0 | 49  | 28  | 38  | 33  | 0 | 1 | 46.28% | 0.423 | 0.188 |      |      |
| 38 | 單選題 | 2  | D    | 16  | 58  | 39  | 437 | 0 | 1   | 5   | 13  | 5   | 126 | 0   | 0 | 8   | 24  | 15  | 101 | 0 | 1 | 79.31% | 0.762 | 0.168 |      |      |
| 39 | 單選題 | 2  | A    | 254 | 133 | 48  | 115 | 0 | 1   | 76  | 36  | 13  | 24  | 0   | 0 | 59  | 44  | 13  | 32  | 0 | 1 | 46.10% | 0.453 | 0.114 |      |      |
| 40 | 單選題 | 2  | C    | 30  | 177 | 265 | 78  | 0 | 2   | 7   | 45  | 83  | 14  | 0   | 0 | 14  | 56  | 57  | 22  | 0 | 1 | 47.91% | 0.466 | 0.181 |      |      |
| 41 | 單選題 | 2  | B    | 49  | 359 | 19  | 125 | 0 | 1   | 14  | 114 | 3   | 18  | 0   | 0 | 18  | 75  | 10  | 45  | 0 | 1 | 64.97% | 0.634 | 0.262 |      |      |
| 42 | 單選題 | 2  | D    | 38  | 61  | 206 | 245 | 0 | 1   | 4   | 19  | 37  | 89  | 0   | 0 | 18  | 14  | 76  | 40  | 0 | 1 | 44.46% | 0.433 | 0.329 |      |      |
| 43 | 單選題 | 2  | B    | 68  | 363 | 108 | 10  | 0 | 2   | 10  | 126 | 12  | 1   | 0   | 0 | 28  | 74  | 40  | 5   | 0 | 2 | 65.88% | 0.671 | 0.349 |      |      |
| 44 | 單選題 | 2  | C    | 3   | 47  | 477 | 22  | 0 | 2   | 0   | 4   | 140 | 5   | 0   | 0 | 3   | 28  | 106 | 10  | 0 | 2 | 86.57% | 0.826 | 0.228 |      |      |
| 45 | 單選題 | 2  | D    | 45  | 102 | 9   | 393 | 0 | 2   | 5   | 27  | 1   | 116 | 0   | 0 | 25  | 30  | 3   | 89  | 0 | 2 | 71.32% | 0.688 | 0.181 |      |      |
| 46 | 單選題 | 2  | C    | 166 | 59  | 235 | 90  | 0 | 2   | 32  | 17  | 78  | 23  | 0   | 0 | 62  | 19  | 39  | 27  | 0 | 2 | 42.65% | 0.393 | 0.262 |      |      |
| 47 | 單選題 | 2  | B    | 143 | 309 | 48  | 49  | 0 | 2   | 39  | 90  | 11  | 9   | 0   | 0 | 43  | 64  | 19  | 21  | 0 | 2 | 56.08% | 0.517 | 0.174 |      |      |
| 48 | 單選題 | 2  | A    | 326 | 86  | 69  | 68  | 0 | 2   | 100 | 28  | 12  | 9   | 0   | 0 | 67  | 21  | 30  | 29  | 0 | 2 | 59.17% | 0.560 | 0.221 |      |      |
| 49 | 單選題 | 2  | D    | 56  | 96  | 29  | 369 | 0 | 2   | 8   | 22  | 6   | 114 | 0   | 0 | 25  | 29  | 14  | 79  | 0 | 2 | 66.79% | 0.644 | 0.228 |      |      |
| 50 | 單選題 | 2  | D    | 27  | 23  | 35  | 464 | 0 | 2   | 4   | 4   | 4   | 137 | 0   | 0 | 15  | 9   | 21  | 102 | 0 | 2 | 84.21% | 0.802 | 0.235 |      |      |

選填題或五選項以上各題以 1(或A) 表示作答正確, 2(或B) 表示作答錯誤