

桃園縣立平鎮高中 104 學年度 第二學期 高三歷史科期中考試題

適用班級：301-307、309、314

範圍：歷史選修（下）5-8 章；歷史（4）全

注意事項：請於答案卡與答案卷上作答；基本資料錯誤者扣 5 分

簡答題請用黑色或深藍原子筆作答，否則不予計分

一、單一選擇題(每題 2 分，共 76 分)

1. 美國獨立時期國土僅有阿帕拉契山以東至大西洋沿岸，獨立戰爭勝利後國土往西擴張至密西西比河。1803 年，美國向法國購得路易斯安那，幾乎將國土擴大一倍。而當時法國的統治者是下列何者？(A)克倫威爾 (B)路易十四 (C)路易十六 (D)拿破崙。
2. 中南美洲的獨立運動，在 1790 ~ 1826 年間，由反對西方殖民的海地黑人獨立運動開始，火花蔓延到中南美洲各地。請問海地是下列哪一個國家的殖民地？(A)英國 (B)法國 (C)荷蘭 (D)西班牙。
3. 某一個國家的領導人曾說：「如果當年在衣索比亞問題上，將經濟制裁加上石油，我當時就必須在一個星期內撤出衣索比亞，那將對我是無法想像的災難。」請問他是下列哪一個國家的領導人？(A)義大利 (B)德國 (C)蘇聯 (D)美國。
4. 培根是 17 世紀一名事業有成的西班牙商人，預計把事業版圖擴展到中南美洲，幕僚蒐集了許多相關的情報。新公司的設立需要許多當地政府許可的公文。請問培根接觸的政府官員，絕大部分應屬於中南美洲的哪一階級？(A)半島人 (B)克里奧爾人 (C)麥士蒂索人 (D)西班牙人。
5. 1994 年盧安達發生慘絕人寰的種族屠殺事件，此一事件的發生實與下列哪一個國家在殖民時期，採行種族分化政策所埋下的衝突與對立有關？(A)比利時 (B)德國 (C)英國 (D)法國。
6. 這個帝國因為一度壟斷了西非的黃金交易，日常生活又幾乎都與黃金有關，帝國因此又被稱為「黃金國度」。此一帝國是指下列何者？(A)馬利 (B)迦納 (C)阿茲提克 (D)桑海。
7. 從某一時期開始，天主教的各修會紛紛前來中南美洲，隨著殖民者武力抵達之處，新的教會也隨之出現。這些教會的教堂多設在行政中心或城市之中，再派遣低階神職人員到各地傳教，充當教會的前哨。請問此時期為何？(A) 1420 年代 (B) 1520 年代 (C) 1620 年代 (D) 1720 年代。
8. 冷戰期間，美國總統杜魯門提出「骨牌效應論」，依此論的堅持，美國在 1950 年投入哪一項事件？(A)中國的國共內戰 (B)韓戰 (C)越戰 (D)歐洲經濟復興計畫。
9. 魔幻寫實主義 (magic realism) 是拉丁美洲文學的一種敘述技巧，特徵是以真實的歷史為藍本，加入一些幻想、神話或神祕元素，呈現出如幻似真的情境。下列何人的著作為此風格的代表人物？(A)切·格瓦拉 (B)米斯特拉爾 (C)沃萊·索因卡 (D)馬奎斯。
10. 1950 ~ 1970 年代之間，腐敗的政府與過度干預的外國勢力愈演愈烈，新國家獨立之後，仍無法脫離貧富差距懸殊的社會現況與派系鬥爭的內政紛擾，中南美洲諸國普遍陷入民不聊生的困境。在此背景之下哪一思想興起？(A)高地酋主義 (B)民粹主義 (C)社會主義 (D)浪漫主義。
11. 美國獨立戰爭爆發的背景為，英國為了償還哪一個戰爭增加的國債，而對北美殖民地通過一系列的稅法，引發殖民地人民高度的不滿與反對，最後造成戰爭的爆發？(A)七年戰爭 (B)英法聯軍 (C)八國聯軍 (D)第一次世界大戰。
12. 此一運動使統治者開始強調善政，或是宣傳對人民的關照甚至是服務。普魯士的腓特烈大帝 (Frederick II, 1740-1786 年在位)、俄國的凱薩琳大帝 (Catherine II, 1762-1792 年在位)、奧地利的約瑟夫 (Josef II, 1765-1790 年在位) 都受到此一運動的影響而進行改革。這一個運動與其精神是？(A)文藝復興與人文主義 (B)狂飆運動與浪漫主義 (C)啟蒙運動與理性主義 (D)美國獨立運動與民主主義。
13. 從何時開始，科學方法被學者應用到研究社會、政治現象方面，打開人文社會研究的新途徑？(A)中古晚期 (B)文藝復興 (C)啟蒙運動 (D)1960 年代。

14. 部分歷史學者有感於十七世紀發生許多對後世有深遠影響的事件，而以「充滿了矛盾衝突」、「對比強烈」、「既光明又黑暗的時代」的詞句形容此一時代。但下列哪一個敘述「不是」發生於此一時代？ (A) 天才輩出，在建立自然科學的理論方面有重大突破 (B) 發現新大陸，開闢新航線，歐洲人勢力興起 (C) 宗教戰爭，血腥屠殺，造成社會的不安定 (D) 宗教狂熱引發巫術迫害浪潮，說明了歐洲人行為的不理性。
15. 他是西方著名的思想家，他認為人類在原始社會中是絕對自由與平等的狀態，沒有任何形式的政府存在，但為使自然權力能夠受到有效的保障，人類便將若干權力賦予一群人，於是就有政府的出現。他亦認為，如果政府超越或濫用這些權力或無法保證人民基本權力不被侵犯時，人民有權解散或推翻它。他的這些政治理論成為啟蒙運動的重要淵源。關於這位思想家的敘述何者正確？ (A) 他是法國人 (B) 他的國家是當時歐洲最專制的國家 (C) 大機械宇宙觀也是他所提出來的 (D) 他著有政府論兩篇。
16. 「波蘭國會於本月中通過加入北大西洋公約組織案，波蘭預定在 3 月間與捷克及匈牙利同時成為北約新會員。」這則報導出現的時代背景為何？ (A) 二次大戰結束時，美蘇兩國在東歐對峙，美國拉攏波、捷等國加入北約 (B) 越戰結束後，美國因圍堵政策遇挫，而改變其外交策略，積極與共產國保持友好 (C) 越戰爆發時，西歐欲打擊華沙公約組織，勸說波、捷等國加入北約 (D) 蘇聯解體後，東歐向西方靠攏，波、捷、匈牙利等國家欲加入北約。
17. 某一時期西方殖民非洲的特徵為：一、不僅是占領沿海貿易據點，更進行大範圍的土地占有，並剝奪傳統部落的權益。二、除原有的葡萄牙、英國與法國外，另加入德、義、比等新興強權。請問此時期最早發生於何時？ (A) 十八世紀初 (B) 十八世紀末 (C) 十九世紀初 (D) 十九世紀末。
18. 「我寧願投身於大海中，也不會把改革的船帆降下，我也許會被自己倡言的『新思維』、『公開性』、『多黨制』或『市場經濟』所壓垮，但……我堅定不移地走向自己這條險境環生之路」，上面這段話有可能是那一位 20 世紀人物的名言？ (A) 沙特 (B) 雷根 (C) 戈巴契夫 (D) 柴契爾夫人。
19. 各大報頭條刊載如下消息：南非總統戴克拉克宣布改革，並與民族議會主席曼德拉、祖魯族首領布特萊茲在約翰尼斯堡簽署和平協約，解除對非洲民族議會的禁制，廢止「族群區域法」、「土地法」、「人口登記法」等法律，對黑人領導下的反對團體開禁，並釋放一千名政治犯……，此時應為： (A) 1960 年代末期 (B) 1970 年代初期 (C) 1980 年代初期 (D) 1990 年代初期。
20. 古埃及的信仰奠基者是彼得的弟子馬克。這位逃自羅馬的傳教者，在埃及都市中找到自己的信徒，尤其在亞歷山大城，獲得許多人的支持，使得此信仰在當地占有很大優勢。因此，學者據此大致推測此信仰傳入埃及的時期，約在公元 1 世紀。請問上述信仰應指何者？ (A) 猶太教 (B) 基督教 (C) 佛教 (D) 伊斯蘭教。
21. 下圖內容是美國某個時期的外交政策。根據此圖，請問此一政策是在什麼樣的背景下形成的？ (A) 19 世紀前期，為支持中南美洲獨立運動，發表「美洲是美洲人的美洲」宣言 (B) 19 世紀末期，為爭取在華貿易機會均等，發表「保全中國領土與行政完整」照會 (C) 19 世紀末期，取得波多黎各後，美國在中南美洲所採取的外交手段 (D) 20 世紀前期，美、日在太平洋地區的衝突升高，美國召集相關會議所決定的外交政策。



22. 大拉拉在一本書上看到如下的一個表格。請問這應是指何國的海外競爭活動？ (A) 英國 (B) 法國 (C) 荷蘭 (D) 德國。

1875 年	得到蘇伊士運河的經營權
1876 年	女王得到「印度女王」的稱號
1878 年	占領賽浦勒斯島
1878 年	與俄國爭阿富汗
1879 年	在南非從事競爭

23. 有一派哲學思想認為：「人不只是他自認為什麼，而是他自願成為什麼」，即人是自己選擇自己的人生，故人應該為自己的行為負責。請問下列何者正確？(A) 這是屬於理性主義的哲學派別 (B) 這種思想是受工業革命的影響而出現的 (C) 這種思想是由法國的哲學家沙特所提出 (D) 這種哲學思想在一次世界大戰後盛行於歐洲。
24. 資料一：傳說希巴女王和所羅門王兩人的嫡傳後裔曼尼利克，在成長後建立了一個強大的帝國，就是今日的□，從此之後此國的統治階級都自認是他的後裔。
資料二：在古希臘時代，□是當時所知道的世界最南端，而在中古時期，此地一直以身為基督教國家而與歐洲保持一定的關係；或許因為此地與外界接觸較早，這兒人們的皮膚膚色不似其他國家的黑人擁有一身黝黑皮膚，反而是淺黑帶紅，有的甚至與黃種人無異。
請問這二則資料中的□是指何地？(A) 剛果 (B) 衣索比亞 (C) 迦納 (D) 埃及。
25. 這一個思想盛行於 1980 代的英美政壇，「國家退出市場經濟」、「縮減社會福利制度」等，都是這一思想的主張。這一個思想是：(A) 新保守主義 (B) 新自由主義 (C) 後現代主義 (D) 新國家主義。
26. 「從波羅的海的斯特汀到亞得里亞海之特雷斯特，一道『鐵幕』(iron curtain) 已橫跨歐洲大陸，將整個歐洲分割成兩個截然不同的世界。」此一情形的形成與下列哪一個會議關係密切？(A) 慕尼黑會議 (B) 萬隆會議 (C) 維也納會議 (D) 雅爾達會議。
27. 十九世紀末，「三國同盟」的形成，與哪一場戰爭關係密切？(A) 克里米亞戰爭 (B) 1877 年俄土戰爭 (C) 普法戰爭 (D) 第一次世界大戰。
28. 下列何者「不是」因第一次世界大戰而瓦解的舊帝國？(A) 俄羅斯帝國 (B) 奧匈帝國 (C) 鄂圖曼帝國 (D) 神聖羅馬帝國。
29. 俾斯麥在十九世紀時曾主持過兩場柏林會議。其中 1884 年，召開的會議是為了解決下列哪一個問題？(A) 普法戰爭後德法有領土糾紛 (B) 協調帝國主義者在非洲的爭奪 (C) 奧國不希望英國南下入侵地中海 (D) 俄土戰後巴爾幹半島歸屬問題。
30. 「西非的廷巴克圖 (Timbuktu) 被視為□教在非洲的傳教及學術中心。城中的某建築，是當地著名的大學，建於 15 世紀，有藏書及手稿 70 萬本，是當時世界上最大的圖書館之一。」請問上文中□應是指哪一宗教？(A) 基督教 (B) 非洲傳統多神信仰 (C) 伊斯蘭教 (D) 猶太教。
31. 源於征服之初就開始的種族融合，即是白人與印第安人混血所產生的族群。由於異族通婚並不合法，因此他們無法進入以白人為主的學校受教育，也不能擔任行政公職，多淪為契約勞工，或成為社會的流浪者請問此族群的名稱為何？(A) 半島人 (B) 克里奧爾人 (C) 穆拉托人 (D) 麥士蒂索人。
32. 二次世界大戰爆發前，哪一個條約的簽訂埋下波蘭被瓜分的命運？(A) 德蘇互不侵犯條約 (B) 慕尼黑黑協定 (C) 凡爾賽條約 (D) 反共公約。
33. 二十世紀的前半期發生過兩次世界大戰，對世局的發展都造成鉅大的影響。以下有關這兩次世界大戰的比較，何者正確？(A) 兩次戰爭俄國均為戰敗國 (B) 美國外交政策在戰後都走向「孤立主義」(C) 戰後均加強日本的實力 (D) 戰後的世局都出現民主與極權的並立現象。
34. 1950 年代某一個國際組織成立時在其規約中表示：「一、會員國應依國家安全之最小需求及國際義務裁減軍備。二、對會員國的軍事威脅視同對整體的共同威脅。三、會員國間之爭端應交付仲裁，各國亦應遵守仲裁結果。」請問這是那一個組織的規約？(A) 北大西洋公約組織 (B) 國際聯盟 (C) 三國協約 (D) 華沙公約組織。

* 35-36 為題組

「戰術特色：先收復重點島嶼 A，再利用美軍充沛的工程能力和物資供應，對□軍其他據點進行海空封鎖，然後不直接攻擊下一個□軍占領的島嶼 B，而是攻擊下下一個□軍占領的島嶼 C，然後再透過海空包圍的方式孤立□軍占領的島嶼 B。如此將可避免直接攻堅的損失，還能快速前進，並可逼使□軍放棄遭到封鎖與空襲的島嶼。」

35. 上述戰術主要運用在哪一個作戰區？ (A) 亞洲 (B) 歐洲 (C) 美洲 (D) 非洲。
36. 文中的□，應是指下列哪一個國家？(A) 蘇聯 (B) 義大利 (C) 德國 (D) 日本

* 37-38 為題組

這時期的藝術創作者創作取材多是採用最通俗、日常，卻對現代生活具有重要影響的生活題材，例如可口可樂、瑪莉蓮夢露、暢通商品的商標等等，刻意呈現「絕對客觀主義」的中立立場，開拓了大眾化、遊戲化的藝術型態。請問：

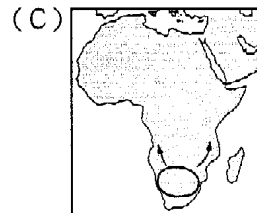
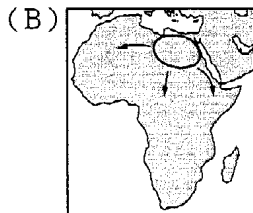
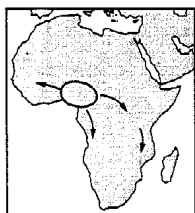
37. 此藝術型態我們稱為： (A) 普普藝術 (B) 新寫實主義 (C) 後現代主義 (D) 表現主義。
38. 此一藝術風格最早出現於何時？ (A) 1930 年代 (B) 1950 年代 (C) 1960 年代 (D) 1970 年代。

二、多重選擇題(每題 3 分，共 12 分，答錯倒扣 1/5 題分)

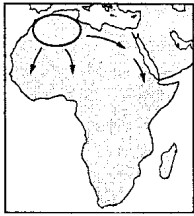
39. 二次世界大戰後，世界局勢的發展為何？(A) 歐洲殖民主義退潮，中南美洲、非洲被殖民國家紛紛獨立 (B) 日本經濟蕭條導致軍人掌握政權 (C) 東歐國家大多淪為蘇聯的附庸 (D) 西歐各國逐步落實免費的小學義務教育 (E) 區域統合成為國際趨勢。
40. 聯合國安理會指派的軍隊，曾協助以下哪些軍事衝突中的其中一方對抗另一方？ (A) 印尼獨立戰爭 (B) 韓戰 (C) 兩伊戰爭 (D) 越戰 (E) 第一次波斯灣戰爭。
41. 在十九世紀末，哪些人曾破壞了自德國統一後，所努力建立的親俄不得罪英國的外交政策？ (A) 俾斯麥 (B) 梅特涅 (C) 拿破崙三世 (D) 威廉一世 (E) 威廉二世。
42. 關於近代俄國歷史的發展下列敘述哪些正確？(A) 日俄戰爭慘敗後，沙皇亞歷山大二世曾進行改革，但最後仍慘遭暗殺 (B) 末代王朝羅曼諾夫王朝失去其政權是在「二月革命」後 (C) 一次世界大戰俄國參加的是戰敗的「同盟國」陣營 (D) 一次世界大戰末期美國為了徹底瓦解俄國的作戰能力，暗中資助列寧和其他布爾什維克黨人回到俄國進行革命 (E) 「五年經濟計劃」使蘇聯度過經濟大恐慌的危機。

三、簡答題（每個答案 1 分，共 12 分請用黑色或深藍原子筆作答）

1. 「甲趁西班牙被乙占領之際，領軍對抗西班牙殖民者。1819 年，甲領導各邦組成第一個南美國家聯盟「大哥伦比亚共和國」。」請問上述資料中的甲與乙各是誰？
2. 阿根廷獨立運動人士貝爾格拉諾的談話：「1789 年我住在西班牙，那些我所交往的啟蒙人士、以及□革命的影響，改變了我的思想。自由、平等、安全與財產的思想緊緊籠罩著我。在我的眼中，妨害天賦人權的統治者，不過是個暴君而已。」上文的□應是指哪一個國家的革命？
3. 班圖人是非洲的最大族群，下列何圖是其向外遷徙的路？而他們的遷徙使哪一種金屬製品外傳？ (A)



(D)



4. 他曾說過：「我知道我會下地獄，但是我會在那裡看到大資本家、竊賊、劊子手和美國總統們。」他深受馬克思主義影響，強力批判資本主義，認為唯一的改革之路是發動社會革命。請問他是中南美洲哪一個國家的領導人？
5. 中南美洲國家中，哪一國是唯一脫離葡萄牙而獨立建立帝國，直到 1889 年才改為共和，也是拉丁美洲壽命最長的國家？
6. 1870 年代中期，歐洲帝國勢力之間展開了「非洲爭奪戰」。甲國在西非擁有一個面積大約是英國 3 倍大的領土，乙國擁有 260 萬平方公里的剛果盆地區域。請問甲、乙 分別是指何國？
7. 「60 年代美國介入 戰爭，使美國社會與文化均呈現巨大變動，歐洲也出現新左派學運， 點燃學運火把並延燒各國。」請問 應填入哪一個戰爭； 應填入哪一個國家。
8. 非洲這一個國家的出現的原因是美國解放黑奴後依照其意願讓部分非洲人有計畫的移居到這個地方，因此其國名有自由與解放之意。請問這是哪一個國家？

1. 甲: 乙:	6.甲: 乙:
2.	7. <input type="checkbox"/> : <input type="checkbox"/> :
3.	8.
4	
5.	

此張試卷請務必繳回!

桃園市立平鎮高級中學 104學年第2學期 期末考三年級不限組別選修歷史II [20160512300050101078] 全體考生 試題分析表

題號	題型	題分	標準答案	全體					410					高分組					111					全體答對率	難易指數	鑑別指數
				A	B	C	D	E	未	A	B	C	D	E	未	A	B	C	D	E	未					
1	單選題	2	D	22	45	68	275	0	0	6	8	7	90	0	0	14	18	30	49	0	0	67.07%	0.626	0.369		
2	單選題	2	B	38	288	13	71	0	0	6	90	5	10	0	0	19	60	4	28	0	0	70.24%	0.676	0.270		
3	單選題	2	A	198	73	38	100	0	1	76	11	7	17	0	0	25	30	15	41	0	0	48.29%	0.455	0.459		
4	單選題	2	A	339	45	14	12	0	0	102	8	1	0	0	0	72	18	12	9	0	0	82.68%	0.784	0.270		
5	單選題	2	A	342	17	36	15	0	0	106	2	2	1	0	0	70	10	20	11	0	0	83.41%	0.793	0.324		
6	單選題	2	B	14	378	14	4	0	0	2	105	4	0	0	0	4	96	10	1	0	0	92.20%	0.905	0.081		
7	單選題	2	B	31	151	168	60	0	0	8	63	28	12	0	0	8	20	65	18	0	0	36.83%	0.374	0.387		
8	單選題	2	B	3	280	60	67	0	0	0	82	11	18	0	0	1	63	28	19	0	0	68.29%	0.653	0.171		
9	單選題	2	D	30	14	39	327	0	0	6	1	5	99	0	0	17	7	21	66	0	0	79.76%	0.743	0.297		
10	單選題	2	C	201	22	185	2	0	0	36	4	70	1	0	0	67	13	30	1	0	0	45.12%	0.450	0.360		
11	單選題	2	A	380	10	1	19	0	0	103	3	0	5	0	0	95	5	1	10	0	0	92.68%	0.892	0.072		
12	單選題	2	C	17	7	329	57	0	0	3	1	97	10	0	0	11	6	69	25	0	0	80.24%	0.748	0.252		
13	單選題	2	C	7	41	346	16	0	0	1	5	102	3	0	0	4	18	81	8	0	0	84.39%	0.824	0.189		
14	單選題	2	B	24	201	36	149	0	0	5	69	6	31	0	0	10	40	14	47	0	0	49.02%	0.491	0.261		
15	單選題	2	D	156	27	16	211	0	0	33	4	4	70	0	0	45	16	8	42	0	0	51.46%	0.505	0.252		
16	單選題	2	D	89	7	15	298	0	1	9	3	2	96	0	1	39	3	12	57	0	0	72.68%	0.689	0.351		
17	單選題	2	D	31	78	136	165	0	0	4	8	35	64	0	0	12	31	43	25	0	0	40.24%	0.401	0.351		
18	單選題	2	C	20	33	291	66	0	0	1	6	97	7	0	0	12	16	52	31	0	0	70.98%	0.671	0.405		
19	單選題	2	D	59	37	94	220	0	0	6	6	14	85	0	0	28	19	37	27	0	0	53.66%	0.505	0.523		
20	單選題	2	B	12	367	4	27	0	0	1	104	1	5	0	0	7	82	3	19	0	0	89.51%	0.838	0.198		
21	單選題	2	C	198	7	181	23	0	1	50	1	52	8	0	0	52	5	49	5	0	0	44.15%	0.455	0.027		
22	單選題	2	A	391	11	5	3	0	0	108	1	2	0	0	0	97	8	3	3	0	0	95.37%	0.923	0.099		
23	單選題	2	C	153	24	188	44	0	1	25	5	73	8	0	0	56	9	33	12	0	1	45.85%	0.477	0.360		
24	單選題	2	B	24	136	59	191	0	0	7	56	7	41	0	0	11	17	33	50	0	0	33.17%	0.329	0.351		
25	單選題	2	A	340	48	19	3	0	0	96	9	6	0	0	0	77	22	11	1	0	0	82.93%	0.779	0.171		
26	單選題	2	D	166	35	55	154	0	0	18	9	10	74	0	0	57	13	22	19	0	0	37.56%	0.419	0.495		
27	單選題	2	B	68	76	100	166	0	0	12	44	26	29	0	0	25	4	20	62	0	0	18.54%	0.216	0.360		
28	單選題	2	D	85	15	27	283	0	0	10	3	2	96	0	0	41	10	14	46	0	0	69.02%	0.640	0.450		
29	單選題	2	B	21	362	5	22	0	0	5	104	1	1	0	0	14	81	2	14	0	0	88.29%	0.833	0.207		
30	單選題	2	C	90	4	313	2	0	1	10	1	100	0	0	0	46	2	61	2	0	0	76.34%	0.725	0.351		
31	單選題	2	D	6	16	35	353	0	0	1	2	5	103	0	0	5	6	17	83	0	0	86.10%	0.838	0.180		
32	單選題	2	A	204	173	32	1	0	0	66	40	4	1	0	0	43	48	20	0	0	0	49.76%	0.491	0.207		
33	單選題	2	D	25	83	8	294	0	0	4	15	1	91	0	0	14	25	3	69	0	0	71.71%	0.721	0.198		
34	單選題	2	D	245	130	2	32	0	1	82	18	0	11	0	0	40	57	2	12	0	0	7.80%	0.104	-0.009		
35	單選題	2	A	347	41	11	11	0	0	99	8	3	1	0	0	78	19	5	9	0	0	84.63%	0.797	0.189		
36	單選題	2	D	30	11	46	322	0	1	7	3	6	95	0	0	17	7	23	64	0	0	78.54%	0.716	0.279		
37	單選題	2	A	355	12	29	15	0	0	109	1	1	0	0	0	79	6	17	9	0	0	86.34%	0.847	0.270		
38	單選題	2	B	17	110	183	103	1	0	4	38	44	25	0	0	5	25	52	32	1	0	26.59%	0.279	0.126		
39	多重選五	3	CE	326	61	322	153	383	0	66	11	97	42	102	0	101	23	66	46	100	0	10.49%	0.126	0.198		
40	多重選五	3	BE	49	319	214	138	308	0	10	95	50	27	91	0	26	69	71	52	70	0	24.15%	0.216	0.360		
41	多重選五	3	AE	233	145	210	151	269	1	61	21	33	24	85	1	70	68	79	57	59	0	15.37%	0.158	0.243		
42	多重選五	3	BE	327	275	105	146	361	2	83	83	19	23	101	0	85	70	44	63	90	2	6.59%	0.072	0.090		

選填題或五選項以上各題以 1(或A) 表示作答正確, 2(或B) 表示作答錯誤