

範圍：龍騰版 地理(四)第五章 ~ 第八章

注意事項：1. 試題共五十題，採電腦閱卷。

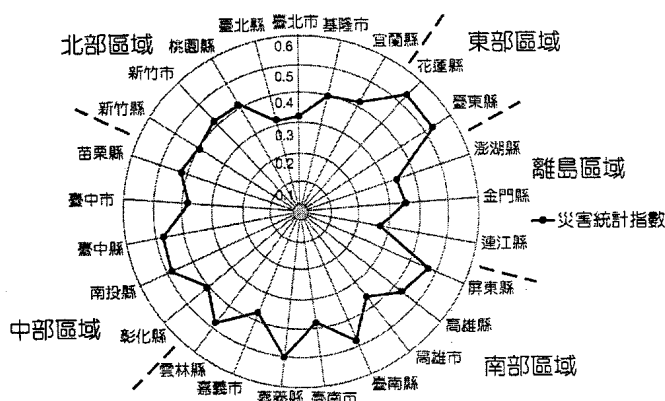
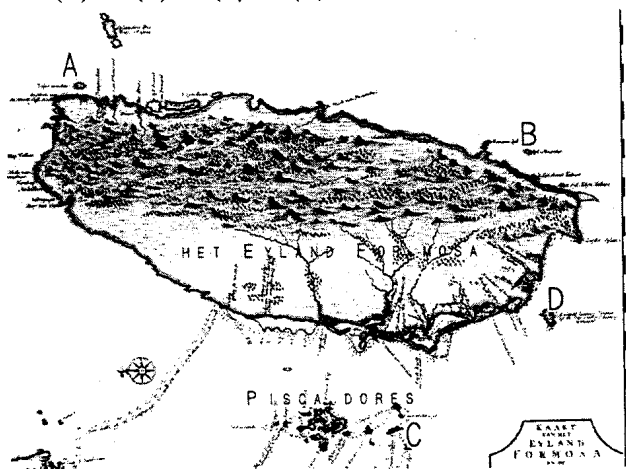
2. 請將個人資料正確劃記於答案卡表頭，若劃記不清者，將酌扣總成績五分

一、單一選擇題 (13 題 每題 2 分 共 26 分)

1、「金廈小三通」從早上 8 點到下午 5 點半，皆有船班通航，在船班表下有一備註：「適值進入秋冬季節，需配合季節天候海象適當調整時間，敬請密切注意航班異動資訊。」請問此季節的航班深受到下列何項因素的影響？(A)濃霧 (B)強風 (C)颱風 (D)沙塵暴。

2、聚陽實業成功創造上億營收，證實傳統產業的轉型可以憑藉哪些關鍵作法，以獲得全球競爭力？(甲)尋找最低交通成本；(乙)運用管理與核心技術；(丙)整合全球生產組織；(丁)壓低供應材料成本；(戊)以知識內涵提高附加價值。(A)甲乙丙 (B)乙丙丁 (C)乙丙戊 (D)丙丁戊。

3、左下圖為十七世紀所繪製之臺灣地圖，準確度頗高，且能指出當時的重要地理特徵。請問 A~D 四個島嶼中，何者成因與其他三者不同？(A)A (B)B (C)C (D)D。

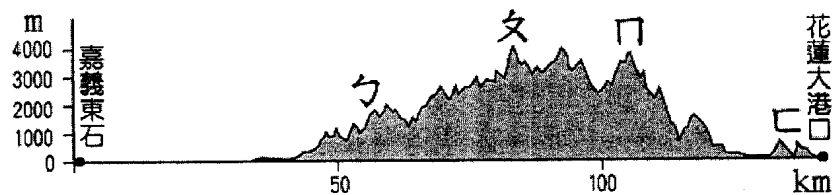


4、右上圖為某學者所繪製的臺灣各區域及縣市天然災害統計指數雷達圖，災害統計指數愈高者代表受災風險較高，以及人員、設施及財產等的損失程度愈高。請問臺灣哪個區域的平均災害統計指數最低？(A)北部區域 (B)中部區域 (C)南部區域 (D)離島區域。

5、右圖為桃園台地因應當地特有的自然條件而形成特殊的農業灌溉方式與景觀，請問此種灌溉方式的形成與下列哪二個自然環境條件有關？(甲)表層紅土不易透水；(乙)地表多為改向河；(丙)乾季較長，年雨量低於 1,500mm；(丁)地下水資源缺乏。正確的是：(A)甲丙 (B)甲乙 (C)甲丁 (D)乙丁。



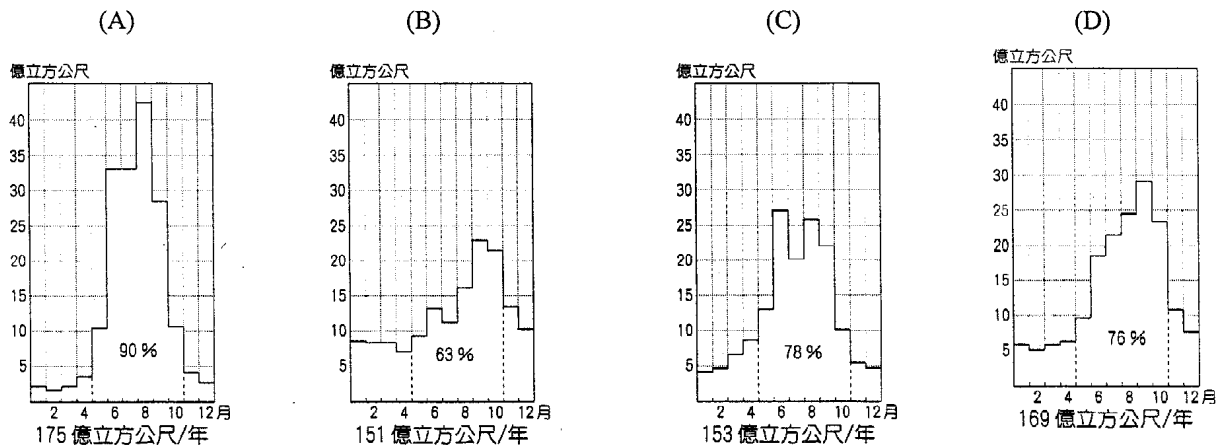
6、臺灣地區地勢起伏大，圖為臺灣沿北回歸線的地形剖面圖，北回歸線沿線經過了ㄅ、ㄆ、ㄇ、ㄊ四大山脈，請問有關四大山脈的敘述哪些正確？(甲)蘇花高速公路改善工程穿越ㄆ山脈；(乙)ㄇ、ㄊ山脈之間為歐亞板塊和印澳板塊的交界；(丙)恆春地區落山風的形成和ㄇ山脈有關；(丁)ㄊ山脈多為火成岩。(A)甲乙 (B)乙丙 (C)丙丁 (D)乙丁。



7、某志書記載：「平壠多栽稻，高崗半種茶，繞林沙岸遠，傍水竹籬斜，啼鳥巢深澗，乘籐窠落花，書聲聽隱隱，深處有人家。」請問上文最有可能出自哪一方志書？(A)淡水廳志 (B)臺東州採訪冊 (C)鳳山縣志 (D)澎湖廳志。

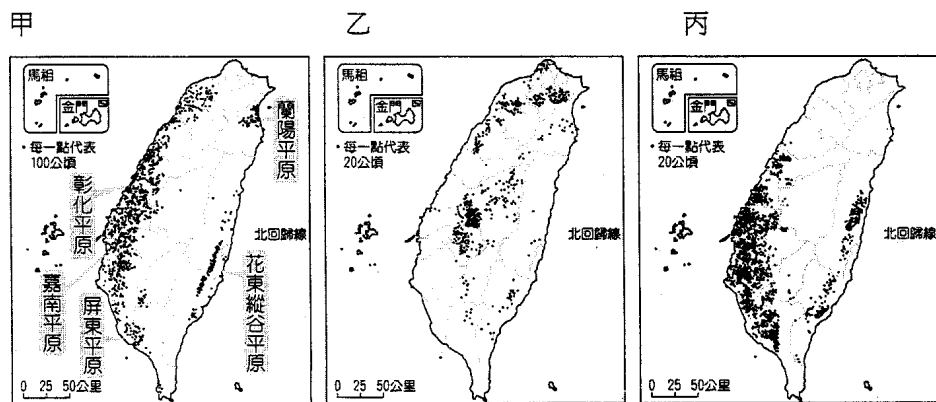
8、臺灣地區區域發展不均，從北部、中部、南部、東部依序遞減的數目「不包括」下列何者？(A)人口密度 (B)都市化程度 (C)平均每人擁有土地面積 (D)平均每人所得與平均國民生產毛額。

9、水利署著眼於「蓄豐濟枯」規劃高屏大湖蓄水，與高屏溪的水文條件有關。圖為四個地區的年逕流量與季節分配圖，哪一個與高屏溪的水文狀況最相似？



10、照片是臺灣某處正在進行農事的景色，此項農事雖然已經引進了機械採收設備，但由於採收過程中不能損傷，不然會降低品質，所以仍然相當依賴人工採收，請問照片中農作物的分布圖，應為下列哪一張地圖？

(A)甲 (B)乙 (C)丙。



11、臺灣地區都市地價昂貴，許多市民未經主管建築機關審查許可取得執照，即擅自在建築物頂樓違章加蓋，容易造成各種都市問題。舊社區的老舊公寓，較易出現加蓋違建，這種現象最能以下列哪種都市發展的概念來解釋？ (A)都市擴張 (B)社區營造 (C)鄰避現象 (D)土地使用分區。

12、2014 年臺灣婦女的生育率已降至 1.165，若此情形再持續下去，臺灣未來將可能出現下列哪些社會現象？(甲)人口教育水準逐年降低；(乙)失業率持續攀升；(丙)工作人口數將逐漸減少；(丁)壯年扶養負擔加重；(戊)工作退休年齡延後。 (A)甲乙丙 (B)乙丙丁 (C)甲乙丁 (D)丙丁戊。

13、下列哪一敘述可看出「臺灣對外貿易依存度高」？ (A)臺灣為世界第十六大出口國 (B)臺灣貿易總額佔 GDP 的 96% (C)臺灣工業產品占總出口額的 97.9% (D)2013 年臺灣對外貿易總額為 5,753.2 億元。

二、題組(37 題 每題 2 分 共 74 分)

*臺灣近七成的糧食須依靠進口，也讓國內糧食成本隨著國際原物料價格大幅波動。民間團體指出，若能把 30 萬公頃的休耕地，輔導種植國內其他所需的玉米、大豆等雜糧，更能強化糧食自給。學者表示，農業不只是單純的經濟行為，農田能提供氣候、水文等環境益處，因此環境補貼也是鼓勵農民維護生產環境。請問：

14、臺灣早期以農立國，農產多樣，耕作集約，主要與哪兩項因素有關？(甲)氣候；(乙)人口；(丙)地形；(丁)技術。 (A)甲乙 (B)乙丙 (C)丙丁 (D)甲丁。

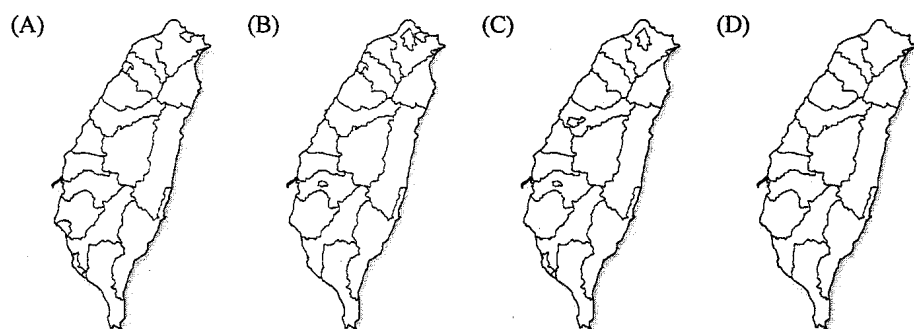
15、下列哪三項為臺灣近年糧食自給率偏低的原因？(甲)工業發展；(乙)都市擴張；(丙)人口增加迅速；(丁)農業產值偏低。 (A)甲乙丙 (B)甲乙丁 (C)甲丙丁 (D)乙丙丁。

16、「農業不只是單純的經濟行為，也能提供氣候、水文等環境益處。」以水田為例，復耕水田可提供哪些環境上的益處？(甲)減緩洪患；(乙)減輕地震威脅；(丙)地下水補注量增加；(丁)微氣候變化較為溫和。 (A)甲乙丙 (B)甲乙丁 (C)甲丙丁 (D)乙丙丁。

*表為 2014 年 12 月開始實施的六都行政區劃比較表，請問：

	甲	乙	丙	丁	戊	己
土地面積 (km ²)	2,053	272	2,192	2,215	2,952	1,221
總人口數 (人)	3,970,790	2,704,495	1,885,157	2,748,799	2,778,240	2,114,172
人口密度 (人/km ²)	1,934	9,943	860	1,241	941	1,732
出生率 (‰)	9.75	10.77	8.19	9.66	8.10	8.46
死亡率 (‰)	5.54	6.38	7.64	5.89	7.30	5.78
社會增加率 (‰)	-1.21	1.47	0.02	2.93	-1.12	4.29
性別比	96.9	92.1	100.4	98.1	99.1	100.7

- 17、表中哪一都市人口「最」接近封閉系統？(A)甲 (B)丙 (C)丁 (D)戊。
 18、表中何者為坐擁全台唯一「航空城」計劃的都市，也是最晚升格的直轄市？(A)乙 (B)丙 (C)丁 (D)己。
 19、表中何者為臺灣重化工業發展的重鎮，隨著產業的變遷，力圖轉型蛻變，利用港區的優勢，創造智慧物流的新時代。(A)甲 (B)丙 (C)丁 (D)戊。
 20、改制後的臺灣本島行政區域圖，哪一張的劃分才是正確的？



*「2013 臺南愛情城市七夕嘉年華」於 8 月 3 日在臺灣文學館後方廣場舉辦開幕式活動。臺南市文化局之前以四大特色月老廟行銷臺南為愛情城市，吸引無數遊客，2013 年文化局更以立業、結婚、生子、成年，規劃「人生四喜」活動，帶領市民及遊客走訪臺南各大廟宇。人生四喜以「立業」為起點開展，從立業角度看臺南著名的「四大五文昌」，「五文昌」即文昌帝君、關羽、呂洞賓、朱衣神君和魁星爺；戀愛「結婚」則走訪月老廟大顯神通；「生子」則尋求臨水夫人與註生娘娘庇佑；最後再感謝七娘媽看顧小孩長大「成年」，滿意一生。請問：

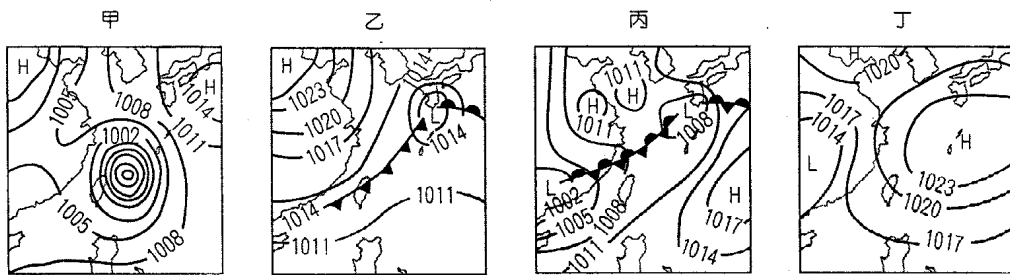
- 21、舉辦「七夕嘉年華」代表府城擁有豐富的文化資產，請問擁有豐富的文化資產，與下列哪二項因素關係較為密切？(甲)早期行政中心，帶動商業規模；(乙)寒、暖流交會，漁業發達；(丙)地形平坦，發展較不受限；(丁)海岸線曲折，適合建造良港。(A)甲丙 (B)甲丁 (C)乙丙 (D)乙丁。
 22、若依序想走訪「立業」、「結婚」、「生子」、「成年」主題的廟宇，下列哪一種行程符合此種的需求？(A)臨水夫人廟→孔廟魁星爺→永華宮月老→開隆宮七娘媽 (B)孔廟魁星爺→臨水夫人廟→開隆宮七娘媽→永華宮月老 (C)臨水夫人廟→開隆宮七娘媽→永華宮月老→孔廟魁星爺 (D)孔廟魁星爺→永華宮月老→臨水夫人廟→開隆宮七娘媽。
 23、主辦單位舉辦開幕式當天，最有可能遇到下列何種天氣型態？(A)梅雨鋒面過境，全天降下豪雨 (B)東北季風強勁，細雨綿綿 (C)早上晴朗，午後降下雷陣雨 (D)低壓籠罩，白天高溫晴朗。
 24、本活動所在的縣市，最可能是下列哪一個原住民族群的主要分布區域？(A)邵族 (B)排灣族 (C)噶瑪蘭族 (D)西拉雅族。

*南海位於西太平洋亞洲地區，鄰近東亞各國，為一陸緣海，其範圍內有超過 200 個無人居住的島嶼和礁岩，包括臺灣、中國大陸、日本、越南、菲律賓在內的多個東亞國家，皆因占有島嶼而宣稱在南海擁有部分主權，引發近日國際政局上諸多紛爭。請問：

- 25、依地緣性判斷，除上文提及的國家之外，下列哪些國家可能也參與南海紛爭？(甲)澳洲(乙)馬來西亞(丙)汶萊(丁)泰國(戊)印尼 (A)甲乙戊 (B)乙丙戊 (C)丙丁戊 (D)乙丁戊。
 26、除了航運價值之外，該地更因具有下列哪一項資源而使主權之爭更加劇烈？(A)漁業資源 (B)磷礦 (C)石油 (D)稀有金屬。
 27、「近日臺灣計畫於南海上的領土—太平島，興建燈塔及機場，除了須克服建材運送問題之外，因該地緯度低、幾無颱風侵襲，自然環境阻礙不大。」根據上述，太平島的氣候主要應受下列哪一個行星風帶影響？(A)赤道低壓帶 (B)東北信風帶 (C)東南信風帶 (D)副熱帶高壓帶。

*組圖為台灣常見的地面天氣圖，請問：

28、下組圖中何者描述的是古諺語：「一月寒死龜，二月寒死牛，三月寒死播田夫」的天氣狀況？(A)甲 (B)乙 (C)丙 (D)丁。



29、此時臺灣的盛產農產品為哪二項？(甲)芒果；(乙)草莓；(丙)柑橘；(丁)西瓜。(A)甲丙 (B)甲丁 (C)乙丙 (D)乙丁。

* 2014 年全年外銷訂單達 4,728 億餘美元，雖為歷年新高，接單金額年增 6.7%，實質出口額僅 3,054 億餘美元。出口和外銷接單落差，是因為「三角貿易」問題所引起。例如，總部在臺灣的企業，工廠在中國，客戶在美國，因此在臺接單，但是由中國出口至美國，使出口與外銷接單有落差；就主要接單地區別來看，東協六國全年接單達 544 億美元，不但金額創歷年新高，年增率 8.3%，也是成長率最高區域。請問：

30、從題幹可得知，我國去年「接單和出口落差」的原因是？ (A)歐債危機 (B)臺幣升值 (C)產業外移 (D)貿易逆差。

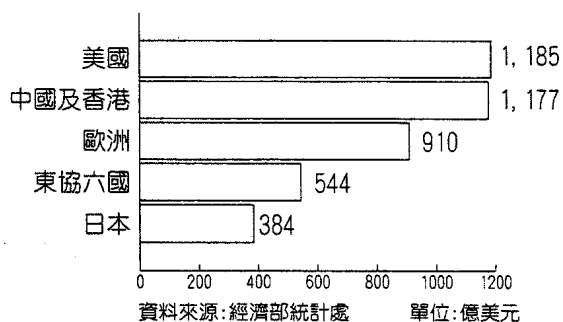
31、我國產業的「三角貿易」，主要發生在我國與哪二國（或地區）之間？

(A)中國、美國 (B)中國、日本 (C)美國、日本 (D)東協、中國。

32、由我國外銷主要接單的地區觀之，並考量當前國際局勢，應該加入下列

哪一國際組織，有助於推展台灣貿易，且較為可行？ (A)ASEAN (B)TPP (C)RECP (D)NAFTA。

2014年我國外銷主要接單地區



*臺灣毛豆外銷日本超過 40 年，曾創下日本市占率六成的佳績，但 1994 年起，臺灣毛豆銷日被中國超越。「毛豆先生」周國隆研發新品種（臺灣九號）並提出「毛豆大農場機械化生產」計畫，結合小農向台糖承租土地，成立「毛豆外銷生產專區」，豆農改採美式大農場經營，品質可全程監控，利用機械耕種、採收，每 100 公頃僅需 7 名人力。2008 年重新奪回冠軍，外銷專區為臺灣主要的產區，占毛豆生產面積 60%，毛豆農的努力也吸引加工廠到這裡設廠。請問：

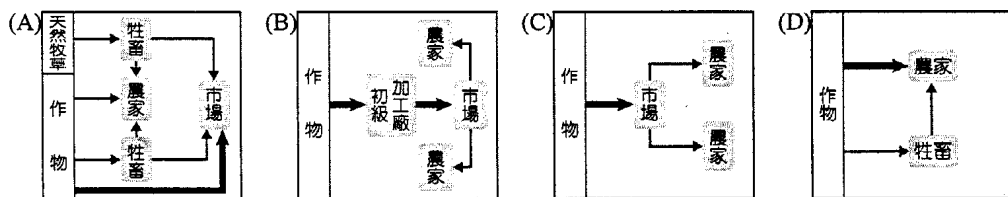
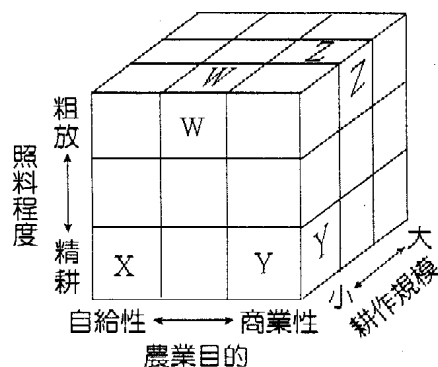
33、農業專業區設立時挑選作物的考量，應最符合以下哪一原則？ (A)商品圈 (B)交通革新 (C)比較利益 (D)全球競爭。

34、農業專業區的設立，可為農民或農業生產帶來哪些好處？(甲)利於推行基因改造作物，增加農產；(乙)易於建立品牌，管控品質；(丙)增加農業知識，經驗交流；(丁)貼近市場需求，增加農家收入；(戊)維護生物多樣性，農業永續發展。(A)甲乙丙 (B)甲丁戊 (C)乙丙丁 (D)乙丙戊。

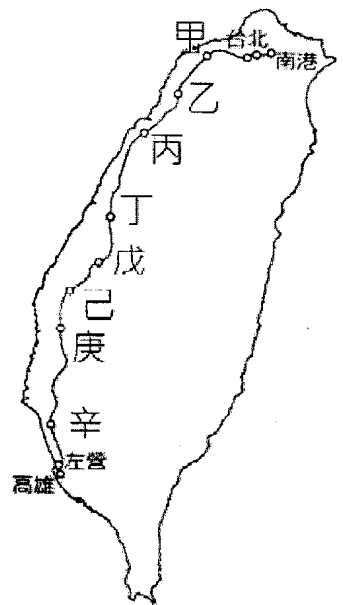
35、根據上文的敘述，周國隆先生農業經營的特徵最符合右圖中的哪一個代號？

(A)W (B)X (C)Y (D)Z。

36、貼近市場需求下列哪一農業活動流程圖與毛豆產業經營的特色最符合？



*高鐵「陷」沉 ~彰化、雲林地區因為地表水不足，每天只能提供 38 萬噸，導致超抽地下水嚴重，2011 年行政院「封井救高鐵」行動方案正式啟動，未來十年內將封閉雲彰地區一千多口深水井（井深在 100 公尺以上），使每年下陷量縮至三公分，才能確保高鐵的安全無虞。請問：



37、右圖為高鐵各車站路線圖，請問深陷地層下陷危機的路段為何？

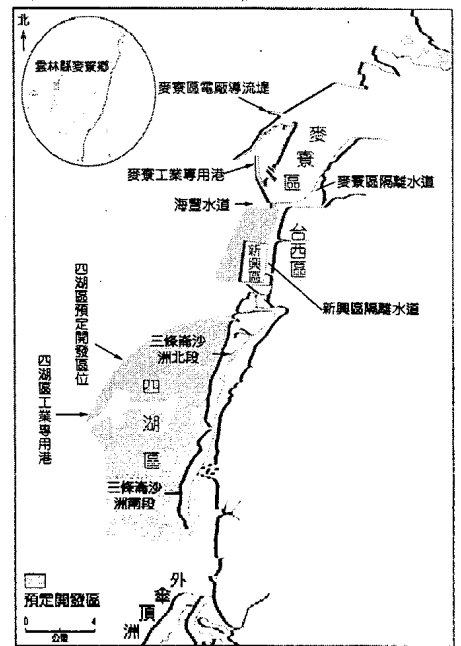
(A)丁~戊 (B)戊~己 (C)己~庚 (D)庚~辛。

38、彰化、雲林地區有豐富的地下水主要是因位於何種地形上？ (A)河階 (B)三角洲 (C)台地 (D)沖積扇。

39、雲彰地區地表水不足，與哪一項水文特徵關係最大？ (A)河流洪枯變化大 (B)河流汙染嚴重 (C)河流水量少 (D)河流長度短。

40、「為了減緩高鐵受地層下陷的威脅，政府將高鐵沿線三公里範圍內，井深達 100 公尺以上的深水井，列為優先封井的目標。」請問地理資訊系統的哪三項分析功能可以協助找出這些目標水井？(甲)地勢分析；(乙)屬性查詢；(丙)環域分析；(丁)疊圖分析；(戊)最佳路徑分析。 (A)甲乙丙 (B)甲丙丁 (C)乙丙丁 (D)丙丁戊。

*右圖為雲林離島式基礎工業區位置圖，目前開發參寮區的 2,679 公頃土地，定位為大型石化工業區。目前有台塑石化、麥寮汽電、台灣塑膠、南亞塑膠、臺灣化學纖維、台朔重工、南中石化、臺灣小松電子、臺灣旭彈性、長春石油化學、長春人造樹脂、大連化學工業、台朔光電、中塑油品、臺灣醋酸化學等公司聚集於此，大多是台塑集團的相關企業。請問：



41、圖中「三條崙」地名的由來與下列哪一地形有關？ (A)潟湖 (B)沙丘 (C)沙洲 (D)潮埔。

42、麥寮工業港的設立，將導致哪些後續效應？(甲)外傘頂洲面積日益縮小；(乙)蚵苗增加；(丙)附近空氣懸浮微粒增加；(丁)濁水溪南北兩側潮間泥灘地消失；(戊)台塑集團達成垂直整合的經營模式。 (A)甲乙丁 (B)甲丙丁 (C)乙丁戊 (D)甲丙戊。

*臺灣居民有原住民族、漢民族，並曾歷經外來民族的統治。不同文化的居民會留下不同意涵的地名，下列有十處地名：①羅東、②關山、③瑞穗、④豐原、⑤三貂角、⑥柳營、⑦漳州里、⑧高雄、⑨成功、⑩崙背。請問：

43、與原住民文化有關的地名有幾個？ (A)1 個 (B)3 個 (C)5 個 (D)8 個


44、若依外來移墾文化先後順序排列，哪一組地名的順序正確？ (A)⑥⑤③⑨ (B)⑤⑦⑨⑧ (C)③⑥②⑦ (D)⑥⑦④⑨

45、保留日式地名最多的縣市多在下列哪些縣市？ (A)臺南市、屏東縣 (B)新北市、臺中市 (C)宜蘭縣、桃園市 (D)臺東縣、花蓮縣

*下表為臺灣本島六座國家公園管理處的橫麥卡托投影二度分帶座標，右側組圖為國家公園標誌圖。請問：

	X 座標	Y 座標
A	234746	2634355
B	313167	2672604
C	163091	2543768
D	237676	2704896
E	305216	2783145
F	227404	2427884

(甲)



(乙)



(丙)



(丁)



46、南方四島國家公園成立後，將是臺灣第 9 座國家公園，也是第 2 座海洋國家公園。下列何者為海洋國家公園的標誌？

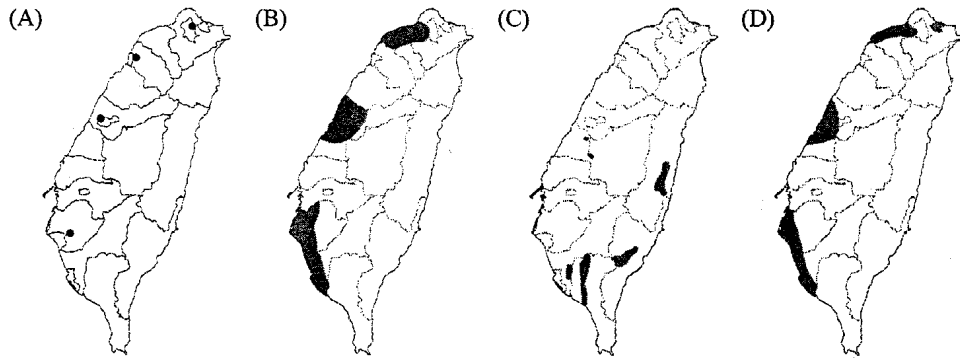
(A)甲 (B)乙 (C)丙 (D)丁。

47、甲、乙、丁三座國家公園管理處的座標位置分別為表中何者？(請注意先後順序) (A)FDC (B)BCD (C)CDF (D)CDB。

*臺灣地區在經過多次產業策略引導下，帶動經濟成長，不同時期工業類型的轉變，前後重疊而非相互取代。請問：

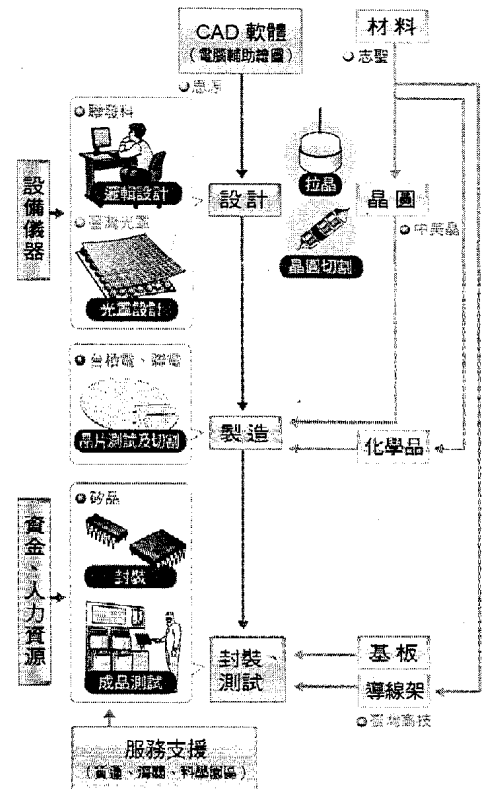
階段	農產加工	輕工業	重工業	高科技導向
主要發展時期	民國 40 年代	民國 50 年代	民國 60 年代	民國 70 年代
策略	出口擴張 第二次進口替代→產業升級			
區位特色	(甲)	(乙)	(丙)	(丁)

48、將臺灣產業結構與工業區位整理如上表，表中 (丙) 空格應放上哪一張圖？



49、《一個女工的故事》，以高雄加工出口區為背景，描述三個際遇不同的電子廠女工事業與愛情故事。請問片中電子工廠需要大量的勞力工作，反映當時臺灣作為國際代工基地的特色。下列關於此時代背景特色，哪兩項正確？(甲)國內市場小，資金和技術不足；(乙)實施單一匯率制度，新臺幣劇貶；(丙)美國資金援助，發展工業；(丁)國際石油危機，能源供應短缺；(戊)臺灣外交受挫，自行加工製造。(A)甲乙 (B)甲丙 (C)乙丁 (D)丁戊。

50、新竹科學工業園區，主要目的在於引進國外技術人才，帶動國內傳統產業轉型，激勵工業技術升級，其半導體產業(如右圖)更有全球難以複製的成功經驗。其創造出的經濟效應包括：(甲)產業群聚 (乙)工業慣性 (丙)規模經濟 (丁)垂直分工 (戊)水平分工 (己)垂直整合。(A)甲丁 (B)乙丙 (C)丙戊 (D)甲戊。



桃園市立平鎮高級中學 104 學年第 2 學期 月考二 二年級不限組別地理 IV [20160516200020101104] 全體考生 試題分析表

題號	題型	題分	標準答案	全體					549					高分組					148					低分組					全體答對率	難易指數	鑑別指數
				A	B	C	D	E	未	A	B	C	D	E	未	A	B	C	D	E	未	A	B	C	D	E	未				
1	單選題	2	B	190	218	58	83	0	0	45	74	14	15	0	0	59	44	25	20	0	0	39.71%	0.399	0.203							
2	單選題	2	C	36	81	419	13	0	0	2	19	125	2	0	0	20	23	101	4	0	0	76.32%	0.764	0.162							
3	單選題	2	D	20	23	72	434	0	0	2	5	13	128	0	0	10	10	32	96	0	0	79.05%	0.757	0.216							
4	單選題	2	D	122	3	9	415	0	0	24	1	1	122	0	0	49	2	2	95	0	0	75.59%	0.733	0.182							
5	單選題	2	C	24	67	387	71	0	0	3	17	117	11	0	0	14	14	89	31	0	0	70.49%	0.696	0.189							
6	單選題	2	C	31	139	352	27	0	0	2	24	118	4	0	0	22	57	55	14	0	0	64.12%	0.584	0.426							
7	單選題	2	A	222	70	256	1	0	0	57	18	73	0	0	0	61	17	70	0	0	0	40.44%	0.399	-0.027							
8	單選題	2	C	18	10	510	11	0	0	4	3	138	3	0	0	4	4	136	4	0	0	92.90%	0.926	0.014							
9	單選題	2	A	477	11	37	24	0	0	139	3	3	3	0	0	110	5	19	14	0	0	86.89%	0.841	0.196							
10	單選題	2	B	20	503	25	1	0	0	3	140	5	0	0	0	10	127	11	0	0	0	91.62%	0.902	0.088							
11	單選題	2	A	260	22	160	107	0	0	83	4	40	21	0	0	56	9	48	35	0	0	47.36%	0.470	0.182							
12	單選題	2	D	1	4	5	540	0	0	0	0	2	146	0	0	0	2	3	143	0	0	98.18%	0.976	0.020							
13	單選題	2	B	32	460	17	40	0	0	8	125	3	12	0	0	16	104	8	20	0	0	83.79%	0.774	0.142							
14	單選題	2	A	199	212	66	71	0	1	56	60	18	13	0	1	42	53	26	27	0	0	36.25%	0.331	0.095							
15	單選題	2	B	39	366	120	24	0	0	11	107	22	8	0	0	10	90	39	9	0	0	66.67%	0.666	0.115							
16	單選題	2	C	48	27	443	31	0	0	16	4	119	9	0	0	14	10	115	9	0	0	80.69%	0.791	0.027							
17	單選題	2	B	42	446	12	49	0	0	8	129	0	11	0	0	20	105	6	17	0	0	81.24%	0.791	0.162							
18	單選題	2	D	43	48	99	359	0	0	7	7	19	115	0	0	14	15	39	80	0	0	65.39%	0.659	0.236							
19	單選題	2	D	85	19	145	299	0	1	21	2	23	102	0	0	24	9	50	65	0	0	54.46%	0.564	0.250							
20	單選題	2	B	20	452	64	13	0	0	2	135	9	2	0	0	11	101	29	7	0	0	82.33%	0.797	0.230							
21	單選題	2	A	478	59	9	3	0	0	133	12	2	1	0	0	120	22	4	2	0	0	87.07%	0.855	0.088							
22	單選題	2	D	3	5	3	538	0	0	1	0	1	146	0	0	2	4	2	140	0	0	98.00%	0.966	0.041							
23	單選題	2	C	7	8	438	96	0	0	1	1	132	14	0	0	3	6	89	50	0	0	79.78%	0.747	0.291							
24	單選題	2	D	61	62	8	418	0	0	10	7	4	127	0	0	28	27	3	90	0	0	76.14%	0.733	0.250							
25	單選題	2	B	29	236	76	208	0	0	4	78	19	47	0	0	10	47	26	65	0	0	42.99%	0.422	0.209							
26	單選題	2	C	228	7	307	6	0	1	61	3	83	1	0	0	72	0	74	2	0	0	55.92%	0.530	0.061							
27	單選題	2	A	347	51	26	125	0	0	99	18	7	24	0	0	71	13	11	53	0	0	63.21%	0.574	0.189							
28	單選題	2	B	15	491	11	32	0	0	1	136	2	9	0	0	9	119	7	13	0	0	89.44%	0.861	0.115							
29	單選題	2	C	43	13	491	2	0	0	7	5	136	0	0	0	18	7	123	0	0	0	89.44%	0.875	0.088							
30	單選題	2	C	3	26	481	39	0	0	1	3	136	8	0	0	2	10	116	20	0	0	87.61%	0.851	0.135							
31	單選題	2	A	468	37	8	36	0	0	132	7	3	6	0	0	115	18	4	11	0	0	85.25%	0.834	0.115							
32	單選題	2	B	235	185	69	60	0	1	59	55	18	15	0	1	61	42	25	21	0	0	33.52%	0.324	0.095							
33	單選題	2	C	53	66	298	132	0	0	9	13	94	32	0	0	22	23	63	40	0	0	54.28%	0.530	0.209							
34	單選題	2	C	129	6	381	33	0	0	36	0	107	5	0	0	37	4	94	13	0	0	69.40%	0.679	0.088							
35	單選題	2	D	3	4	120	422	0	0	0	2	22	124	0	0	3	2	43	100	0	0	76.87%	0.757	0.162							
36	單選題	2	B	24	254	268	3	0	0	6	72	70	0	0	0	8	66	71	3	0	0	46.27%	0.466	0.041							
37	單選題	2	B	59	205	218	67	0	0	15	62	51	20	0	0	21	43	62	22	0	0	37.34%	0.355	0.128							
38	單選題	2	D	38	49	19	443	0	0	5	10	1	132	0	0	21	16	5	106	0	0	80.69%	0.804	0.176							
39	單選題	2	A	385	22	22	120	0	0	112	4	5	27	0	0	95	8	9	36	0	0	70.13%	0.699	0.115							
40	單選題	2	C	104	190	228	27	0	0	24	45	73	6	0	0	30	68	43	7	0	0	41.53%	0.392	0.203							
41	單選題	2	B	40	105	336	70	0	0	6	38	87	17	0	0	16	24	82	28	0	0	18.94%	0.206	0.101							
42	單選題	2	D	7	321	8	213	0	0	3	66	2	77	0	0	4	115	4	25	0	0	38.80%	0.345	0.351							
43	單選題	2	A	270	219	57	2	0	1	96	43	8	0	0	1	49	70	28	1	0	0	49.18%	0.490	0.318							
44	單選題	2	D	39	142	216	152	0	0	5	36	49	58	0	0	18	42	57	31	0	0	27.69%	0.301	0.182							
45	單選題	2	D	116	89	22	322	0	0	22	17	3	106	0	0	52	25	13	58	0	0	58.65%	0.554	0.324							
46	單選題	2	C	74	57	406	11	0	1	14	9	123	2	0	0	27	23	94	3	0	1	73.95%	0.733	0.196							
47	單選題	2	D	128	75	172	172	0	2	32	19	33	64	0	0	40	27	48	32	0	1	31.33%	0.324	0.216							
48	單選題	2	D	8	204	15	322	0	0	1	44	4	99	0	0	4	67	6	71	0	0	58.65%	0.574	0.189							
49	單選題	2	A	288	160	46	54	0	1	102	30	7	9	0	0	50	48	24	25	0	1	52.46%	0.514	0.351							
50	單選題	2	A	453	8	13	75	0	0	127	2	4	15	0	0	113	3	4	28	0	0	82.51%	0.811	0.095							

選填題或五選項以上各題以 1(或A) 表示作答正確, 2(或B) 表示作答錯誤