

桃園市立平鎮高中 104 學年度第二學期 高二歷史 期末考試題卷

適用班級：201-214

注意事項：基本資料劃記錯誤或不完整者，扣 5 分

試卷張數：共計 5 頁

填答方式：答案卡

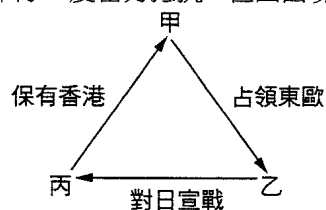
一、單選題：共 84 分；每題 2 分，答錯不倒扣

1. 某一美國總統的就職演說：「……並恪守我們的權力，不插手干預舊世界的命運。我們不願意捲入紛爭。因此，對於每一事件，除非我們的良知和判斷容許，否則絕不承擔任何責任。」請問：這篇演說辭反映美國何種外交政策？
(A) 第二次世界大戰後美國的「杜魯門主義」 (B) 戰間期美國的「孤立主義」 (C) 第一次世界大戰時威爾遜的「十四點和平計畫」 (D) 後冷戰時期美國對恐怖主義開戰
2. 在面對全球經濟危機期間，以公共事業與統制經濟等方法，解決失業問題，並強調國家的利益比個人的人權優先，這可能是何國所採取的措施？ (A) 德國 (B) 日本 (C) 美國 (D) 英國
3. 以下是美蘇某一衝突發生經過的紀錄：

10 月 15 日	美國對甲國進行空中偵察確認飛彈的存在
10 月 21 日	美國決定進行封港
10 月 22 日	美國軍隊進入警備狀態，總統在電視演講宣布從 24 日開始封鎖甲國，並要求蘇聯撤出飛彈
10 月 23 日	◆蘇聯領導者宣布不接受封鎖，但保證飛彈是防禦性的 ◆美洲國家組織投票同意封鎖甲國
10 月 25 日	美蘇代表在聯合國安理會上爭辯
10 月 28 日	美蘇談判成功，蘇聯公開宣布撤回甲國飛彈，美國同意不入侵甲國，並秘密撤回土耳其和義大利飛彈，危機結束

根據上面的紀錄，我們可以推知 (A) 這是發生在 1973 年的事件 (B) 文中可推知當時甲國的掌權者佛朗哥 (C) 紀錄中的美蘇代表分別是尼克森與赫魯雪夫 (D) 此事件的結果導致美蘇領袖建立熱線

4. 有一評論描述某時期的經濟情形：「歐洲各國當局，篤信放任經濟學說，認為繁榮與衰退兩種現象，均係經濟發展過程中之自然循環，假以時日，必上正軌。因此僅作應急性及自私性的局部調整，未能以寬闊之胸襟從事於全盤長程之改革。殊不知上述繁榮景氣現象，只是海市蜃樓，為日無多，即歸幻滅。繼之而來者，則為波濤洶湧的經濟危機，臨危再圖匡救，自感心餘力絀了。」關於上文，下列解讀何者正確？ (A) 放任經濟學說屬於重商主義的經濟一環 (B) 此為評論第一次大戰結束至二十年代中期之間的經濟情勢 (C) 此為評論第二次大戰結束至五十年代中期之間的經濟情勢 (D) 馬歇爾計畫成功解決了「繼之而來者，則為波濤洶湧的經濟危機」
5. 「新政」實施期間，有自由派人士批評羅斯福走上「左傾」、「偏紅」的路線，其原因主要為何？ (A) 羅斯福的政策干預市場經濟 (B) 羅斯福和蘇聯建立外交關係 (C) 羅斯福施政藐視國會的功能，走向愈來愈激進的路線 (D) 羅斯福的政策明顯偏向維護工、農的權益
6. 二十世紀前期，歐洲某國在復國二十年後，再度受到東西邊境兩大強國的夾攻。此國軍隊一度奮力抵抗，但因西境強敵推進速度極快，導致軍隊被圍殲，國土再遭被瓜分命運。請問：這個國家最有可能是下列何國？ (A) 捷克 (B) 波蘭 (C) 匈牙利 (D) 比利時
7. 第二次世界大戰中，甲國支持乙國占領東歐；乙國應丙國要求，對日本宣戰；丙國則同意甲國繼續保有香港。甲、乙、丙各是哪個國家？ (A) 甲：英國；乙：蘇聯；丙：美國 (B) 甲：英國；乙：美國；丙：蘇聯 (C) 甲：美國；乙：蘇聯；丙：英國 (D) 甲：美國；乙：英國；丙：中國
8. 1920 年代，希特勒在獄中完成《我的奮鬥》，其中觀點有：甲、倡導國家至上的觀念；乙、為了實現民族統一主義，應該將德、奧兩國合併；丙、歐美的議會制度有其優點，德國應落實民主政治；丁、馬克思主義是危險的思想，蘇聯是德國的敵人。其中可能的觀點是 (A) 甲乙丙 (B) 甲乙丁 (C) 甲丙丁 (D) 乙丙丁
9. 某位史家比較近代史上兩種政治經濟制度，指出：「『乙主義』可算是因著『甲主義』而產生的一種變態。『甲主義』提倡各種經濟因素公平而自由的交換，是以個人的私利觀作主宰。『乙主義』則從專制體制出發，以政治力量強迫



將民間經濟組成集團，干預所有權與雇傭的關係。」在上文中，「甲主義」、「乙主義」分別是指？ (A)封建主義、資本主義 (B)共產主義、新保守主義 (C)法西斯主義、共產主義 (D)資本主義、法西斯主義

10. 二戰期間，某書載：「……教堂裡正舉行聖餐禮，他們跪下祈禱希特勒末日的早日來臨，並祈禱馳騁沙場的教友子弟都能夠平安歸來。此時，一陣轟隆聲響起，教堂被空中掉下來的炸彈擊中，信徒全數喪生……」。請問：此場景應發生在下列何時何地較佳？ (A)1938 年的巴黎 (B)1939 年的維也納 (C)1940 年的倫敦 (D)1941 年的紐約
11. 這是小華在寫歷史報告時所使用的一段史料：「帝國之所以向美、英兩國宣戰，實亦為希求帝國之自存於東亞之安定而出此，至如排斥他國之主權，侵犯他國之領土，固非朕之本志。然交戰已閱四載，雖陸海將兵勇敢善戰，百官有司勵精圖治，各盡所能，而戰局並未好轉，世界大勢亦不利於我。加之，敵方最近使用殘虐之炸彈（核武器），頻殺無辜，慘害所及，實難逆料，如仍繼續作戰，則不僅導致我民族之滅亡，並將破壞人類之文明。如此，則朕將何以保全億兆赤子，陳謝於皇祖皇宗之神靈乎？此朕所以飭帝國政府接受聯合公告者也。」由這份史料，我們可以判斷出 (A)這是在 1941 年日本天皇所提出的終戰詔書 (B)文中的「朕」指的是明治天皇 (C)文中天皇將戰爭的罪責歸咎於自己身上 (D)這也是太平洋戰爭結束的宣告
12. 二戰後期，一份俄國電報向盟國求援，上載：「……現在敵軍對我猛攻，第一戰場已經抵擋不易，希望友軍能另起「大君主行動」，以紓緩當下危急之戰況……」。根據所學，試問上述軍事術語「大君主行動」應是指哪個軍事行動？ (A)英法盡速解救波蘭 (B)解除列寧格勒包圍戰 (C)敦克爾克大撤退 (D)諾曼地登陸
13. 以下是國際聯盟與聯合國的比較，請找出錯誤地方

組織名稱	國際聯盟	聯合國
(A)創立時間	1920 年	1945 年
(B)提倡者	美國總統羅斯福	美國總統威爾遜
(C)武力	沒有武力，約束力不強	有維和部隊，約束力較強
(D)參與國	美、蘇等強國未加入，雖有日、德等軍事強國加入，但日後退出	所有軍事強國一開始就加入，加入後很少有退出的國家

14. 美國在冷戰初期仍然獨占原子（核子）武器的優勢，曾經以「盾與劍」為其戰略構想，即某組織的軍隊作為掩護的「盾」，核子武器可作為直搗蘇聯心臟的「劍」。請問：美國的「盾」是指何組織？而蘇聯為反制此「盾」，又有何組織出現？ (A)北大西洋公約組織 — 華沙公約組織 (B)美洲國家組織 — 歐洲聯盟 (C)聯合國 — 第三國際 (D)西歐聯盟 — 華沙公約組織
15. 1960 年間美、蘇、英庫存的原子武器和核子武器，具有殺死二千四百億人的力量，換句話說，假如當時此三國因衝突而爆發戰爭，只要彼此動用其庫存原子武器與核子武器的八十分之一，就可將當時整個世界三十多億人口全部消滅。請問：此現象說明了什麼？ (A)冷戰結束 (B)強權國家的恐怖平衡 (C)此起彼落的太空競賽 (D)區域整合開始
16. 一位評論家在看到某件新聞報導時說道：「世界性的意識型態鬥爭不再存在，代之而起的將是經濟流通、無止境地解決技術問題、環境問題，以及品味微妙的消費者需求之滿足。」請據此判斷這則新聞的主題為何？ (A)希特勒政權的瓦解 (B)東歐共產體制及蘇聯的解體 (C)二次大戰後美蘇的冷戰 (D)文化大革命的結束
17. 請閱讀以下兩則資料：
 資料一：蘇聯：「我們想盡一切辦法讓同盟國軍隊自動退出，因為覺得他們礙眼。最後我們決定要讓他們在這個地方的日子過不下去，迫使其知難而退。」隨後切斷電力，封鎖公路。
 資料二：幾年前對此地空襲的飛行員，現在重新回到該地上空，只是這次是要給當地市民提供食物。
 根據這兩段資料，判斷應是指下列何事？ (A)侵略中國東北 (B)第一次世界大戰 (C)第二次世界大戰 (D)柏林危機
18. 歷史學者斯塔夫里阿諾斯 (L. S. Stavrianos) 指出：「十九世紀以後，歐洲諸少數民族贏得獨立需要整整一個世紀，而歐洲海外殖民地，雖然二十世紀時在許多方面落後於歐洲人，但獲得自由只需半個世紀。」造成上述非歐洲地區反殖民運動快速發展的原因，下列敘述何者正確？ (A)蘇聯推動世界革命 (B)歐洲走向衰落 (C)亞洲工業革命的成功 (D)歐洲強國皆尊重「民族自決」原則
19. 在美蘇冷戰對峙期間，導致某些國家一分為二，形成民主與共產兩種政治體制的分裂國家，這些國家出現的先後次序為何？ (A)南北韓、東西德、南北越 (B)南北韓、南北越、東西德 (C)東西德、南北韓、南北越 (D)東西德、南北越、南北韓
20. 以下是某位領導人的演講片段：「我們必須肩負起世界警察的角色，必須領導自由世界，防止共產主義滲入，因此

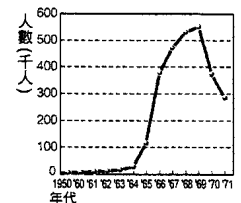
要致力發展軍備，積極支援他國避免被赤化。」從演講內容推測，這最可能是哪一個領導人的理念？ (A)邱吉爾 (B)羅斯福 (C)杜魯門 (D)張伯倫

21. 以下是美國在某政策下對於歐洲各國的援助金額：

國家	總額 (億美元)	國家	總額 (億美元)
奧地利	04.88	義大利	12.04
比利時與盧森堡	07.77	荷蘭	11.28
丹麥	03.85	挪威	03.72
法國	22.96	葡萄牙	0.7
西德	14.48	瑞典	03.47
希臘	03.66	瑞士	2.5
冰島	00.43	土耳其	01.37
愛爾蘭	01.33	英國	32.97

根據附表，我們可以推知 (A)這是北大西洋公約組織下的軍事援助 (B)這是羅斯福睦鄰政策中所規劃援助的國家 (C)這是華沙公約組織底下的資金運用概況 (D)這是馬歇爾計劃下援助款項的情況

22. 1970 年代末期，受到經濟蕭條的影響，西方許多「福利國家」因不堪財政負荷，加上政府機構的膨脹，引發大量社會問題，這些國家於是採新保守主義政策。有關此政策，下列敘述何者為非？ (A)採國家統制經濟的保守手段，反對自由放任的市場經濟模式 (B)對外採強勢作風，積極介入國際事務 (C)深信唯有實力才能擁有和平 (D)崇奉此信念者為美國總統雷根與英國首相柴契爾夫人
23. 由「馬歇爾計畫」、「北大西洋公約組織 (NATO)」、「美國在日本行經濟改革」、「美日安保條約」、「美國對臺經濟援助」、「中美共同防禦條約」等關鍵字可說明哪一歷史現象？ (A)美國獨霸局面的形成 (B)英國邱吉爾提倡歐洲統合 (C)美國對蘇聯共產陣營的反制 (D)聯合國在維持世界和平上有極大成就
24. 二戰後，許多殖民地尋求獨立時，往往遭其殖民母國阻撓。下列何國獨立，曾與原殖民國發生過激烈的武裝衝突？ (A)印度 (B)越南 (C)埃及 (D)緬甸
25. 以下是對二十世紀某政治人物的發言：「解救我們民族的辦法在於忘掉我們在這五十年來所學到的東西，鐵路、電報、醫院、律師、醫師等諸如此類的東西全得廢除，所謂的上層階級必須自覺地、虔誠地、慎重地了解簡樸的農民生活，懂得這是一種給人真正幸福的生活。」這位政治人物是 (A)金恩 (B)杜魯門 (C)赫魯雪夫 (D)甘地
26. 以下有關「第三世界」的論述，何者錯誤？ (A)在冷戰期間，第三世界國家的外交立場是親美、反共 (B)在第三世界國家主要分布在亞洲、非洲及拉丁美洲 (C)經常利用聯合國發揮政治影響力 (D)第三世界國家大多是經濟貧困、政治動盪不安的地區
27. 1972 年慕尼黑奧運發生十一名運動員遭槍殺事件，事件主導者巴勒斯坦解放組織在事發後發表言論：「就像在山頂上畫出巴勒斯坦的名字，而且從地球的四個角落都看得到。」這些遇害運動員的國籍應是 (A)蘇聯 (B)以色列 (C)黎巴嫩 (D)伊拉克
28. 當印度展開獨立運動之後，出現了兩個重要的政黨組織：國大黨的領導人為甘地及尼赫魯；而穆斯林聯盟領導人則為真納。1946 年 2 月 18 日，皇家印度海軍的印度船員在孟買罷工、兵變，傳至各地。英國立刻派遣內閣特使團前來談判，其主要內容在協商兩黨之間的矛盾，以便日後政權的移交。隨後，英國任命蒙巴頓子爵為印度總督，蒙巴頓提出相關建議，獲得兩黨及英國政府的支持，影響往後印度局勢的發展。請問：這應是什麼樣的建議？ (A)印度應統合為一，兩黨彼此合作不再有爭端 (B)印度應實行分治，分成兩個政治實體 (C)政黨應該結合，印度教與穆斯林之間不再對立 (D)宗教不該介入黨爭，應抽離政黨讓其回歸理性
29. 右圖顯示美國在某國駐軍數量的升降，其轉捩點為 1969 年，這是美國總統 在任期間 (1969-1974)，為履行競選諾言，開始大量從某國撤出軍隊，以減少軍民生命及國家財政的長期損耗。為達此目的，展開與蘇聯、中共之間的和談，甚至不惜犧牲在臺灣的中華民國的利益。請問：(1)這位美國總統是誰？ (A)杜魯門 (B)甘迺迪 (C)詹森 (D)尼克森
30. 如果說民族主義「製造」了國家，那最多國家誕生的年代應該就是民族主義最盛行的年代。依上述標準，下列哪一時代是民族主義的高峰期？ (A)一次大戰結束後 (B)經濟大恐慌後 (C)二次大戰結束後 (D)冷戰結束後
31. 「這一思潮的主要特徵在於認為以往的哲學偏重於外界客觀規律的理性研究，忽略了人的情感、意志、體驗和自由等主觀心理因素，因此要將重點轉到人生的意義、價值及人的自由等問題上。例如其代表人物之一就認為，人在選擇和行動的過程中必須為自己的一切行為負責，上帝和任何外在因素都不能代替人做出選擇，人生的意義就體現在

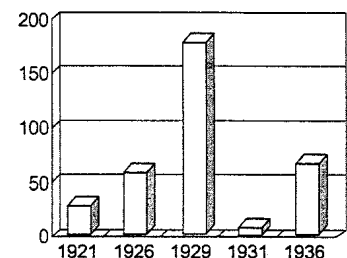


個人不斷的自由選擇和行動中。」由上述內容可知這一思潮是流行於何時的何種思想？ (A)十九世紀的浪漫主義 (B)十九世紀的寫實主義 (C)二十世紀的後現代主義 (D)二十世紀的存在主義

32. 自地理大發現以來，西方世界的思想與價值觀透過武力征服與拓殖的行動逐漸籠罩全球，但自二十世紀開始，由於兩次世界大戰的破壞，使這種時代逐步走向結束，同時亞、非等地在脫離殖民地地位之後的獨立自主發展路線，使我們現今處於一個多元文化彼此互動、競爭、共存並且互相包容的時代。而在此種時代特性下，相應而生的史觀，在性別、種族、階級或信仰等方面，較能從多元的角度去論述。這是何種史學思想？ (A)進步史觀 (B)循環史觀 (C)唯物史觀 (D)後現代主義
33. 二次大戰後，資本主義國家的藝術發展，雖然藝術家仍重視自我風格的表現，但藝術家、作品與觀賞者間互動密切，如普普藝術創作主題多是人們熟悉的人、物，反映了資本主義對藝術的影響。有關普普藝術的特色，以下敘述何者正確？ (A)強調個人與社會疏離感 (B)復興啟蒙運動以來的理性傳統 (C)歌頌領導者偉大的題材盛行 (D)表現大眾社會裡的物質生活
34. 以下有三則資料：
- 資料一：要使歐洲國家統一起來，必須結束德、法間長達百年之久的衝突……把德、法的全部煤鋼生產置於一個其他歐洲國家都可參加的高級聯營機構的管制之下。
- 資料二：第三條……共同體的活動包括：(1)各成員國間取消商品進、出口的關稅和定量限制，及具有同等影響的一切其他措施；(2)建立對待第三方國家的共同關稅率及共同貿易政策；(3)各成員國間，廢除組織、人員、勞務和資本自由流動的各種障礙。
- 資料三：西歐……是美國強有力的競爭對手——他們正在與我們競爭。在經濟領導的問題上，他們在全世界同我們競爭得非常激烈……同我們在第二次世界大戰結束的時候相比，美國遇到了我們甚至連做夢也沒有想到的那種挑戰。請從上述三段資料判斷這是指哪個組織？ (A)OPEC (B)WTO (C)EU (D)APEC
35. 一位年輕旅行者敘述自己的生活經驗：「小時候，每天可以看到馬克思與列寧的銅像，後來銅像拆了，國歌換了。原本哪裡都不可以去，現在可以在世界各地旅行。倒是最近又換了一種錢，還不太適應……」這位年輕旅行者的祖國應該是？ (A)東德 (B)古巴 (C)北韓 (D)越南
36. 柏林圍牆始建於 1961 年，一開始是鐵絲網，後來被改建為水泥牆。1987 年 6 月，美國總統□在柏林圍牆的布蘭登堡門前發表演說。內容提到呼籲蘇聯○拆除柏林圍牆。1989 年柏林圍牆終於被推倒。請問：這裡的□與○是哪兩位政治人人物？ (A)雷根；葉爾欽 (B)甘迺迪；赫魯雪夫 (C)柯林頓；葉爾欽 (D)雷根；戈巴契夫
37. 某著作討論了 T 恤的生產和銷售過程：「一開始，由美國的農民生產棉花，然後棉花被運到中國，由血汗工廠裡的廉價勞工製成各種 T 恤，這些 T 恤再回到美國銷售，之後有人會將舊 T 恤捐給慈善團體，它們將挑選後的 T 恤賣給二手衣公司，這些公司將二手 T 恤處理後送到非洲，提供非洲人廉價的衣物，也影響了當地的一些工作。」請問：這本書討論的主題應該是 (A)南北對抗的形成 (B)全球化的問題 (C)後冷戰時期的競爭 (D)經濟合作組織的形成
38. 有一個國際組織，會員國總人口占世界人口 8%，組織內人民以天主教、伊斯蘭教及佛教為主要宗教，經濟活重多元，主要產品有木柴、石油及電子產品。這是指哪一個組織？ (A)歐洲聯盟 (B)非洲團結組織 (C)東南亞國協 (D)石油輸出國家組織

*題組：附圖為美國 1920-1937 年的股價統計表，請根據圖表回答下列相關問題：

39. 1929-1931 年間股價快速下滑，此危機是哪一種經濟體制所造成的現象？ (A)自由主義 (B)保守主義 (C)浪漫主義 (D)社會主義
40. 承上題，在此階段的危機中，較不受影響的是哪一個國家？ (A)英國 (B)德國 (C)蘇聯 (D)義大利



*題組：附圖甲、乙、丙、丁四區為 1950 年代某國被分區占領的情況，1949 年東西兩邊個別成立兩個政府，至 1991 年才合併統一成一個國家。請問：



41. 此國被分區占領是基於哪一個會議決定？ (A)德黑蘭會議 (B)開羅會議 (C)雅爾達會議 (D)波茨坦會議
42. 承上題，此國至 1990 年才合併統一成一個國家，其長期分裂與下列哪一國際形勢關係最密切？ (A)冷戰 (B)戰後賠款鉅大 (C)東歐戰後移民大量湧入 (D)工業資源成為各國覬覦的目標

二、多選題：共 16 分；每題 2 分，答錯倒扣 1/5 題分

43. 經濟大恐慌帶給當代世界的影響為何？ (A)美國向歐洲各國伸出援手，是為歐洲復興計劃 (B)很少人再高談經濟活動僅受自然律指導的論調 (C)促使義大利獨裁政權崛起 (D)人民不再信任政府、導致政府的權利縮小 (E)使左派聲勢較先前更為興起
44. 自第一次世界大戰結束到第二次世界大戰爆發之間的二十年，常被稱為「休兵的二十年」，史家稱作「戰間期」。如果你要編一部《二十世紀大事紀要》，在述及戰間期時，下列哪些大事應予以列入？ (A)美國國會拒絕批准《凡爾賽和約》 (B)德國威瑪共和政權的結束 (C)英國盛行孤立主義 (D)日本扶植滿洲國 (E)美國華爾街股市大崩盤，蘇聯經濟亦遭受重創
45. 下列有關於兩位法西斯主義者的比較，正確者有？

	希特勒	墨索里尼
(A)取得政權	1922 年	1933 年
(B)方式	合法選擇	脅迫奪權
(C)口號	撕毀《凡爾賽和約》	恢復古羅馬的光榮
(D)執政前的國家政權	民主共和	君主立憲
(E)對和平的破壞	併吞奧地利	侵略衣索比亞

46. 資料一：「邱吉爾說：『德國獨裁者沒有從飯桌上抓取食物，卻要人一道一道菜伺候——這就是首相（張伯倫）為捷克所獲得的一切。』」資料二：「張伯倫和達拉第（法國總理）被熱情的群眾包圍喚為『和平使者』。」資料三：「張伯倫宣布：『我認為這是我們這個時代的和平。』」這些資料反映了哪些訊息？ (A)資料顯示的背景應該是慕尼黑會議之後 (B)邱吉爾和張伯倫顯然不滿意希特勒的貪婪，對於結果是認同的 (C)希特勒非常滿意這次的收穫，從此專心致力於國內的建設 (D)從這些資料可以看出，當時英、法人民厭戰渴望和平的心理 (E)從歷史發展中可以看出，慕尼黑會議顯然是不尊重民族自決的要求的
47. 1950 年爆發韓戰，美國投入大量的人力與物力，激烈的戰況不但導致美軍數萬人陣亡，甚至也影響中華民國與中華人民共和國兩岸的情勢。請問：臺灣與亞洲國家的發展中，哪些敘述與韓戰有關？ (A)中華民國政府撤退來臺 (B)臺灣的戰略地位提升 (C)美國與中華人民共和國的外交關係邁向正常化 (D)中華民國與中華人民共和國因為韓戰進入政治對峙時期 (E)美國推動舊金山和約(對日和約)的簽訂
48. 當代世界進步快速，請問我們所面臨的問題會有哪些？ (A)各國人口持續增加問題 (B)世界各地貧富差距的問題 (C)生態環境汙染的問題 (D)宗教與文化間的衝突 (E)社會及族(人)群間的疏離問題
49. 「自由主義慣以反共來合法化他們的行為。這種反共的意識形態不過是要掩飾他們的現狀。因此他們將我們進入其他國家，不說是威逼而說是保護……這和中世紀的異教徒殺死病人如出一轍。」根據上述內容，下列敘述何者正確？ (A)這可能發生在冷戰時期 (B)「進入其他國家」是指出兵越南 (C)這是毛澤東參加韓戰的言論 (D)以上評論可能是希特勒的言論 (E)以上評論可能出自學生運動領袖
50. 報紙上報導「福特汽車集團併購瑞典富豪汽車」、「德國 BMW 汽車併購英國路華汽車」、「臺灣某電腦公司和美國某電腦公司策略聯盟」、「日本某家企業和美國某企業集團宣布合作」、「日本兩大銀行宣布合併」等消息，讓我們可以看出目前全世界經濟已經走向怎樣的情況？ (A)經濟全球化，國際間財富為跨國公司或集團所壟斷 (B)全球市場走上單一化，資本主義經濟為統制經濟所取代 (C)富國和窮國之間進行經濟合作，貧富差距逐漸縮小 (D)經濟逐漸專業化，各國經濟發展的差異性消除，逐漸走向一致性 (E)1990 年代共產主義瓦解後，更凸顯資本主義的特色

桃園市立平鎮高級中學 104學年第2學期 期末考 二年級不限組別歷史IV[20160627200050101074] 全體考生 試題分析表

題號	題型	題分	標準答案	全體					552					高分組					149					全體答 對率	難易 指數	鑑別 指數
				A	B	C	D	E	未	A	B	C	D	E	未	A	B	C	D	E	未					
1	單選題	2	B	8	537	5	2	0	0	1	147	1	0	0	0	4	141	3	1	0	0	97.28%	0.966	0.040		
2	單選題	2	A	340	10	191	11	0	0	120	2	27	0	0	0	68	6	68	7	0	0	61.59%	0.631	0.349		
3	單選題	2	D	91	27	52	382	0	0	20	5	11	113	0	0	40	14	28	67	0	0	69.20%	0.604	0.309		
4	單選題	2	B	69	359	57	67	0	0	23	107	10	9	0	0	15	82	21	31	0	0	65.04%	0.634	0.168		
5	單選題	2	A	399	20	11	122	0	0	116	1	3	29	0	0	89	12	5	43	0	0	72.28%	0.688	0.181		
6	單選題	2	B	79	389	35	49	0	0	18	117	4	10	0	0	23	95	12	19	0	0	70.47%	0.711	0.148		
7	單選題	2	A	464	61	22	5	0	0	130	13	5	1	0	0	111	28	6	4	0	0	84.06%	0.809	0.128		
8	單選題	2	B	29	504	12	7	0	0	5	139	4	1	0	0	11	126	8	4	0	0	91.30%	0.889	0.087		
9	單選題	2	D	1	21	91	439	0	0	0	2	14	133	0	0	0	8	38	103	0	0	79.53%	0.792	0.201		
10	單選題	2	C	89	56	399	8	0	0	15	5	126	3	0	0	47	29	70	3	0	0	72.28%	0.658	0.376		
11	單選題	2	D	68	66	8	409	0	1	12	14	0	123	0	0	30	19	1	99	0	0	74.09%	0.745	0.161		
12	單選題	2	D	21	59	68	404	0	0	3	15	5	126	0	0	10	17	35	87	0	0	73.19%	0.715	0.262		
13	單選題	2	B	18	495	3	36	0	0	1	143	1	4	0	0	10	117	1	21	0	0	89.67%	0.872	0.174		
14	單選題	2	A	526	5	15	6	0	0	145	2	1	1	0	0	134	2	10	3	0	0	95.29%	0.936	0.074		
15	單選題	2	B	6	497	39	10	0	0	4	138	7	0	0	0	126	16	7	0	0	0	90.04%	0.886	0.081		
16	單選題	2	B	8	471	65	8	0	0	1	140	6	2	0	0	6	102	35	6	0	0	85.33%	0.812	0.255		
17	單選題	2	D	2	2	20	527	0	1	1	0	4	144	0	0	1	1	11	135	0	1	95.47%	0.936	0.060		
18	單選題	2	B	27	248	33	244	0	0	7	95	3	44	0	0	11	39	18	81	0	0	44.93%	0.450	0.376		
19	單選題	2	A	51	53	412	37	0	0	18	13	112	6	0	0	13	20	99	18	0	0	9.06%	0.101	0.040		
20	單選題	2	C	19	81	437	16	0	0	2	12	132	3	0	0	12	32	98	8	0	0	79.17%	0.772	0.228		
21	單選題	2	D	61	11	5	474	0	1	12	2	1	133	0	1	28	2	4	115	0	0	85.87%	0.832	0.121		
22	單選題	2	A	391	90	47	24	0	0	123	20	5	1	0	0	83	35	23	8	0	0	70.83%	0.691	0.268		
23	單選題	2	C	118	3	426	5	0	0	25	2	121	1	0	0	52	1	93	3	0	0	77.17%	0.718	0.188		
24	單選題	2	B	26	447	60	19	0	0	4	130	14	1	0	0	13	102	25	9	0	0	80.98%	0.779	0.188		
25	單選題	2	D	41	13	43	455	0	0	13	5	10	121	0	0	9	6	14	120	0	0	82.43%	0.809	0.007		
26	單選題	2	A	489	11	35	17	0	0	139	2	5	3	0	0	113	7	19	10	0	0	88.59%	0.846	0.174		
27	單選題	2	B	19	494	9	30	0	0	4	135	2	8	0	0	5	126	4	14	0	0	89.49%	0.876	0.060		
28	單選題	2	B	49	411	25	66	0	1	7	135	1	6	0	0	25	76	17	31	0	0	74.46%	0.708	0.396		
29	單選題	2	D	59	44	9	441	0	0	9	12	2	127	0	0	25	15	2	107	0	0	79.89%	0.785	0.134		
30	單選題	2	C	39	32	394	87	0	0	8	3	125	13	0	0	18	11	89	31	0	0	71.38%	0.718	0.242		
31	單選題	2	D	29	9	54	460	0	0	7	0	6	136	0	0	14	2	22	111	0	0	83.33%	0.829	0.168		
32	單選題	2	D	50	7	12	483	0	0	10	0	3	136	0	0	22	4	7	116	0	0	87.50%	0.846	0.134		
33	單選題	2	D	11	10	10	521	0	0	1	2	0	146	0	0	6	6	8	129	0	0	94.38%	0.923	0.114		
34	單選題	2	C	9	20	518	5	0	0	2	4	141	2	0	0	5	11	131	2	0	0	93.84%	0.913	0.067		
35	單選題	2	A	523	19	5	5	0	0	144	2	1	2	0	0	133	9	4	3	0	0	94.75%	0.930	0.074		
36	單選題	2	D	67	81	67	336	0	1	13	19	8	109	0	0	27	26	28	68	0	0	60.87%	0.594	0.275		
37	單選題	2	B	0	475	6	71	0	0	0	136	2	11	0	0	112	2	35	0	0	0	86.05%	0.832	0.161		
38	單選題	2	C	8	15	361	168	0	0	3	4	108	34	0	0	3	7	83	56	0	0	65.40%	0.641	0.168		
39	單選題	2	A	329	167	6	50	0	0	105	33	1	10	0	0	70	53	3	23	0	0	59.60%	0.587	0.235		
40	單選題	2	C	25	22	487	18	0	0	3	4	138	4	0	0	10	9	120	10	0	0	88.22%	0.866	0.121		
41	單選題	2	C	117	40	210	185	0	0	23	7	78	41	0	0	43	18	37	51	0	0	38.04%	0.386	0.275		
42	單選題	2	A	485	48	7	12	0	0	139	6	2	2	0	0	109	28	4	8	0	0	87.86%	0.832	0.201		
43	多重四兩段	2	BE	80	436	372	192	465	0	16	127	96	48	130	0	40	105	97	63	117	0	13.95%	0.141	0.067		
44	多重四兩段	2	ABD	419	493	99	464	227	0	121	142	16	131	43	0	105	125	38	113	75	0	35.33%	0.362	0.282		
45	多重四兩段	2	BCDE	116	408	518	211	514	0	22	128	141	68	145	0	53	81	139	51	132	0	18.12%	0.191	0.302		
46	多重四兩段	2	ADE	504	134	38	511	248	0	143	20	7	143	71	0	121	71	18	131	57	0	32.79%	0.289	0.201		
47	多重四兩段	2	BE	82	513	123	317	429	0	19	140	31	72	125	0	34	127	42	109	104	0	23.01%	0.195	0.242		
48	多重四兩段	2	BCDE	414	550	546	501	410	0	103	148	149	139	114	0	122	148	145	132	111	0	13.77%	0.141	0.107		
49	多重四兩段	2	ABE	471	401	147	100	263	0	138	122	34	12	80	0	109	95	46	49	64	0	31.16%	0.322	0.309		
50	多重四兩段	2	AE	477	66	46	344	481	2	135	14	8	85	133	0	123	26	19	97	122	1	30.25%	0.305	0.141		

選填題或五選項以上各題以 1(或A) 表示作答正確, 2(或B) 表示作答錯誤