

桃園市立平鎮高級中學 105 學年度 第一學期 第三次期中考 高一地理科試題

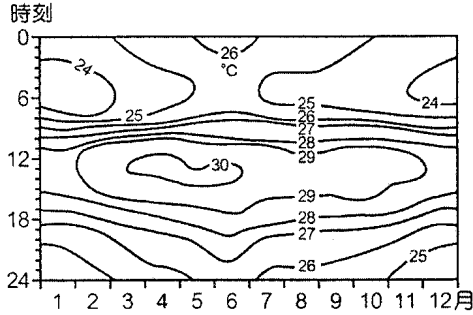
適用班級：101~114 考試範圍：地理(一)第十章~第十三章

填答方式：劃記於電腦答案卡 注意事項：劃卡資料不完全扣 5 分

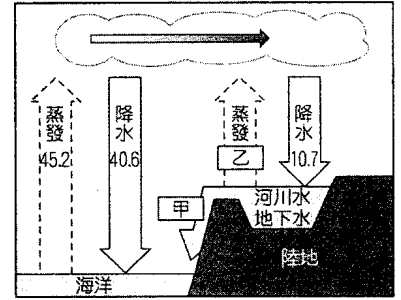
班級：一年__班 姓名：_____ 座號：_____

一、單一選擇題 (42 題 每題 2 分 共 84 分)

- () 1. 下圖為某地各月及各時的平均溫度圖。根據圖中所顯示的氣溫分布可推論該地最可能為何種氣候類型？ (A) 熱帶雨林氣候 (B) 熱帶沙漠氣候 (C) 溫帶海洋性氣候 (D) 溫帶大陸性氣候。

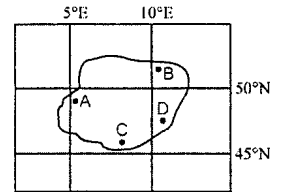


- () 2. 右圖為水循環的示意圖，請問圖中甲、乙的數值為何？ (A) 甲：3.0，乙：3.7 (B) 甲：3.2，乙：4.6 (C) 甲：3.8，乙：6.1 (D) 甲：4.6，乙：6.1



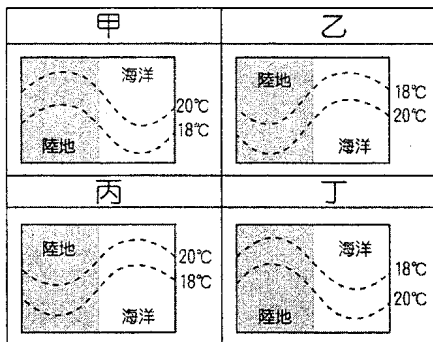
- () 3. 以下是臺灣某日的天氣預報：「未來兩週以東北季風型天氣為主，早晚天氣較涼，中南部日夜溫差較大，降雨機會以迎風面的東半部地區較高。」請問上述天氣預報的發布日期最可能為： (A) 5 月 9 日 (B) 7 月 9 日 (C) 9 月 9 日 (D) 11 月 9 日。

- () 4. 右圖為某座高山島嶼，試回答圖中的島嶼上，A、B、C、D 各點，何處降水量會最多？ (A) A (B) B (C) C (D) D。



- () 5. 深耕的主要目的在於促使作物利於吸收哪一土層的養分？ (A) A 層 (表土層) (B) B 層 (底土層) (C) C 層 (風化層) (D) O 層 (有機質層)。

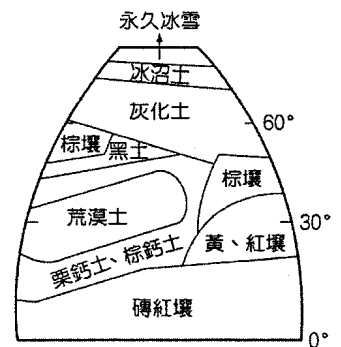
- () 6. 下圖是四種海陸等溫線分布的示意圖，其中哪一幅圖最能展現北半球一月份等溫線分布的特性？ (A) 甲 (B) 乙 (C) 丙 (D) 丁。



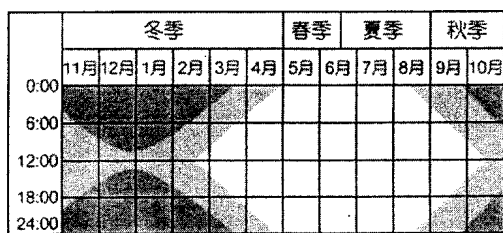
- () 7. 下列敘述何者是指「氣候」而言？(甲) 黃梅時節半晴陰；(乙) 夜來風雨聲；(丙) 西北雨落不過田岸；(丁) 貴陽天無三日晴；(戊) 臺灣的「竹風蘭雨」。 (A) 甲丁戊 (B) 甲乙丙 (C) 乙丁戊 (D) 丙丁戊。

- () 8. 右圖為一理想大陸的土壤分布圖，影響土壤形成此種空間分布的主要因素為何？ (A) 地形 (B) 氣候 (C) 海陸差異 (D) 人類活動。

- () 9. 小英種了一盆美麗的盆栽，每天澆水，多餘的水由盆底孔洞流走。一兩個月後，盆栽植物漸漸憔悴，爸爸說這是盆中土質變貧瘠了。造成盆中土瘠的主要作用是： (A) 鈣化作用 (B) 淋洗作用 (C) 淤積作用 (D) 聚鐵鋁作用。

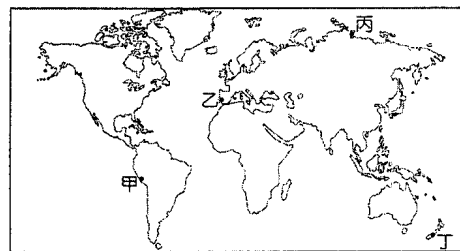


() 10. 圖一為某地季節和晝夜變化分布圖，判斷該地最可能的位置為圖二中的何地？ (A)甲 (B)乙 (C)丙 (D)丁。



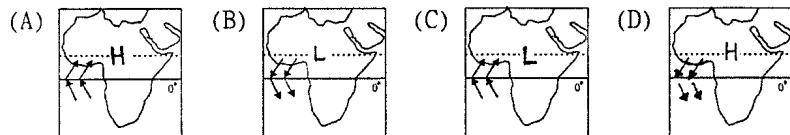
圖一

☐ 太陽高於地平線
 ◐ 微光(薄暮)
 ◑ 太陽低於地平線

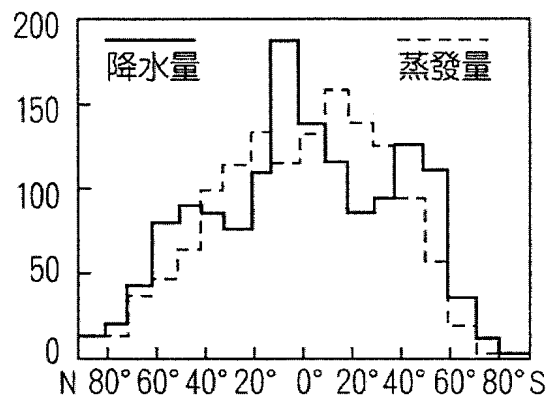


圖二

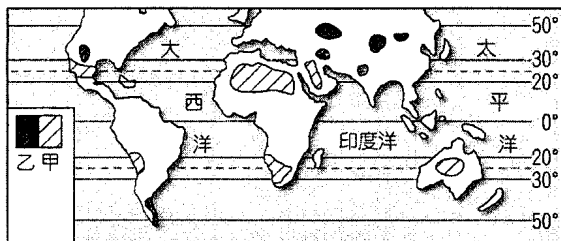
() 11. 西非幾內亞灣沿岸為季風氣候，請問以下哪一幅圖可正確表示該地七月的氣壓及風向？



() 12. 右圖為全球各緯度帶水平平衡圖，請由該圖研判下列哪些敘述正確？(甲)降水量多的地區，剩水量一定大；(乙)全球剩水最多的地區位於赤道無風帶；(丙)缺水最多的地區在南北緯 $20^{\circ} \sim 30^{\circ}$ 間；(丁)物理風化最盛行的地區在南北緯 10° 間。 (A)甲乙 (B)甲丁 (C)乙丙 (D)丙丁。

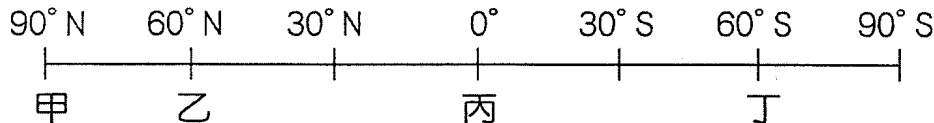


() 13. 下圖為某種氣候的分布圖。請問：圖中甲、乙兩區分別屬於何種水文狀況？ (A)皆為剩水區 (B)皆為缺水區 (C)甲為剩水區，乙為缺水區 (D)甲為缺水區，乙為剩水區。



() 14. 地表行星風系中，哪些風帶的氣流呈垂直運動？(甲)間熱帶輻合帶；(乙)東北信風帶；(丙)副熱帶無風帶；(丁)盛行西風帶；(戊)東南信風帶。 (A)甲丙 (B)甲丁 (C)乙丁 (D)丙戊。

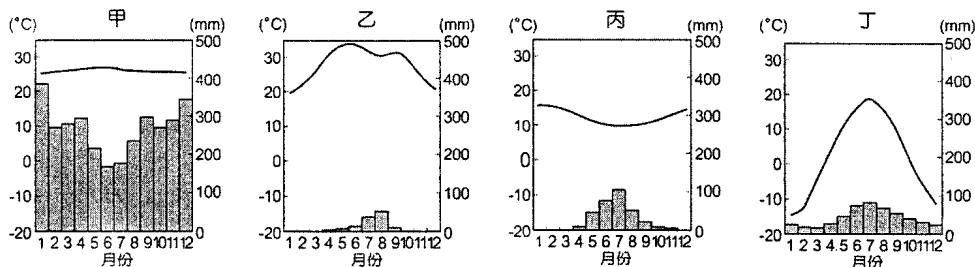
() 15. 地表上年溫差最大的地區應位於下圖中何緯度帶附近的內陸？ (A)甲 (B)乙 (C)丙 (D)丁。



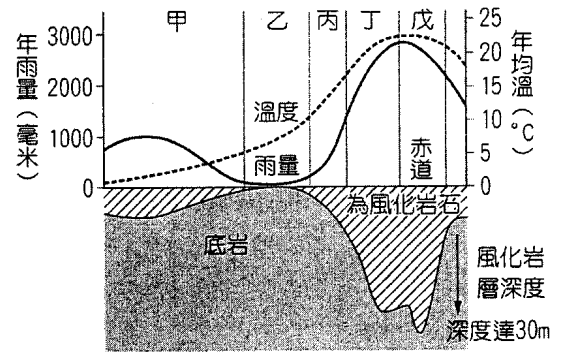
() 16. 何種成土因素對土壤生成的影響力，會因時間的增加而降低？ (A)母岩 (B)氣候 (C)生物 (D)地形。

() 17. (甲)山地；(乙)台地；(丙)緩丘三種地形位於同一地區，而其他的自然條件相同，則在此三地自然化育的土壤層厚度有何差異？ (A)甲>乙>丙 (B)甲>丙>乙 (C)丙>甲>乙 (D)乙>丙>甲。

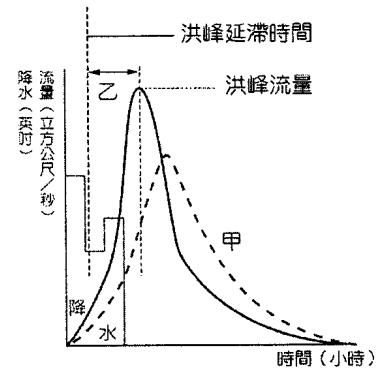
() 18. 下圖的甲至丁，分別為四個不同地區的氣候圖。請問若不考慮這四地的海拔高度要素，則這四地由北到南的排列順序為下列何者？ (A)甲乙丙丁 (B)甲丁乙丙 (C)丁乙甲丙 (D)丁丙乙甲。



- () 19. 鄭和下西洋，從中國大陸到東南亞的路途，以下列何者的吹拂下會較省力？ (A)西南季風 (B)東北季風 (C)極地東風 (D)盛行西風。
- () 20. 右圖為不同氣候環境、土壤的風化變化圖，乙區以何種成土作用最強？ (A)聚鐵鋁作用 (B)灰化作用 (C)鈣化作用 (D)腐植化作用。
- () 21. 從行星風系來看，下列何處容易形成沙漠？ (A)赤道無風帶東側 (B)信風帶的大陸西側 (C)極圈氣旋帶東側 (D)西風帶的大陸西側。
- () 22. 赤道低壓帶和副熱帶高壓帶的比較何者正確？ (A)前者氣流輻散；後者氣流輻合 (B)前者風力強勁，後者風力微弱 (C)前者多對流雨；後者乾燥少雨 (D)前者氣流下沉；後者氣流上升。



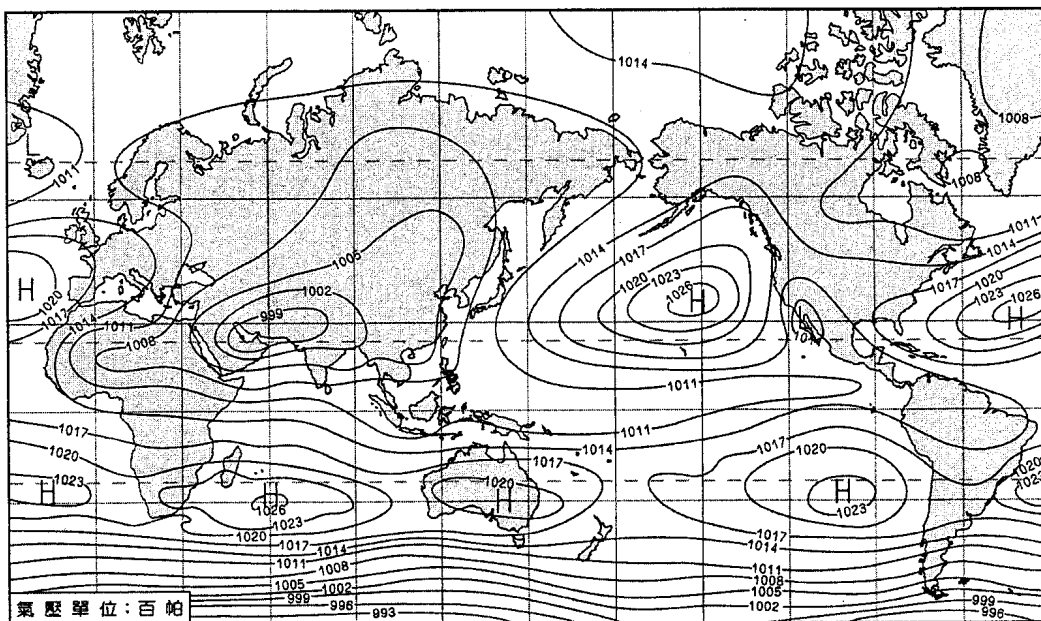
- () 23. 右圖甲乙兩條曲線代表同一河道剖面前後兩個不同時期的「河川逕流量歷線」，則其中所涉及的环境變遷可能為何？ (A)「乙」為曲流截彎取直前之下游河段，「甲」為曲流截彎取直後之下游河段 (B)「乙」為河川上游興建水庫後，「甲」為河川上游興建水庫前 (C)「乙」為都市化前，「甲」為都市化後 (D)「乙」為河川上游集水區大量伐林後，「甲」為河川上游集水區大量伐林前。



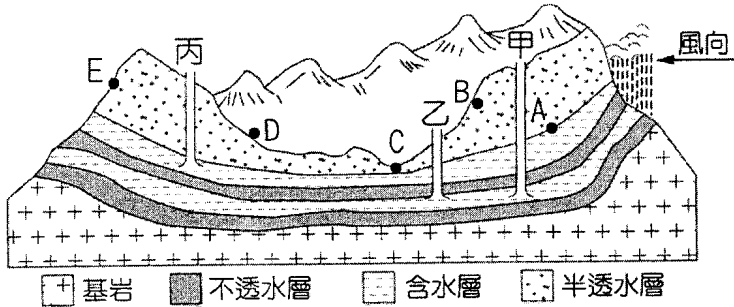
- () 24. 下表是氣旋與反氣旋比較，哪三項正確？ (A)甲乙戊 (B)甲丙戊 (C)乙丙丁 (D)乙丁戊。

	(甲)中心氣壓值	(乙)氣流運動方向	(丙)北半球旋轉方向	(丁)天氣狀態	(戊)例子
氣旋	高	由四周向中心匯入，中心氣流上升	逆時針	天氣多變，成雲致雨	颱風
反氣旋	低	由中心向四周擴散，中心氣流下沉	順時針	天氣穩定，晴朗乾燥	焚風

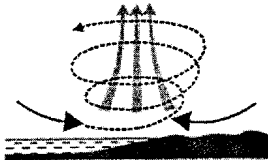
- () 25. 下圖為某月份全球海平面平均氣壓分布圖，請問下列哪三項正確？(甲)間熱帶輻合區位於北半球；(乙)南半球 30 度被高壓帶盤據；(丙)南半球中緯地區西風強勁；(丁)因海陸性質差異北太平洋水溫較亞洲陸地高；(戊)北半球中緯度盛行風皆為東北信風。 (A)甲乙丙 (B)甲乙戊 (C)甲丙戊 (D)乙丙丁。



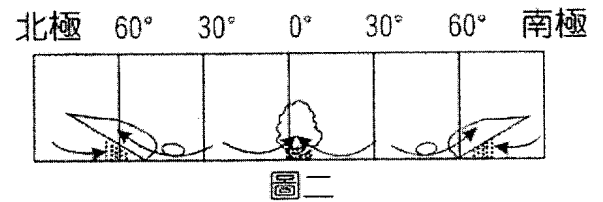
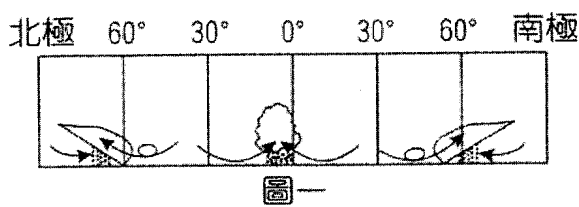
- () 26. 下圖為地下水分帶的示意圖。請根據此圖判別，下列何項敘述正確？ (A)甲井為自流井 (B)乙井為普通井 (C)丙井的井水面為地下水面 (D)A處會有泉水湧出。



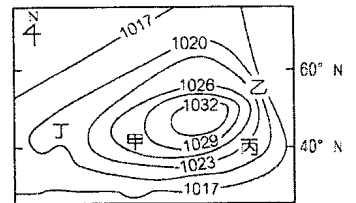
- () 27. 下圖為某地的空氣流動示意圖。在下列哪一種大氣環境中會產生此種流動情形？ (A)蒙古高壓 (B)北太平洋的颱風 (C)南太平洋的反氣旋 (D)澳洲低壓。



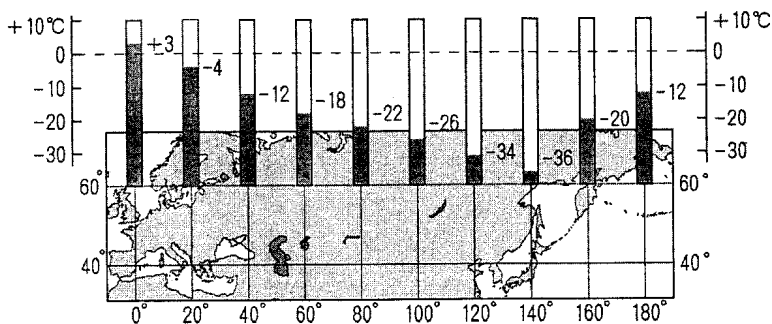
- () 28. 當行星風帶由圖一轉變為圖二時，下列哪些地區開始進入雨季？(甲)印度半島；(乙)巴西高原；(丙)地中海沿岸地區；(丁)西非幾內亞灣沿海。(A)甲乙 (B)甲丁 (C)丙丁 (D)乙丙。



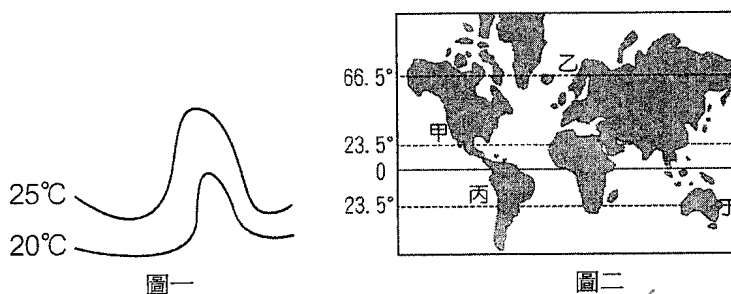
- () 29. 右圖為某地區的等壓線圖(等壓線於圖外閉合)，圖中甲、乙、丙、丁四地的風力強弱由大至小依序是：(A)甲乙丙丁 (B)乙丙甲丁 (C)丙甲乙丁 (D)丁甲丙乙。



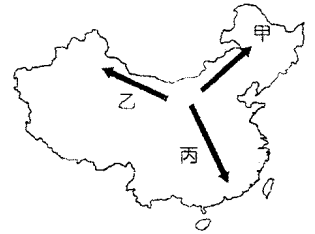
- () 30. 下圖是歐亞大陸沿著 60°N 各地一月均溫的分布，造成同緯度但氣溫呈現明顯差異的主要因素為何？(甲)高度；(乙)距海遠近；(丙)洋流；(丁)植被；(戊)冰河。(A)甲丁 (B)乙丙 (C)丙戊 (D)丁戊。



- () 31. 圖一為某地沿海一月等溫線分布，氣溫變化呈現向上凸起乃受到洋流的影響，判斷該地最可能位於圖二何地？(A)甲 (B)乙 (C)丙 (D)丁。



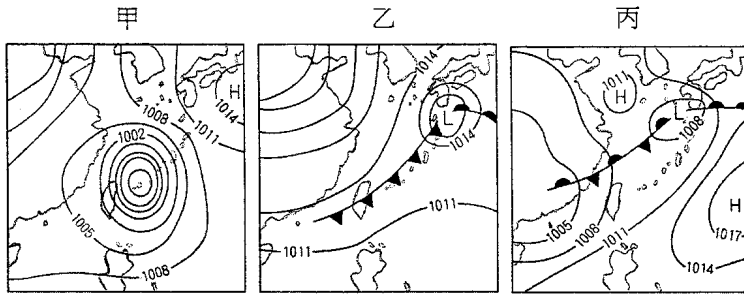
() 32. 土壤三大成土作用有：聚鐵鋁、鈣化、灰化作用，皆與氣候關係密切，右圖中三個方向甲至丙依序代表何種成土作用的趨強方向？ (A) 灰化、鈣化、聚鐵鋁作用 (B) 鈣化、聚鐵鋁、灰化作用 (C) 聚鐵鋁、鈣化、灰化作用 (D) 鈣化、灰化、聚鐵鋁作用。



() 33. 有一座海拔 2,500 公尺的山，一股潮濕氣流在其迎風坡的山下（海拔 500 公尺處）氣溫為 20°C，沿坡上升後，在 1,500 公尺處水汽開始凝結成雲，直到山頂。請問此時山頂和背風坡山下海拔 100 公尺處的氣溫各為攝氏幾度？ (A) 0°C、24°C (B) 2°C、28°C (C) 8°C、32°C (D) 4°C、28°C。

() 34. 在法國山區，農夫選擇將葡萄樹種在山坡上而不在谷底的原因是因為： (A) 夏季山坡雨量較谷底多 (B) 山坡上的日照較強 (C) 山坡風力較谷底緩 (D) 山谷夜間恐怕有逆溫現象。

() 35. 甲乙丙為三種不同天氣系統的示意圖，按照春夏秋冬時序排序應為何者？ (A) 甲乙丙 (B) 乙丙甲 (C) 丙甲乙 (D) 乙甲丙。



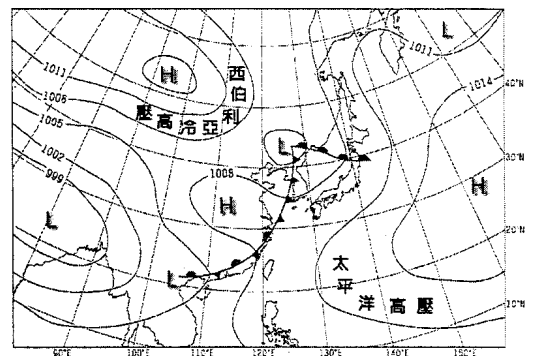
() 36. 以下為某個被形容為「生命禁區」的地點描述：「天上無飛鳥，地上不長草，風吹石頭跑，氧氣吃不飽，一步三喘氣，六月下大雪，四季穿棉襖」以上敘述中，影響該地氣候的主要影響因素是： (A) 緯度 (B) 海陸分布 (C) 地形 (D) 洋流。

() 37. 「地球上的水大部分儲存在(甲)冰河中，人類的用水主要來自(乙)河流、湖泊及地下水，可用量僅約地球總水量的(丙)10%。在各種人類活動中，(丁)工業消耗的水量最多，但人類不當的利用造成水資源的汙染，使水資源的利用更加有限，其中工業廢水是河川最重要的汙染源。」以上劃線部分的敘述，何者正確？ (A) 甲 (B) 乙 (C) 丙 (D) 丁。

() 38. 下列哪個句子是對「雨量變率」最好的詮釋？ (A) 象神颱風在花東地區降雨超過 1000 毫米，形成嚴重水災 (B) 地中海地區夏乾冬雨，但雨期長短不一，若春雨較早結束，作物往往收成差 (C) 一時陰風怒吼，一時朝陽送暖，令人捉摸不定 (D) 伊基圭位居智利北部，曾有連續十四年不下雨的紀錄，但之後的一年，一陣雨就下了 65 毫米，還鬧水災。

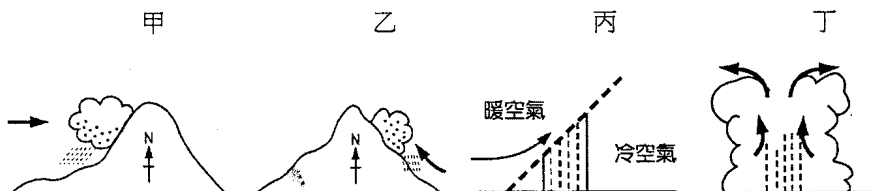
() 39. 水庫的興建可帶來較穩定的供水，但也引發了不少的負面影響，下列哪些即是？ (甲) 庫區生態環境之破壞；(乙) 河口海岸線後退；(丙) 河口漁產資源減少；(丁) 沿海地層下陷。 (A) 甲乙丙 (B) 乙丙丁 (C) 甲乙丁 (D) 甲丙丁。

() 40. 右圖為東亞地區六月某日地面天氣圖，判讀當時天氣系統對各地的天氣影響，下列何者正確？ (A) 臺灣受冷鋒影響，未來一天將會降下大雨 (B) 日本北部因暖鋒通過天氣暖濕 (C) 日本南部氣溫較同緯度華北地區氣溫低 (D) 朝鮮半島因滯留鋒通過而陰雨綿綿數日。



() 41. 土壤的發育是土質、氣候、水文、地形、植生等環境要素綜合作用的結果。其中黑鈣土分布的地理環境，最可能具有下列哪兩項特色？ (甲) 夏暖冬冷，草類一歲一枯榮；(乙) 全年氣候溫和，草類終年繁茂；(丙) 年雨量略少於年可能蒸發散量；(丁) 土壤透水性差，降雨聚積於表土；(戊) 坡度較大，有利於雨季時的排水。 (A) 甲丙 (B) 甲戊 (C) 乙丁 (D) 乙戊。

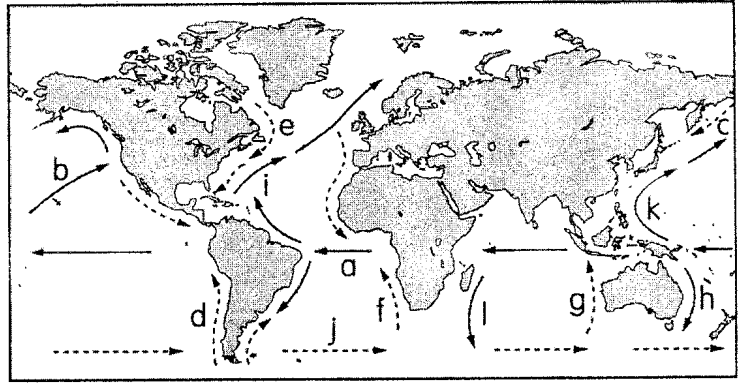
() 42. 難得的南疆沙漠體驗之旅，出發時天氣晴朗的像無雜質般的透亮；半路上竟颳起了沙塵暴、能見度不到 1 公尺；即將進入村莊前、天上竟又落下了斗大的雨水以及駭人的閃電，我還天真的拿出水壺對天空裝水……當地導遊說：算你運氣好，這裡已經多年沒有下雨了。此種降水類型最可能為圖中哪一種型態？ (A) 甲 (B) 乙 (C) 丙 (D) 丁。



二、單一選擇題組題 (8小題 每小題2分 共16分)

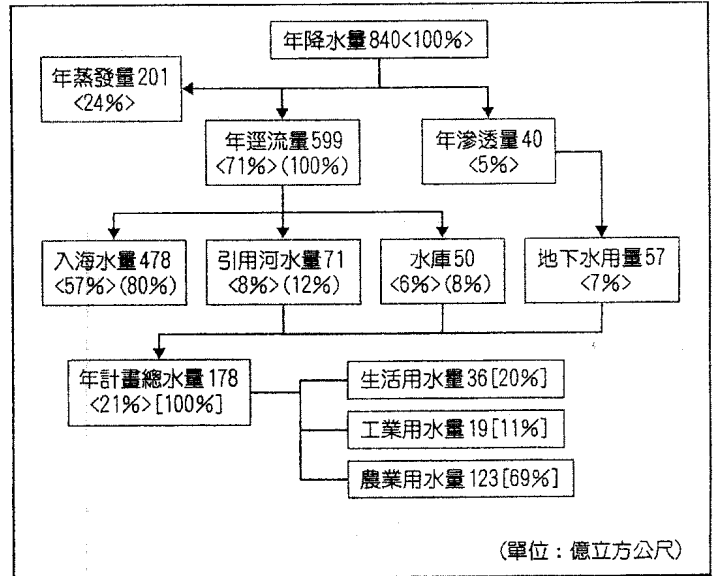
◎右圖為全球洋流系統簡圖。請問：

- () 43. a 洋流形成的主要原因為何？ (A)遇到大陸後被迫轉向 (B)盛行風的吹送 (C)地球自轉的影響 (D)受到月球引力的影響。
- () 44. 哪些洋流流經地區，影響其部分海岸有降水極少的現象？ (A)a、c、e (B)b、i、k (C)b、d、g (D)d、f、g。

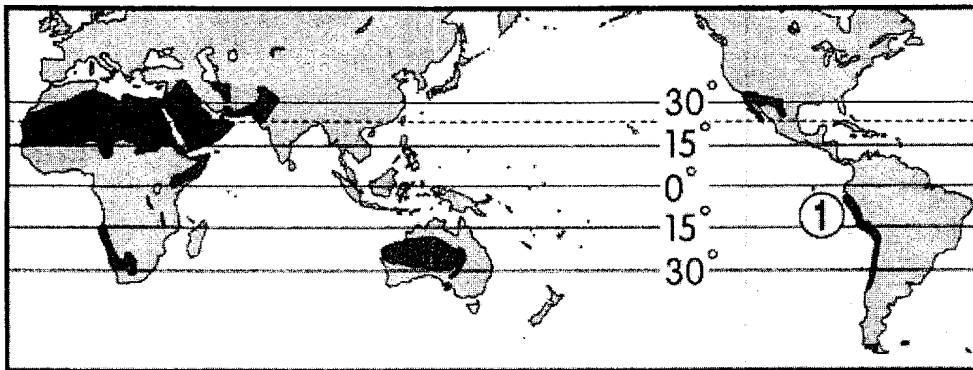


◎右圖為某年臺灣水資源利用概況，請回答下列問題

- () 45. 根據圖中若全年降水量視為 100%，其中 57% 注入海洋，能當水資源的部分僅占 21%，請問這和臺灣地理環境中哪些條件息息相關呢？(甲)河流坡度大；(乙)降雨季節集中；(丙)降雨類型單純；(丁)興建水庫數量不足。(A)甲乙 (B)丙丁 (C)乙丙 (D)甲丁。
- () 46. 以臺灣地下水滲透量與地下水用量的關係來看，可能引發哪些環境問題？(甲)地層下陷；(乙)海水倒灌；(丙)土壤鹽鹼化；(丁)土壤液化。(A)甲乙 (B)甲丙 (C)乙丙 (D)乙丁。



◎下圖是全球某氣候之分布圖。請問：



- () 47. 下列何者是該氣候區的主要成因？ (A)暖流經過 (B)深居內陸 (C)背盛行風側 (D)副熱帶高壓籠罩。
- () 48. 圖中的①區，終年降水量極少，但夜間卻常有濃霧籠罩。科學家在沙漠上架設纖維製成的網，讓夜間霧氣在網上凝成水滴，以便收集水。該區少雨，夜間卻多霧的原因，和下列哪一因素關係最密切？ (A)位居有涼流經過的沿海 (B)地處西風的背風側 (C)終年副熱帶高壓籠罩 (D)深居內陸。

◎梅小章看了電影「冰原歷險記 Ice Age」之後，決定暑假時來趟北極的破冰之旅，請問：

- () 49. 梅小章在極區觀察到：(甲)寒帶針葉林；(乙)冰原；(丙)苔原三種植被，若由南至北排列順序應是： (A)甲乙丙 (B)甲丙乙 (C)乙丙甲 (D)丙甲乙。
- () 50. 梅小章回國後決定明年要繼續往南極探險，蒐集資料中卻發現，南極比北極冷多了且無定居人口，造成南極更冷的原因可能有下列哪三項？(甲)極地東風強勁；(乙)陸地性質；(丙)氣旋活躍；(丁)洋流；(戊)地勢。(A)甲丙丁 (B)甲丁戊 (C)乙丙丁 (D)乙丁戊。

桃園市立平鎮高級中學 105學年第1學期 期末考一年級不限組別地理 I [20170117100050101091] 全體考生 試題分析表

題號	題型	題分	標準答案	全體					560					高分組					151					低分組					全體答對率	難易指數	鑑別指數
				A	B	C	D	E	未	A	B	C	D	E	未	A	B	C	D	E	未	A	B	C	D	E	未				
1	單選題	2	A	458	60	19	23	0	0	129	8	7	7	0	0	104	27	6	14	0	0	81.79%	0.772	0.166							
2	單選題	2	D	24	25	66	444	0	1	6	8	11	126	0	0	12	11	28	99	0	1	79.29%	0.745	0.179							
3	單選題	2	D	4	7	21	528	0	0	0	2	5	144	0	0	3	2	8	138	0	0	94.29%	0.934	0.040							
4	單選題	2	A	355	37	115	52	0	1	117	9	18	7	0	0	50	21	57	22	0	1	63.39%	0.553	0.444							
5	單選題	2	B	34	458	4	64	0	0	2	139	1	9	0	0	15	94	3	39	0	0	81.79%	0.772	0.298							
6	單選題	2	B	34	403	47	75	0	1	8	121	10	12	0	0	18	78	23	31	0	1	71.96%	0.659	0.285							
7	單選題	2	A	505	9	6	40	0	0	141	2	1	7	0	0	129	3	3	16	0	0	90.18%	0.894	0.079							
8	單選題	2	B	10	535	10	4	0	1	3	146	2	0	0	0	5	136	7	2	0	1	95.54%	0.934	0.066							
9	單選題	2	B	54	381	30	95	0	0	7	115	7	22	0	0	26	86	9	30	0	0	68.04%	0.666	0.192							
10	單選題	2	C	4	50	475	31	0	0	0	11	135	5	0	0	2	19	113	17	0	0	84.82%	0.821	0.146							
11	單選題	2	C	87	58	351	64	0	0	12	13	119	7	0	0	33	22	56	40	0	0	62.68%	0.579	0.417							
12	單選題	2	C	8	4	487	61	0	0	2	1	138	10	0	0	3	3	116	29	0	0	86.96%	0.841	0.146							
13	單選題	2	B	4	303	60	193	0	0	1	108	5	37	0	0	3	49	28	71	0	0	54.11%	0.520	0.391							
14	單選題	2	A	406	112	27	13	0	2	126	16	4	5	0	0	73	57	15	5	0	1	72.50%	0.659	0.351							
15	單選題	2	B	166	329	19	46	0	0	38	100	4	9	0	0	51	70	13	17	0	0	58.75%	0.563	0.199							
16	單選題	2	A	485	31	21	23	0	0	141	3	3	4	0	0	119	15	10	7	0	0	86.61%	0.861	0.146							
17	單選題	2	D	61	49	22	428	0	0	12	3	3	133	0	0	32	23	11	85	0	0	76.43%	0.722	0.318							
18	單選題	2	C	28	26	276	229	0	1	5	7	85	53	0	1	16	13	39	83	0	0	49.29%	0.411	0.305							
19	單選題	2	B	23	501	1	35	0	0	7	137	0	7	0	0	12	115	1	23	0	0	89.46%	0.834	0.146							
20	單選題	2	C	21	130	401	8	0	0	3	25	121	2	0	0	14	50	84	3	0	0	71.61%	0.679	0.245							
21	單選題	2	B	60	400	32	68	0	0	14	125	5	7	0	0	28	73	13	37	0	0	71.43%	0.656	0.344							
22	單選題	2	C	27	23	477	34	0	0	1	3	142	5	0	0	20	14	95	23	0	0	85.18%	0.785	0.311							
23	單選題	2	D	27	60	37	436	0	0	6	15	1	129	0	0	11	26	28	86	0	0	77.86%	0.712	0.285							
24	單選題	2	C	15	23	473	49	0	0	6	3	133	9	0	0	9	16	101	25	0	0	84.46%	0.775	0.212							
25	單選題	2	A	272	86	63	139	0	0	86	13	16	36	0	0	43	37	18	53	0	0	48.57%	0.427	0.285							
26	單選題	2	C	49	62	358	91	0	0	12	8	120	11	0	0	17	22	81	31	0	0	63.93%	0.666	0.258							
27	單選題	2	B	22	439	38	61	0	0	3	125	8	15	0	0	13	87	25	26	0	0	78.39%	0.702	0.252							
28	單選題	2	D	50	116	178	216	0	0	11	23	31	86	0	0	17	43	61	30	0	0	38.57%	0.384	0.371							
29	單選題	2	B	45	461	13	41	0	0	15	132	0	4	0	0	18	107	10	16	0	0	82.32%	0.791	0.166							
30	單選題	2	B	12	527	18	2	0	1	2	145	3	1	0	0	7	137	6	1	0	0	94.11%	0.934	0.053							
31	單選題	2	C	72	63	304	121	0	0	19	12	100	20	0	0	26	26	60	39	0	0	54.29%	0.530	0.265							
32	單選題	2	A	433	6	33	88	0	0	130	3	7	11	0	0	90	2	16	43	0	0	77.32%	0.728	0.265							
33	單選題	2	D	83	44	164	268	0	1	10	10	27	104	0	0	33	18	61	39	0	0	47.86%	0.474	0.430							
34	單選題	2	D	14	10	26	510	0	0	4	2	1	144	0	0	7	6	18	120	0	0	91.07%	0.874	0.159							
35	單選題	2	C	8	36	500	14	0	2	3	11	133	4	0	0	3	16	123	8	0	1	89.29%	0.848	0.066							
36	單選題	2	C	149	16	387	8	0	0	33	8	109	1	0	0	53	4	88	6	0	0	69.11%	0.652	0.139							
37	單選題	2	B	6	539	5	10	0	1	3	143	1	5	0	0	3	143	3	1	0	1	96.07%	0.944	-0.007							
38	單選題	2	D	8	89	31	432	0	0	2	14	4	131	0	0	4	39	15	93	0	0	77.14%	0.742	0.252							
39	單選題	2	A	457	6	84	13	0	0	132	1	15	3	0	0	116	3	29	3	0	0	81.61%	0.821	0.106							
40	單選題	2	B	15	432	50	63	0	0	3	134	6	8	0	0	8	88	25	30	0	0	77.14%	0.735	0.305							
41	單選題	2	A	333	53	93	81	0	0	113	12	22	4	0	0	57	15	36	43	0	0	59.46%	0.563	0.371							
42	單選題	2	D	41	43	68	408	0	0	3	9	12	127	0	0	16	12	35	88	0	0	72.86%	0.712	0.258							
43	單選題	2	B	53	246	249	12	0	0	10	81	56	4	0	0	20	60	66	5	0	0	43.93%	0.467	0.139							
44	單選題	2	D	19	22	49	470	0	0	5	2	4	140	0	0	9	13	28	101	0	0	83.93%	0.798	0.258							
45	單選題	2	A	472	3	20	64	0	1	130	1	1	19	0	0	119	1	12	18	0	1	84.29%	0.825	0.073							
46	單選題	2	A	455	92	9	3	0	1	138	10	3	0	0	0	107	37	5	1	0	1	81.25%	0.811	0.205							
47	單選題	2	D	12	6	83	458	0	1	3	0	16	132	0	0	8	5	33	104	0	1	81.79%	0.781	0.185							
48	單選題	2	A	480	34	44	2	0	0	138	5	8	0	0	0	103	19	27	2	0	0	85.71%	0.798	0.232							
49	單選題	2	B	17	483	31	28	0	1	3	135	7	6	0	0	9	112	17	12	0	1	86.25%	0.818	0.152							
50	單選題	2	D	70	78	77	334	0	1	12	16	12	111	0	0	34	22	27	67	0	1	59.64%	0.589	0.291							

選填題或五選項以上各題以 1(或A) 表示作答正確, 2(或B) 表示作答錯誤

五標 (88, 84, 78, 68, 58) 平均 74.87