

桃園市平鎮高中一〇五學年度下學期 第一次期中考 二年級 地理科試卷

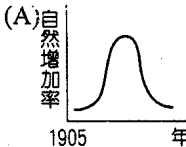
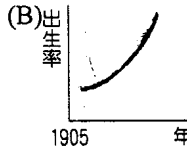
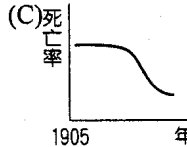
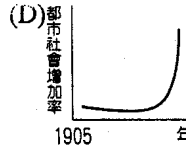
適用班級：201-214

命題範圍：第四冊第一章至第四章

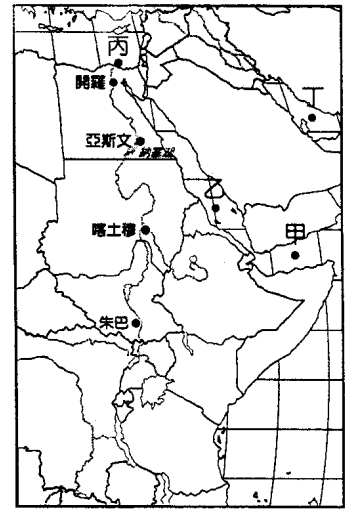
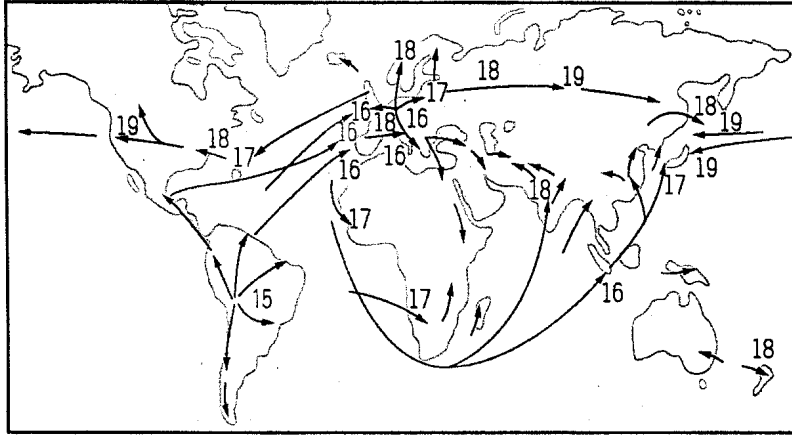
注意事項：請在電腦卡上作答；基本資料不完整影響讀卡扣本次考試成績五分；

試卷共 3 張 6 頁；皆為單選題，每題二分

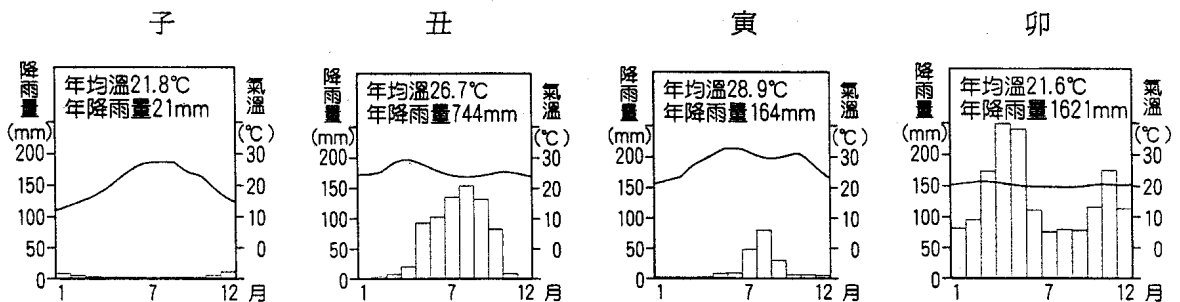
一、單選題（每題二分）

- () 1. 第三十一屆夏季奧林匹克運動會於 2016 年 8 月 5 日至 21 日在巴西里約熱內盧舉行，當地氣候特色和臺灣有點類似，都是在炎熱的夏季時有充沛的降水，請問，該地區主要的降雨成因為何？(甲)熱帶氣旋；(乙)東南信風；(丙)西南季風；(丁)暖流經過；(戊)地形阻擋；(己)滯留鋒面。(A)甲丙丁 (B)乙丁戊 (C)乙戊己 (D)丙丁戊。
- () 2. 熱帶雨林區的糧食作物多為塊根、塊莖作物，相對於麥類，其營養價值較低。當地以這類作物為主食，主要與下列哪一因素有關？(A)降雨強度大 (B)生長季太短 (C)平均氣溫過高 (D)土壤的酸度過高。
- () 3. 盛行游耕地區，通常透過長期休耕來恢復地力。然而有些地區休耕期縮短，最後造成嚴重生態失衡的現象，主要是因為受到下列哪一因素影響造成？(A)人口快速增加 (B)利用機械取代傳統勞力 (C)大量施用化學肥料 (D)改種經濟價值較高的現金作物。
- () 4. 南美洲西岸的沙漠是世界上最乾燥的地區之一，終年雨量極少，但夜間卻常有濃霧籠罩。科學家在沙漠上張設纖維製成的網，讓夜間霧氣在網上凝成水滴，以便蒐集水。該沙漠少雨，夜間卻多霧的原因，和下列哪一因素的關係最密切？(A)位居有涼流經過的沿海 (B)地處盛行西風的背風側 (C)終年受副熱帶高壓籠罩 (D)位居有暖流經過的沿海。
- () 5. 二次大戰後，中南美洲與非洲的人口成長快速，與下列哪項人口變化因素關係較大？
- (A)自然增加率  (B)出生率  (C)死亡率  (D)都市社會增加率 
- 1905 年 1905 年 1905 年 1905 年 (時間：西元 1905-2000)
- () 6. 奈及利亞境內有二百五十多個部族，在過去(甲)國殖民時期，藉由強調族群差異以分化反對力量，造成該國獨立之後，民族紛爭不斷，軍人強權趁勢崛起，獨裁統治的結果造成政治不穩定。請問：以下哪個是上文中所提及的(甲)國具有的特色？(A)歐洲面積最大的國家 (B)二次大戰後最大的共產國家 (C)曾有「日不落國」的美稱 (D)目前世界最重要的經濟大國。
- () 7. 亞馬孫河流域的熱帶雨林不僅是生物基因庫，更擁有地球之肺的美稱，但自 1960 年代起，巴西政府為改善國內經濟問題，鼓勵投資者前往開發，導致雨林大量縮減，對於生態環境造成了很大影響，以下哪三項正確？(甲)土壤鹽鹼化；(乙)土壤侵蝕嚴重；(丙)全球暖化加劇；(丁)降水大量增加；(戊)生物品種消失。(A)甲乙丙 (B)乙丁戊 (C)乙丙戊 (D)丙丁戊。
- () 8. 巴西最負盛名的嘉年華會熱鬧氣氛，每年都吸引大批遊客前去參與，嘉年華會主要是由哪兩個文化所融合而成？(A)印加文化、黑人歌舞 (B)天主教節慶、印加文化 (C)基督教儀式、馬雅文化 (D)天主教節慶、黑人歌舞。
- () 9. 非洲氣候大致呈「對稱分布」，但是哪些氣候類型例外？(甲)高地氣候；(乙)溫帶地中海型；(丙)熱帶沙漠；(丁)夏雨型暖濕；(戊)熱帶季風。(A)甲乙丙 (B)甲丙戊 (C)甲丁戊 (D)乙丙丁。
- () 10. 下列關於東非地區傳統游牧活動的敘述，是正確的是：(A)根據氣溫日夜變化大小決定遷移路線 (B)因為地勢高低變化，所以進行山牧季移 (C)最重要的牲畜為羊 (D)乾季時帶著牛隻移居高地，形成臨時村落。
- () 11. 「切·格瓦拉 1956 年在古巴發動第一次革命，因為當時中美洲正處於被帝國嚴重壟斷剝削的狀況，被帝國資本家掌握各國的經濟，切·格瓦拉不斷轉移游擊戰地，對抗帝國控制……。」請問：上文中所指的帝國最可能是何國？(A)美國 (B)英國 (C)西班牙 (D)葡萄牙。

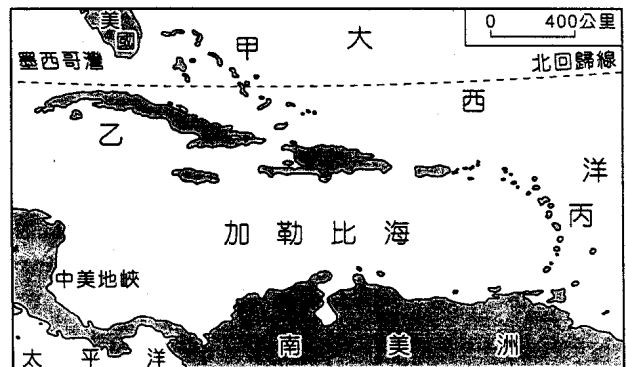
- () 12. 原本在 1960 年代同屬經濟發展落後的亞洲和非洲，在歷經 30 年的發展後出現明顯差距。非洲整體的發展相對落後於亞洲，主要原因是下列哪二項？(甲)缺乏原料、能源；(乙)工業發展所需資金、技術短缺；(丙)農礦產品不具獨占性；(丁)國際市場較小。(A)甲乙 (B)乙丙 (C)甲丁 (D)丙丁。
- () 13. 下圖左是某農作物傳播到世界各地種植的時空示意圖，圖中數字表示農物流傳到該地的時間(世紀)，箭頭則代表傳播的方向。請根據圖上資料判斷，該農作物最可能為下列哪項？(A)馬鈴薯 (B)咖啡 (C)稻米 (D)小麥。



- () 14. 「在歐、亞最便捷的航道上，許多商船都會經過印度洋→亞丁灣→紅海→蘇伊士運河→地中海，但常在路途中被索馬利亞海盜伏擊，擄船押人以勒索巨額贖金。」請問文中所提海盜伏擊地點最可能為上圖右中何點？(A)甲 (B)乙 (C)丙 (D)丁。
- () 15. 世界最長的河川—尼羅河，由上游至下游流經了下列四氣候圖的順序為何？(A)子寅丑卯 (B)丑寅子卯 (C)卯丑子寅 (D)卯丑寅子。



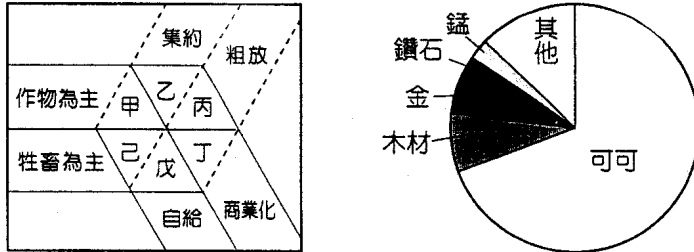
- () 16. 非洲大部分地區面臨缺水的難題，改善水資源匱乏困境是非洲發展的重要課題之一。請問造成非洲大部分地區缺水的主要自然環境因素為何？(A)高原地形 (B)副熱帶高壓籠罩 (C)位於盛行風背風側 (D)內陸距海遙遠。
- () 17. 西印度群島位於加勒比海、墨西哥灣之間。十五世紀末，哥倫布到此，誤認為這裡是印度附近的島嶼，因位於印度以西的西半球，便稱為西印度群島，可分為甲~丙三大島群。請問：依其地質構造成因為大陸島、珊瑚礁島的順序是：(A)甲乙 (B)乙甲 (C)乙丙 (D)丙甲。



- () 18. 在西非幾內亞灣由沿海地區往北走所經歷的景觀變化大，以下哪些特色是正確的？(甲)雨量變率變大；(乙)人口密度增加；(丙)年雨量變少；(丁)年溫差變小；(戊)植物生長季變長。(A)甲丙 (B)丁戊 (C)乙丙丁 (D)甲丙丁。

二、題組（每題二分）

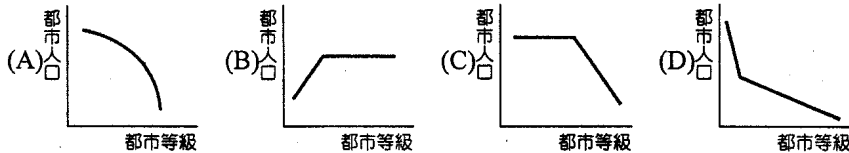
- ※ 十八、十九世紀，歐洲國家爲了產業發展所需，紛紛入侵非洲建立殖民地，掠奪相關資源和捕抓黑奴。請問：
- () 19.當時這些歐洲國家在劃分版圖時，由於未顧及自然環境、族群分布、傳統生活領域等界線，因此造成了許多問題，這種劃分版圖的方式導致非洲居民從事何種產業活動時，最容易受到限制？ (A)綠洲農業 (B)地中海型農業 (C)游牧活動 (D)熱帶栽培業。
- () 20.承上題，此生產活動類型最可能是下圖左中的何者？(A)甲 (B)乙 (C)丁 (D)戊。



- () 21.上圖右爲非洲某國家主要出口貿易貨品的圓餅圖，此圖可以判斷以下關於某國的敘述哪些是正確的？(甲)該國最可能分布在西非；(乙)第一級產業活動爲主要收入；(丙)糧食自給而有餘；(丁)對外貿易形成出超。(A)甲乙 (B)乙丙 (C)丙丁 (D)甲丁。

※ 中南美洲地形相當多樣，有些地區地質古老，有些地區火山活動頻繁，經濟發展上，有些國家畜牧業發達，多數國家的農業以栽培經濟作物爲主，有些則是礦物資源豐富，且大部分國家都市化程度很高。請問：

- () 22.中南美洲各國最重要的礦物資源配對，正確的是：(A)巴西：銀 (B)墨西哥：黃金 (C)委內瑞拉：石油 (D)玻利維亞：鐵。
- () 23.中南美洲某國的主要出口作物是小麥，也是重要的肉品和毛皮出口國。該國應爲何國？(A)智利 (B)阿根廷 (C)墨西哥 (D)巴西。
- () 24.中南美洲大部分國家都市化程度很高，大部分國家的都市階層體系型態最接近下列何者？(圖的座標均爲對數值)



※ 小智一行人到墨西哥南部旅遊，來到嘉帕斯州 (Chiapas) 的小城聖克里斯多巴，在印第安與西班牙交織的風情中，發現原來這裡的印第安人在 1994 年因墨西哥加入某協定的時候曾經鬧過獨立，成立薩帕塔民族解放軍 (Ejército Zapatista de Liberación Nacional, EZLN)，爲印第安人的權利而戰鬥，反抗五百年來的帝國主義。目前游擊隊與政府和解，當地也開放觀光，而游擊隊的精神與象徵成爲當地最熱門的紀念品。請問：

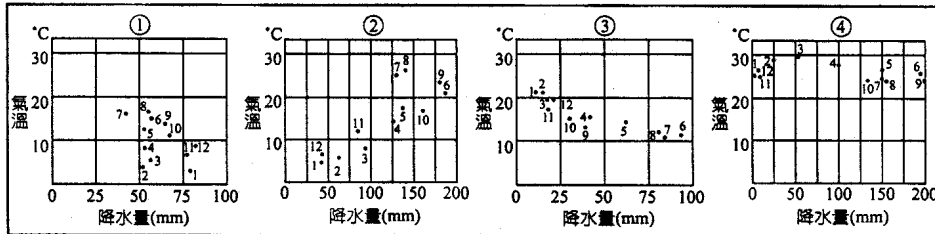


- () 25.圖中黑色區域爲嘉帕斯州位置。該地早期是哪個古文明的分布區？(A)馬雅 (B)奧爾梅克 (C)阿茲特克 (D)印加。
- () 26.1994 年墨西哥加入某協定，使得原住民認爲自己的權益將會受到更嚴重的剝削，因此起而反抗。墨西哥應該是加入哪個組織？(A)UN (B)WTO (C)NAFTA (D)TPP。
- () 27.墨西哥加入某協定後影響了墨西哥的政治、經濟與生活，下列哪三項敘述是正確的？(甲)貿易障礙消除，墨西哥玉米可以大肆進攻美國；(乙)有利於引進外資，創造工作機會；(丙)墨西哥人民能以更便宜的價格享用進口消費品；(丁)減少墨西哥人偷渡到美國的人數；(戊)美國農產品傾銷，嚴重影響墨國小農經濟。(A)甲乙丙 (B)甲丙丁 (C)乙丙戊 (D)乙丁戊。

※ 資料一：2010年2月27日凌晨，智利發生了芮氏地震規模8.8的地震，震央位於智利第二大都市康賽普西翁東北方115公里、智利首都聖地牙哥西南方325公里處，因鄰近都會區，故共造成了超過1,500人死亡的災情。
 資料二：2010年8月5日，智利北部礦區發生崩塌，33名礦工受困在地底深處，兩週後從地下傳回礦工仍然活著的消息，振奮人心，救援行動即刻展開，初步估計營救的任務至少需耗時2個月才能完成，在考驗著人類的智慧與科技的發展。

根據以上兩則發生於智利自然災害的資料，請問：

- () 28. 資料一中所描述的地震震央所處的氣候型態應較接近下列何者？ (A)① (B)② (C)③ (D)④。

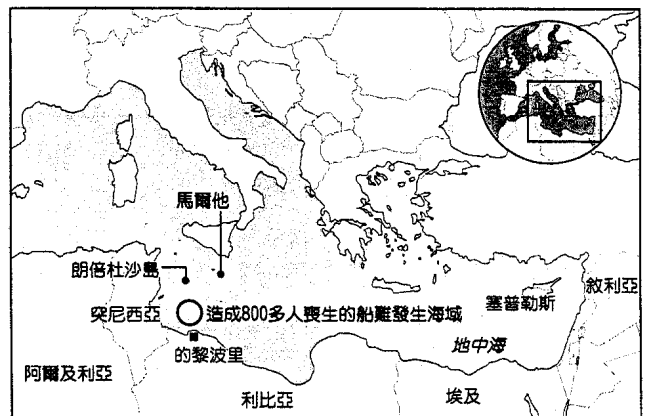


- () 29. 資料二中所描述的礦區，最有可能為開採哪一種礦產？ (A)銅礦 (B)石油 (C)煤礦 (D)鑽石。
 () 30. 智利國土受限於安地斯山脈，東西寬不超過180公里，但南北則長達4,200公里，狹長的國土形狀，使其景觀豐富而多變化。(甲)群聚的企鵝；(乙)遍野的桃、杏水果園；(丙)荒涼單調的沙漠。上述該國各項重要景觀由北向南出現的正確順序為何？
 (A)甲乙丙 (B)甲丙乙 (C)乙甲丙 (D)丙乙甲。

※ 為保護非洲尚存的物種並解決非洲的貧窮，在國際環境與金融組織的鼓勵下，非洲成立全球僅有的四個跨國公園，它不但使生態系有自由且自然的消長機會，同時也針對因為貧窮所導致對自然環境不當利用的問題提供了解決方法。但跨國保護公園的實現，也衝擊著傳統國家疆界的觀念。請問：

- () 31. 下列哪些重要條件使非洲得以成立全球僅有的四個跨國保護公園？(甲)國際政治組織的倡導；(乙)觀光提供就業機會；(丙)人口稀少保護公園易於實現；(丁)動植物資源亟需保育；(戊)世界分工之具體落實。(A)甲乙丙 (B)乙丙丁 (C)甲乙丙丁戊 (D)甲丁。
 () 32. 此類型跨國界保護公園主要分布在哪個區域？ (A)北非 (B)西非 (C)東非 (D)中非。

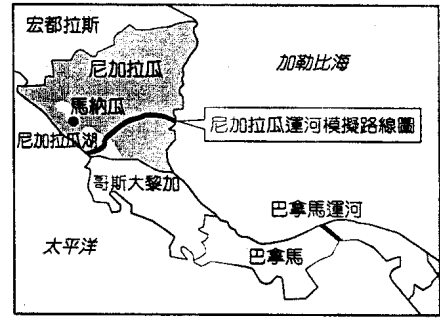
※ 2015年4月中地中海朗倍杜沙島(Lampedusa)發生史上最大船難，超過800名來自非洲的難民葬身海底，2013年10月相同地點也發生過兩起船難，死亡超過400人，這些乘客身分多是非非法移民。據聯合國統計，2014年附近海域共有112,659名難民抵達歐洲，主要來源為非洲與西亞國家。僅有少數人能取得歐洲國家的政治庇護，但即便取得居留權，也很難在歐洲找到工作。地中海的難民船成為歐洲與非洲及西亞政府跨界治理上的頭痛問題。右圖為2015年中地中海船難發生地點，請問：



- () 33. 偷渡難民的成員來自許多國家，下列哪個組合最有可能是難民的主要來源地？ (A)埃及、利比亞、南非、剛果 (B)土耳其、敘利亞、索馬利亞、衣索比亞 (C)索馬利亞、利比亞、敘利亞、厄利垂亞 (D)摩洛哥、馬達加斯加、馬利、尼日。
 () 34. 地中海難民的來源國最主要面臨到哪個共同問題以至許多人民離鄉背景？ (A)政局不穩定、內戰不止 (B)殖民經濟結構改變 (C)基督徒與穆斯林宗教對抗 (D)受沙漠化威脅改變生活方式。
 () 35. 關於偷渡難民的遷移敘述，下列哪個敘述是正確的？ (A)付給人蛇集團5,000~10,000歐元的費用是人口移動中的中間障礙 (B)難民移往歐洲過程中，歐洲各國的難民政策是阻止難民自由移入的推力 (C)非洲難民來源國人口移動的動機與十八世紀移民美洲的動機相同 (D)難民的來源國在人口轉型階段中多屬高穩定的階段。

※ 中南美洲是臺灣最多邦交國所在的地區，2016 年蔡英文總統上任後首度出訪，展開 6 月 24 日到 7 月 2 日為期 9 天 8 夜的「英翔專案」行程，訪問友邦巴拿馬和巴拉圭，6 月 26 日參加巴拿馬運河拓寬峻工啟用儀式。

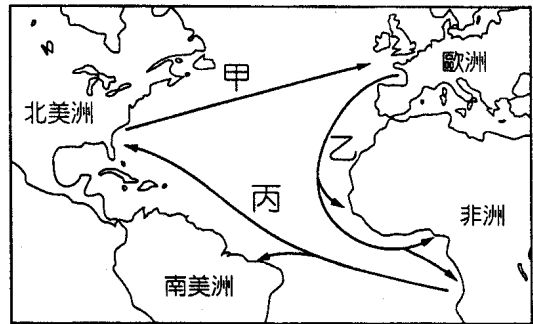
運河通行費過去每年為巴拿馬帶來 10 億美元的收入，預計 10 年內年收入將增加達到 30 億美元。因為運河帶來可觀的收入，尼加拉瓜計畫耗資 500 億美元開鑿尼加拉瓜運河，預定 2020 年完成。右圖為尼加拉瓜運河路線，目前規劃的長度、寬度與深度均超越南方的巴拿馬運河，完工後會帶給區域與全球重大的影響。請問：



- () 36. 尼加拉瓜和巴拿馬東、西兩岸的降水有顯著不同，其主要原因為何？ (A) 地勢高低差異 (B) 信風迎背風差異 (C) 西風影響時間長短 (D) 副熱帶高壓勢力強弱。
- () 37. 運河興建的過程中，可能會遇到哪些自然災害？ (A) 地震、颶風 (B) 地震、沙塵暴 (C) 颶風、龍捲風 (D) 沙塵暴、龍捲風。
- () 38. 巴拉圭的地理位置位於臺灣的對蹠點，其經緯度位置最可能是： (A) 23.5°S, 121°W (B) 23.5°S, 59°W (C) 66.5°E, 59°W (D) 66.5°W, 59°E。

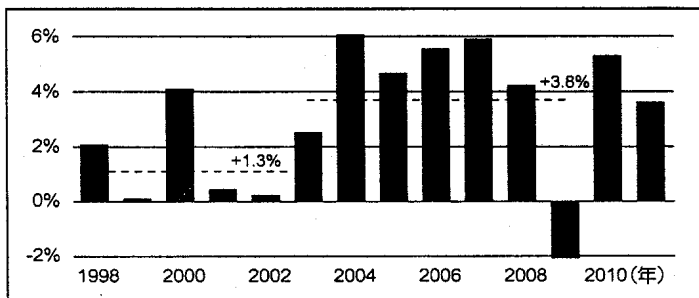
※ 十五世紀歐洲開啓大航海時代，建立歐、非、美的三角貿易體系，至今仍影響各地的經濟與社會發展。請問：

- () 39. 在右圖中甲、乙、丙三條路線中船隻各載運何種產品？ (A) 農礦產品、奴隸、工業製品 (B) 農礦產品、工業製品、奴隸 (C) 奴隸、農礦產品、工業製品 (D) 工業製品、農礦產品、奴隸。
- () 40. 三角貿易的甲、乙、丙路線，船隻可分別利用哪條洋流前進？ (A) 北大西洋暖流、墨西哥灣流、納米比涼流 (B) 北大西洋暖流、加那利涼流、北赤道洋流 (C) 北大西洋暖流、納米比涼流、北赤道洋流 (D) 加那利涼流、北赤道洋流、北大西洋暖流。

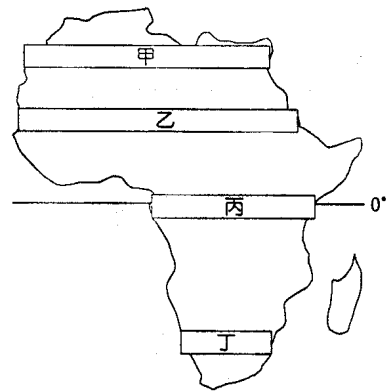


※ 中南美洲早期受歐洲殖民造成殖民地式經濟型態顯著，十九世紀陸續獨立後許多國家試圖發展自己的經濟模式，但是在 1980 年代經歷「失去的十年」，經濟表現不佳。請問：

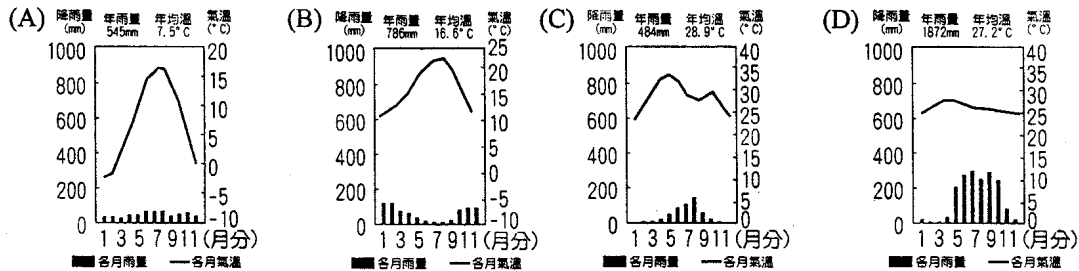
- () 41. (甲) 提高關稅，扶植國內工業，發展紡織、食品加工等輕工業；(乙) 遠洋船隻發明、冷凍技術進步，農礦產品大量出口；(丙) 實施貿易自由化，並鼓勵外資進入。上述中南美洲自獨立到現今的經濟發展特徵，依時間先後排序何者正確？ (A) 甲→乙→丙 (B) 乙→甲→丙 (C) 乙→丙→甲 (D) 丙→甲→乙。
- () 42. 下列敘述中有關 1980 年代「失去的十年」時期的敘述，正確的是？ (甲) 實施出口導向政策產生的問題；(乙) 通貨膨脹嚴重；(丙) 貨幣升值；(丁) 貨幣貶值；(戊) 此時許多國家以發展晶圓代工賺取利潤。 (A) 甲乙丙 (B) 甲乙丁戊 (C) 乙丁 (D) 甲丁。
- () 43. 根據下圖判斷，中南美洲經濟成長率自 2003 年起已有明顯正成長，與下列哪一因素最相關？ (A) 中國、印度崛起，全球資源需求增加 (B) 亞洲金融風暴 (C) 石油危機 (D) 金融海嘯。



※ 2005 年非洲正式決定營造一條橫跨撒哈拉地區的寬 5 公里、長 7,000 公里的「綠色長城」，西起塞內加爾的達喀爾，橫跨塞內加爾、馬利、尼日、查德、蘇丹、衣索比亞等國家，東至吉布地。專家認為，在該地區營造「綠色長城」，最關鍵的是充分利用地表水和地下水資源，以保證樹木的存活和生長。一旦「綠色長城」建成，不僅能改善當地的生態環境，而且還將澈底改變該地區居民的生活方式，促進地區經濟和社會的全面發展。



- () 44. 請問：文中所提到的綠色長城，應該位於下圖中的何處？
 (A) 甲 (B) 乙 (C) 丙 (D) 丁。
- () 45. 請問該地區的氣候應該是下列何者？

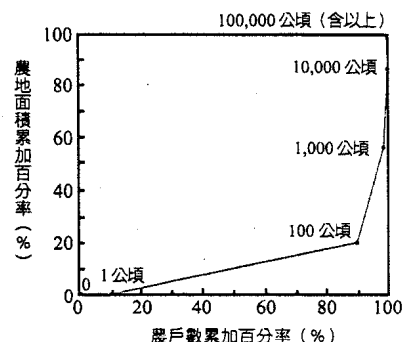


- () 46. 該地區所發展出來的傳統農業不依賴灌溉，僅待天雨；同一塊農地在除草後，會先後混種多種作物，有時可達二十多種，包括多種豆類、瓜類、根莖類和穀類作物。這些作物的生長期長短不一，收穫量也有高低，有淺根的、也有深根的，有需水分較多的、也有耐旱的。這樣的作物組合，主要是為了適應哪項氣候特性？ (A) 降水強度大 (B) 晝夜溫差大 (C) 降雨集中的夏季 (D) 年雨量變率大。

※ 科學家指出，太平洋一直在聖嬰和反聖嬰現象間循環，常常造成許多自然災害，也對許多產業造成不同程度的衝擊，而且氣象學家表示，這兩種現象的變化在全球暖化下可能更為劇烈，例如：2011 年南半球天災頻傳，澳洲東部布里斯班和巴西里約不約而同遭暴雨襲擊，阿根廷則因天氣乾旱而農作物歉收。請問：

- () 47. 「每隔幾年，東南太平洋就會發生聖嬰現象。在聖嬰現象出現期間，東南太平洋的氣壓場(甲)降低，而西南太平洋的氣壓場卻(乙)增高，此氣壓場的改變使(丙)西風帶減弱，於是東太平洋的洋流不再(丁)東行，熱帶太平洋海溫呈現(戊)東高西低之變化。」上文中的敘述，正確的有哪三項？ (A) 甲乙丙 (B) 甲乙丁 (C) 丙丁戊 (D) 甲乙戊。
- () 48. 聖嬰現象發生時所造成的影響包括哪些？ (甲) 東南太平洋的漁獲量減少；(乙) 澳洲因暴雨水患而小麥歉收；(丙) 秘魯飽受乾旱之苦，糧食作物減產；(丁) 印尼霾害危及海、空運；(戊) 秘魯遭受暴雨襲擊，水患、土石流嚴重。 (A) 甲乙丙 (B) 乙丙丁 (C) 甲乙丁 (D) 甲丁戊。

※ 中南美洲土地分配極度不均，不僅影響各國農業發展，並造成社會之不安定。右圖是巴西不同農場規模農戶數與所占全國農地面積的累加百分率圖，其中橫軸係將各農戶按農場規模由小至大依序排列而成，而圖中數字即代表農場規模。請問：



- () 49. 大部分農戶的農場規模為多少公頃？
 (A) <1 (B) 1~100 (C) 100~1,000 (D) >1,000。
- () 50. 土地分配不均，對巴西農業發展有下列哪三項影響？
 (甲) 大農場土地利用率低；(乙) 農產僅供國內市場消費；
 (丙) 土地過大使農作多樣化；(丁) 土地集中農村貧富不均；
 (戊) 租佃關係不利農地改良。
 (A) 甲乙丁 (B) 乙丙戊 (C) 丙丁戊 (D) 甲丁戊。

作答結束

桃園市立平鎮高級中學 105學年第2學期 月考一二年級不限組別地理IV[20170329200010101104] 全體考生 試題分析表

題號	題型	題分	標準答案	全體			554			高分組			150			低分組			150			全體答對率	難易指數	鑑別指數
				A	B	C	D	E	未	A	B	C	D	E	未	A	B	C	D	E	未			
1	單選題	2	B	98	408	26	22	0	0	18	122	6	4	0	0	39	96	7	8	0	0	73.65%	0.727	0.173
2	單選題	2	A	345	42	65	102	0	0	111	7	11	21	0	0	76	16	30	28	0	0	62.27%	0.623	0.233
3	單選題	2	A	481	4	42	27	0	0	140	0	6	4	0	0	116	2	20	12	0	0	86.82%	0.853	0.160
4	單選題	2	A	427	57	51	19	0	0	121	14	10	5	0	0	108	22	17	3	0	0	77.08%	0.763	0.087
5	單選題	2	C	8	198	307	41	0	0	3	36	104	7	0	0	4	76	49	21	0	0	55.42%	0.510	0.367
6	單選題	2	C	65	22	418	49	0	0	13	5	122	10	0	0	22	11	100	17	0	0	75.45%	0.740	0.147
7	單選題	2	C	26	9	495	24	0	0	5	2	135	8	0	0	14	3	127	6	0	0	89.35%	0.873	0.053
8	單選題	2	D	98	51	3	402	0	0	19	8	0	123	0	0	28	17	0	105	0	0	72.56%	0.760	0.120
9	單選題	2	C	14	26	501	13	0	0	3	5	142	0	0	0	7	14	119	10	0	0	90.43%	0.870	0.153
10	單選題	2	B	25	366	19	144	0	0	5	118	6	21	0	0	12	79	7	52	0	0	66.06%	0.657	0.260
11	單選題	2	A	81	90	335	48	0	0	32	24	80	14	0	0	20	22	91	17	0	0	14.62%	0.173	0.080
12	單選題	2	B	27	504	3	20	0	0	3	141	0	6	0	0	17	121	2	10	0	0	90.97%	0.873	0.133
13	單選題	2	A	407	115	5	27	0	0	118	26	1	5	0	0	88	46	2	14	0	0	73.47%	0.687	0.200
14	單選題	2	A	358	132	55	8	0	1	117	25	7	1	0	0	79	44	24	3	0	0	64.62%	0.653	0.253
15	單選題	2	D	37	35	67	415	0	0	9	4	9	128	0	0	16	19	30	85	0	0	74.91%	0.710	0.287
16	單選題	2	B	18	463	35	38	0	0	3	128	10	9	0	0	6	117	17	10	0	0	83.57%	0.817	0.073
17	單選題	2	B	15	362	160	17	0	0	3	127	18	2	0	0	7	76	60	7	0	0	65.34%	0.677	0.340
18	單選題	2	A	346	11	30	167	0	0	109	0	6	35	0	0	69	7	15	59	0	0	62.45%	0.593	0.267
19	單選題	2	C	14	3	438	98	0	1	4	2	127	17	0	0	4	1	100	45	0	0	79.06%	0.757	0.180
20	單選題	2	D	27	128	31	368	0	1	10	24	2	114	0	0	9	54	16	72	0	0	66.25%	0.617	0.287
21	單選題	2	A	524	8	1	21	0	0	143	3	0	4	0	0	137	3	0	10	0	0	94.58%	0.933	0.040
22	單選題	2	C	16	3	528	7	0	0	2	1	145	2	0	0	9	1	138	2	0	0	95.31%	0.943	0.047
23	單選題	2	B	11	526	8	9	0	0	1	145	2	2	0	0	9	133	5	3	0	0	94.95%	0.927	0.080
24	單選題	2	D	42	86	29	397	0	0	8	16	7	119	0	0	18	32	10	90	0	0	71.66%	0.697	0.193
25	單選題	2	A	317	4	207	26	0	0	99	0	46	5	0	0	69	1	72	8	0	0	57.22%	0.560	0.200
26	單選題	2	C	6	44	476	28	0	0	0	11	134	5	0	0	5	11	123	11	0	0	85.92%	0.857	0.073
27	單選題	2	C	85	13	388	68	0	0	17	5	116	12	0	0	33	4	89	24	0	0	70.04%	0.683	0.180
28	單選題	2	C	126	83	301	43	0	1	26	19	97	7	0	1	41	29	69	11	0	0	54.33%	0.553	0.187
29	單選題	2	A	437	14	81	22	0	0	135	2	11	2	0	0	107	7	32	4	0	0	78.88%	0.807	0.187
30	單選題	2	D	22	30	18	483	0	1	4	7	3	136	0	0	8	8	8	126	0	0	87.18%	0.873	0.067
31	單選題	2	B	23	231	135	165	0	0	4	86	26	34	0	0	7	49	44	50	0	0	41.70%	0.450	0.247
32	單選題	2	C	26	65	248	215	0	0	4	16	79	51	0	0	8	21	60	61	0	0	44.77%	0.463	0.127
33	單選題	2	C	17	140	392	5	0	0	7	37	106	0	0	0	4	39	104	3	0	0	70.76%	0.700	0.013
34	單選題	2	A	521	8	7	18	0	0	147	0	1	2	0	0	133	4	4	9	0	0	94.04%	0.933	0.093
35	單選題	2	A	237	168	47	102	0	0	88	34	9	19	0	0	40	59	17	34	0	0	42.78%	0.427	0.320
36	單選題	2	B	52	458	8	36	0	0	6	133	4	7	0	0	20	111	2	17	0	0	82.67%	0.813	0.147
37	單選題	2	A	508	13	29	4	0	0	145	3	2	0	0	0	127	4	16	3	0	0	91.70%	0.907	0.120
38	單選題	2	B	139	359	36	20	0	0	39	99	10	2	0	0	36	91	16	7	0	0	64.80%	0.633	0.053
39	單選題	2	B	8	519	1	26	0	0	1	142	1	6	0	0	3	139	0	8	0	0	93.68%	0.937	0.020
40	單選題	2	B	15	500	20	19	0	0	5	143	2	0	0	0	6	118	12	14	0	0	90.25%	0.870	0.167
41	單選題	2	B	206	281	20	47	0	0	30	106	5	9	0	0	76	49	7	18	0	0	50.72%	0.517	0.380
42	單選題	2	C	13	69	450	22	0	0	0	10	140	0	0	0	8	35	93	14	0	0	81.23%	0.777	0.313
43	單選題	2	A	452	39	24	39	0	0	132	8	2	8	0	0	114	10	12	14	0	0	81.59%	0.820	0.120
44	單選題	2	B	28	505	19	2	0	0	8	138	4	0	0	0	9	131	10	0	0	0	91.16%	0.897	0.047
45	單選題	2	C	58	34	373	89	0	0	13	4	116	17	0	0	20	16	76	38	0	0	67.33%	0.640	0.267
46	單選題	2	D	17	13	59	465	0	0	4	6	15	125	0	0	10	5	17	118	0	0	83.94%	0.810	0.047
47	單選題	2	D	101	74	109	269	0	1	23	19	18	90	0	0	35	22	43	50	0	0	48.56%	0.467	0.267
48	單選題	2	D	117	26	25	385	0	1	17	3	5	125	0	0	45	15	12	77	0	1	69.49%	0.673	0.320
49	單選題	2	B	66	384	52	52	0	0	16	114	9	11	0	0	21	92	19	18	0	0	69.31%	0.687	0.147
50	單選題	2	D	30	8	58	457	0	1	8	0	21	120	0	1	8	2	14	126	0	0	82.49%	0.820	-0.040

選填題或五選項以上各題以1(或A)表示作答正確,2(或B)表示作答錯誤

五標 (86, 82, 74, 68, 60) 平均 73.15