

適用班級：201~214

考試範圍：歷史第四冊 4-6 章

填答方式：答案卡

注意事項：基本資本請確實劃記，未確實劃記者倒扣 5 分！

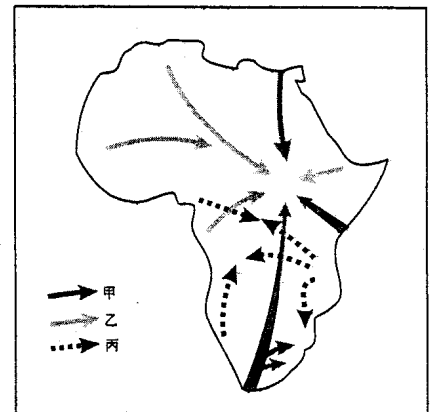
試卷張數：試卷三張共五頁、答案卡一張

一、單一選擇題：84%，共計 42 題，每小題 2 分，答錯不倒扣

請依題號將答案劃記在答案卡

1. 某一時期，歐洲的知識分子強調「感情勝於一切」，「信任你的心，多於信任你的腦袋」。他們厭惡社會規範、道德教條，認為這些事物長期束縛人性，主張解放個人的情感，以發覺內在的真正自我。這股思潮在政治上表現出保守的特色，頌揚民族情緒與思慕過去，表現在文學、藝術、音樂等領域，更擴及為整個時代的精神，日耳曼名之為「狂飆」。請問：這股思潮為何？(A)理性主義 (B)浪漫主義 (C)保守主義 (D)達達主義。
2. 1880 年代，法國仍然是英國帝國主義競爭的主要對手，但到了 1904 年，英國與法國在一系列殖民地事務上達成了《友好協約》，法國承認了英國對埃及的占領，而英國也對法國在摩洛哥的統治採取了放任態度。英、法從敵對到合作，兩國關係為何會有如此重大轉變？(A)英國要破壞德、法在干涉還遼中的同盟關係 (B)日本在亞洲掠奪威脅了英、法 (C)德國的日益崛起，威脅了英、法 (D)英、法合作抗衡俄國在巴爾幹半島的擴張。
3. 史家巴森在《從黎明到衰頹～五百年來的西方文化生活》書中寫道：「這位英國在克里米亞戰爭的盟友，先讓自己選上共和國總統，一旦當選，先任自己為終身親王總統，下一步是稱帝，帝制的不合法性由所謂公投掩護，即全民投票。將 1848 年建立的共和一手摧毀。借用這個法子，他向 20 世紀的獨裁者顯示一條好計：可以聲稱自己的統治來自民主，因為已由全民投票核准。」書中被譏諷的領袖為何人？(A)法蘭西第一帝國的拿破崙 (B)薩丁尼亞王國的伊曼紐二世 (C)法蘭西第二帝國的拿破崙三世 (D)德意志帝國的威廉一世。
4. 工業革命是影響近代世界歷史的大事之一，而許多歷史事件或現象的出現與工業革命密不可分。但是，下列哪一事件的發生不是受到工業革命的影響？(A)新帝國主義的興起 (B)美國南北戰爭 (C)英國十九世紀國會改革運動 (D)拉丁美洲的獨立運動。
5. 資料一：奧匈帝國斐迪南大公的死，引起了奧匈帝國與塞爾維亞激烈的爭議，奧匈帝國一直尋找向塞爾維亞開戰的藉口，他們藉此指控塞爾維亞謀殺，並積極準備要進行攻擊。
資料二：1888 年即位的新德皇威廉二世，他讓俾斯麥於 1890 年退休，威廉二世想要更積極的態度去面對世界。他結束俾斯麥苦心經營的德俄友好關係，積極充實戰備，他的態度導致其他國家開始將德國視為威脅。
上述兩段關於第一次世界大戰爆發原因的分析，如何正確理解上述兩段資料？(A)資料一是政治因素，資料二是經濟因素 (B)資料一是宗教因素，資料二是外交因素 (C)資料一是近因，資料二是遠因 (D)資料一是背景，資料二是導火線。
6. 柏克是 18 世紀末的英國政治思想家，他主張「人們應當尊重歷代艱苦締造的社會和政治制度。這些制度不會僵化：它們是由過去逐漸發展的，將來也會逐漸地發展」；「人類社會的秩序與制度，不是一朝一夕之間可以改變的，每一個時代的人們，不過是文化遺產的保管者，他們並無權利決定社會的需要」。請問：柏克的想法屬於 19 世紀的何種思想？(A)保守主義 (B)自由主義 (C)民族主義 (D)社會主義。
7. 19 世紀末以來，巴爾幹半島的情勢錯綜複雜，成為歐洲的火藥庫。1914 年 6 月 28 日，奧匈帝國皇儲斐迪南夫婦到波士尼亞檢閱軍事演習，途經首府塞拉耶佛時被塞爾維亞人開槍暗殺，雙雙身亡。7 月 28 日，奧匈帝國向塞爾維亞宣戰。請問：奧匈帝國與塞爾維亞之間爆發戰爭的主因為何？(A)不同種族間的領土問題 (B)相同種族間的領土問題 (C)不同種族間的宗教問題 (D)相同種族間的宗教問題。
8. 十九世紀追求民主政治與民族主義的潮流下，下列敘述何者為正確？(A)俾斯麥的統一事業依靠自身武力，而加富爾軍力不足，則依靠外國勢力以完成統一 (B)十九世紀的法國和英國皆在共和與帝制政體交相更迭 (C)法國拿破崙三世在普法戰爭戰敗被俘，「第一帝國」垮台，出現第三共和 (D)奧地利與匈牙利基於共同民族的利益而組成雙元帝國。
9. 「你們可以奪走戰敗國的殖民地，把它的軍隊減到僅夠建立一支警察部隊的力量……但這一切終究毫無意義，如果戰敗國認為和約不公平，那麼它將會找到對戰勝國進行報復的手段。」上述是針對哪一條約所做出的評論？(A)1815 年的《維也納協定》(B)1878 年的《柏林協議》(C)1884 年的《柏林協議》(D)1919 年的《凡爾賽條約》。
10. 以下是描述法國史上某一時期：「完全的君主立憲政府，但此一政府之政權多操於資產階級手中，既無輝煌的事功，更無繁榮的經濟成效，引起一般民眾之反感與厭倦。」請問：文中所描述應是：(A)第一帝國 (B)復辟的波旁王朝 (C)七月王朝 (D)第二共和。

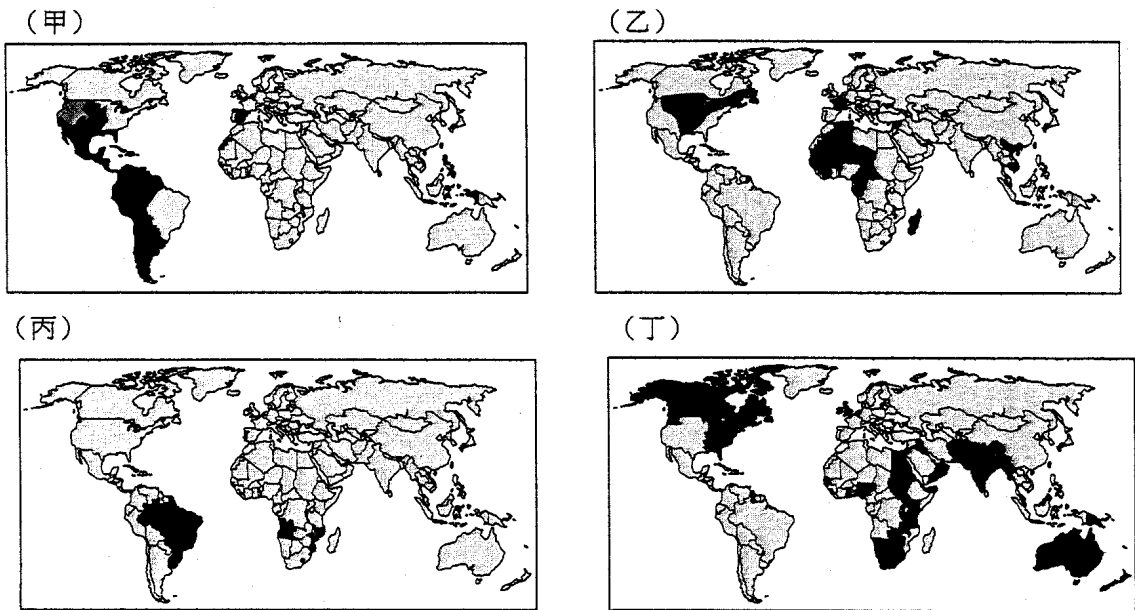
11. 「這個政策」開始實施時，許多人認為這是對革命的背叛，將導致資本主義的復辟，削弱國際共產主義運動。但最終此政策施行效果卻非常好，實施「這項政策」的人表示：「在戰爭結束時，我們就像是一個被打得半死的人。而現在，它居然能夠拄著拐杖走動了！」請問：「這項政策」所指為何？ (A) 1880 年代俾斯麥所採取的國家社會主義政策 (B) 1890 年代德皇威廉二世所採取的大海軍主義 (C) 1920 年代列寧所採取的新經濟政策 (D) 1930 年代史達林採取的五年計畫。
12. 在英國，新近發展的大城市如利物浦、曼徹斯特等，因為沒有國會議員代表，所以資本家就急迫的希望推廣選舉權，想使工廠工人和田畝農人，都能各投一票，以選舉自己的代表前往國會。請問：終於在哪一年民主政治改革中使新興工業城市獲得國會議員代表的名額？ (A) 1832 年 (B) 1867 年 (C) 1884 年 (D) 1918 年。
13. 十九世紀中葉，加富爾在一個大會中演講說到：「人統治義大利的殘酷，使義大利長期陷於混亂，義大利政府不安，歐洲和平永無希望。」。加富爾的演說中指出哪一國是義大利統一的最大障礙？ (A) 法國 (B) 德國 (C) 英國 (D) 奧國。
14. 一位歷史學者評論克里米亞戰爭發生的背景時說道：
 資料一：「因為法國順利地從蘇丹處取得保護天主教的特權，引起俄國跟進的野心，而在第二年出兵今羅馬尼亞一帶，因而引發衝突。」
 資料二：「1855 年，進入戰爭的第二年時，有一歐洲國家決定參與這場原本與他無關的戰爭。該國的首相為了推動本國的統一事業，積極爭取盟國的支持。他說：我們的軍隊如能在東歐地區贏得勝利，對國家的利益會比任何演講或文章來得具體有效。」
 根據上列資料的敘述，何者為正確？ (A) 資料一提及法國的取得特權或俄國的領土擴張，皆源於阿拉伯帝國的衰弱 (B) 資料二所指陳的國家及首相是指普魯士及俾斯麥 (C) 這場戰爭出現了機關槍、坦克、潛水艇等新式武器 (D) 資料一，文中「引起俄國跟進的野心」是克里米亞戰爭爆發的主因。
15. 右圖是 19 世紀末，歐洲某三國在非洲展開競爭的示意圖。根據此圖，三個箭頭分別代表何國的擴張方向？ (A) 甲：法國；乙：比利時；丙：英國 (B) 甲：美國；乙：英國；丙：法國 (C) 甲：英國；乙：法國；丙：德國 (D) 甲：義大利；乙：法國；丙：英國。
16. 這個帝國民族複雜，語言眾多，它除了兩個最大民族之外，還統治捷克人、各式各樣的斯拉夫人，它從未形成單一民族國家，而各民族間又有對立的問題，最終在一次大戰後瓦解。請問：這個帝國是： (A) 奧匈帝國 (B) 德意志帝國 (C) 俄羅斯帝國 (D) 鄂圖曼土耳其。
17. 歷史學家常在對歷史的分期中，寄寓了其對歷史的理解和詮釋。某一史家將「漫長的 19 世紀」區分為 1789~1848、1848~1875、1875~1914 三個階段，分別依各階段的特色命名。依你對 1875~1914 年歷史發展的了解，該階段應予以何項名稱最恰當？ (A) 革命的年代 (B) 帝國的年代 (C) 反動的年代 (D) 資本的年代。
18. 「這次戰爭是以裝甲車、毒氣彈、潛水艇、飛機為先導，也投入了照片、電影、無線電等以大眾為對象的新媒體。在空戰和海戰出現後已變成三度空間的現代戰爭，又把戰線擴大到以心理和思想為目標的四度空間。實際上，宣傳工作雖然遠離戰場前線，卻被比擬成是一種肉眼看不見的毒氣彈。」這一種戰爭型態最早出現於何時？ (A) 1854 年的克里米亞戰爭 (B) 1866 年的普奧戰爭 (C) 1870 年的普法戰爭 (D) 1914 年的一次大戰。
19. 以下是一位政治家發表演說的部分內容：「希望使世界適合人類生存和安居樂業，所有愛好和平的國家都能夠獲得正義的保證，依照自己的方式生活，決定自己的制度，並得到世界上其他民族的公平待遇，不致遭受暴力和損人利己的侵略。」依其話中意涵判斷，則這位政治家最有可能是哪一場國際戰爭結束之際提出這樣的論調？ (A) 克里米亞戰爭 (B) 普法戰爭 (C) 俄土戰爭 (D) 一次世界大戰。
20. 「假如不是我和在彼得堡的話，就不會有十月革命。因為布爾什維克黨中的其他領袖，一定會阻止我發動它。假如不在的話，我懷疑我是否有能力克服那些布爾什維克黨中的反對力量。」文中的指的何人？ (A) 列寧 (B) 史達林 (C) 尼古拉二世 (D) 德國參謀本部。
21. 關於歷史事件的因果關係，下列何者正確？ (甲) 神聖羅馬帝國瓦解→德國的統一運動 (乙) 普法戰爭→法國第三共和 (丙) 二月革命→俄國退出大戰 (丁) 「第三國際」→中國共產黨成立 (戊) 列寧「新經濟政策」→俄國成為世界第三大工業國。 (A) 甲乙丙 (B) 乙丁戊 (C) 甲丙丁 (D) 甲乙丁。



22. 19 世紀某國首相說：「我國位於歐洲中部，至少有三條會遭到進攻的戰線，但法國只有一條，俄國也只有西部邊界。因此我們需要的是防止法國的進攻並保持雙方的安寧，這事需要找到盟友的支持，應該儘量讓各國都需要我國，利用他們彼此的關係，不讓他們聯合起來反對我們。」這位首相主導了不少國際事務，下列何者是他的外交成果？(甲)柏林會議；(乙)三國協約；(丙)三國同盟；(丁)維也納會議 (A)甲乙 (B)甲丙 (C)丙丁 (D)乙丙。
23. 日本歷史指出，在某個階段，幕府在二百多年來從來不准天皇參與政治，但是爲了降低各藩的反對聲音，於是想以天皇的名義締約，並且破例邀請各大名、藩士、學者甚至平民，針對此事提出意見。於是天皇及其朝臣，大名及其家臣紛紛舉起了救國的旗幟而團結起來。請問：上述的時代背景爲何？(A)德川幕府宣布鎖國政策之時 (B)神奈川條約簽訂之後 (C)明治維新進行之時 (D)日俄戰爭期間。
24. 邱吉爾曾說過：「史達林是一個世上無出其右的最大獨裁者，他接掌蘇聯時，蘇聯只有木犁；當他撒手人寰時，蘇聯已擁有核武器。」蘇聯之所以能取得如邱吉爾所說的這一重大成就，主要原因爲何？(A)充分鼓勵了農工階層的積極生產心態 (B)合理吸收了西方國家的經濟建設經驗 (C)成功開創了高度集中的計劃經濟體制 (D)適時放寬了經濟政策的個體經營限制。
25. 十九世紀前半葉，西方世界曾出現三波革命浪潮：
第一波：1820 ~ 1824 年，西班牙人向王室爭取權利，那不勒斯企圖脫離西班牙，希臘脫離土耳其帝國。
第二波：1829 ~ 1834 年，比利時脫離荷蘭，波蘭、義大利、日耳曼人民向貴族爭權。
第三波：1848 年，法國人民得到男子普選權，哈布斯堡帝國首相下臺。
請問：第二波革命浪潮的發生主要是受到什麼因素的影響？(A)法國二月革命的刺激 (B)法國七月革命的衝擊 (C)英國國會改革的衝擊 (D)普法戰爭的影響。
26. 有四位同學針對「十九世紀末期到二十世紀初期的歐洲時局」提出解讀，請問：哪幾位的說法是正確的？甲生說：受俾斯麥採行孤立法國外交政策的影響。乙生說：義大利因爭奪北非殖民地與英國交惡。丙生說：俄國忌恨奧國插足於巴爾幹半島。丁生：德皇威廉一世採取侵略性的外交政策威脅及英、法 (A)只有乙生說對了 (B)甲生、丙生說對了 (C)只有丁生說錯了 (D)全部都說對了。
27. 某國君王曾在 1858 年時說：「我們不再欺騙自己了。我們同世界一級強權相較，又弱又窮，尤其是行政組織落後。」「與其等農民自下而上起來解放自己，不如自上而下來解放農民。」這個國家於是進行內政改革，並加強鐵路、開礦等工業化建設。這位君王爲何人？(A)俄皇亞歷山大二世 (B)法皇拿破崙三世 (C)薩丁尼亞國王伊曼紐二世 (D)德皇威廉一世。
28. 1914 年德皇威廉二世在「致德國人民書」中說：「現在我們的敵人企圖羞辱我們，當敵人全副武裝準備背信棄義進攻時，他們卻要求我們袖手旁觀，他們不讓我們堅定忠誠的支持我們的盟友，而我們的盟友正爲維護他的大國地位而鬥爭……。」請問：文中的「盟友」與「敵人」分別是指哪一個國家？(A)義大利、法國 (B)日本、美國 (C)奧匈帝國、俄國 (D)波蘭、英國。
29. 某齣日劇描述 1860 年代後日本的歷史發展，有段劇情是當時有識之士大力呼籲改革，以突破內憂外患困境的場景，請問下列哪一句最可能是編劇幫劇中主角維新志士們編寫的台詞？(A)振興武士道精神，重建階級嚴明的社會體制 (B)實施君主專制，重君權以消除國內反對勢力 (C)效忠幕府將軍，團結一致以抵抗外國的侵略 (D)提倡文明開化，全面學習西方的科技與制度。
30. 自從德國統一至第一次世界大戰爆發的四十多年間，歐洲國際形勢的演變可劃分爲三個不同的段落：即 1871~1890 年(段落一)、1890~1907 年(段落二)、1907~1914 年(段落三)，下列說明何者爲正確？(A)段落一：法國孤立、三國同盟 (B)段落二：俄土戰爭、柏林會議 (C)段落三：俄國十月革命、美國參戰 (D)段落一：三國協約、塞拉耶佛事件。
31. 右表是 1914 ~ 1917 年交戰國軍需品的生產量。請問：從 1914 年到 1917 年協約國的生產變化，其主要因素爲何？(A)俄國實施計畫經濟 (B)義大利加入協約國 (C)英國國會改革成功 (D)美國參戰提供援助。
32. 維也納會議中提出：「法國、西班牙、葡萄牙、薩丁尼亞和荷蘭的舊王朝一律復辟，義大利中部歸還教宗統治，萊因邦聯解散，各邦諸侯復位，另組日耳曼邦聯。」請問：這些安排屬會議中哪一項原則？(A)均勢原則 (B)霸權原則 (C)正統原則 (D)補償原則。
33. 若從經濟層面來看，共產世界領導者的經濟政策曾向資本主義「傾斜」，但是下列何者「例外」？(A)列寧的「新經濟政策」 (B)史達林的「五年計畫」 (C)劉少奇的「包產到戶」 (E)鄧小平的「四個現代化」。

| | 1914 年 | | 1917 年 | |
|----|--------|-----|--------|-----|
| | 協約國 | 同盟國 | 協約國 | 同盟國 |
| 生鐵 | 16 | 25 | 50 | 15 |
| 鋼 | 16 | 25 | 58 | 16 |
| 煤 | 346 | 355 | 851 | 340 |

34. 1889年，明治天皇頒布《大日本帝國憲法》，由於在明治時代頒行，故又名《明治憲法》。這部憲法體現了近代民主精神，確立了一個和平、民主的日本政府，此後日本成為君主立憲國家。請問：這部憲法的特色為何？(A)天皇與國會共治，形成權力二元體制 (B)國會決定重大決策，天皇為虛位元首 (C)國會由幕府大將軍主持，天皇則為輔佐的角色 (D)天皇權力高於國會，擁有軍事外交大權。
35. 有一本近代西洋史：「二十世紀肇端時，□□是歐洲所剩下的唯一的真正專制帝國。國家權威建立在沿襲下來的複雜的官僚科層組織和秘密警察之下。儘管在十九世紀中期以後，也有若干的改革和變遷，但在基本上仍未脫離專制而落後的本色。」上文所描述應是哪一個國家？(A)俄國 (B)法國 (C)德國 (D)英國。
36. 小明為了寫小論文〈近代帝國主義的興衰史〉，上網搜尋了很多資料，其中找到了下面四張「帝國主義極盛時期殖民地簡圖」。請問：甲、乙、丙、丁四圖依序為哪四個國家？(A)西班牙、法國、葡萄牙、英國 (B)美國、西班牙、葡萄牙、英國 (C)英國、法國、葡萄牙、美國 (D)美國、法國、西班牙、美國。



37. 歷史人物常有正、反兩面極端的評價，關於某位歷史人物，擁護者說：「他是一位不尋常的政治家……現代歐洲國家歷史上最偉大的國際政治大師之一……他使歐洲享有相對國際和平達三十年之久。」但反對者說：「他不理解世界的新興力量，民族自決的概念……自由主義對他來說，是必須使用暴力加以驅除的『幽靈』或消失的『迷霧』。」請問：引文描寫應是哪位歷史人物？(A)馬志尼 (B)俾斯麥 (C)加富爾 (D)梅特涅。
38. 「我們所需要的消極因素是讓我們安寧。要防止法國——假如它不願和我們維持和平的話——找到盟友，只要法國還沒有盟友，它對我們就沒有什麼危險。」這句話最有可能是以下何人說的？(A)1861年，義大利首相加富爾 (B)1882年，德國首相俾斯麥 (C)1900年，俄國沙皇尼古拉二世 (D)1910年，德國皇帝威廉二世。

◆37-40為題組

關於十九世紀某一場戰爭的評論：「這場甲、乙兩國所進行的戰爭，結果是甲勝乙敗。戰勝的甲國國王堂而皇之的在乙國國王的宮殿中宣布立國，而戰敗的乙國雖然對此感到羞辱無比，卻也從此確立自己的民主政治，此後再未出現過君主制度，只不過兩國世仇的關係也就此結下。同時得利的還有丙國，因為她利用乙國忙於戰爭的良機，得以順利完成國家的統一，也宣布建國。」

39. 甲、乙、丙分別為哪些國家？(A)英國、法國、俄國 (B)法國、俄國、普魯士 (C)普魯士、法國、義大利 (D)普魯士、奧國、法國。
40. 由上述資料判斷，這場影響三方的戰爭應該為何？(A)第一次世界大戰 (B)普法戰爭 (C)克里米亞戰爭 (D)普奧戰爭。

◆41-42題為題組

下列是美國史上某一著名文件的節錄：「在歐洲國家的戰爭中，在與歐洲國家本身有關的事情中，我們從來沒有參加過，這樣做也符合我們的政策。只有在我們權利受到侵害或嚴重威脅的時候，我們才怨恨侵害或準備防禦。…對於現存的任何歐洲國家的殖民地或屬地我們未曾干涉過，而且將來也不干涉。但是那些已經宣布獨立並且維持獨立的政府，如果遭受到任何歐洲國家為了壓迫它們或以

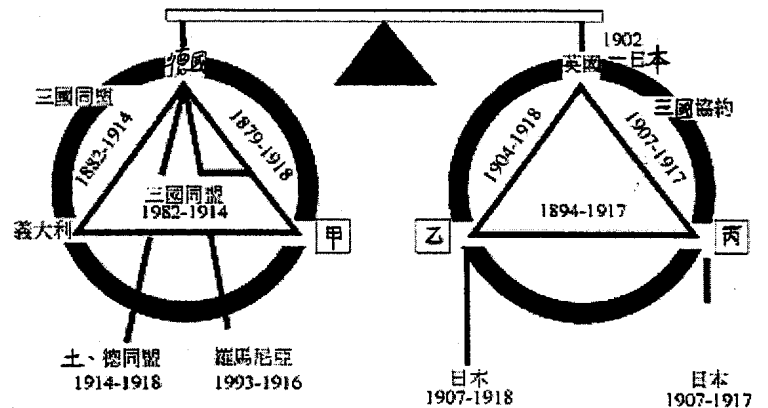
其它任何方式控制它們的命運，而進行的干涉，我們只能認為是對美國的不友好意向的表現。」

41. 美國提出此種主張的背景為何？ (A)美國欲脫離英國統治而獨立 (B)當時歐陸正值保守主義盛行之際 (C)維也納會議召開時，奧國主導歐洲版圖重劃 (D)德國與義大利進行統一戰爭之時。
42. 文中「那些已經宣布獨立並且維持獨立的政府」是指哪一個地區？ (A)加拿大 (B)希臘 (C)德國與義大利 (D)中南美洲。

二、多重選擇題：16%，共計 8 題，每小題 2 分，錯 1 者倒扣 1/5 題分

43. 這份宣言是出現在十九世紀的法國，在一場革命之後：「法蘭西人！你們把巴黎給法國做的榜樣作為全世界的榜樣吧！你們要有條不紊和充滿信心，準備好即將號召你們去建立永久制度。臨時政府希望建立一個共和國，然而必須由人民批准，至於體現人民最高權力的全國政府的確形式，將立即交付人民決定。」根據上文的敘述，哪些為正確？ (A)這份宣言發表於七月革命 (B)這份宣言發展於二月革命 (C)這次革命的對象是路易腓力 (D)這次革命的對象是查理十世 (E)這次革命之後建立第三共和。
44. 他這麼說著：「我們現在可以開始建立□□主義的秩序了」接著他宣布新政府將廢除所有的秘密外交，從此以後只有在人民的監督下，政府才從事對外的交涉。他也告訴交戰國，俄國決定休戰三個月，終止介入第一次世界大戰。最後則宣布有關農民與土地的命令，一筆勾銷農民所有的債務，並無償的將地主的土地，分由農民耕種。期許了許久的□□主義革命，就這樣戲劇性平平淡淡完成了。根據上文的說明，何者為正確？ (A)「他」是指列寧 (B)文中的「交戰國」是指德國 (C)這是政策發表於俄國二月革命之後 (D)這次革命是由革命黨人所策畫的 (E)這次革命之後建立了民主的臨時政府。

45. 右圖是第一次世界大戰前，歐洲兩大對立的集團，依此圖的敘述，何者為正確？ (A)圖中的甲、乙、丙分別為俄、法、奧國 (B)B 圖中的英國所以會與乙、丙國家締結盟約，是因為受到甲國威脅的緣故 (C)第一次世界大戰的導火線，是由圖中甲國家首先引爆 (D)義大利因與乙國交惡，而加入三國同盟陣營 (E)一戰引爆的關鍵是丙國為了支持塞爾維亞。



46. 19 世紀中南美洲各地在民族主義思潮刺激下，尋求獨立，並且獲致成功，有關中南美洲的獨立，下列敘述正確的是 (A)西班牙是中南美洲最大的殖民國 (B)拿破崙進占西班牙成為爭取獨立的關鍵時機 (C)美、英兩國的支持是中南美洲各國獨立成功相當重要的外力因素 (D)獨立運動的領導人以半島人為主 (E)南美洲獨立運動由玻利瓦爾領導，使委內瑞拉、哥倫比亞等地因而獨立。
47. 19 世紀時，義大利和德意志的民族統一運動，有若干相似之處？ (A)皆因奧國為其統一的最大障礙，故統一戰爭的第一仗都是對奧之戰 (B)兩國在統一之前均有有志之士鼓吹民族主義 (C)兩國皆在統一之前先完成關稅統一的經濟合作 (D)皆由一個獨立的邦國領導統一運動 (E)兩國完成統一後，皆成為新帝國主義的侵略者。
48. 下列有關 19 世紀世界史的敘述，哪些為正確？ (A)英國在和平的民主改革外，並推動社會改革，利用社會福利立法消弭了許多社會問題 (B)美國至日本叩關，刺激了日本的大政奉還與明治維新 (C)歐洲民族主義蓬勃發展，其原因之一是受了拿破崙征戰的刺激 (D)「法國一著涼，全歐打噴嚏」指法國革命引爆歐洲各地革命風潮 (E)日本在十九世紀後期，廢除不平等條約轉而變成新帝國主義者。
49. ○○會議之後，列強各自制定瓜分非洲的計畫。英國提出「二 C 計畫」，法國提出「雙 S 計畫」，非洲淪為「人為刀俎，我為魚肉」的命運。請問下列相關敘述哪些正確？ (A)此指 1878 年俾斯麥所主持的柏林會議 (B)英國的「二 C 計畫」是指縱向從開普敦 (Cape) 到開羅 (Cairo) (C)但英國的「二 C 計畫」卻受阻於法國而無法完成 (D)法國的「雙 S 計畫」企圖建立一個從西非塞內加爾 (Senegal) 到東非索馬利亞 (Somalia) 橫斷非洲大陸的北非大帝國，因此英法之間的衝突不可避免 (E)列強的非洲大獵行動，使非洲被瓜分殆盡，沒有獨立國家。
50. 一位歷史學家指出：「至 1871 年，民族主義的原則已在歐洲許多地區獲勝，但還是有部分地區仍是『各民族的牢籠』。不過，這些『牢籠』中的居住者正變得愈來愈難以控制。」文中所提到的哪些「各民族的牢籠」的地區終因第一次世界大戰而瓦解？ (A)奧匈帝國 (B)日本幕府政治 (C)俄羅斯帝國 (D)法國第三共和 (E)鄂圖曼土耳其帝國。

