

適用班級：高一 1~14 班

考試範圍：人口、都市

注意事項：基本資料及答案卡劃記錯誤扣總分五分

填答方式：答案卡

一、單一選擇題 (一題 2 分)

1. 表資料是某國及其四個都市人口於十年間的變化 (單位：萬人)。根據表中資料判斷，四都市中哪些有較明顯的都市化現象？ (A)甲乙 (B)甲丁 (C)乙丙 (D)丙丁。

	全國人口	甲市	乙市	丙市	丁市
1995 年	1,800	30	70	50	11
2005 年	2,000	36	77	55	13

2. 科學園區的設立除了帶動新竹市的成長外，這些年來也帶動了新竹縣的發展，不少園區新貴逐漸往竹東、竹北等地區尋找落腳之處。上述情形主要描述的是新竹市的何種現象？ (A)都市化 (B)都市成長 (C)郊區化 (D)內部結構的改變。

3. 「生於戰後嬰兒潮的人口，10 年後開始陸續變為老人，香港人口老化的浪潮將在 10 多年後湧現，屆時勢將觸動多項社會問題。現時還有 10 多年，即人口學所稱的『人口機會窗』，好好利用這個『喘息機會』紓緩人口老化問題，否則屆時才解決為時已晚。」請問：人口機會窗通常在人口轉型的甚麼階段出現？ (A)早期擴張階段 (B)晚期擴張階段 (C)高穩定階段 (D)低穩定階段。

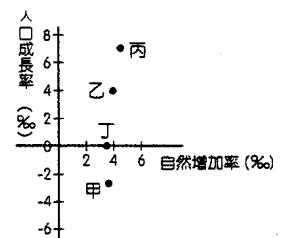
4. 下表為某 4 國發展程度指標的部分資料，請問何國的都市分布型態為首要型？ (A)甲 (B)乙 (C)丙 (D)丁。

國家 \ 指標	總人口數 (百萬人)	最大都市人口 (萬人)	鄉村人口比例 (%)
甲	300	900	19
乙	180	1200	16
丙	1,000	1200	71
丁	75	900	57

5. 下表為臺灣歷年的人口推計結果，從表中可以推論下列哪些事實是正確的？用女性預期壽命比男性長、人口總數持續增加到民國 116 年、丙性別比例較中國大陸偏高、(丁)民國 116 年以後，人口呈現負成長的主要原因是移入率降低、(戊)民國 98 年的扶養比約為 40.2% (A)甲丙戊 (B)甲丙丁 (C)乙丁戊 (D)乙丙戊。

民國	85 年	98 年	116 年	132 年
人口成長率 (%)	0.77	0.52	0.00	-0.32
總人口 (萬人)	2,274	2,458	2,571.1	2,512.3
預期壽命 (男)	74.1	75.3	76.0	77.3
預期壽命 (女)	77.0	79.4	81.46	84.2
幼年人口比例 (%)	22.0	19.9	17.9	17.2
壯年人口比例 (%)	69.7	71.3	64.8	60.9
老年人口比例 (%)	8.3	8.8	17.3	20.9

6. 附圖為 4 個地區的人口成長率及自然增加率圖。請問淨移出口最多的是哪一個地區？ (A)甲 (B)乙 (C)丙 (D)丁。



7. 穆勒在南美洲玻利維亞的拉巴斯是世界最高的首都，請問此地成為主要人口集中區的最主要原因為何？ (A)氣候涼爽 (B)地形平坦 (C)土壤肥沃 (D)水資源充足。

8. 附圖為義大利 1970 及 1990 年兩個年代的人口金字塔圖。比較兩圖的人口特徵，下列敘述何者正確？ (A) 1970 年時，義大利為靜止型人口金字塔 (B)幼年人口縮減的比例最高 (C)義大利外來人口增加很多 (D)義大利的男性人口向來多於女性。

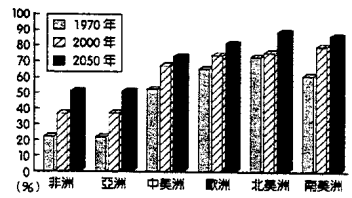


9. 附表為美國 2010 年前 5 大都市的人口數。美國的都市規模分布應該屬於哪一種類型？ (A)首要型 (B)等級大小法則 (C)複合型 (D)混合型。

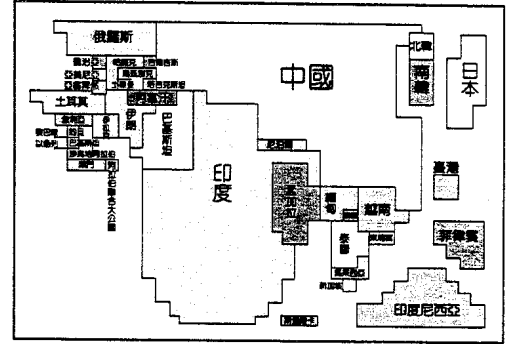
	都市名稱	人口數
1	紐約	8,175,133
2	洛杉磯	3,792,621
3	芝加哥	2,655,598
4	休士頓	2,099,451
5	費城	1,526,006

10. 下列哪些敘述，可呈現該都市位置的優越性？用莫斯科放射狀的鐵路系統可通往東區、中國、中亞和國協各處、(乙)上海位於長江三角洲、(丙)新加坡港地處國際海運洲際航線上，共有 250 多條航線連接世界各主要港口，是世界上最繁忙和最大的集裝箱港口之一、(丁)東京位於板塊的接觸帶上，地震頻繁、(戊)紐約位居美國大西洋東北岸，以伊利運河連接五大湖區，鄰近全球最繁忙的大西洋航線 (A)甲丙丙 (B)丙丙丁 (C)丙丁戊 (D)甲丙戊。

11. 附圖為世界各大洲 1970 ~ 2050 年的都市化程度長條圖。由圖可知，下列何者敘述正確？ (A) 1970 年歐洲的都市化程度最高 (B) 2050 年中美洲的都市化程度高於南美洲 (C) 同時期的非洲和亞洲的都市化程度皆低於其他各大洲 (D) 北美洲在 1970 ~ 2000 年的都市化程度的成長率最高。

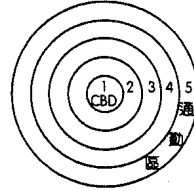


12. 附圖是以 2000 年時某項指標繪製的亞洲地圖，該指標最可能是各國的 (A) 人口總數 (B) 平均國民所得 (C) 能源消耗量 (D) 出生率。



13. 附表為東京市各區工作人口與居住人口 (單位：萬人) 的比較。請問哪一區離中心商業區最近？ (A) 甲 (B) 乙 (C) 丙 (D) 丁。

	甲	乙	丙	丁
日間人口	85.3	89.4	54.9	16.2
夜間人口	4.2	92.0	55.7	16.0



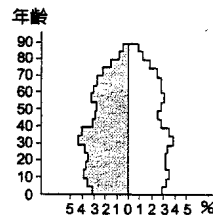
14. 依照同心圓模式的都市結構，哪一個圈帶最初是富人居住區，之後因商業、工業等經濟活動的不斷進入，環境品質下降，逐步成為貧民集中、犯罪率高的地方？ (A) 第 1 帶 (B) 第 2 帶 (C) 第 3 帶 (D) 第 4 帶。

15. 附表為東亞部分國家的人口資料 (單位：%)，請問下列哪一個國家的扶養比最高？ (A) 中國 (B) 巴基斯坦 (C) 印度 (D) 馬來西亞。

國家	出生率	死亡率	總生育率	0 ~ 14 歲	15 ~ 64 歲	65 歲以上
中國	12	7	1.5	17	74	9
巴基斯坦	28	8	3.6	36	60	4
印度	23	7	2.6	33	62	5
馬來西亞	21	5	2.6	30	65	5

16. 附表是四個國家某年的人口出生率和死亡率資料。請問：哪一個地區的出生和死亡資料最能代表圖中的人口型態？ (A) 甲 (B) 乙 (C) 丙 (D) 丁。

	甲	乙	丙	丁
出生率	45	13	37	43
死亡率	33	11	10	9



17. 戰爭與饑荒常常會引起難民潮，造成接納難民各國的經濟壓力。請問：下列相關敘述，何者錯誤？ (A) 衣索比亞常有饑荒而產生難民 (B) 伊拉克曾鎮壓其境內的庫德族人，使其族人紛紛逃往鄰國土耳其及伊朗 (C) 美國因「911」攻打阿富汗，也造成阿富汗的難民潮 (D) 中南半島的泰國常常因為政變引發難民潮。

18. 依照遷移動機，人口遷移可分為強迫遷移與自由遷移。請問：下列何者屬於強迫遷移？ (A) 十八世紀西非黑人至美洲 (B) 十八世紀歐洲人移往新大陸 (C) 臺灣人移民至紐西蘭定居 (D) 墨西哥移民非法穿越美國邊境。

19. 資料顯示，甲國某年的人口出生率為 25‰，而該年有 5,000 個嬰兒誕生，則甲國在某年的人口總數為多少？ (A) 50,000 人 (B) 100,000 人 (C) 200,000 人 (D) 400,000 人。

20. 自從有了國家與邊界，人們再也不能像古代一樣自由往來於世界各地，尋找豐衣足食的生活。請問：在移民過程中，下列何者不是中間障礙？ (A) 明清時期的臺灣海峽 (B) 清朝的海禁 (C) 移民政策 (D) 工作的待遇。

21. 附表 (右上) 是臺灣四個縣市某年的人口出生率、死亡率和人口成長率資料。該年哪一個縣市「封閉系統人口成長」的性質最顯著？ (A) 甲 (B) 乙 (C) 丙 (D) 丁。

(單位：‰)				
縣市	甲	乙	丙	丁
出生率	16.01	15.97	19.92	15.06
死亡率	5.33	7.13	4.23	5.02
人口成長率	17.21	0.58	29.67	9.46

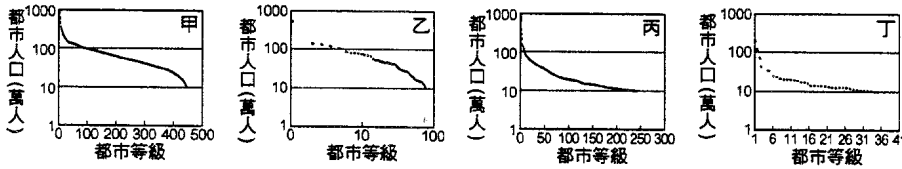
地區	甲	乙	丙	丁
移出率	4.3	12.3	7.2	5.4
移入率	5.9	6.9	4.1	11.6
人口成長率	10.6	12.5	4.3	8.2

22. 附表 (右下) 是四個地區的人口資料，請依資料找出人口自然增加率最高的地區？ (A) 甲 (B) 乙 (C) 丙 (D) 丁。

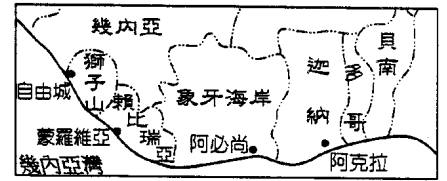
23. 德國地理學者克氏所提出的中地理論，最主要是在探討都市和腹地之間的經濟關係。請問：下列有關於中地的敘述正確的有哪些？ (甲) 中地有階層之分； (乙) 中地可以對腹地提供服務； (丙) 7-11、學校、醫院和圖書館都可以算是一種中地； (丁) 消費者一般到高級中地，需走較遠的路程，且只能買到高級的商品 (A) 僅甲乙丙 (B) 僅乙丙丁 (C) 僅甲丙丁 (D) 甲乙丙丁。

24. 遠在四千多年前，西亞、埃及、印度等地就已有居民住在城市之中，只是這些早期的城市規模都不大。限制這些城市人口數量的最主要因素是什麼？ (A) 農村餘糧有限 (B) 部落爭戰頻繁 (C) 天災疫癘頻仍 (D) 水量供應不足。

25.巴西的聖保羅是擁有眾多人口的首要型都市。請問：下列哪一張圖是巴西的都市型態圖？ (A)甲 (B)乙 (C)丙 (D)丁。



26.附圖是西非的地圖，臨海的大都市大多與殖民有關。請問：下列敘述何者錯誤？ (A)因為該地的內陸狹小，所以大都市都建於沿海的地區 (B)這些都市大多為人口集中中心 (C)都具有港口的機能 (D)大都市之間，少有交通路線之往來，但有各自往內陸發展的交通路線。



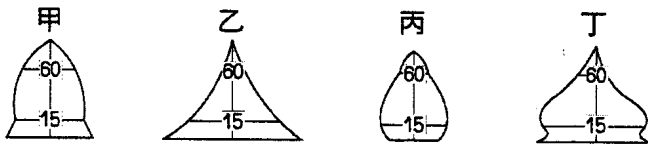
27.同心圓理論與扇形理論其相同點為何？ (A)均無工業區 (B)分區完全相同 (C)最外圍均為貧民窟 (D)高級住宅區與低級住宅區不相鄰。

28.讓臺灣西部走廊成為一日化的地方生活圈，需要靠哪一項交通建設才能實現？ (A)第二高速公路 (B)高速鐵路 (C)臺鐵的捷運化 (D)國內航空系統。

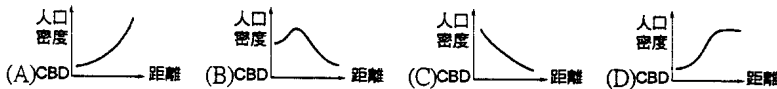
29.都市內部結構的模式，一般可分成三種。請問：「多核心結構」都市的發展原因為何？ (A)都市擴張 (B)時空縮斂 (C)都市計畫 (D)擴散與模仿。

30.依中地理論，假設某地區有甲、乙、丙三種中地，甲中地等級最高，丙中地等級最低。請問：下列相關敘述，何者正確？ (A)甲中地的數目最多 (B)乙中地提供商品的價值最高 (C)甲中地的市場區內人口最多 (D)丙中地提供的商品種類最多。

31.正在發展中的都市，不斷有外來的移民湧入。下列人口金字塔圖中，何者最能表現此類型都市的人口組成特色？ (A)甲 (B)乙 (C)丙 (D)丁。



32.下列四圖中，何者屬於西方國家的都市人口密度分布類型？



商品平均購買頻率 (次/年)	A	B	C	D	E	F	G
中地等級	340	2	60	0.5	150	0.01	15
甲	◎		◎		◎		
乙	◎	◎	◎	◎	◎	◎	◎
丙	◎	◎	◎		◎		◎

33.附表是某地區甲、乙、丙三個不同等級中地所提供的商品類型比較表。請問：若按照中地等級由高至低排列，其正確順序為何？ (A)甲乙丙 (B)甲丙乙 (C)乙丙甲 (D)丙甲乙。

二、單一選擇題組題 (一題 2 分)

※「加爾各答曾是英屬印度帝國的首都，為印度東岸最大的城市，聚集了一千多萬人口。在殖民時期，此地農、礦、工、商無一不發達，但本世紀以來無數次的戰爭與政局不安，暴風、地震及早澇使加爾各答在短短幾十年內，湧進了超過 600 萬以上的移民，出生率居高不下的情況下，加爾各答成為全世界最大的「都市災區」。」請回答問題：

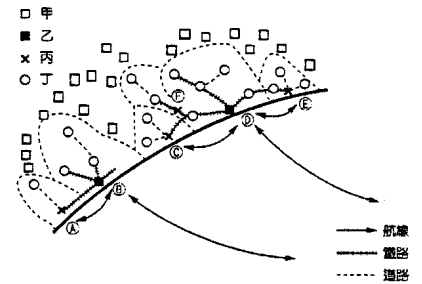
34.根據上文判斷，加爾各答需面對下列哪些都市問題？(甲)公共設施不足；(乙)外籍勞工增加；(丙)居住環境惡化；(丁)都市氣溫下降。 (A)甲乙 (B)甲丙 (C)乙丙 (D)乙丁。

35.加爾各答在短短幾十年內，湧進了超過 600 萬以上的移民，請問下列何者為造成此種特殊地理現象的最主要原因？ (A)政府的移民政策 (B)交通運輸發達 (C)鄉村過度貧窮 (D)工業蓬勃發展。

※圖為沿海國家都市(及聚落)的分布體系，Ⓐ~Ⓔ為港口，充分顯示殖民地式背景。試問：

36.沿海都市(或聚落)的港口中以何者的腹地最為廣大？ (A)Ⓓ (B)Ⓒ (C)Ⓔ (D)Ⓔ。

37.甲乙丙丁四種等級之都市(或聚落)，由高向低的順序為何？ (A)甲乙丙丁 (B)乙丙丁甲 (C)甲丁丙乙 (D)乙丁丙甲。

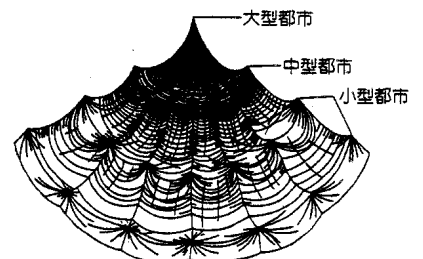


※圖為都市階層分布之示意圖。試問：

38.小型都市的數量有多少個？ (A)7 (B)14 (C)18 (D)21。

39.各級都市間的線條，在交會點(高峰)形成都市。這些線條代表的意義，最不可能為下列何者？

(A)土地價值 (B)交通路線 (C)農業產值 (D)人口密度。



※附表是 1893 ~ 2010 年，臺灣北、中、南、東四大區域人口占臺灣總人口比例的時間變化資料表。請問：

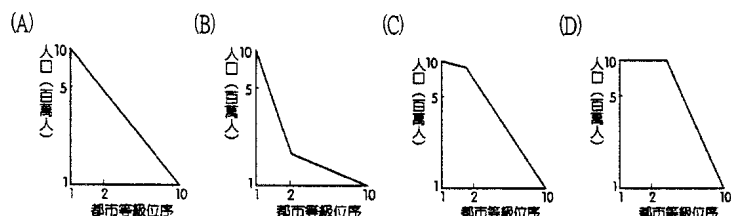
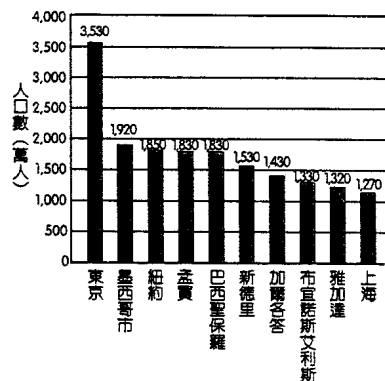
(單位：%)

年代 \ 區域	甲	乙	丙	丁
1893	43.23	0.23	30.13	26.41
1905	35.96	1.65	30.40	32.00
1925	32.83	2.55	31.09	33.53
1965	32.85	4.42	32.91	29.82
1985	30.37	3.31	40.79	25.53
1995	29.28	2.88	42.46	25.38
2001	28.71	2.68	43.35	25.27
2010	28.01	2.49	44.46	25.04

40. 哪些區域的人口主要集中在盆地地形？ (A) 甲丙 (B) 丙丁 (C) 甲丁 (D) 乙丁。  
 41. 丙區在 1965 年以後人口比例變化的現象，最適合以下列哪項概念來解釋？ (A) 都市化 (B) 中地化 (C) 郊區化 (D) 都會化。  
 42. 哪些區域成立加工出口區對都市人口成長具有很大的拉力？ (A) 甲丙 (B) 丙丁 (C) 甲丁 (D) 乙丁。

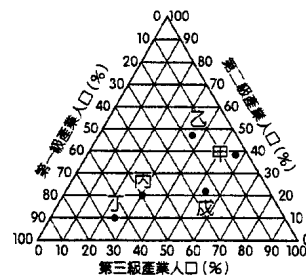
※附圖為 2005 年全球前十大城市的人口柱狀圖。請問：

43. 「世界都市」除具有一定人口規模外，也有一定比例的外籍居民，交通發達，聚集大量金融和指揮中心，是重要的國際機構的所在地。圖中符合上述特質的第一層級世界都市有幾個？ (A) 2 個 (B) 3 個 (C) 4 個 (D) 5 個。  
 44. 墨西哥市經常面臨哪些環境災害？用火山(□)地震(△)水災(▽)地層下陷(○) (A) 甲乙丙 (B) 甲乙丁 (C) 乙丙丁 (D) 甲乙丙丁。  
 45. 全球前十大城市主要分布於開發中國家，造成此一現象的合理解釋為何？ (A) 開發中國家高度工業發展，因此都市化程度高 (B) 開發中國家外籍移民多，使都市人口快速增加 (C) 已開發國家因交通革新而郊區化，都市人口因此下降 (D) 開發中國家因「都市工業拉力」與「鄉村貧窮推力」共同作用而產生此一結果。  
 46. 由圖可推測印度的都市等級與都市人口數之間應呈現下列何種關係？



※附圖是甲~戊等 5 個國家三級產業就業人口的三角圖。請問：

47. 哪些國家仍處於都市化發展歷程的初期階段？ (A) 甲乙 (B) 乙丁 (C) 丙丁 (D) 甲戊。  
 48. 判讀附圖，下列敘述何者正確？ (A) 乙國的第一級產業人口比例最高 (B) 丁國的第二級產業人口有 75 % (C) 丙國的第三級產業人口有 50 % (D) 甲國屬於高度城鄉關係。



※曾有學者將國家前3位都市的規模及比例關係，以「英國：100-14-13 (820萬)」表示，代表前3位都市的人口比值為100：14：13，且最大都市有820萬人口。以下表格為數個國家的比值，試問：

49. 丹麥第二大都市的人口數量約為： (A) 11萬 (B) 10萬 (C) 7萬 (D) 5萬。  
 50. 哪一個國家呈現最典型之「首要型」都市分布？ (A) 加拿大 (B) 南非 (C) 波蘭 (D) 奧地利。

國家	比例	國家	比例
英國	100-14-13 (820萬)	南非	100-80-29
丹麥	100-11-9 (88萬)	奧地利	100-8-6
加拿大	100-77-30	波蘭	100-53-26
墨西哥	100-18-13	澳大利亞	100-80-25

桃園市立平鎮高級中學 105學年第2學期 期末考一年級不限組別地理 II [20170628100050101092] 全體考生 試題分析表

題號	題型	題分	標準答案	全體					558			高分組			151			低分組			151			全體答對率	難易指數	鑑別指數
				A	B	C	D	E	未	A	B	C	D	E	未	A	B	C	D	E	未					
1	單選題	2	B	290	179	82	7	0	0	53	73	23	2	0	0	102	23	23	3	0	0	32.08%	0.318	0.331		
2	單選題	2	C	124	86	295	53	0	0	26	18	96	11	0	0	43	36	49	23	0	0	52.87%	0.480	0.311		
3	單選題	2	B	81	355	38	84	0	0	15	118	6	12	0	0	30	67	20	34	0	0	63.62%	0.613	0.338		
4	單選題	2	D	10	253	105	187	0	3	2	62	27	60	0	0	5	81	29	33	0	3	33.51%	0.308	0.179		
5	單選題	2	A	518	31	5	4	0	0	139	10	1	1	0	0	131	14	3	3	0	0	92.83%	0.894	0.053		
6	單選題	2	A	478	6	44	30	0	0	137	2	9	3	0	0	119	1	17	14	0	0	85.66%	0.848	0.119		
7	單選題	2	A	449	34	20	55	0	0	129	6	1	15	0	0	106	16	14	15	0	0	80.47%	0.778	0.152		
8	單選題	2	B	10	535	9	4	0	0	3	144	2	2	0	0	3	145	2	1	0	0	95.88%	0.957	-0.007		
9	單選題	2	B	204	264	76	14	0	0	37	96	13	5	0	0	73	39	33	6	0	0	47.31%	0.447	0.377		
10	單選題	2	D	65	12	4	476	0	1	7	2	2	140	0	0	24	4	0	122	0	1	85.30%	0.868	0.119		
11	單選題	2	C	2	3	548	5	0	0	0	1	150	0	0	0	0	2	145	4	0	0	98.21%	0.977	0.033		
12	單選題	2	A	408	18	19	113	0	0	126	4	2	19	0	0	92	8	8	43	0	0	73.12%	0.722	0.225		
13	單選題	2	A	342	183	13	20	0	1	112	34	2	2	0	1	73	62	6	10	0	0	61.11%	0.613	0.258		
14	單選題	2	B	35	479	20	24	0	0	5	140	5	1	0	0	18	106	9	18	0	0	85.84%	0.815	0.225		
15	單選題	2	B	43	480	23	12	0	0	6	134	6	5	0	0	24	117	6	4	0	0	86.02%	0.831	0.113		
16	單選題	2	B	12	446	90	9	0	1	1	130	17	2	0	1	10	103	35	3	0	0	79.93%	0.772	0.179		
17	單選題	2	D	21	18	124	393	0	2	5	4	25	117	0	0	7	2	40	101	0	1	70.43%	0.722	0.106		
18	單選題	2	A	545	1	2	10	0	0	150	0	0	1	0	0	142	0	2	7	0	0	97.67%	0.967	0.053		
19	單選題	2	C	1	29	517	9	0	2	1	9	137	4	0	0	0	13	136	2	0	0	92.65%	0.904	0.007		
20	單選題	2	D	23	4	17	512	0	2	6	1	2	141	0	1	9	1	5	135	0	1	91.76%	0.914	0.040		
21	單選題	2	D	29	52	159	317	0	2	4	9	29	108	0	1	9	23	60	59	0	1	56.63%	0.550	0.331		
22	單選題	2	B	71	430	15	41	0	1	14	125	5	6	0	1	29	95	5	22	0	0	77.06%	0.728	0.199		
23	單選題	2	A	493	4	13	48	0	0	136	1	4	10	0	0	121	3	6	21	0	0	88.35%	0.851	0.099		
24	單選題	2	A	200	93	108	155	0	2	71	15	27	38	0	0	44	40	27	38	0	2	35.84%	0.381	0.179		
25	單選題	2	B	104	192	143	117	0	2	19	76	30	25	0	1	41	32	46	31	0	1	34.41%	0.358	0.291		
26	單選題	2	A	342	13	26	175	0	2	115	1	2	32	0	1	64	8	19	60	0	0	61.29%	0.593	0.338		
27	單選題	2	D	11	50	9	487	0	1	1	12	1	136	0	1	5	23	6	117	0	0	87.28%	0.838	0.126		
28	單選題	2	B	33	437	83	4	0	1	6	126	18	0	0	1	12	101	35	3	0	0	78.32%	0.752	0.166		
29	單選題	2	A	439	17	52	47	0	3	135	1	6	8	0	1	96	10	31	13	0	1	78.67%	0.765	0.258		
30	單選題	2	C	31	3	475	47	0	2	6	1	137	6	0	1	13	2	106	29	0	1	85.13%	0.805	0.205		
31	單選題	2	D	25	7	25	499	0	2	5	0	2	143	0	1	10	2	12	126	0	1	89.43%	0.891	0.113		
32	單選題	2	B	47	410	44	55	0	2	7	128	8	7	0	1	20	83	22	25	0	1	73.48%	0.699	0.298		
33	單選題	2	C	6	50	493	6	0	3	2	7	139	2	0	1	3	30	112	4	0	2	88.35%	0.831	0.179		
34	單選題	2	B	40	438	79	0	0	1	3	138	10	0	0	0	15	94	41	0	0	1	78.49%	0.768	0.291		
35	單選題	2	C	50	52	350	105	0	1	5	14	107	25	0	0	31	15	65	39	0	1	62.72%	0.570	0.278		
36	單選題	2	C	14	8	513	20	0	3	4	2	139	5	0	1	5	2	138	5	0	1	91.94%	0.917	0.007		
37	單選題	2	B	3	464	38	50	0	3	2	135	5	8	0	1	1	102	23	24	0	1	83.15%	0.785	0.219		
38	單選題	2	B	11	504	16	26	0	1	2	141	2	6	0	0	5	130	6	9	0	1	90.32%	0.897	0.073		
39	單選題	2	C	3	29	521	3	0	2	1	8	141	0	0	1	1	10	137	2	0	1	93.37%	0.921	0.026		
40	單選題	2	B	153	364	25	14	0	2	29	112	5	4	0	1	62	73	10	5	0	1	65.23%	0.613	0.258		
41	單選題	2	A	487	3	20	47	0	1	134	1	3	12	0	1	120	1	10	20	0	0	87.28%	0.841	0.093		
42	單選題	2	C	105	80	291	81	0	1	23	13	96	18	0	1	26	33	57	35	0	0	52.15%	0.507	0.258		
43	單選題	2	A	290	201	37	29	0	1	105	36	6	3	0	1	47	70	22	12	0	0	51.97%	0.503	0.384		
44	單選題	2	B	206	151	123	77	0	1	57	51	27	15	0	1	54	37	38	22	0	0	27.06%	0.291	0.093		
45	單選題	2	D	60	41	70	386	0	1	8	11	12	119	0	1	26	19	27	79	0	0	69.18%	0.656	0.265		
46	單選題	2	C	31	198	254	74	0	1	5	32	92	21	0	1	16	68	49	18	0	0	45.52%	0.467	0.285		
47	單選題	2	C	83	11	440	24	0	1	17	3	128	2	0	1	34	3	102	12	0	0	78.67%	0.762	0.172		
48	單選題	2	D	11	72	75	400	0	1	3	14	13	121	0	1	7	38	23	83	0	0	71.51%	0.672	0.245		
49	單選題	2	B	49	382	120	6	0	1	12	111	23	4	0	1	21	82	46	2	0	0	68.46%	0.639	0.192		
50	單選題	2	D	23	35	15	484	0	1	3	8	0	139	0	1	15	17	4	115	0	0	86.74%	0.841	0.159		

選填題或五選項以上各題以 1(或A) 表示作答正確, 2(或B) 表示作答錯誤

五標 (84, 80, 74, 68, 62) 平均 73.79