

考試範圍：第 1 章~ 第 4 - 1 章

考試班級：201~214

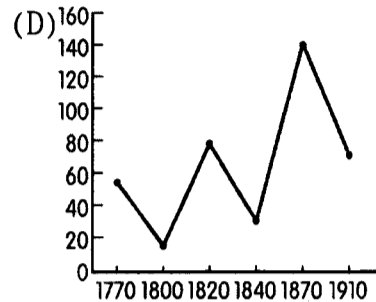
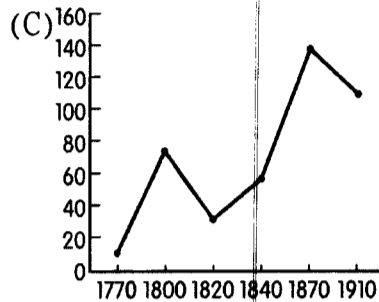
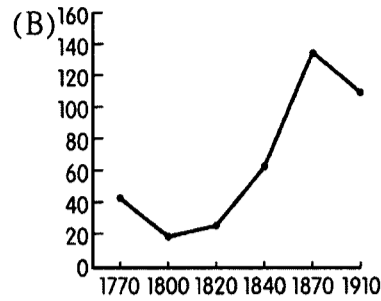
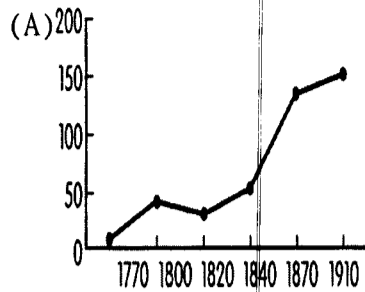
試題卷數：試卷共 3 張 5 頁、答案卡一張

一、單選題：2 分/題，共 45 題，共 90 分，答錯不倒扣

電腦劃卡資料若不清楚；錯誤扣 5 分

1. 有一份文件，其中有兩段話：「從此刻起，至敵人被逐出共和的土地為止，全國人民均須隨時待命，準備應徵入伍。」
「未婚青年須上戰場；已婚男子須製造武器、運送補給；婦女須縫製軍服與帳篷，或充當看護；兒童須將舊布變成繃帶；而老人則應主動到公共場所，去鼓舞戰士士氣，散布對君主的仇恨，宣揚共和的一體感。」就其內容判斷，這份文件應是 (A)美國獨立戰爭前夕，大陸會議發表的獨立宣言 (B)法國大革命戰爭時，國民公會發布的全民皆兵令 (C)清教徒革命時，克倫威爾對英國人民發布的總動員令 (D)1848 年二月革時，法國革命軍向法國人民發布的告示。
2. 霍布斯邦在其史學名著《革命的年代》中曾如此寫到：「革命的年代是一場新舊交替的雙元大爆發，舊經濟被碾碎於□□的機器巨輪之下，舊體制被送上○○的民主斷頭臺，從此開啟了由歐洲主導的現代世界。」請問□□、○○依序應填入：(甲)美國獨立革命(乙)工業革命(丙)法國大革命(丁)科學革命(戊)宗教革命 (A)(甲)(乙) (B)(乙)(丙) (C)(丙)(丁) (D)(丁)(戊)。
3. 以下有關十九世紀工業資本主義發展所造成的影響之敘述，那一項不合史實？(A)掀起西方舊帝國主義的侵略行為 (B)形成大財團壟斷市場的現象 (C)使工業資本家逐漸取得政治參與權 (D)使社會財富分配趨於平等。
4. 英國工業革命的成功與政府支持有關，工業革命的結果對上層階級有重大利益，英國在何事之後，地主與資產階級在議會中權力較大，國會政策均有利工商發展且支持工業革命？(A)清教徒革命 (B)光榮革命 (C)七年戰爭 (D)三十年戰爭。
5. 「為什麼這一劃時代的發展會出現在西方呢？一個原因在於……學者和藝術家強烈反對中世紀的整個生活方式，……他們不希望通過穆斯林和經院哲學家的變形眼鏡來看古人，而是直接求助原始資料，親自掘起雕像、閱讀原文。他們可以接近的不僅有柏拉圖和亞里斯多德，還有歐幾里德和阿基米德。」關於這段敘述，以下何者正確？(A)反映古典研究解放了人們思想，有助於科學革命的誕生 (B)反映科學革命的核心價值，有助於文藝復興的推動 (C)反映了對理性的崇拜，為啟蒙運動提供動力 (D)反映古希臘科學家的影響力無遠弗屆，主宰了科學革命的理論基礎。
6. 以下論述中，何者為亞當斯密的學說論點？(A)各人應自由地追求其最大利益，政府不應有任何壓迫與干預 (B)政府應適度介入經濟活動，避免因過度放任而造成利益分配不均 (C)私有財產應予以沒收，資本階級的政治與社會也應推翻 (D)社會的組成分子應互助合作，並合理地分配利潤。
7. 法國大革命在 1789 年通過的〈人權宣言〉和 1791 年制定的《憲法》，被認為決定了革命的方向與原則，也是革命中最重大的成就；但後來有部分的評論者認為這兩份文件「具有明顯的中產階級偏見」、「是中產階級主導下的產物」。由以下哪項節錄的條文，可看出具有中產階級的傾向？(A)人人生而平等，政府存在的目的在於維護人們的自然權利 (B)一切最高權力都來自於國家，任何團體與個人，未依據國家授權不得行使權力 (C)全體公民都有被量才錄用的機會，除了品德和才能之外，沒有任何差別 (D)財產權是神聖不可侵犯的，符合選民財產資格者，才能享有合法選舉權。
8. 歷史家評論某一政權，指出：「他的帝國實為新、舊秩序的混合。一方面，他改變國家的社會與經濟結構，保留象徵自由、平等、博愛的三色旗，是新秩序的保衛者；另一方面，他雖號稱革命之子，實為開明專制的精神後裔，忽略主權在民而行絕對君權，強調平等而不重視自由，注重秩序與階級。」評論中的「他」是指何人？(A)建立法蘭西帝國的拿破崙 (B)成立清教政權的克倫威爾 (C)七月王朝的路易·腓力 (D)恐怖統治的羅伯斯比。
9. 某官方公布一法令：「一切商船，不管是那一種，不管是裝什麼貨，假如它來自英國港口，或者來自英國軍隊所占領的國家，或者開往這些地區，一概沒收。」這個官方法令應是 (A)腓力普二世攻打英國時的西班牙 (B)獨立革命時期的美國 (C)拿破崙時期的法國 (D)美國獨立戰爭時期的美國。

10. 下列四張圖表中，其中一張是近代英國經濟發展的趨勢圖。根據你的判斷，哪一張圖表最符合真實的歷史狀況？



11. 一群人在上岸前，集合在船艙裡開會誓願：「……為了上帝的榮耀，為了增強基督教信仰，為了提高我們國王和國家的榮譽，我們漂洋過海，在維吉尼亞北部開發第一個殖民地。我們在上帝面前共同立誓簽約，自願結為一民眾自治團體。為了使上述目的得到更好的實施、維護和發展，將來不時依此而制定頒布的被認為是這個殖民地全體人民都最適合、最方便的法律、法規、條令、憲章和公職，我們都保證遵守和服從。」請問這群人的身份是？
 (A)英國清教徒 (B)英國東印度公司的員工 (C)英國維吉尼亞公司員工 (D)北美十三州波士頓茶葉黨人。
12. 有位學者的主張如下：「……人是生而自由平等的，任何人都沒有強使他人服從的天然權威……只有基於人民自由意志訂定的社會契約才能成為國家合法的根據，在訂立契約時，人民並同意接受『公意』的主導……在這個國家中人民有立法權，法律就是人民共同意志的表現，任何人不能凌駕法律之上……。」提出此主張的學者是 (A)洛克 (B)孟德斯鳩 (C)盧梭 (D)伏爾泰。
13. 幾個學生討論歐洲的「商業資本主義」。
 甲生說：「商業資本主義的發展，帶動經濟發展，造成物價上漲。」
 乙生說：「盛行於地理大發現之後之後至 18 世紀。」
 丙生說：「當時主張重商主義，並不鼓勵遠距貿易。」
 丁生說：「主要是以政府的資金為主，不准民間向競爭國家展現實力。」
 哪些學生說對了？ (A)甲、乙生 (B)甲、乙、丙生 (C)全對。
14. 下列關於「維也納會議」的陳述何者正確？ (A)是召開於十八世紀末的國際會議 (B)是一達到了「公平」、「正義」原則的會議 (C)成功的復辟歐陸國家的封建王朝 (D)成功的壓制改革力量，使歐洲各國內部不再爆發革命。
15. 當自由黨執政時期，英國國會又通過一項有關選舉權的改革法案，將選民的財產限制完全取消，幾乎所有成年人都獲得選舉權。這次的改革法案是？ (A)1832年國會改革法 (B)1848年國會改革法 (C)1867年國會改革法 (D)1884年國會改革法。
16. 老師在講解某一革命所以會爆發時說：「稅賦不公是主要原因，當時貴族和教士的人數雖只占總人口的2%，卻擁有全國耕地面積的五分之二，且不納稅。占人口最多的農民，本就貧窮，反要負擔國家大部分的稅收，且須按照封建遺規，向貴族和教士獻納，所以農民大約要以收入的五分之四納稅，只留五分之一作家用。……」老師是在講那一個革命？ (A)美國獨立革命 (B)法國大革命 (C)工業革命 (D)法國二月革命。
17. 隨著工人人數日益增多，他們逐漸認識到，自己已經形成了一個單獨的新階級，其利益與雇主的利益相衝突；工人階級的覺悟越來越高，於是他們開始組織團體。這個團體就是？ (A)行會 (B)工會 (C)商會 (D)青商會。
18. 南北戰爭主要的原因是南北經濟的差異，導致南、北在奴隸政策上產生重大分歧。事實上，在1840年代以前，北方自由州與南方蓄奴州，數目一致，雙方維持均衡的態勢。後來，隨著哪一事件的發展，造成反蓄奴州陣營大增，雙方的均勢被打破，南北終究難免一戰？ (A)民主政治落實，加強了反奴隸陣營的勢力 (B)西進運動的擴展，西部各州主張加強聯邦政府權力，加入北方陣營 (C)工業革命的推廣，機器取代人力，故不需要沒有知識技能的黑奴 (D)新帝國主義擴張，阿拉斯加、夏威夷等地需要聯邦保護，加入反蓄奴陣營。
19. 某大學宿舍裡，住著來自三個不同國家的同學，有一天他們各自介紹自己國家的歷史，都表露出身為該國人民的光榮。甲說：「18世紀，我們是西方學術文化的中心。19世紀，我國更是歐洲政治的中心，我國內政的變動，鼓動了整個歐洲革命的火苗，也牽動了整個歐洲國際秩序的發展。」乙說：「我國立國時間短暫，但卻是移民者

- 的天堂。在各族群胼手胝足的努力下，一起形塑偉大的新國家。19世紀間，雖曾發生內戰，但事定之後，努力建設家園，一躍為經濟大國。」丙說：「當歐洲各國都陷入戰爭與內部革命的動亂時，我國卻能持續穩定的發展，不僅積極的推動產業的改良，也以和平方式推動民主政治的改革。」請問甲、乙、丙三人的國籍依序是 (A) 法國、美國、英國 (B) 奧國、美國、英國 (C) 德國、美國、法國 (D) 英國、美國、法國。
20. 從維也納會議到二月革命 (1815~1848) 期間，歐洲政治、經濟、文化等發展情勢為何？ (A) 政治上的「保守主義」盛行，但「自由主義」的力量也不斷茁壯強大，終於有七月、二月革命的爆發 (B) 法國因拿破崙戰爭的失利，淪為歐洲二等國家 (C) 歐陸工業化尚未發展與進行，農業是經濟的主體 (D) 啟蒙運動所代表的「理性主義」、「進步史觀」仍然是學術思想主流，尚未有任何學者加以批判或反對。
21. 「這個有權有勢的約翰·波米爾用欺騙、暴力占有您的苦難臣民——我們的牧場，這些土地是我們世代所擁有的。他把這些牧場和其他土地用籬笆圍上，作為自己所有。」後來，「這個約翰·米波爾又強行奪取了我們的住宅、田地、傢俱和果園，使我們被迫離開家園。」但政府為了使被驅逐的農民很快的安置下來，頒布限制流浪者的法令，使我們被迫去接受工資低廉的工作。請問上引資料的時代背景為何？ (A) 大革命以前的法國，教士與貴族蠻橫強占農民土地的惡行 (B) 中古時代的西歐，封建貴族對農奴的迫害 (C) 南北戰爭前的美國，白人拓荒者對印第安人的掠奪 (D) 光榮革命後的英國，資產階級通過一連串的《圈地法案》。
22. 19世紀上半葉歐洲各國的革命運動，可以說與法國的發展難分難捨，下列敘述何者錯誤？ (A) 拿破崙無意地用武力將法國大革命時的普世價值傳到了歐洲與美洲，引發各地民族與自由主義 (B) 維也納會議的原則，壓制了各地的革命勢力，而後法國的兩次革命則具有領頭羊的作用 (C) 七月革命後查理十世雖然被推翻，但是受惠的仍多半為中產階級 (D) 二月革命後，路易·腓力被選為總統，法國第一共和成立。
23. 從十八世紀起，歐洲主要國家因為「紡織機器、採礦、煉鐵設備及交通工具的改造或發明」，所以「十九世紀的人口大量集中到城市，並且產生各種新問題」。請問：這段敘述從「因為」到「所以」之間，至少要增加哪一段論述，才能使前後因果關係完整？ (A) 傳統精密製造業吸引投資意願 (B) 自由放任的經濟政策興起 (C) 馬克思階級鬥爭理論的影響 (D) 新型工廠制度產生。
24. 牛頓的遺言：「要是我比笛卡兒看得遠一點，那是因為我是站在巨人們的肩上的緣故。」牛頓所謂的「巨人們」是指：(甲)哥白尼；(乙)克卜勒；(丙)伽利略；(丁)托勒密。 (A)甲丁 (B)甲丙 (C)乙丁 (D)丙丁。
25. 這位學者的方法是由特例演出通則，由具體演出抽象；主張拋棄傳統的舊觀念，以新的眼光去觀察和研究感官所實際察知的萬事萬物，亦即根據所觀察的實際事實來塑造自己的思維型態，以免產生偏見。他樂觀的認為知識可以用來達成實際的目的，成為檢驗真理的標準。他的理論重新塑造了歐洲人的頭腦，產生影響深遠的進步觀念。這位學者及他所提倡的方法是 (A) 培根；歸納法 (B) 伽利略；實驗法 (C) 笛卡兒；演繹法 (D) 牛頓；機械論。
26. 甲生說：「在『□□』之前，工業革命已經展開；但是在『□□』發達之後，加速了產業革命的進度。」乙生說：「……從此英國的經濟逐漸統一，工業也加強了地區性的傾向，使勞工變換工作場所更為容易，而人口集中都市的現象也更為明顯。」請問甲生與乙生共同討論的『□□』為下列何者？ (A) 挖掘運河 (B) 鋪設鐵路 (C) 建造汽船 (D) 修建一公路。
27. 英國的老沙倫 (Old Sarum) 和鄧尼奇 (Dunwich) 兩選區，前者人口只有 6 人，後者已經陸沉大海，仍各有下議院兩個議席。而像曼徹斯特這樣的工業城鎮，在下議院裡卻一個議席也沒有。此狀況在哪一事件後獲得改變？ (A) 1688 年光榮革命 (B) 1832 年國會改革法案 (C) 1867 年國會改革法案 (D) 1884 年國會改革法案。
28. 17 世紀，有兩個國家同時經歷專制統治：甲國在經歷政權更迭與動亂後，君權逐漸受到壓抑；乙國則不斷大興土木，並發動對外戰爭，君權達到極盛。請問甲、乙兩國分別為何？ (A) 英國、法國 (B) 法國、西班牙 (C) 俄國、英國 (D) 法國、俄國。
29. 他是在中產階級擁戴下登基為王，所以在位期間積極發展工商業，使工商業蓬勃發展。但在政治方面他卻限制人民的選舉權，全國三千多萬人中，享有選舉權的只有二十萬人，所以沒有選舉權的人民起來要求改革，他卻以「趕快發財即有選舉權」為理由，拒絕修改選舉法，最後使法國爆發了革命。依據上文，下列何者敘述錯誤？ (A) 文中的「他」是指路易·腓力 (B) 「降低或取消選舉的財產限制」成為推動民主政治改革的主要訴求 (C) 文中的「革命」是二月革命 (D) 革命後，法國建立「第二共和」，至普法戰爭爆發垮臺，第二帝國成立。
30. 一位學者表達他對宗教的看法：「宗教也應該與自然法則相吻合。上帝創造了宇宙之後便離開，不會再介入其間了。」所以他堅信宇宙從此依照一個固定的機械法則運作。下列有關上述看法的說明何者是正確的？ (A) 顯示這位學者否定神的存在 (B) 這想法可說是對啟蒙運動的反動 (C) 符合大多數基督教的主張 (D) 這符合伏爾泰「自然神論」的說法。

31. 19 世紀時有些社會主義者思考解決當時的社會問題，提出用選票爭取勞工階級利益、勞工階級組成政黨、培養社會改革人才等方法。下列何者的想法比較會符合此種主張？ (A) 聖西門 (B) 蕭伯納 (C) 歐文 (D) 馬克思。
32. 有人認為：工廠工人的薪資只要能維持其生計即可，如果工資過高，工人生活改善，就會多生小孩，人口隨之增加；如此一來，勞動力便增加，工資隨之下降，甚至低於先前水準。我們應如何理解這種說法？ (A) 馬克思會反對這種說法 (B) 傅立葉會贊同這種觀點 (C) 資本家會反對這種主張 (D) 恩格斯會贊同這種想法。
33. 有位人士反對社會組織和經濟制度，主張建立小型而又自立的合作單位，他稱之為「同居社」，組成分子各選擇其專業來工作，合理分配利潤。有關這位人士的主張，正確者為何？ (A) 英國作家摩爾稱他們為「烏托邦社會主義者」 (B) 他應該是法國商人傅立葉 (C) 他應該是資本主義支持者 (D) 他應該有加入「第一國際」。
34. 有一本書上說：「每一個人都是他自己經濟事務的最佳裁判者，自由競爭和致富的欲望可以導致社會整體財富的增加。儘管每個人都是自私的、而且常常不顧及共同的利益，但是他們的共同活動，卻自然地趨於全體的共同經濟福祉。」根據這段資料，下列哪種政策符合這種理論的主張？ (A) 一例一休 (B) 最低工資 (C) 保障私有生產工具 (D) 股票市場漲跌幅限制。
35. 哥白尼、克卜勒、伽利略和牛頓等人，對近代歐洲的科學革命都卓有貢獻。對他們的主要成就，我們應有怎樣的認識？ (A) 他們都不是基督徒，創造自然神論，使教會的權威受到極大的損傷 (B) 破除了人們的迷信，使巫術、占星術等不科學的行為從此消聲匿跡 (C) 建立了「宇宙機械論」，肯定人們可用理智來了解宇宙運行的原則 (D) 他們的努力帶來醫學和化學等的重要突破，牛頓《人體的構造》一書，至今仍是醫學界的權威。
36. 美國憲法規定：「合眾國政府或任何州政府，不得因種族、膚色，或以前曾服勞役而拒絕給予或剝奪合眾國公民權。」請問這個憲法條文通過的時間應是 (A) 1780 年代 (B) 1860 年代 (C) 1920 年代 (D) 1960 年代。

37. 雖然對於位在美國以南的這片廣大土地定義分歧，但傳統而言，拉丁美洲是指從美、墨邊界的格蘭得河往南，一直到南美洲南端的合恩角為止，全長一萬多公里的大陸和沿海島嶼。請問下列關於拉丁美洲獨立運動的敘述，何者正確？ (A) 拿破崙入侵義大利時，拉丁美洲殖民地曾乘機起來反抗 (B) 1830 年以後，拉丁美洲獨立運動才開始有較大進展 (C) 1825 年前後，在美國「門羅宣言」與英國海軍的保障之下，拉丁美洲諸國才建立獨立的國家 (D) 梅特涅曾企圖干預，因法國反對而作罷。
38. 1889 年法國為慶祝大革命一百週年，於巴黎舉辦世界博覽會，並且完成艾菲爾鐵塔。這些活動可以反映當時法國人的哪種心態？ (A) 推崇笛卡兒及其主張的科學方法 (B) 肯定啟蒙政治思想及工業革命 (C) 歌頌「革命之子」拿破崙之成就 (D) 紀念路易·腓力及其在海外之擴張。
39. 拿破崙把法國大革命的影響帶到波蘭、比利時、荷蘭、西班牙等國。例如：拿破崙扶植了華沙大公國，使波蘭市民階級與貴族在法律上平等，取消農奴制，改革社會行政機構。請問拿破崙利用哪一種方式推動法國大革命的成果？ (A) 法律 (B) 宗教 (C) 經濟 (D) 武力。
40. 英國學者柏克 (Burke, 1729 ~ 1797 年) 在〈法國革命的評論〉一文中有下列觀念：「尊重歷代艱苦締造的社會和政治制度，認為這些制度是由過去發展的，將來也會逐漸發展，政治的變革是可能的，改革有其必要，但舊制度的有益部分則應予保留，法國革命的行動和意義是在棄絕各時代所累積的智慧，……革命人士在半小時之內所破壞的，比智慮、慎思、遠見需要一百年才能建立的為多……。」請問根據此論點，柏克應屬於 19 世紀哪一思潮的代表人物？ (A) 自由主義 (B) 浪漫主義 (C) 保守主義 (D) 民族主義。

41. 資料一：「……第六條規定，今後對任何新產品真正的第一個發明人可以授予在本國獨占製造該產品的專利證書特權。在授予專利證書和特權後，其他人不得使用。」
資料二：「……查理二世頒發特許狀，成立促進自然知識研究的皇家學會。……鼓勵並協調全國各專業的成果，並蒐集可能增進科學知識的各種資料。……1754 年，『技藝、製造及商業獎勵會』成立。該會為已被確定的成就提供金錢、獎章和其他報酬。」請問以上資料內容為下列何事發生的有利因素？ (A) 科學革命 (B) 工業革命 (C) 法國大革命 (D) 光榮革命。

42. 下列是有關美國歷史發展資料，請將各史事按照發生先後順序做排列：

甲	制定《美國憲法》，確認美國是聯邦體制、三權分立的國家
乙	某項宣言內容強調，美洲是美洲人的美洲，歐洲人不應干涉
丙	林肯於蓋茲堡演說中，發表〈解放奴隸宣言〉
丁	發動美西戰爭，取得關島、菲律賓、波多黎各等群島

- (A) 甲乙丙丁 (B) 甲乙丁丙 (C) 乙甲丙丁 (D) 乙甲丁丙。

43. 上課討論 19 世紀後半期西歐的社會結構時，老師請同學舉出「當時社會結構重大改變」的指標，幾位同學分別說出自己的看法，請問誰的說法最適當？ (A) 許多國家的政府改善教育設施，並成立各種研究機構 (B) 各國政府

開始闢建運河，開港灣，建公路，改善交通運輸 (C)以社會正義或社會福利為訴求的政黨得票率明顯增加 (D)各國政府都要成立專門的部門，解決有關宗教及信仰爭端。

44. 一位 19 世紀前期歐洲的自由主義者，他會大聲呼籲 (A)改變現有的社會經濟制度，使工人享有合理的經濟分配 (B)人民享有言論、集會、結社的自由，且不受政府隨便逮捕 (C)社會安定是個人自由的保障，而宗教則是維持社會秩序的基礎 (D)實施普遍民權，公民的參政權不應該受到財產、教育水準和性別的限制。
45. 美國曾經歷邦聯及聯邦兩種體制，附表就這兩種制度的比較，何者正確？

項目	邦聯制	聯邦制
(A)形成時間	南北戰爭期間	美國立憲後
(B)政治型態	中央集權	地方分權
(C)徵稅	聯邦法院有徵稅權	中央政府有徵稅權
(D)元首	國家不設最高元首	國家最高元首為總統

二、多重選擇題： 2 分/題，共 10 分 每答錯一選項，倒扣 1/5 題分

46. 資料甲：「華盛頓曾比喻說：『邦聯政府像沙子搓成的繩子，不適用了，應用堅固的鎖鍊來代替。』」
 資料乙：「約翰·亞當斯曾在銷毀茶葉當天的日記上寫：『這一壯舉是何等的英勇，何等的堅毅。它必將產生極深遠的影響，我敢斷言，它將開創一個歷史的新紀元。』」
 資料丙：「傑弗遜等人決議：『合眾殖民地為，亦應是，自由獨立之國家，其免除自身對不列顛王室之擁戴，其與大不列顛國之一切政治聯繫為，亦應是，澈底無效。』」

對於三段資料的理解，哪些看法是正確的？ (A)資料出現的時間依序是乙、丙、甲 (B)均發表於 18 世紀，其言論與美國建國有關 (C)資料甲中顯示美國開國之初，曾發生過地方分權與中央集權的爭議 (D)資料乙中殖民地人民之所以銷毀茶葉，與英國東印度公司傾銷茶葉有關 (E)資料丙中殖民地人民追求自由獨立的精神，後來引發了歐陸的啟蒙運動。

47. 下列哪些敘述，應是工業革命首先發生於英國的原因？ (A)殖民地眾多，可提供原料，又是各種商品的市場 (B)圈地運動使部分農民轉業，提供充足的勞動力 (C)18 世紀英國已有便捷的水運及公路運輸 (D)英國頒布《專利法》鼓勵科技發明 (E)英國社會開放，鼓勵工商企業，資本者也願意投資。

48. 以下是發生於英國兩次革命的比較表，請選出正確的選項：

名稱	清教徒革命	光榮革命
(A)時間	17 世紀	17 世紀
(B)背景	查理一世的專制	詹姆士二世的專制
(C)相關法案	《權利法案》	《權利請願書》
(D)建立政體	君主立憲	共和政體
(E)結果	克倫威爾行軍事獨裁統治	國會為最高權力機構

49. 「起來，饑寒交迫的奴隸；起來，全世界受苦的人。滿腔的熱血已經沸騰，要為真理而鬥爭。」這段歌詞道出了馬克思思想的何種特質？ (A)科學的精神 (B)暴力的革命 (C)世界革命的理想 (D)人心良善的訴求 (E)民族主義的熱情。
50. 下列選項中，哪些是工業革命以後，西歐社會的發展趨勢？ (A)工業革命導致生產機械化，大規模工廠出現，產量大增，價格便宜，傳統手工業受到挑戰 (B)人口結構也發生改變，工廠吸引農村多餘人口前往工作，城居人口增加，新社會問題出現 (C)由於工廠採輪班制，需有共同的時間觀念，計時用的工具如鐘錶等出現，便於人們區分時間 (D)人民收入普遍增加，識字率提高，教育及出版業因而發達，所以印刷術出現，大學也興起 (E)由於生活有保障，城居人口收入固定，一般民眾下班後需要娛樂，因此城市中出現、酒館、咖啡館等，休閒生活變得豐富。

桃園市立平鎮高級中學 106學年第2學期 月考一二年級不限組別歷史IV[20180326200010101074] 全體考生 試題分析表

題號	題型	題分	標準答案	全體					557			高分組			150			低分組			150			全體答對率	難易指數	鑑別指數
				A	B	C	D	E	未	A	B	C	D	E	未	A	B	C	D	E	未					
1	單選題	2	B	43	347	64	103	0	0	6	98	20	26	0	0	18	82	19	31	0	0	62.30%	0.600	0.107		
2	單選題	2	B	3	540	6	7	0	1	1	147	2	0	0	0	2	145	1	2	0	0	96.95%	0.973	0.013		
3	單選題	2	D	35	12	4	507	0	0	8	1	0	141	0	0	10	5	4	131	0	0	90.84%	0.907	0.067		
4	單選題	2	B	83	311	139	23	0	1	9	106	30	5	0	0	30	60	55	4	0	1	55.83%	0.553	0.307		
5	單選題	2	A	141	35	362	19	0	0	44	4	100	2	0	0	37	18	89	6	0	0	25.31%	0.270	0.047		
6	單選題	2	A	488	51	8	10	0	0	143	5	0	2	0	0	114	26	5	5	0	0	87.61%	0.857	0.193		
7	單選題	2	D	72	8	79	398	0	0	17	1	15	117	0	0	30	6	31	83	0	0	71.45%	0.667	0.227		
8	單選題	2	A	482	9	38	28	0	0	139	1	3	7	0	0	111	6	20	13	0	0	86.54%	0.833	0.187		
9	單選題	2	C	14	130	317	96	0	0	2	23	103	22	0	0	9	49	60	32	0	0	56.91%	0.543	0.287		
10	單選題	2	A	239	149	151	17	0	1	81	39	27	2	0	1	49	39	54	8	0	0	42.91%	0.433	0.213		
11	單選題	2	A	255	118	44	140	0	0	87	18	10	35	0	0	50	43	15	42	0	0	45.78%	0.457	0.247		
12	單選題	2	C	63	18	453	23	0	0	15	2	132	1	0	0	24	9	104	13	0	0	81.33%	0.787	0.187		
13	單選題	2	A	468	66	17	5	0	1	132	13	5	0	0	0	119	21	8	2	0	0	84.02%	0.837	0.087		
14	單選題	2	C	96	74	363	23	0	1	21	10	117	2	0	0	38	41	60	11	0	0	65.17%	0.590	0.380		
15	單選題	2	D	15	52	139	351	0	0	1	6	28	115	0	0	9	25	51	65	0	0	63.02%	0.600	0.333		
16	單選題	2	B	31	462	8	56	0	0	6	140	0	4	0	0	14	102	6	28	0	0	82.94%	0.807	0.253		
17	單選題	2	B	18	526	13	0	0	0	3	147	0	0	0	0	7	133	10	0	0	0	94.43%	0.933	0.093		
18	單選題	2	B	124	99	321	13	0	0	28	30	92	0	0	0	46	24	73	7	0	0	17.77%	0.180	0.040		
19	單選題	2	A	514	5	4	34	0	0	146	2	0	2	0	0	129	2	3	16	0	0	92.28%	0.917	0.113		
20	單選題	2	A	502	19	14	22	0	0	139	5	3	3	0	0	127	4	6	13	0	0	90.13%	0.887	0.080		
21	單選題	2	D	46	25	19	467	0	0	5	4	5	136	0	0	17	16	9	108	0	0	83.84%	0.813	0.187		
22	單選題	2	D	33	38	30	456	0	0	5	6	5	134	0	0	12	19	16	103	0	0	81.87%	0.790	0.207		
23	單選題	2	D	19	59	8	471	0	0	2	12	1	135	0	0	9	18	4	119	0	0	84.56%	0.847	0.107		
24	單選題	2	B	46	447	31	33	0	0	10	125	8	7	0	0	14	112	12	12	0	0	80.25%	0.790	0.087		
25	單選題	2	A	265	21	269	2	0	0	86	5	59	0	0	0	50	9	89	2	0	0	47.58%	0.453	0.240		
26	單選題	2	B	5	495	34	23	0	0	0	142	6	2	0	0	4	123	16	7	0	0	88.87%	0.883	0.127		
27	單選題	2	B	32	343	140	42	0	0	3	116	19	12	0	0	13	68	54	15	0	0	61.58%	0.613	0.320		
28	單選題	2	A	396	17	14	130	0	0	109	0	4	37	0	0	96	11	7	36	0	0	71.10%	0.683	0.087		
29	單選題	2	D	66	40	55	396	0	0	12	9	7	122	0	0	25	14	21	90	0	0	71.10%	0.707	0.213		
30	單選題	2	D	9	51	31	465	0	1	2	10	6	132	0	0	4	25	14	106	0	1	83.48%	0.793	0.173		
31	單選題	2	B	46	279	133	99	0	0	9	86	34	21	0	0	17	45	51	37	0	0	50.09%	0.437	0.273		
32	單選題	2	A	318	65	88	86	0	0	106	5	20	19	0	0	58	31	34	27	0	0	57.09%	0.547	0.320		
33	單選題	2	B	190	292	27	48	0	0	39	90	6	15	0	0	69	58	11	12	0	0	52.42%	0.493	0.213		
34	單選題	2	C	23	100	364	69	0	1	5	28	101	16	0	0	10	36	78	26	0	0	65.35%	0.597	0.153		
35	單選題	2	C	67	59	425	5	0	1	8	7	134	0	0	1	25	29	92	4	0	0	76.30%	0.753	0.280		
36	單選題	2	B	92	350	73	42	0	0	26	99	18	7	0	0	22	81	28	19	0	0	62.84%	0.600	0.120		
37	單選題	2	C	53	136	321	45	0	2	6	28	106	10	0	0	18	53	59	19	0	1	57.63%	0.550	0.313		
38	單選題	2	B	6	374	169	8	0	0	0	112	38	0	0	0	3	81	64	2	0	0	67.15%	0.643	0.207		
39	單選題	2	A	236	4	30	287	0	0	78	0	3	69	0	0	52	4	17	77	0	0	42.37%	0.433	0.173		
40	單選題	2	C	56	6	445	50	0	0	11	1	127	11	0	0	25	3	106	16	0	0	79.89%	0.777	0.140		
41	單選題	2	B	248	286	8	15	0	0	46	100	0	4	0	0	86	57	3	4	0	0	51.35%	0.523	0.287		
42	單選題	2	A	231	116	156	54	0	0	85	25	30	10	0	0	37	32	56	25	0	0	41.47%	0.407	0.320		
43	單選題	2	C	80	102	368	7	0	0	14	17	117	2	0	0	31	38	77	4	0	0	66.07%	0.647	0.267		
44	單選題	2	B	97	134	7	319	0	1	27	44	1	77	0	1	28	37	4	82	0	0	24.06%	0.270	0.047		
45	單選題	2	D	131	69	106	251	1	2	26	6	28	89	0	1	44	26	32	49	0	1	44.88%	0.457	0.273		
46	多重選五	2	ABCD	419	377	460	372	82	2	123	106	132	105	20	2	101	105	113	93	28	0	18.85%	0.200	0.160		
47	多重選五	2	ABCDE	521	472	191	414	478	1	142	135	48	131	143	1	137	115	60	101	117	0	16.52%	0.167	0.067		
48	多重選五	2	ABE	385	455	169	183	452	3	114	134	34	33	135	1	92	112	55	67	110	1	33.03%	0.330	0.287		
49	多重選五	2	BC	49	452	523	84	229	0	14	136	148	15	38	0	19	93	137	37	84	0	48.83%	0.463	0.353		
50	多重選五	2	ABE	530	538	302	115	380	1	144	149	80	26	117	0	140	136	90	39	97	0	25.31%	0.260	0.160		

選填題或五選項以上各題以 1(或A) 表示作答正確, 2(或B) 表示作答錯誤