

桃園市立平鎮高中 106 學年度第二學期第一次定期評量 高二公民與社會科試題

班級：_____ 座號：_____ 姓名：_____

*請確實將答案卡上班級、座號書記清楚，若有書記錯誤或書記不清致電腦無法辨識，將扣取該科成績 3 分。

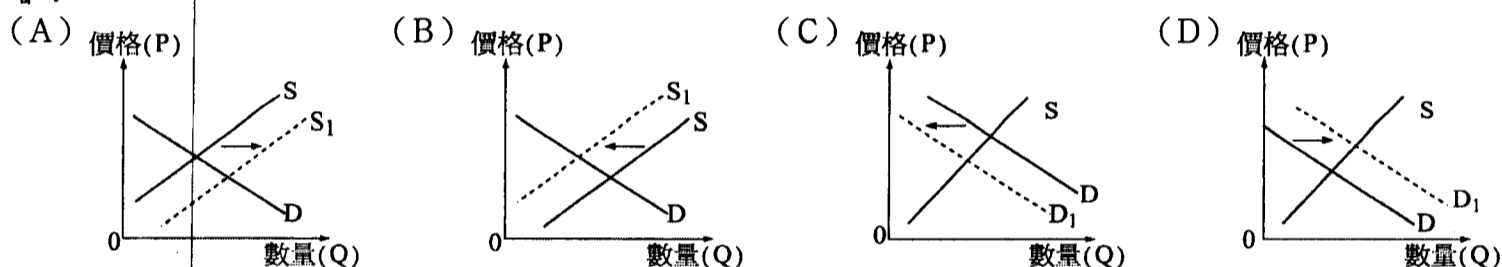
第一部分：單選題(每題 2 分，共 40 分)

1. () 中國一名病患家屬，為治病而積欠約新台幣 64 萬元的債務，但因家人病逝，因此將在網路募得的醫療費用 50 萬退還、捐出，並表示「人不在了，錢我也不要，退還給好心人。他們的心意我領了，還有比我更困難的人；這個錢是為了治病救人的，現在人沒有救到就走了。我不敢用這筆錢，用了這錢我心裡不好過。」根據經濟學的對於「人」的基本假設，我們可以如何解釋家屬行為？
 (A) 家屬行為損己不利人 (B) 家屬行為雖自願但不理性
 (C) 家屬行為自願必自利 (D) 家屬行為無法符合經濟學假設。

2. () 根據財產權、經濟決策權的歸屬，可將經濟制度簡單劃分為市場經濟、計畫經濟、混合經濟三類型，下列表格中甲、乙、丙最可能是什麼國家(地區)？
 (A) 甲：蘇聯；丙：臺灣 (B) 乙：古巴；丙：中國 (C) 甲：北韓；乙：香港 (D) 甲：新加坡；丙：埃及。

	私有財產	公有財產	市場分權	中央集權
甲		○		○
乙	○	○	○	○
丙	○	○	○	

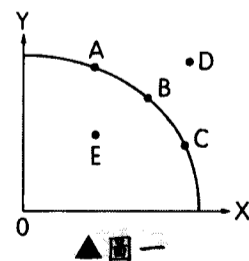
3. () 美國總統川普決定對進口鋼鋁課徵高額關稅，進口鋼品全面課徵 25% 的關稅，對鋁進口全面課徵 10% 的稅率，此調整於 3 月 23 日生效。兩者都高於美國商務部的建議，雖然鋼鋁稅能幫助美國鋼鐵業者，但此舉也將拉高鋼鐵價格，使下游汽車、飛機製造商面臨更高成本壓力。請問，川普此項政策會對美國的汽車、飛機市場產生什麼影響？



4. () 屏東縣泰山村被劃為自來水水質水量保護區。福鑫手工鋸工廠卻規劃在保護區內設廠，並於 2017 年 7 月通過環評，但當地居民質疑環評程序中有「刻意忽略污染」的瑕疵。「為子孫維護水源」，當地居民組成守護家園環保自救會。請問，當地居民可重視哪一個概念？
 (A) 區域公平 (B) 理性自利 (C) 經濟成長 (D) 永續發展。

5. () 受到高麗菜盛產和暖冬影響，短期葉菜類小白菜、大陸妹和青江菜的蔬菜價格從農曆年後一路下滑，原開放田間採摘，每顆 10 元；現在降價到每顆 5 元，跌到成本之下。許多農民只能耕鋤作綠肥。曳引機司機表示近日接到許多耕鋤的工作，並預估，這波短期葉菜耕鋤會維持半個月。下列何者的說法符合經濟學的角度？
 (A) 小白菜、大陸妹和青江菜為生產上的互補品 (B) 曳引機為資本財，蔬菜屬於消費品
 (C) 短期葉菜類蔬菜與高麗菜為消費上的互補品 (D) 曳引機司機可歸類為企業才能。

6. () 右圖(圖一)為生產兩種產品 X 與 Y 的生產可能線，下列敘述何者無誤？
 (A) 就生產 X 的機會成本而言，A > B > C (B) 生產 X 機會成本遞增，生產 Y 機會成本遞減
 (C) A、B、C 三點的生產組合，產量相同 (D) 就生產效率而言 A > B > C。



▲圖一

7. () 據《獨立報》報導，由於人口成長加上氣候變遷，南非城市開普敦有可能會成為全世界第一個沒有自來水可用的大城市。政府為了設法把「零日」延至明年，下令民眾每天用水不能超過 50 公升，並希望 2018 年的冬天能夠有足夠的雨水能夠化解乾旱危機。據了解，開普敦為了節約用水用盡各種辦法，旅社房間的電視螢幕也總是提醒房客「淋浴限 90 秒」。臺灣則由於民眾用水習慣、自來水公司管線老舊漏水，導致水資源的浪費。請問此現象已「違背」永續發展的何種精神？
 (A) 代間公平 (B) 匡正正義 (C) 分配正義 (D) 代內公平。

8. () 耕豪由於近期表現不錯，老闆加薪。原本一個月 6 瓶的巧克力牛奶、20 瓶的運動飲料，在其他條件不變下，耕豪決定調整為 10 瓶的巧克力牛奶、10 瓶的運動飲料。巧克力牛奶、運動飲料對耕豪而言，分別會是什麼？
 (A) 巧克力牛奶是劣等財、運動飲料是正常財 (B) 巧克力牛奶與運動飲料都是正常財
 (C) 巧克力牛奶是正常財、運動飲料是劣等財 (D) 巧克力牛奶與運動飲料都是劣等財。

9. () 網路曾有兩則笑話凸顯出某種經濟的問題，試問下列解讀何者正確？
 ①1990年代初越南大部分的貨車都故障，當政府給予司機貨車的「所有權」後，所有貨車突然都能跑了！
 ②蘇聯工人曾經有句笑話：「他們假裝付工資，而我們假裝工作」。
 (A)笑話①的發生，是因為經濟資源配置權集中於中央，讓不具備修理貨車技術的人擔任司機 (B)笑話①是因為政府不干預市場機能運作導致資源浪費 (C)笑話②的發生，是因為政府會透過管制手段參與部分經濟活動 (D)笑話①探討的是財產權歸屬，笑話②探討的是經濟資源配置權。

10. () 阿寶與老皮為研究糖果王國與野莓王國之生產力，得到一張表格，但其中一處出現汙損，導致研究分析出現錯誤，請幫忙他們找出來。
 (A)當汙損處為9時，野莓王國生產兩種產品均有絕對利益
 (B)當汙損處為3時，野莓王國較適合生產太妃糖
 (C)當汙損處為8時，糖果王國生產太妃糖具比較利益
 (D)當汙損處為2時，糖果王國生產甜甜圈具絕對利益。

▼糖果王國與野莓王國之生產力

	甜甜圈	太妃糖
糖果王國	8	2
野莓王國	●	6

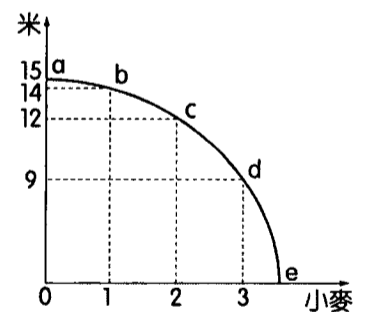
(每人產量：單位/小時)

11. () 下列何者可被歸類為生產要素中的「土地」？(甲)地熱 (乙)陽光 (丙)森林 (丁)礦工 (戊)廠房。
 (A)甲乙丙 (B)乙丙丁 (C)甲丁戊 (D)丙丁戊
12. () 夏目貴志遲進教室，只看到黑板上寫著「生產可能曲線的斜率是負的」，想和同學請教原因。哪一位同學的回答能幫到夏目貴志？
 貓咪老師：應該是正的，是老師當初寫錯了
 田沼要：資源具有多種用途，所以斜率是負的
 多軌透：因為現行資源、技術有限，產量無法突破
 北本篤史：斜率為負，隨價格增加需求量會減少。
 (A)貓咪老師 (B)田沼要 (C)多軌透 (D)北本篤史。

13. () 正豪辭去武術教練的工作，想在家中開設武術道館，下表為相關支出明細，請問正豪開業的機會成本為多少？

原武術教練的年薪	60萬	道館設備	30萬
自家店面出租的年租金	20萬	招生廣告	10萬
額外聘請教練的年薪(共2人)	50萬/人		

- (A)160萬 (B)170萬 (C)200萬 (D)220萬。
14. () 電影《金錢世界》因演員傳出性騷擾醜聞，讓導演換角重拍，但相關人士爆料，男主角Mark Wahlberg重拍費用是美金150萬元；女主角Michelle Williams卻是日薪美金80元，酬勞總計約1000元。雖男女主角屬同一間經紀公司，兩人片酬卻相差1500倍。男女同工同酬是這幾年的熱門話題，儘管在1963年美國國會通過的《同工同酬法案》，但目前美國女性的平均工資仍然比男性低20%。根據上文，下列敘述何者正確？
 (A)上述爭議發生在產品市場 (B)女主角是要素市場的供給者
 (C)男主角是要素市場的需求者 (D)經紀公司是要素市場的供給者。



15. () 右圖(圖二)為某農場之米與小麥的生產可能線，增產至第2單位小麥的機會成本為何？
 (A)2單位米 (B)3單位米 (C)6單位米 (D)12單位米。
16. () 下列哪些因素會使得豬肉的需求線右移？
 (A)豬肉的價格上漲 (B)爆發口蹄疫的疫情
 (C)雞肉的價格上漲 (D)超市的豬肉促銷活動。

17. () 右表為某蛋糕工廠在生產要素與技術固定不變，製作巧克力蛋糕和抹茶蛋糕，由A至F，共六種生產可能組合。若將六點相連，可描繪出凹向原點的生產可能曲線，則表中X應填入下列何者較為合理？
 (A)39 (B)49 (C)54 (D)57。

	A	B	C	D	E	F
巧克力蛋糕	70	67	60	X	29	0
抹茶蛋糕	0	10	20	30	40	50

18. () 貧窮的富裕一書，提到「住在開羅貧民窟的拾荒者，他們一無所有，卻總是笑容滿面；在我們富裕的歐洲，批評、責難則是司空見慣之事，我們甚至忘了最簡單地活著的喜悅。」試以經濟學的原理來解釋這個現象？
 甲、欲望較少的窮人，比較不缺東西，因此容易比富人富足 乙、窮人缺乏資源，也就不會產生慾望，因此容易滿足 丙、富人喜愛享受人生，對生活要求的多，更不容易被滿足 丁、相對無窮的欲望，資源永遠不夠，富人永遠不會被滿足。
 (A)甲乙 (B)乙丙 (C)甲丁 (D)丙丁。

19. ()英國雷汀大學進行一項實驗，發現柳橙汁富含類黃酮，有助於集中注意力。假設想提神的人們不喝咖啡時，會喝柳橙汁提神；不想喝柳橙汁時，就會改喝咖啡提神，而飲用柳橙汁通常會搭配吸管飲用，在其他條件不變下，下列敘述何者正確？
 (A)當柳橙汁價格下跌時，咖啡的需求將會增加 (B)當柳橙汁價格上升時，吸管的需求量會減少
 (C)當咖啡價格上升時，柳橙汁的需求將會增加 (D)當咖啡價格下跌時，柳橙汁的需求量會減少。
20. ()牛肉麵店往往會提供或販售酸菜，因為對許多人而言，吃牛肉麵就必須搭配酸菜。試問兩者的關係為何？
 (A)消費上的替代品 (B)消費上的互補品 (C)生產上的互補品 (D)生產上的替代品。

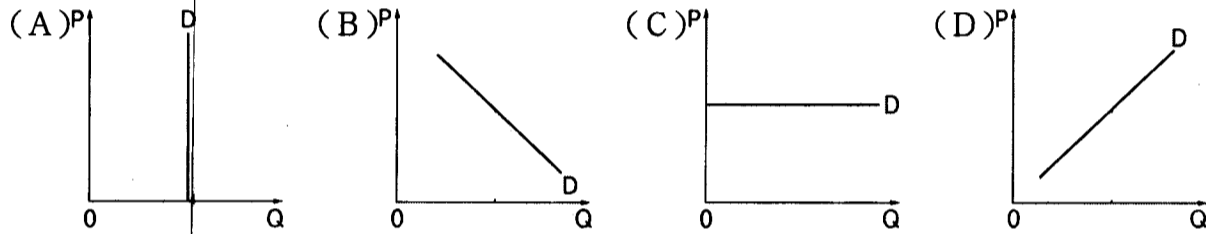
第二部分：題組題(每題 3 分，共 30 分。)

題組 (一)

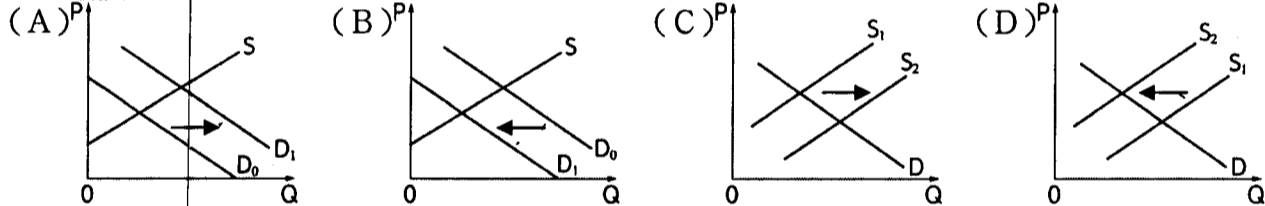
在 2008 年，iPhone 上市的隔年，開發者 Armin Heinrich 推出了一款名為 I am Rich 的 App。I am Rich 在 App Store 的售價依照地區不同，分別為 \$999.99 美元及 799.99 歐元(大約 NT\$30,000)，這是蘋果允許開發者設定的最高售價，也是當時全球唯一一個達到蘋果 App Store 官方規定最高下載收費價格的軟體。I am Rich 的功能非常簡單，打開 App 後會，看到一顆發光的鑽石，點下鑽石，會顯示：「I am rich, I deserve it, I am good, healthy & successful.」(我很有錢，我值得、我很好、健康、成功)。I am Rich 在 2008 年 8 月 5 日上架後，就在全球取得了八個下載，為開發者貢獻了 5,600 美元的營收(約 NT\$168,000)，但隔天就遭蘋果 App Store 下架。而後，(甲)在 Google App Store 和 App Store 都能看到許多不同價錢的 I am Rich，在 Google App Store 價錢破萬者，下載次數都有數萬。近日，傳出(乙)部分 I am Rich 透過降價衝高下載率。

21. ()根據文意，可以如何解釋眾多下載 I am Rich 用戶的行為？
 (A)此 App 為劣等財，越沒有功能越能刺激下載 (B)此 App 為資本財，為了彰顯自己的資本雄厚
 (C)此 App 為炫耀財，為了表示「有錢就是任性」 (D)此 App 為季芬財，因為再窮都需要裝個 App。

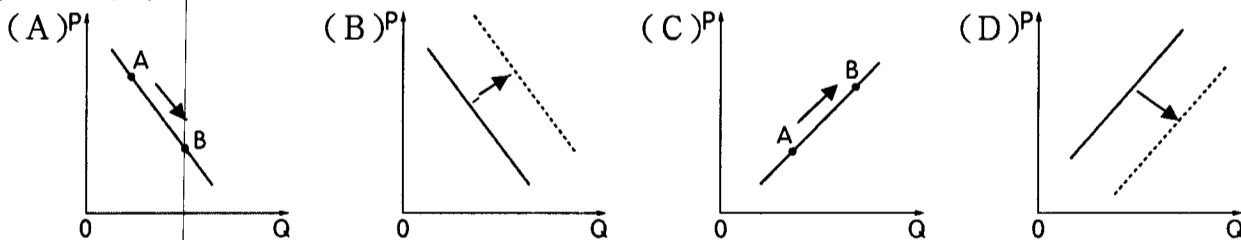
22. ()承上題，此 App 的特質可以用下列哪一張圖表示？



23. ()依照(甲)的敘述，此 App 的市場變化應為下列何者？



24. ()請問，(乙)的市場變化，可以用下列哪一張圖表示？



題組 (二)

韓劇《機智的監獄生活》，講述的是前景看好的棒球投手金濟赫，重傷了意圖對妹妹不軌的強姦犯，被法院判決防衛過當，進入西部監獄服刑的故事，粗估入獄服刑讓金濟赫損失上億簽約金和廣告代言費，對於判決結果及相關損失，金濟赫表示遺憾但不後悔，入獄後，金濟赫的室友各有所長，掌握監獄各種物品流通管道的金閔哲、經常陳情或投訴爭取權益的高博士、具高學歷與藥物知識的劉漢陽。

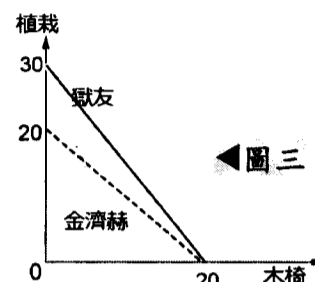
在獄中，每位受刑人都必須服勞動，金濟赫就曾和獄友，做過木工及園藝，由於西部監獄的園藝班是全國第一，所以還遇到了來精進園藝技術的東部監獄受刑人。金濟赫的女朋友為了能和金濟赫會面，每個月都會停掉每小時可賺取 400 元的家教工作兩小時，並花單程 50 元的公車錢來回一趟。

25. ()金濟赫的女朋友為了能和金濟赫會面需要付出什麼成本？
 (A)隱藏成本 400 元 (B)外顯成本 50 元 (C)會計成本 800 元 (D)機會成本 900 元。

26. ()對於入獄上億的損失，金濟赫卻表示遺憾但不後悔。從經濟學的視角來看意味著什麼？
 (A)對於金濟赫而言，保護妹妹的機會成本較低 (B)對於金濟赫而言，保護妹妹的機會成本較高
 (C)重傷強姦犯，對金濟赫而言具有極大的誘因 (D)金濟赫很有錢，入獄造成的金錢損失不是問題。

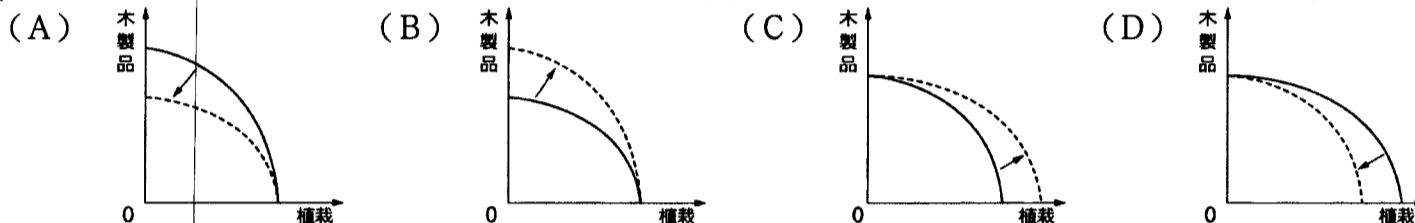
27. ()某日，金濟赫與其室友金閔哲、高博士、劉漢陽，一同討論牢房的布置整理。請問哪些說法無誤？
 金閔哲：「我能最快為牢房換到所需的基本用品，所以進行交易我具有絕對利益。」
 高博士：「我在所有人之中陳情、投訴書寫得最好，所有事情都交給我做吧！」
 劉漢陽：「我什麼都不擅長，不具任何比較利益，就請大家多多包容我了。」
 金濟赫：「我雖然什麼都不會，但我相信透過分工合作，我還是能對牢房有所貢獻。」
 (A)金閔哲、高博士 (B)金濟赫、金濟赫 (C)金閔哲、劉漢陽 (D)金濟赫、劉漢陽。

28. ()右圖(圖三)是金濟赫與其獄友在相同條件下，每天生產木椅及植栽，兩種產品的生產可能曲線。若兩人決定專業分工，增加產量、提高收入，則關於兩人分工的敘述，何者正確？

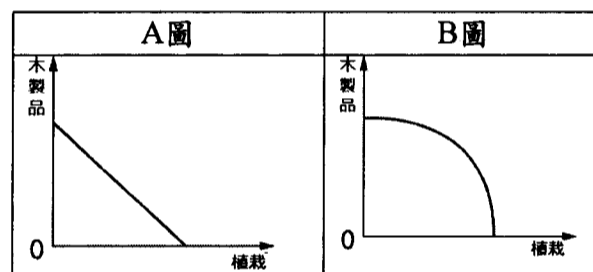


- (A)獄友生產1張木椅的機會成本為1盆植栽
 (B)金濟赫生產1盆植栽的機會成本為3/2張木椅
 (C)獄友生產1張木椅的機會成本為2/3盆植栽
 (D)金濟赫專門生產木椅，獄友專門生產植栽。

29. ()若東部監獄主要生產木製品及植栽，上文底線將對東部監獄的生產可能曲線產生什麼樣的影響？



30. ()高博士將西部監獄生產的木製品及植栽產量繪製成生產可能曲線如右，若從機會成本來檢視，A、B圖的機會成本依序為何？

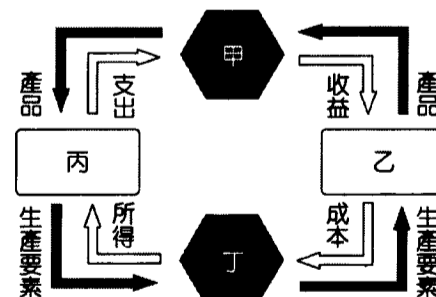


- (A)遞增、不變 (B)不變、遞增
 (C)遞減、遞增 (D)遞增、遞減。

第三部分：多選題(每題5分，共30分。)

31. ()下列飲料店內的哪些部分可歸類為何種生產要素？
 (A)土地：飲料店本身 (B)勞動：有著親切微笑的店員 (C)資本：製作珍珠奶茶的珍珠與鮮奶
 (D)資本：將飲料封口的封口機 (E)企業才能：推出買一送一的飲料店老闆。
32. ()經濟學之父亞當·斯密在《國富論》一書中強調「經濟體系中的參與者，經由『自利』動機的驅使，可以推動社會福祉的達成」。下列哪些人的經濟行為符合經濟學的「自利」行為？
 (A)舞薰喜歡打羽球，並免費教社區小朋友打羽球 (B)劍翼假日到公園打籃球，並順便撿拾公園內的垃圾
 (C)有德注重健康，會自費到醫院注射疫苗 (D)紋陞為能優先閱覽未上架雜誌，成為圖書館志工 (E)莉瑋每天將自家門前的落葉清掃到關係不好的鄰居家門前。

33. ()右圖(圖四)為經濟行為流程圖，請問下列敘述何者正確？
 (A)廚師香吉士，扮演乙的角色，到丁提供勞動力
 (B)魯夫有一艘船，可扮演丙的角色，到丁招募船員
 (C)佛朗基想開造船廠，身為乙的角色，到丁聘僱員工
 (D)醫生喬巴，以丙的身分，到甲購買棉花糖
 (E)靈魂歌手布魯克，用丙的角度，去丁購買歌唱用品。



34. ()下列哪些原因會造成市場需求線整條線的移動？
 (A)商品本身的價格 (B)消費者年齡 (C)消費者人數 (D)消費者對商品的偏好 (E)消費者對未來的預期。

35. ()「季芬財」為英國統計學者季芬爵士提出。下列關於「季芬財」的敘述哪些正確？
 (A)季芬財必定是劣等財 (B)劣等財就是季芬財 (C)一定違反負斜率的需求法則 (D)其價格上升，需求上升
 (E)季芬財的發生，與低所得相關。

36. ()下列哪些敘述會產生經濟問題？
 (A)在深山吸收芬多精 (B)赤道上的日照 (C)放學去K中佔位置 (D)到福利社買飲料喝 (E)學測倒數200天的時間分配。

桃園市立平鎮高級中學 106學年第2學期 月考一二年級不限組別公民與社會IV[20141015200010101734] 全體考生 試題分析表

題號	題型	題分	標準答案	全體			528			高分組			143			低分組			143			全體答對率	難易指數	鑑別指數
				A	B	C	D	E	未	A	B	C	D	E	未	A	B	C	D	E	未			
1	單選題	2	C	11	98	312	107	0	0	1	14	114	14	0	0	3	36	58	46	0	0	59.09%	0.601	0.392
2	單選題	2	A	293	14	217	4	0	0	92	0	51	0	0	0	81	7	54	1	0	0	55.49%	0.605	0.077
3	單選題	2	B	23	412	76	16	0	1	2	127	11	3	0	0	11	89	37	5	0	1	78.03%	0.755	0.266
4	單選題	2	D	0	1	0	527	0	0	0	0	0	143	0	0	0	1	0	142	0	0	99.81%	0.997	0.007
5	單選題	2	B	69	295	97	67	0	0	11	101	20	11	0	0	22	62	29	30	0	0	55.87%	0.570	0.273
6	送分題	2	A	129	224	138	37	0	0	38	54	40	11	0	0	38	57	42	6	0	0	24.43%	0.266	0.000
7	單選題	2	D	132	20	160	216	0	0	21	4	31	87	0	0	40	11	53	39	0	0	40.91%	0.441	0.336
8	單選題	2	C	4	56	464	4	0	0	0	2	140	1	0	0	2	25	115	1	0	0	87.88%	0.892	0.175
9	單選題	2	D	24	14	131	359	0	0	2	1	28	112	0	0	4	10	43	86	0	0	67.99%	0.692	0.182
10	單選題	2	C	9	39	453	28	0	0	2	3	129	9	0	0	3	20	113	8	0	0	85.61%	0.843	0.119
11	單選題	2	A	453	4	13	58	0	0	131	0	1	11	0	0	109	3	7	24	0	0	85.80%	0.839	0.154
12	單選題	2	B	68	98	122	240	0	0	23	44	33	43	0	0	14	14	32	83	0	0	18.56%	0.203	0.210
13	單選題	2	D	27	34	51	416	0	0	4	5	11	123	0	0	16	13	19	95	0	0	78.79%	0.762	0.196
14	單選題	2	B	5	411	22	91	0	0	0	125	0	18	0	0	3	91	14	36	0	0	77.84%	0.755	0.238
15	單選題	2	A	204	177	65	82	0	0	76	41	8	18	0	0	29	49	28	37	0	0	38.64%	0.367	0.329
16	單選題	2	C	16	18	338	157	0	0	4	2	108	29	0	0	8	9	64	62	0	0	63.83%	0.601	0.308
17	單選題	2	B	65	436	21	6	0	0	9	131	2	1	0	0	23	110	10	0	0	0	82.58%	0.843	0.147
18	單選題	2	C	18	107	159	244	0	0	3	21	45	74	0	0	10	41	32	60	0	0	30.11%	0.269	0.091
19	單選題	2	C	20	122	353	33	0	0	4	14	118	7	0	0	9	50	70	14	0	0	66.86%	0.657	0.336
20	單選題	2	B	5	481	40	2	0	0	1	136	6	0	0	0	2	122	18	1	0	0	91.10%	0.902	0.098
21	單選題	3	C	3	5	516	4	0	0	1	0	142	0	0	0	1	2	138	2	0	0	97.73%	0.979	0.028
22	單選題	3	D	51	57	17	403	0	0	17	7	2	117	0	0	11	25	5	102	0	0	76.33%	0.766	0.105
23	單選題	3	C	100	40	327	61	0	0	21	8	107	7	0	0	40	17	56	30	0	0	61.93%	0.570	0.357
24	單選題	3	A	444	16	16	52	0	0	132	1	2	8	0	0	106	10	6	21	0	0	84.09%	0.832	0.182
25	單選題	3	D	18	46	8	456	0	0	4	8	3	128	0	0	9	16	3	115	0	0	86.36%	0.850	0.091
26	單選題	3	A	470	39	18	1	0	0	138	4	1	0	0	0	113	21	9	0	0	0	89.02%	0.878	0.175
27	單選題	3	B	11	485	12	20	0	0	0	140	2	1	0	0	2	117	7	17	0	0	91.86%	0.899	0.161
28	單選題	3	D	2	3	35	487	0	1	0	0	6	137	0	0	2	3	16	121	0	1	92.23%	0.902	0.112
29	單選題	3	C	12	44	390	82	0	0	1	7	123	12	0	0	7	19	91	26	0	0	73.86%	0.748	0.224
30	單選題	3	B	45	420	33	31	1	0	9	126	2	7	1	0	15	97	21	10	0	0	79.36%	0.776	0.196
31	多重選五	5	BDE	314	494	353	506	417	0	68	138	80	140	123	0	101	130	106	137	92	0	10.61%	0.115	0.175
32	多重選五	5	ABCDE	389	336	426	489	190	0	128	117	129	138	66	0	85	68	99	131	37	0	17.80%	0.199	0.371
33	多重選五	5	CD	61	55	485	508	62	1	14	6	137	141	13	0	21	31	120	134	23	1	71.78%	0.710	0.245
34	多重選五	5	BCDE	130	174	361	487	498	0	17	58	106	134	142	0	66	25	83	129	131	0	21.78%	0.196	0.210
35	多重選五	5	ACE	122	63	387	434	383	0	44	10	115	117	117	0	21	29	89	114	88	0	2.08%	0.014	-0.014
36	多重選五	5	CDE	85	98	327	511	408	3	22	24	99	137	128	1	25	36	68	138	94	1	36.74%	0.332	0.287

選填題或五選項以上各題以 1(或A) 表示作答正確, 2(或B) 表示作答錯誤