

## 桃園市立平鎮高中 106 學年度 第二學期 期末考 高三 地理科試題

**注意事項：**

1. 考試範圍：應用地理(下)全

2. 考試內容：3 張(6 頁)、共 50 題、每題 2 分

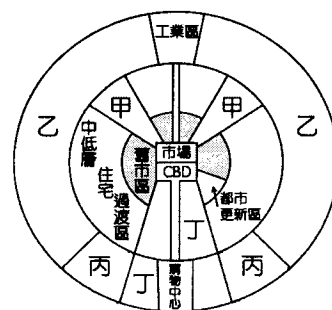
3. 適用班級：301~307、309、314

4. 個人基本資料務必完整劃記，畫記不善酌扣 5 分！

**一 單選題：**

( ) 1. 「地方感」是社區營造的首要課題，下列何種例子的敘述最接近地方感的意涵？  
 (A)臺北淡海新市鎮由建商整體規劃興建社區活動中心  
 (B)苗栗公館鄉舉辦福菜文化節，邀請鄉內小朋友體驗採福菜、晒福菜活動  
 (C)醫療巡迴車到林邊永樂社區為老人進行健診活動  
 (D)雲林古坑華山社區利用生態工法興建攔砂壩，保護社區居民安全。

( ) 2. 「駁二共創基地」是高雄市駁二藝術特區 2016 年全新規劃的新空間，「共創基地」的「共」代表共好、共用、共享、共生；「創」是創意、創作、創業、創新；「基地」則是「穩固根基、在地紮根」的含意。基地採透明隔間規劃，希望相互串門子拉近彼此距離，不同領域工作室的專業彼此相互激盪更多靈感，期盼促進異業交流進而跨域合作，發揮彼此加乘的創意價值和產業規模。由上述內容可知駁二設置共創基地，可以獲得下列何種產業效益？  
 (A)聚集經濟 (B)區域專業化 (C)產業連鎖 (D)產業空間分工鏈。

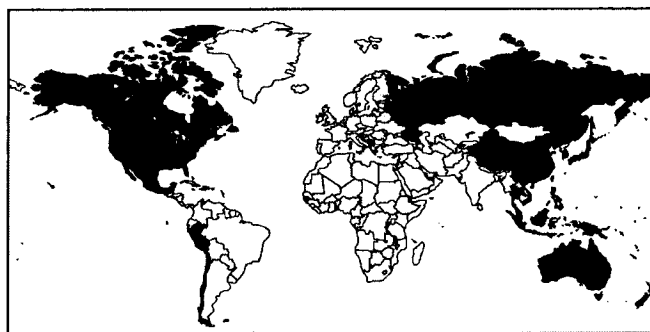
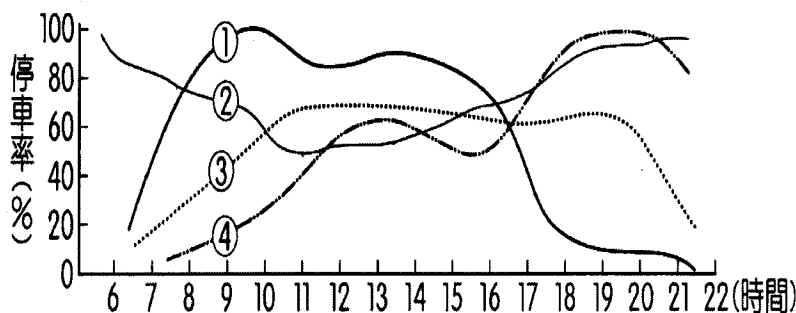


( ) 3. 右圖是中南美洲某都市的內部結構示意圖，由圖中的結構可看出，原本應為同心圓模式，後來因為交通路線的侵入而產生扇形模式的特徵，學者將其歸屬為同心圓與扇形的綜合模式。請問圖中何者最可能為違章建築、貧民窟的所在？  
 (A)甲 (B)乙 (C)丙 (D)丁。

( ) 4. 若建商最後標得的建築基地面積有 600 坪，依建蔽率 40%、容積率 400% 上限，且每層樓地板面積相同的原則下，則下表中何者符合規定？

	(A)	(B)	(C)	(D)
單層樓地板面積	300 坪	250 坪	220 坪	200 坪
樓高	5 層	8 層	10 層	18 層

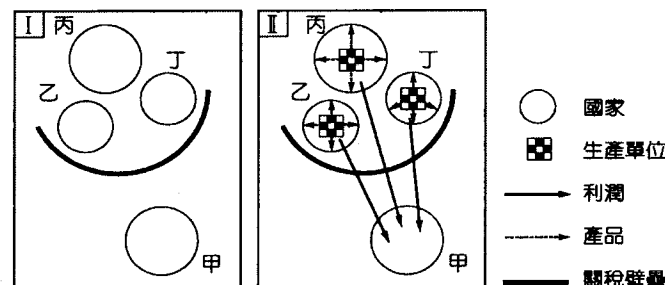
( ) 5. 下左圖是某都市一日不同功能區（住宅、行政、娛樂、商業區）的停車率變化圖，請問圖中表示「住宅區」和「行政區」的曲線分別是？  
 (A)②、① (B)②、③ (C)①、④ (D)③、④。



( ) 6. 上右圖為某個區域經貿組織會員國分布圖。關於該組織會員國的敘述，何者正確？  
 (A)以共同原料輸出作為結盟的首要考量  
 (B)該組織排除伊斯蘭國家的參與  
 (C)會員國已達成共同關稅與經貿政策的協議  
 (D)會員國以共識決及自願性為原則，推動各項發展策略。

( ) 7. 我們到通信行選購行動電話時，可以選擇高價但是功能強大的智慧型手機，也可以選擇同廠牌但是功能有限的平價手機，甚至有針對老人家而推出放大鍵盤的特殊手機。行動電話的業者希望可一網打盡所有顧客的需求，這是屬於哪一種類型的產業分工方式？  
 (A)垂直分工 (B)水平分工 (C)垂直整合 (D)水平整合。

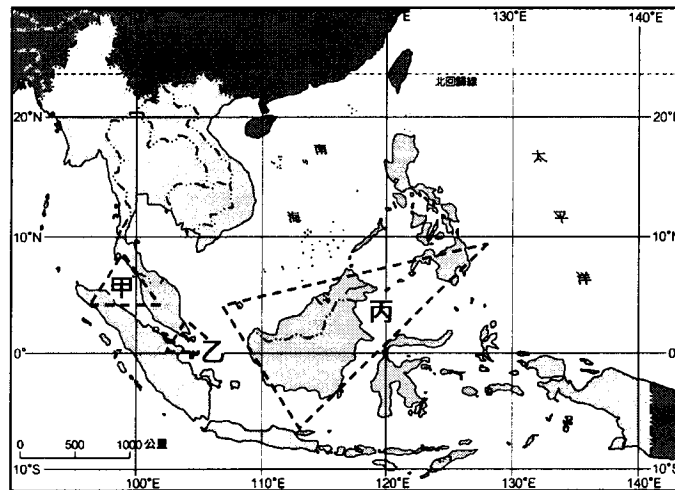
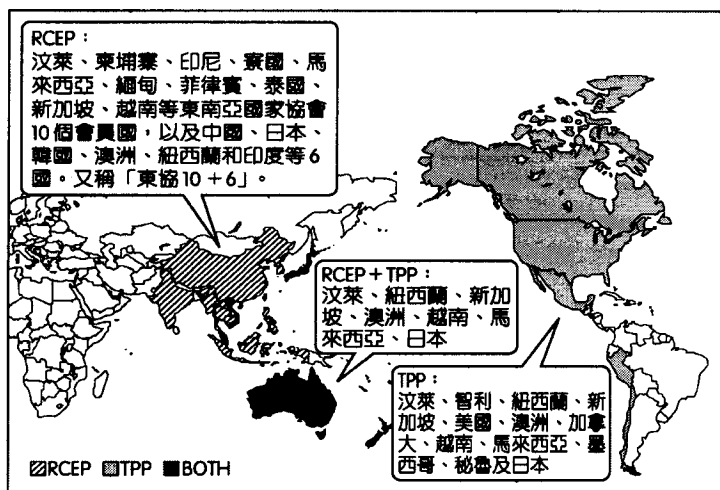
( ) 8. 參考右圖，甲國企業計畫在全球布局（圖 I），最後布局的結果如圖 II，由圖中線索推測，最主要的考量因素是什麼？  
 (A)勞力 (B)技術 (C)原料 (D)市場。



( ) 9. 「2007 年 7~12 月，受到美國次級房貸風暴及『雷曼兄弟』投資銀行倒閉事件影響，美股重挫至歷史新低。全球股市因此大跌，冰島三大銀行也宣布破產重整，全球失業率大增，連臺灣新竹科學園區的便當店都受到波及，業績大幅下滑。」上述說明在陳述下列哪一種現象？  
 (A)全球在地化 (B)金融自由化 (C)區域結盟化

(D)經濟全球化。

- ( ) 10. 車王電子總經理說：「國際車廠面對成本壓力，要到亞洲尋找便宜零件供應商，臺灣業者機械和電子的整合力強、品質好、交貨期也穩定，這都是中國業者比不上的。」由文中可知臺灣汽車零件工業發展有何優勢？  
 (A)規模經濟 (B)研發設計能力強 (C)工業連鎖關係強 (D)價廉質優的勞工。
- ( ) 11. 下左圖為 RCEP 與 TPP 成員國的分布圖，此兩組織對臺灣的經濟發展也將產生影響。這兩個區域結盟組織的正式的會員國中，亦可能與以下哪 3 個組織的成員國重疊？(甲) APEC (乙) ASEAN (丙) EU (丁) NAFTA (戊) OPEC (A)(甲)(乙)(丙) (B)(甲)(乙)(丁) (C)(乙)(丙)(戊) (D)(甲)(丁)(戊)



- ( ) 12. 上右圖是東南亞的三個成長三角，彼此在地理位置上有緊密的關係，並依比較利益原則和結盟的關係而形成次區域經濟聯盟。下列關於東協貿易三角的特色敘述，何者正確？(A)甲為北三角，憑藉荷莫茲海峽的優勢吸引外資 (B)乙為南三角，新加坡在此三角扮演核心的地位 (C)丙為東三角，因雨林密布及霾害問題嚴重，目前發展有限 (D)甲、乙、丙三個三角的參與國家主要為：新加坡、印尼、馬來西亞、泰國、菲律賓

二、題組題：

(一)至 2015 年 3 月底止，在臺的外籍勞工共 56.6 萬人，下圖為臺灣舉辦首屆移工國際足球賽宣傳海報，吸引許多在臺灣工作之國際移工參加，主要參賽國家為印尼、泰國、越南等國，目前全臺各地移工朋友組成的固定足球隊伍超過 50 隊，其中印尼已自組「印尼在臺灣足球大聯盟」。請問：



- ( ) 13. 國際上的勞工移動與哪一理論相關？ (A)反吸與退化 (B)擴散與模仿 (C)推拉理論 (D)比較利益原則。
- ( ) 14. 「臺灣的失業率愈來愈高！」「可是很多工廠或工地都找不到工人！」「許多公司企業尋求操作員、作業員的動作一直沒停過，工人就是找不齊！」「這些工作的薪水大多一、兩萬元，有誰要去做？」從上述談話中，發現近年來臺灣勞力市場的特徵，下列何者正確？ (A)失業率因引進外勞而逐年降低 (B)缺工多為 3D (日本又稱為 3K) 行業工作 (C)臺灣引進技術外勞以彌補不足 (D)臺灣薪資水準將逐年提高。
- ( ) 15. 文中所述主要參賽的移工來自 3 個國家，這 3 個國家所具備的共同特徵為下列何項？  
 (A)同屬伊斯蘭文化區 (B)昔日均為殖民地 (C)皆為 ASEAN 國家 (D)1980 年代有「東南亞四小虎」之稱。
- ( ) 16. 承上題，下列為東南亞五個國家的國旗，台灣移工足球賽的主要參賽國--「印尼、泰國、越南」，其國旗依序為：(A)乙丙戊 (B)丙丁甲 (C)丁戊乙 (D)戊丁甲。



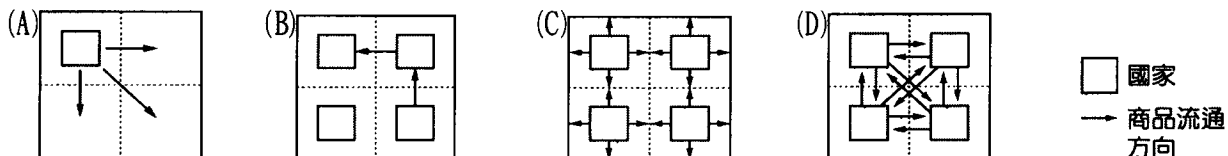
(二)以下有兩則關於鴻海企業集團的相關報導。請問：

資料一：2014 年 2 月，媒體報導鴻海企業計畫將在臺中港規劃「智動化創新園區」，宣示將全力打造專屬的自動化設備

與機器人王國；美國媒體更指出，鴻海與 Google 將攜手開發機器人技術，讓鴻海可以加速朝建構「百萬機器人大軍」的目標邁進。

資料二：近日鴻海向媒體展示鴻海製造的 120 吋 4K 大電視，此電視為鴻海自行研發、設計、製造，他說雖然價格要降至「60 吋價格的 4 倍」目前做不到，但他強調價格會讓大家驚豔，「一定會讓大家覺得很便宜、很有競爭力」，將於 2014 年 3 月開始預購，此外他也預計 4 月到 5 月公布印尼投資設廠計畫，以當地需求來開發商品。

- ( ) 17. 根據資料一敘述，若鴻海要針對不同的市場需求進行產品定位，請問以「工業製造用」與「個人服務照護用」兩種機器人來分析，目前分別在哪個國家會較有市場需求？ (A)中國、美國 (B)美國、日本 (C)印度、中國 (D)墨西哥、丹麥。
- ( ) 18. 根據資料二文中畫線部分敘述，此電視的生產流程屬於下列何者？ (A)垂直分工 (B)垂直整合 (C)水平分工 (D)水平整合。
- ( ) 19. 根據資料二敘述，鴻海未來選擇到印尼投資布局，將使該企業生產模式成為下列何種型態？



- ( ) 20. 承上題，鴻海未來選擇到印尼投資是為了下列何區位優勢？ (A)政策、勞工 (B)勞工、市場 (C)市場、原料 (D)交通、能源。

(三)下表為臺灣冷飲業者在全球拓點的概況，在全球化的脈絡下，各企業紛紛尋找海外市場，擴大企業競爭力。請問：

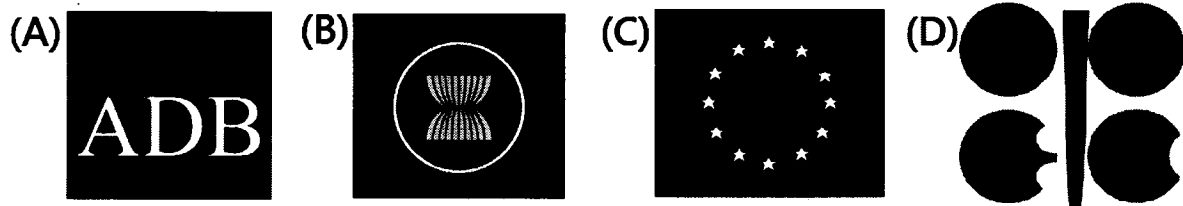
品牌	Café 85°C		COMEBUY		Chatime		歌腳亭		CoCo 都可茶飲	
成立年	2003		2002		2008 (前身為 2005 年成立的茶太屋)		1992		1997	
輸出年	2006		2006		2009		1999		2007	
品牌輸出國	亞洲	中國	亞洲	中國、日本、新加坡、馬來西亞、印尼、印度、菲律賓	亞洲	中國、韓國、越南、柬埔寨、泰國、馬來西亞、新加坡、菲律賓、印尼、印度、阿拉伯聯合大公國	亞洲	中國、韓國、新加坡、馬來西亞、汶萊、菲律賓、印尼、杜拜、柬埔寨	亞洲	中國、泰國、馬來西亞、印尼
	美洲	美國	美洲	美國、加拿大	美洲	美國、加拿大	美洲	美國、加拿大	美洲	美國
	歐洲	無	歐洲	德國、英國	歐洲	英國	歐洲	英國	歐洲	無
	大洋洲	澳洲	大洋洲	澳洲、紐西蘭	大洋洲	澳洲	大洋洲	澳洲	大洋洲	無
全球分店數	約 723 家門市		約 217 家門市		約 186 家門市		約 182 家門市		約 1067 家門市	

資料來源：各業者官網；天下雜誌第 510 期。

- ( ) 21. 根據此表判斷，使冷飲企業得以迅速在海外拓點的主要原因有哪三項？ (甲)交通革新 (乙)貿易自由化 (丙)後工業化 (丁)資金流動自由化 (A)(甲)(乙)(丙) (B)(甲)(乙)(丁) (C)(甲)(丙)(丁) (D)(乙)(丙)(丁)。
- ( ) 22. 表中所列輸出目的地國家中，請問大多屬於哪個國際經貿組織的會員國？ (A)APEC (B)NAFTA (C)OPEC (D)EU。
- ( ) 23. 表列的冷飲品牌，大部分有供應珍珠奶茶，由於臺灣的珍珠奶茶與傳統歐洲茶飲有所區別，以兼具茶香及咀嚼口感的珍珠奶茶進軍國際，包含亞洲、北美、歐洲、紐澳等，珍珠奶茶得以擴展至全球，是下列哪一個地理概念的實踐？ (A)全球在地化 (B)在地全球化 (C)區域專業化 (D)工業泰勒化。

(四)1992 年東協高峰會決議成立東南亞自由貿易區 (AFTA)，以消除區域間貿易的關稅與非關稅障礙。2002 年 AFTA 正式啟動，但由於東協各國的優勢產品大致雷同，貿易互補性薄弱，故積極和鄰近國家尋求和東協合作機會，擴大經濟體以尋求專業技術與產業貿易的相互支援來提升和歐盟、美國等經濟體的競爭力。2010 年，AFTA 首先和中國成立東協—中國自由貿易區 (ASEAN-China)，也稱「東協加一」。未來還有可能擴大為「東協加三」的東亞自由貿易區 (EAFTA)，或「東協加六」的東亞綜合經濟夥伴 (CEPEA)。請問：

- ( ) 24. 請問東協的會旗為下列何者？



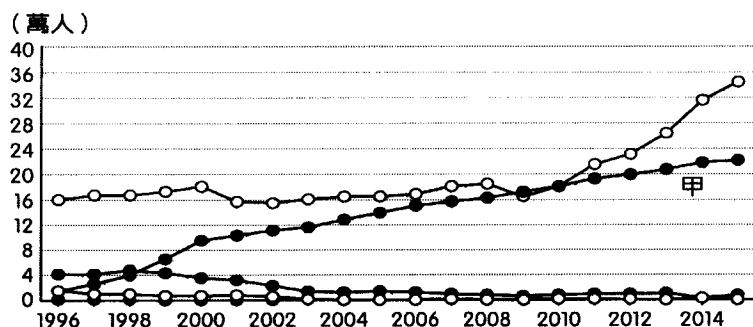
- ( ) 25.東協各國的優勢產品大致雷同，主要與下列哪項因素有最密切的關連？  
 (A)海運交通發達 (B)民族組成複雜 (C)殖民歷史類似 (D)移民政策寬鬆。
- ( ) 26.為提升競爭力，東協與鄰近國家除組成「東協加一」外，還可能擴大組成「東協加三」甚或「東協加六」。東協這種擴大結盟國以強化競爭力的理論基礎，與下列哪項概念關係最密切？  
 (A)聚集經濟 (B)規模經濟 (C)計畫經濟 (D)依賴式經濟。

(五)所有的經濟活動都必須有金融業的參與。隨著跨國企業的國際分工模式轉變，資金在全球各地更快速移動，且流動的形式更加多樣化。請依列舉的個案回答下列各題。請問：

- ( ) 27.(甲)福斯汽車集團自 1960 年代中期將生產線移至捷克 (乙)二次大戰後，日本為完成國內大型經濟建設，多次向國際金融機構借款 (丙)杜拜地產公司與天津市政府合作開發塘沽地區 (丁) 2009 年康師傅食品公司在臺灣發行存託憑證 (戊)統一集團於 1992 年在新疆投資番茄廠。資金流的形式以「FDI」(外國直接投資)為主的有？ (A) 甲乙戊 (B)甲丙戊 (C)乙丁戊 (D)乙丙丁。
- ( ) 28.資金以「FDI」的形式進入某國，請問對某國可能產生的影響「不」包括？  
 (A)增加就業機會 (B)引發獨占市場的疑慮 (C)增加稅收 (D)擴大貿易逆差。

(六)在臺灣有為數不少的泰國籍勞工，以及因婚姻等方式而來臺的新移民，□□市火車站附近即出現四面佛寺廟。秦王蒲美隆於 2016 年 10 月逝世，□□市政府為了方便泰籍民眾得以就近跨海弔念，於是在當地舊火車站大廳設置追思會場，形成一特殊的文化景象。根據下表及下圖回答下列問題：

類別	國家	ㄅ	ㄆ	ㄇ	ㄉ
產業	社福外勞	183,535	30,268	22,927	560
	產業外勞	61,645	105,529	161,993	58,309
性別	男	56,061	48,876	120,468	48,903
	女	189,119	86,921	64,452	9,966



- ( ) 29.上表為 105 年底時，我國引入外籍勞工最主要的 4 個來源國與相關資料。請問何者為泰國？  
 (A)ㄅ (B)ㄆ (C)ㄇ (D)ㄉ。
- ( ) 30.文中敘述的文化景象，可以用哪一種概念解釋之？  
 (A)全球在地化 (B)在地全球化 (C)跨國社會空間 (D)空間轉移。
- ( ) 31.上述所述及的□□市政府，是因該市內有眾多的工業區，因此有包含泰國籍的龐大外籍勞工。請問這可能是哪一個都市？ (A)臺北市 (B)桃園市 (C)高雄市 (D)新竹市。
- ( ) 32.上右統計圖為臺灣外籍勞工從事的四大行業變化—農林漁牧、製造業、營造工程及醫療社福，其中甲產業的外勞，最主要是來自表中的哪個國家？ (A)ㄅ (B)ㄆ (C)ㄇ (D)ㄉ。

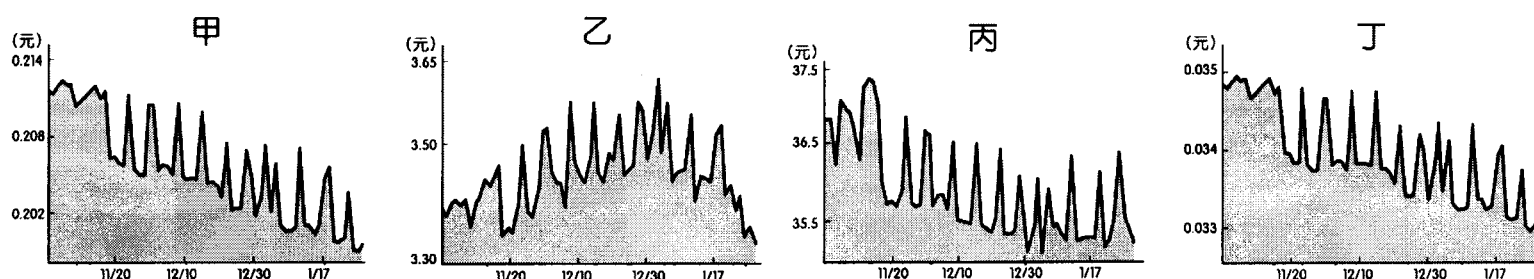
(七)Mary 在美國紐約 (40°N, 75°W) 上班，某天晚上 10 點下班後，打電話給計程車司機叫車，但她從沒想到，接電話的人員在世界「某個角落」，當地正好是早上 11 點，以標準美語和 Mary 應答，並一邊把雙手放置於電腦鍵盤，隨時提供服務與技術援助。且該地早在 2009 年已成為全球許多大公司的客服中心，薪水更比一般當地人高三倍，使得很多人紛紛投入客服人員工作。請問：

- ( ) 33.文中說的「某個角落」最可能位於下列何處？ (A)澳洲墨爾本 (37°S, 145°E) (B)新加坡河畔 (1°N, 104°E)  
 (C)菲律賓宿霧 (10°N, 124°E) (D)印度邦加羅爾 (13°N, 77°E)。
- ( ) 34.除了客服產業外，當地也積極朝資訊通訊科技 (ICT) 領域前進，希望將當地塑造為軟體和電子服務中心，亦即在進入世界分工體系後，成為專業的高科技服務區。許多歐美國家將其製造基地設於該城，但母國仍有研發和製造基地，此最符合地理學的何種概念？ (A)區位聚集 (B)區位擴散 (C)空間移轉 (D)工業慣性

(八)「國土計畫法」已於 2015 年 12 月三讀通過，未來若要變更分區使用，必須透過中央通盤檢討。請問：

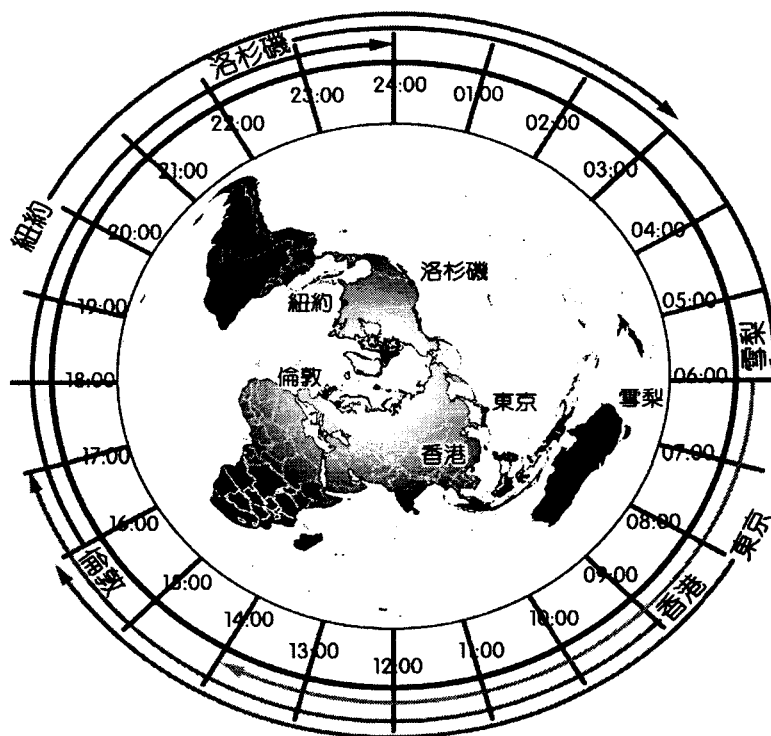
- ( ) 35.「未來臺灣只容許在城鄉發展地區開發工業區、機場、建水庫或高速公路等設施，不能像以前大舉徵收良田或國土保育區的土地，營建許可也只限制在城鄉發展地區內申請。」此一說法符合下列哪一項精神？ (A) 地方產業的振興 (B) 市場機制的分析 (C) 社會正義的考量 (D) 土地使用分區的管制。
- ( ) 36.政府利用 3S 監測山坡地濫砍情形，下列關於監測的敘述，主要分別利用哪三種工具？先利用(甲)獲取濫伐地動態資訊，觀察濫伐地大概面積；再利用(乙)調查員山坡地植被種類，分析其災害損失；最後利用(丙)親自到現場勘查濫伐實況 (A) GIS、RS、GPS (B) GIS、GPS、RS (C) RS、GIS、GPS (D) RS、GPS、GIS。
- ( ) 37.若山坡地原本是完整的植被，若因濫砍而成為裸露的荒地，則在紅外線衛星影像會呈現哪一種變異？ (A) 該區顏色由紅色變成白色 (B) 該區顏色由綠色變成黃色 (C) 該區組織由光滑變粗糙 (D) 該區解析度變大。

(九)韓圓在 2014 年 1 月下旬對美元單日大貶 0.6%，市場關切是否為亞洲貨幣新一波競貶賽開跑？金融業者認為，美國量化寬鬆 (QE) 措施退場已經明確，亞幣走貶是必經過程，即使沒有「競貶」動機，但趨勢上仍將不免走向貶值，日圓、韓圓走弱，勢將牽動新臺幣也朝貶值方向走。下圖是臺灣兌換四國外幣 2013 年 11 月~2014 年 1 月底 3 個月的走勢圖，例如丁圖，1 元臺幣可兌換 0.033~0.035 美元，請問：



- ( ) 38.上列四國貨幣中，幣值由大至小依序應為 (A) 甲乙丙丁 (B) 丙乙甲丁 (C) 丁甲乙丙 (D) 丙甲乙丁。
- ( ) 39.在 3 個月的走勢中，新臺幣與甲、丙、丁三國貨幣的走勢大致為何？ (A) 升值 (B) 貶值 (C) 先升後貶 (D) 先貶後升。
- ( ) 40.在乙圖中，截至 2013 年年底之前的走勢，對臺灣而言若僅針對乙國，哪些產業是較為有利的？ (A) 至該國旅遊 (B) 將該國貨幣兌換回臺幣 (C) 出口商品至該國 (D) 持臺幣購買黃金。

(十)在資訊化與全球化的影響下，世界的股、匯市可依據時區形成一個 24 小時接力運作的動態系統圖。下圖為世界主要匯市的交易時間 (臺北時間)。請問：



- ( ) 41.住在臺北的阿倫於 2015 年 5 月 12 日上午 9 點上網觀看全球股市的行情，而此時圖中 6 個都市有幾個城市的股市已開市？ (A) 3 (B) 4 (C) 5 (D) 6。
- ( ) 42.假設東 9 區有兩個國家於當地時間凌晨 5 點在邊界產生激烈衝突，並立即影響全球金融市場。參考上圖，判斷該事件對各都市交易衝擊的時間最快且先後順序，下列何者正確？ (A) 洛杉磯→雪梨→香港→倫敦

(B)紐約→倫敦→香港→東京 (C)倫敦→紐約→洛杉磯→香港 (D)東京→倫敦→紐約→洛杉磯。

- ( ) 43.「1830年代起，該國成為全球最大的海外投資國家，也直接促使該國的政治與經濟中心成為世界最重要的貿易與資金交易城市。」文中所描述的城市，應位於圖中的哪一個股市範圍之內？(A)紐約 (B)倫敦 (C)東京 (D)香港。

(十一)1997年部分亞洲國家相繼發生股市、房地產崩跌、匯率遽貶、外匯枯竭等危機，釀成「亞洲金融風暴」。上述金融危機一般認為是這些國家的實體經濟(實際提供生產品和服務的經濟活動)和虛擬經濟(純以資本投資於金融商品等，追求資本利得為目的的經濟活動)失衡所導致。請問：

- ( ) 44.亞洲金融風暴受創國在風暴前的「虛擬經濟的失衡」是指 (A)房地產信貸管制鬆散，大量資金放貸給信用評等很低的購屋者 (B)發行國債以支持國營產業，因無力償還本息，致主權信用動搖 (C)金融產業以高利率吸引國際資金，進行高風險金融商品的投資 (D)國際熱錢不斷流入，房地產、股市等資產價值膨脹，匯率被高估。
- ( ) 45.亞洲金融風暴和2008年的金融海嘯相較，下列敘述何者是「不正確」的？(A)兩次金融危機均為金融政策自由化與國際化下的產物 (B)兩次金融危機影響範圍不同，前者主要局限在亞洲，後者則波及全球 (C)兩次金融危機發生地皆以新興工業化國家為主 (D)前者主要表現在匯市與股市重挫，後者則引發全球對金融體系的不信任，阻礙資金流動，使全球經濟更不景氣。

(十二)美國新任總統川普針對振興美國經濟，提出製造業回流美國，並且希望知名品牌蘋果公司能回歸美國進行生產，目前 iPhone6 的供應鏈以亞洲為主，包含生產處理器與 Touch ID 的台積電，以及供應面板的 LG Display、Japan Display Inc 與群創光電，提供相機模組的 Sony、TDK 的感應線圈模組、東芝與海力士的快閃記憶體，以及可成生產的機殼，最終的組裝匯集於中國，因此許多商品標上「中國製造」，此外還有勞工成本考量問題，因此未來蘋果回歸美國製造的可能性應該不高，請問：

- ( ) 46.下表為製造 iPhone6 的前十大零組件供應商分布，此空間分布的型態最能反映高科技產業發展的哪項特性？(A)產品生命週期短 (B)高附加價值 (C)空間分工鏈緊密 (D)即時生產需求強。

名次	1	2	3	4	5	6	7	8	9	10
國家	中國	日本	美國	臺灣	南韓	菲律賓	馬來西亞	泰國	新加坡	德國
廠商數	349	139	60	42	32	24	21	21	17	13

- ( ) 47.目前 iPhone 手機製造尚未採取回歸美國的原因，與中國目前仍有哪些優勢有關？(甲)產業群聚 (乙)工資相對低廉 (丙)資金設備齊全 (丁)專業人才充足 (A)(甲)(乙) (B)(乙)(丁) (C)(丙)(丁) (D)(甲)(丙)。
- ( ) 48.上文敘述畫線部分，顯現出 iPhone6 的生產模式擁有現代工業的何種特徵？(A)水平分工 (B)垂直分工 (C)水平整合 (D)垂直整合。

(十三)「在桃園土生土長的藍博瀚，高中時驚見鐵道宿舍遭無預警拆除，震撼之餘決定選讀歷史相關科系。大學時他發現嘉義有許多文化協會相當重視文化建築，居民也會自組保存協會，甚至籌募資金買下日新醫院作為醫療文化館，於是他也決定投入保存桃園古蹟運動。目前是成大建築所碩一的他，已數次將桃園建築成功提報為歷史建築，並創立『陽明一街實驗工坊』粉絲專頁，分享桃園古蹟故事，激勵不少桃園人，想要重新認識在地歷史與文化。」請問：

- ( ) 49.住在桃園市的小仁，聽完藍博瀚演講，決定認識自己的家園，他發現自己所住的陽明社區，原來是桃園名勝之一的「辨天池」的所在地，竟然還有神社……他和朋友開始訪談鄰居，並找出與當年有關的老照片，逐漸與社區的居民，共同建構出百年來此地一景一瓦的老故事與新面貌，街坊鄰居忽然有了更多的認同感……。請問上述小仁和朋友所做的事，與哪一項社區總體營造概念最有相關？(A)形塑社區居民的共同記憶 (B)著重文化產業化，產業文化化 (C)培養公義與私利並重的價值觀 (D)推動民主化與公共化概念。
- ( ) 50.熱心的居民成立社區發展協會，並開始舉辦各種認識社區、愛鄉愛土的活動，表示當地的社區總體營造具備哪些特色？(甲)政府提倡 (乙)企業支助 (丙)由下而上 (丁)地方參與；正確的有：(A)甲乙 (B)甲丙 (C)乙丁 (D)丙丁。

~~作答結束 請再仔細檢查~~

桃園市立平鎮高級中學 106 學年第 2 學期 期末考 三年級不限組別應用地理 II [20180508300050101118] 全體考生 試題分析表

題號	題型	題分	標準答案	全體			349			高分組			94			低分組			94			全體答對率	難易指數	鑑別指數
				A	B	C	D	E	未	A	B	C	D	E	未	A	B	C	D	E	未			
1	單選題	2	B	6	297	3	43	0	0	0	84	1	9	0	0	4	76	1	13	0	0	85.10%	0.851	0.085
2	單選題	2	A	248	14	53	34	0	0	76	3	5	10	0	0	54	9	20	11	0	0	71.06%	0.691	0.234
3	單選題	2	B	156	149	21	23	0	0	37	44	4	9	0	0	41	35	10	8	0	0	42.69%	0.420	0.096
4	單選題	2	C	10	20	305	14	0	0	4	2	84	4	0	0	5	15	68	6	0	0	87.39%	0.809	0.170
5	單選題	2	A	244	81	16	8	0	0	71	13	7	3	0	0	56	30	4	4	0	0	69.91%	0.676	0.160
6	單選題	2	D	3	4	61	281	0	0	0	1	15	78	0	0	2	1	22	69	0	0	80.52%	0.782	0.096
7	單選題	2	B	15	66	45	223	0	0	3	21	14	56	0	0	6	13	16	59	0	0	18.91%	0.181	0.085
8	單選題	2	D	56	12	22	259	0	0	6	4	5	79	0	0	20	7	12	55	0	0	74.21%	0.713	0.255
9	單選題	2	D	1	35	1	312	0	0	0	7	0	87	0	0	1	14	1	78	0	0	89.40%	0.878	0.096
10	單選題	2	C	20	28	262	38	0	1	1	7	76	10	0	0	12	10	56	15	0	1	75.07%	0.702	0.213
11	單選題	2	B	13	311	5	20	0	0	3	83	2	6	0	0	7	76	2	9	0	0	89.11%	0.846	0.074
12	單選題	2	B	8	291	15	35	0	0	3	79	4	8	0	0	3	73	4	14	0	0	83.38%	0.809	0.064
13	單選題	2	C	12	15	291	31	0	0	4	2	79	9	0	0	7	8	71	8	0	0	83.38%	0.798	0.085
14	單選題	2	B	6	272	51	20	0	0	2	82	6	4	0	0	4	61	23	6	0	0	77.94%	0.761	0.223
15	單選題	2	C	4	21	315	9	0	0	0	5	84	5	0	0	4	9	78	3	0	0	90.26%	0.862	0.064
16	單選題	2	D	78	80	13	178	0	0	17	11	2	64	0	0	26	31	3	34	0	0	51.00%	0.521	0.319
17	單選題	2	B	78	214	7	50	0	0	14	66	3	11	0	0	28	49	4	13	0	0	61.32%	0.612	0.181
18	單選題	2	B	57	274	10	8	0	0	11	73	5	5	0	0	21	68	3	2	0	0	78.51%	0.750	0.053
19	單選題	2	C	36	35	238	40	0	0	6	4	74	10	0	0	20	19	39	16	0	0	68.19%	0.601	0.372
20	單選題	2	B	53	292	3	1	0	0	9	85	0	0	0	0	20	74	0	0	0	0	83.67%	0.846	0.117
21	單選題	2	B	9	324	12	4	0	0	1	89	3	1	0	0	5	83	6	0	0	0	92.84%	0.915	0.064
22	單選題	2	A	313	20	10	6	0	0	85	3	4	2	0	0	78	9	6	1	0	0	89.68%	0.867	0.074
23	單選題	2	B	62	283	2	2	0	0	15	79	0	0	0	0	24	66	2	2	0	0	81.09%	0.771	0.138
24	單選題	2	B	6	314	20	9	0	0	4	89	1	0	0	0	0	74	15	5	0	0	89.97%	0.867	0.160
25	單選題	2	C	6	6	335	2	0	0	2	0	91	1	0	0	3	6	84	1	0	0	95.99%	0.931	0.074
26	單選題	2	B	43	285	5	16	0	0	7	81	1	5	0	0	19	66	3	6	0	0	81.66%	0.782	0.160
27	單選題	2	B	27	299	12	11	0	0	9	82	1	2	0	0	11	70	8	5	0	0	83.67%	0.809	0.128
28	單選題	2	D	22	41	73	213	0	0	8	7	16	63	0	0	7	17	29	41	0	0	61.03%	0.553	0.234
29	單選題	2	D	19	42	169	119	0	0	4	4	45	41	0	0	7	20	47	20	0	0	34.10%	0.324	0.223
30	單選題	2	C	18	28	296	7	0	0	2	4	87	1	0	0	5	13	71	5	0	0	84.81%	0.840	0.170
31	單選題	2	B	18	290	29	12	0	0	3	83	7	1	0	0	9	70	9	6	0	0	83.09%	0.814	0.138
32	單選題	2	A	174	60	100	15	0	0	53	14	20	7	0	0	30	20	38	6	0	0	49.86%	0.441	0.245
33	單選題	2	C	6	22	86	235	0	0	2	7	39	46	0	0	4	7	13	70	0	0	24.64%	0.277	0.277
34	單選題	2	B	21	271	41	15	0	1	5	70	15	4	0	0	10	66	12	6	0	0	77.65%	0.723	0.043
35	單選題	2	D	2	2	57	286	0	2	1	0	13	80	0	0	1	1	17	73	0	2	81.95%	0.814	0.074
36	單選題	2	C	106	26	206	11	0	0	22	5	65	2	0	0	40	11	38	5	0	0	59.03%	0.548	0.287
37	單選題	2	A	301	34	11	3	0	0	85	7	2	0	0	0	70	14	7	3	0	0	86.25%	0.824	0.160
38	單選題	2	C	4	133	207	5	0	0	0	29	63	2	0	0	2	42	47	3	0	0	59.31%	0.585	0.170
39	單選題	2	B	49	206	68	26	0	0	13	61	16	4	0	0	12	47	24	11	0	0	59.03%	0.574	0.149
40	單選題	2	A	176	60	95	18	0	0	61	14	15	4	0	0	34	27	30	3	0	0	50.43%	0.505	0.287
41	單選題	2	A	293	37	16	3	0	0	83	10	0	1	0	0	68	15	9	2	0	0	83.95%	0.803	0.160
42	單選題	2	A	120	32	65	132	0	0	37	9	15	33	0	0	22	11	25	36	0	0	34.38%	0.314	0.160
43	單選題	2	B	165	156	8	20	0	0	32	55	1	6	0	0	50	31	5	8	0	0	44.70%	0.457	0.255
44	單選題	2	D	23	12	68	245	0	1	5	4	15	69	0	1	6	4	23	61	0	0	70.20%	0.691	0.085
45	單選題	2	C	7	34	290	18	0	0	0	8	79	7	0	0	5	14	68	7	0	0	83.09%	0.782	0.117
46	單選題	2	C	6	4	319	20	0	0	0	2	85	7	0	0	2	2	81	9	0	0	91.40%	0.883	0.043
47	單選題	2	A	311	29	3	6	0	0	82	8	0	4	0	0	80	11	3	0	0	0	89.11%	0.862	0.021
48	單選題	2	A	213	100	28	8	0	0	63	22	8	1	0	0	38	40	9	7	0	0	61.03%	0.537	0.266
49	單選題	2	A	321	26	1	0	0	1	89	5	0	0	0	0	78	15	1	0	0	0	91.98%	0.888	0.117
50	單選題	2	D	4	1	3	342	0	0	0	1	0	93	0	0	3	0	3	88	0	0	97.71%	0.963	0.053

選填題或五選項以上各題以 1(或A) 表示作答正確, 2(或B) 表示作答錯誤