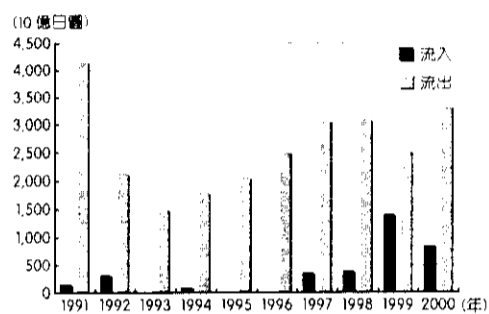


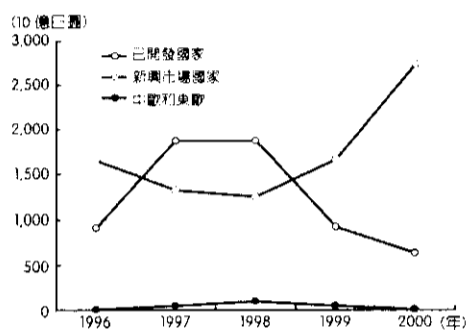
一、單一選擇題，每題 2 分，34%

1. 「市面上家用變頻冷氣，日本進口非常稀少，使用日本製造的壓縮機也很稀少，進口機與壓縮機中國或東南亞製造的比較多，日立變頻冷氣堅持在台灣製造，頂級、旗艦系列更採用日本製壓縮機，以高品質的產品，贏得消費者的肯定與信賴，成為深受國人喜愛的空調領導品牌。」請問由上文可知，下列有關全球分工的敘述何者「錯誤」？(A)台灣在壓縮機的製造具有比較優勢 (B)當分工愈趨細密，每個國家皆必須掌握其在國際分工所扮演的角色 (C)通常是由跨國公司布局全球性生產鏈架構 (D)低價的運輸成本是促使全球分工能成功運作的重要因素之一。

2. 圖(一)為日本 1990 年代的 FDI 流動概況，圖(二)則為日本於此期間後 5 年的 FDI 流向。根據圖中顯示，1998 年之後日本的 FDI 流出金額縮減、流向地亦轉為已開發國家。請問此與下列哪一項事件的發生關係最為密切？(A) 亞洲金融風暴 (B) 美國次貸危機 (C) 日本泡沫經濟 (D) 美中貿易大戰。

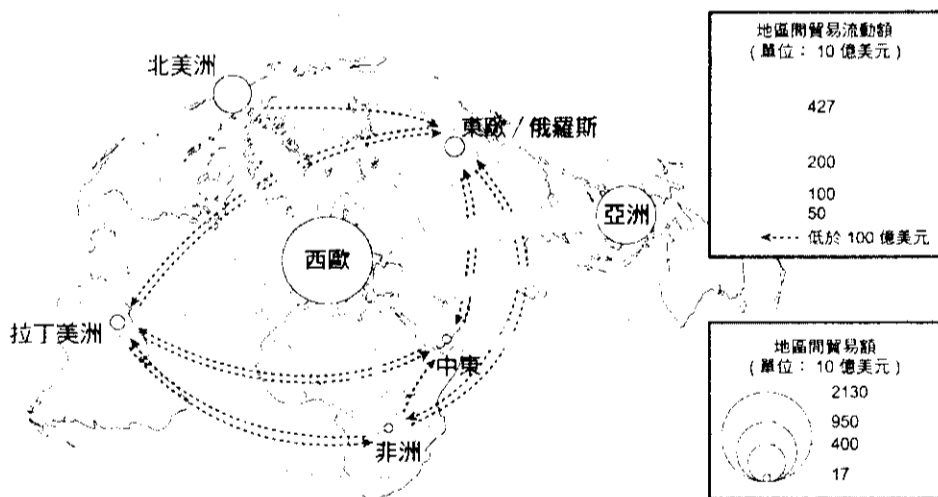


▲圖(一)



▲圖(二)

3. 圖(三)為 2003 年全球商品貿易流動的比較圖，請問由圖可知下列敘述何者正確？(A)亞洲為最大的經濟體 (B)拉丁美洲與北美洲互動密切，與殖民母國歷史有關 (C)西歐因北大西洋公約組織的建立，與北美洲貿易往來頻繁 (D)亞洲與北美洲貿易往來最為頻繁。



▲圖(三)



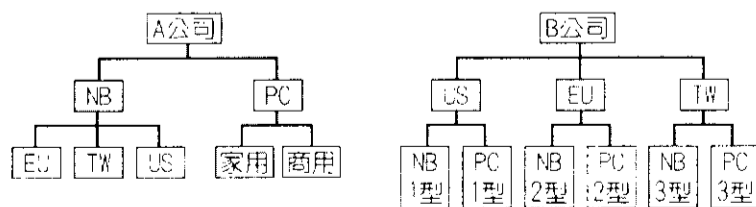
▲照片(一)



▲照片(二)

4. 根據星巴克 2018 年報，星巴克在全球 75 個國家及地區皆有據點，由該公司直接營運的分店有 13275 間，特許經營分店更多達 14064 間，當中亦有不少分店的深具當地特色。照片(二)為星巴克的在某地商業識別標誌，請對比常見的企業標誌照片(一)，推測照片(二)可能出現在哪一個國家？(A)印度 (B)泰國 (C)紐西蘭 (D)沙烏地阿拉伯。

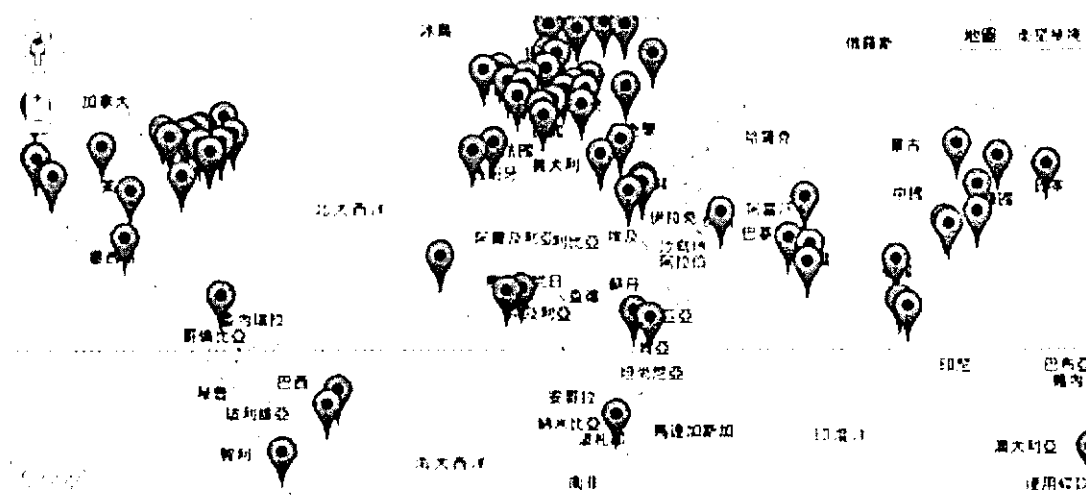
5. 圖(四)所呈現的企業經營策略，下列哪些敘述正確？(甲)A 公司的產品設計受區域差異影響較小；(乙)B 公司的分工形式屬於專業化生產型；(丙)A 公司較 B 公司具有生產彈性；(丁)世界主要跨國公司多屬於 B 公司類型 (A)甲乙 (B)乙丙 (C)甲丁 (D)丙丁 (E)乙丁。



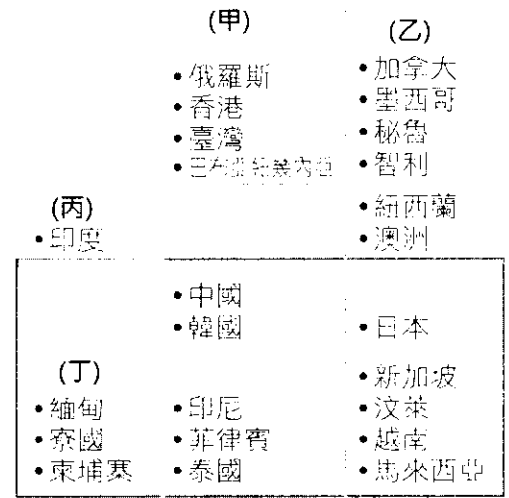
▲圖(四)

6. 英國的英格蘭銀行成立於 1694 年，位於倫敦市的 Threadneedle 大街，被稱為「針線大街上的老婦人」。其為典型的中央銀行，因此具有下列哪些特點？(甲)發行的銀行；(乙)融資的銀行；(丙)政府的銀行；(丁)銀行的銀行；(戊)世界的銀行。(A)甲乙丙 (B)乙丙戊 (C)甲丙丁 (D)乙丁戊。

7. 圖(五)為 Google 公司 2014 年在全球各地據點，從其據點的分布可知其共同的特色為何？(A)人口密度較高 (B)都市化程度高 (C)國民所得較高 (D)資訊流通較快速。



▲圖(五)



▲圖(六)

8. 圖(六)為環太平洋地區的經貿體系整合的趨勢圖，請問圖中(乙)、(丙)分別代表哪些經濟組織？(A)亞太經濟合作會議(APEC)；東協經濟共同體(AEC) (B)跨太平洋夥伴協定(TPP)；區域全面經濟夥伴協定(RCEP) (C)區域全面經濟夥伴協定(RCEP)；亞太自由貿易區協定(FTAAP) (D)跨太平洋夥伴全面進步協定(CPTPP)；區域全面經濟夥伴協定(RCEP)。


9. 下列哪一個組織，致力於貿易、資金與服務業的自由流通，帶領與會各國順利跨入全球化的時代？

(A)

(B)

(C)

(D)

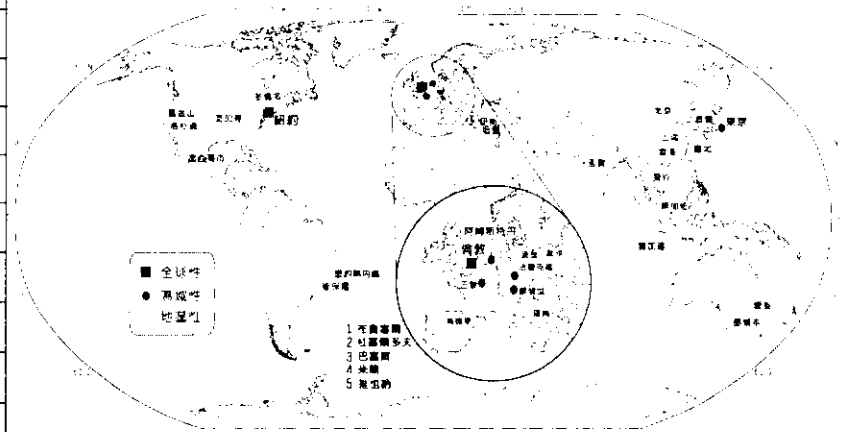


10. 表(一)是東南亞國協 2014 年的外人直接投資金額。請問下列哪二項敘述正確？(甲)來自東協區域內投資最多的是泰國；(乙)總投資金額最多的地區是新加坡；(丙)表中金額的大小與該國的 GDP 成正比；(丁)一國的政治環境會影響投資該國金額的多寡；(戊)臺灣是東協最大的投資國 (A)甲乙 (B)乙丁 (C)丙丁 (D)丁戊。

單位：百萬美元

國家	2014 年		
	來自東協內部	來自東協外部	淨流入
汶萊	141.2	427.0	568.2
柬埔寨	372.5	1,354.0	1,726.5
印尼	13,083.7	8,726.7	21,810.4
寮國	137.9	775.3	913.2
馬來西亞	2,284.0	8,591.3	10,875.3
緬甸	683.6	262.6	946.2
菲律賓	137.1	5,677.5	5,814.6
新加坡	5,214.1	69,206.2	74,420.3
泰國	-1,466.8	5,187.0	3,720.2
越南	1,547.1	7,653.0	9,200.1

▲表(一)



▲圖(七)

11. 圖(七)為全球金融中心的分布圖，請由圖中資料判斷，有關其分布特色的敘述中，何者最為正確？(A)北美洲地區分布最密集 (B)南歐無金融中心分布 (C)西半球金融中心數量較東半球多 (D)國際金融中心多分布於中緯度地區。

12. 「新南向政策」是臺灣基於經濟發展需要，本於雙向互惠及多元發展原則所擬定之策略性計畫，同時也可作為積極整備國家之能量，參與區域經濟之融合。從經貿合作、人才交流、資源共享與區域鏈結等四大面向著手，透過與周邊 18 個國家的經貿、科技、文化等各層面的連結，共享資源、人才與市場，創造互利共贏的新合作模式。請問在「新南向政策」合作的國家當中，哪一個文化區的国家個數是最多的？(A)南亞文化區 (B)西方文化區 (C)東亞文化區 (D)東南亞文化區。

13. 委內瑞拉於 2018 年 8 月 21 啟用新貨幣「主權玻利瓦爾」替代原有貨幣「強勢玻利瓦爾」(strong bolivar) 的。兩者兌換比率為 1 比 10 萬，新舊紙幣將共存一段時間。委內瑞拉政府同時宣佈了一系列經濟改革舉措，希望經濟重回正軌。成千上萬的商鋪關門歇業，以適應新貨幣「主權玻利瓦爾」(sovereign bolivar)，許多工人也沒有開工。在首都加拉加斯，一

杯咖啡的價格從上個月的 250 萬元舊玻利瓦爾變成了現在的 25 新玻利瓦爾。一包紙尿布的價格也從 800 萬舊玻利瓦爾變成 80 新玻利瓦爾。請問委內瑞拉目前的經濟可能面臨哪些問題？(甲)物價回穩；(乙)外債高築；(丙)外資伺機湧入炒作匯市；(丁)經濟泡沫化；(戊)貨幣貶值；(己)通貨膨脹率上升。(A)甲乙丙 (B)乙丁己 (C)丙丁戊 (D)乙戊己。

14. 假日車站大廳熙來攘往的人潮中，有一群帶著頭巾、吃著家鄉菜和道地薑黃飯塔，操著東南亞語言和朋友盡情說笑。尤其，開齋節過後的興奮之情溢於言表。移工安娜說：「我和朋友常約在這裡(火車站)，因為想確認彼此都好好的」。請問這群外籍移工最有可能來自於哪一個國家？(A)越南 (B)泰國 (C)印尼 (D)菲律賓。

15. 外電報導：「最新『世界經濟展望』報告指出，將 2019 年全球經濟成長率由一月預測的三·五%調降至三·三%，為去年十月以來第三度調降，也創下 2009 年以來最低，預估明年經濟成長率維持三·六%不變。2019 年全球貿易和服務交易量將成長三·四%，不僅低於去年的三·八%，也較一月預估的四%大幅降低。IMF 警告，全球經濟面臨諸多威脅，包括(甲)、(乙)。IMF 表示自 2018 年開始的(甲)，已對全球貿易造成衝擊。(乙)自 2016 年中發展至今，可說是歹戲拖棚。」請問文中對世界經濟的兩大威脅(甲)、(乙)分別為何？(A)甲：一帶一路政策；乙：次貸危機 (B)甲：亞洲金融風暴；乙：次貸危機 (C)甲：「301 貿易調查」；乙：北韓核彈危機 (D)甲：美中貿易大戰；乙：英國脫歐。

16. 下列個區域組織結盟的主要原因是為了確保國家安定和區域穩定？(A)石油輸出國組織 (B)上海合作組織 (C)歐洲煤鋼共同體 (D)聯合國。

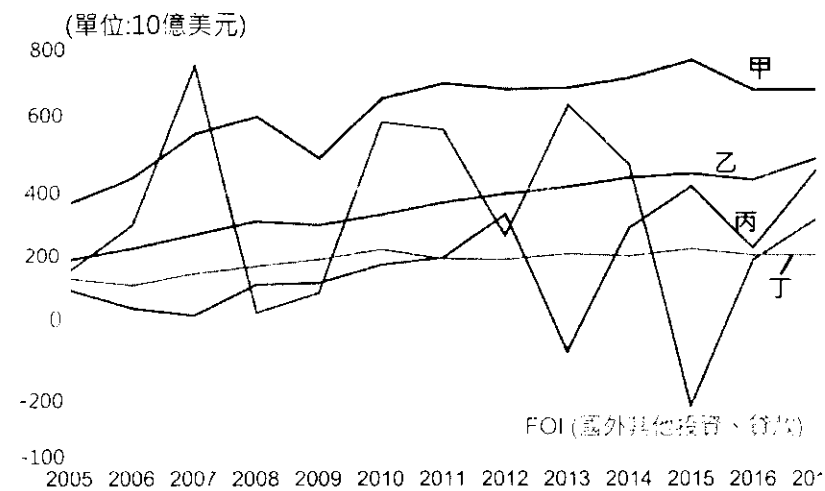
17. 中國計畫修建泛亞鐵路，由昆明出國境，經過中南半島、馬來半島到新加坡，若此鐵路修建完工通車，對中國哪一地區「借船出海」最有助益？(A)嶺南丘陵 (B)兩湖盆地 (C)雲貴高原 (D)珠江三角洲。

二、題組：每題 2 分，66%

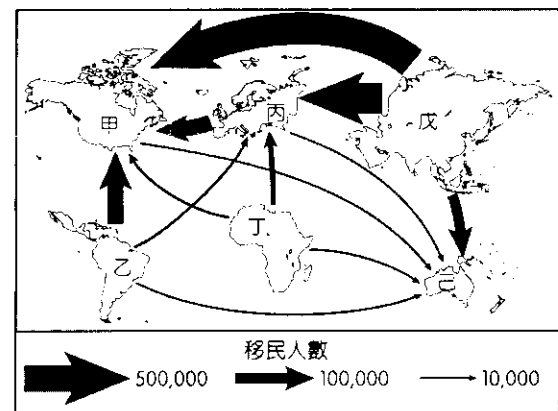
*圖(八)為開發中國家各項外國投資比較圖，請問：

18. 圖中(甲)所占比例最高，請問其為何種類型的國際資金？(A)國外證券投資(FPI) (B)國外直接投資(FDI) (C)外匯 (D)政府發展基金(ODA)。

19. 臺灣在 2013~2016 年間國際資金的流動中，流入臺灣的資金偏重哪一種類型？(A)甲 (B)乙 (C)丙 (D)丁。



▲圖(八)



▲圖(九)

*圖(九)為國際勞動人口流向示意圖。請問：

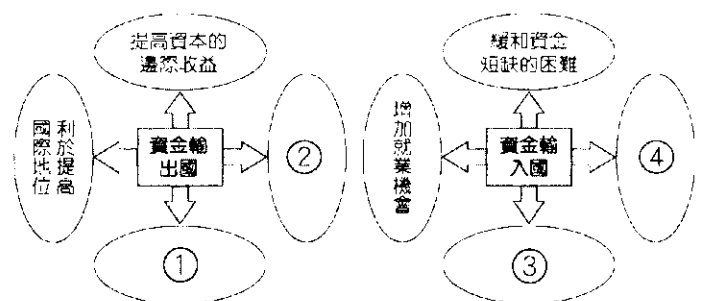
20. 根據圖中各移民流向，下列敘述哪三項正確？(甲)中南美洲到北美洲是三大移民流之一；(乙)大多是由貧窮區域流入富裕區域的移工需求；(丙)歐洲到北美洲有相當數量的移民，主要移出區是西歐地區；(丁)大多是由低所得和高自然成長率地區往相對富裕國家流動。(A)甲乙丙 (B)甲乙丁 (C)甲丙丁 (D)乙丙丁。

21. 由圖中可知，人口移出總數最多的是哪一洲？(A)亞洲 (B)非洲 (C)歐洲 (D)中南美洲。

*國際資金流動在不同國家或地區間做單向、雙向或多向流動，其流動的根本原因在於各國資金的預期收益不同，驅使資金從一國流向另一國，而依其流動的期限，可分為一年以上的長期性流動，與一年及一年以下的短期性流動。國際資金流動對全球經濟的影響巨大，它推動了經濟的一體化，而長期性的國際資金流動影響則更為深遠。請問：

22. 圖(十)為長期性的國際資金流動影響示意圖，圖中①~④依序為下列甲~丁何者？(甲)打破貿易壁壘；(乙)擴大工業產品出口量；(丙)利於開拓世界市場；(丁)提高工業化水準 (A)甲乙丙丁 (B)甲丙乙丁 (C)乙丁丙甲 (D)乙丙丁甲。

23. 長期性的國際資金流動「最早」可能出現在產品生命週期的哪一階段？(A)導入期 (B)成長期 (C)成熟期 (D)衰退期。

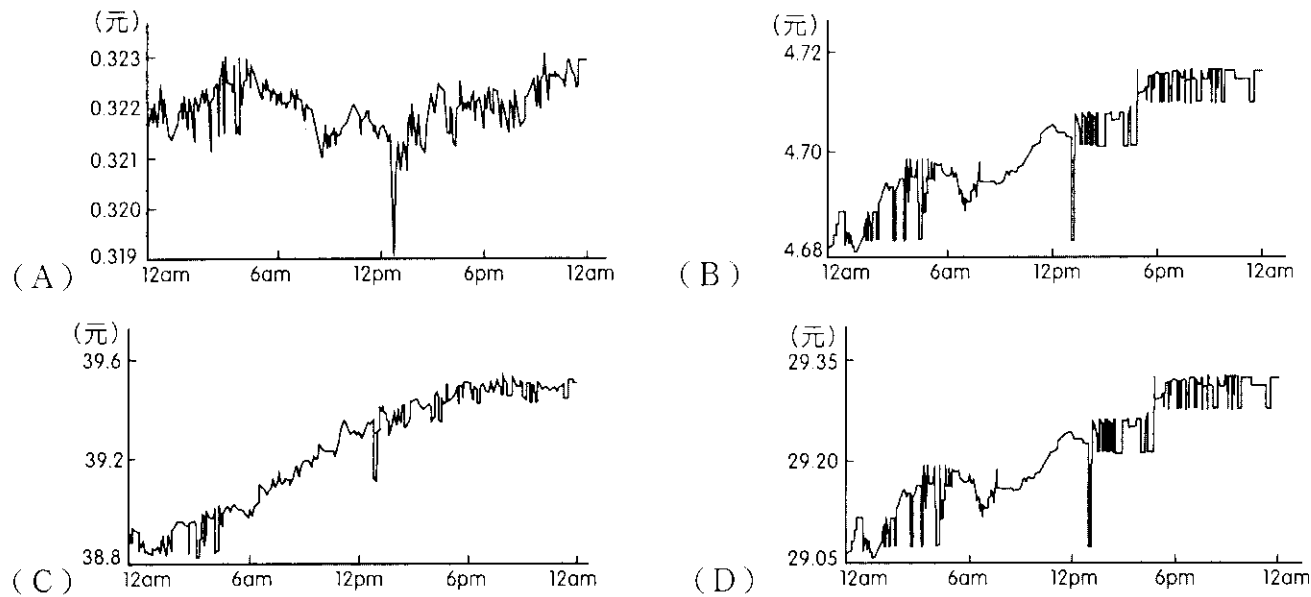


▲圖(十)

*日圓匯價在 2013 年一開春就持續走貶；1 月中旬一度貶破 90 日圓，日圓波動率則攀抵至 17 個月來高點，日本銀行更在 1 月 21 日召開為期 2 天的會議決議：將仿效美國持續施行「量化寬鬆」政策。日圓兌美元匯率盤中一度貶破 90 日圓，來到 90.10 日圓兌 1 美元，臺北時間中午 12 時 10 分，日圓兌美元報 89.94 日圓兌 1 美元；日本 2 年期債券殖利率跌至 7 年低點；1 週美元／日圓隱含波動率攀抵 16.9 %，創下 2011 年 8 月以來最高點。日圓跌跌不休，締造 2010 年 6 月 23 日以來最低水準。請問：

24. 關於「寬鬆貨幣」的內容敘述正確的是 (A)回收市場流通鈔票 (B)調高存款利息 (C)調高股市交易稅 (D)降低放款利率。

25. 下列為 2013 / 01 / 25 全天匯率變化圖，哪一張最可能為新臺幣兌日圓的匯率走勢圖？




*下列為關於地理的五個重要概念，請依照題意選擇最適合的概念詮釋。請注意每一個詞彙出現的次數可能不只一次：

(A)在地化 (B)跨國社會空間 (C)全球在地化 (D)區域專業化 (E)全球化


26. 《經濟學人》雜誌用「大麥克指數」，亦即一個大麥克在不同地方貨幣價格的比較，用來非正式地評估這些貨幣的購買力，顯見麥當勞企業發展趨勢。請問「大麥克指數」可用哪一地理概念解釋？

27. 日商在東協的投資甚早，早在東協尚未整合之前，日商為規避東協各國甚高的汽車關稅，不得不在東協各國分別設立汽車廠，以地產地銷（當地生產、當地銷售）策略在東協區域運作。隨著東協區域的整合，日本汽車廠開始將東協的生產基地進行調整，以發揮的效益。其中最明顯的是，泰國成為日本汽車廠輕卡車的生產基地，印尼則是轎車的主要生產基地。請問哪個概念符合上文的敘述？

28. 照片（三）為臺南後壁無米樂社區內的「菁寮聖十字教堂」，由普立茲獎得主—佛萊德·波姆(Gottfried Bohm)在 1966 年設計。其中有一處聖母亭，照片（四）為聖母亭內的景象。請問哪個概念最適合用來解釋該天主堂的建築特色？



▲照片(三)

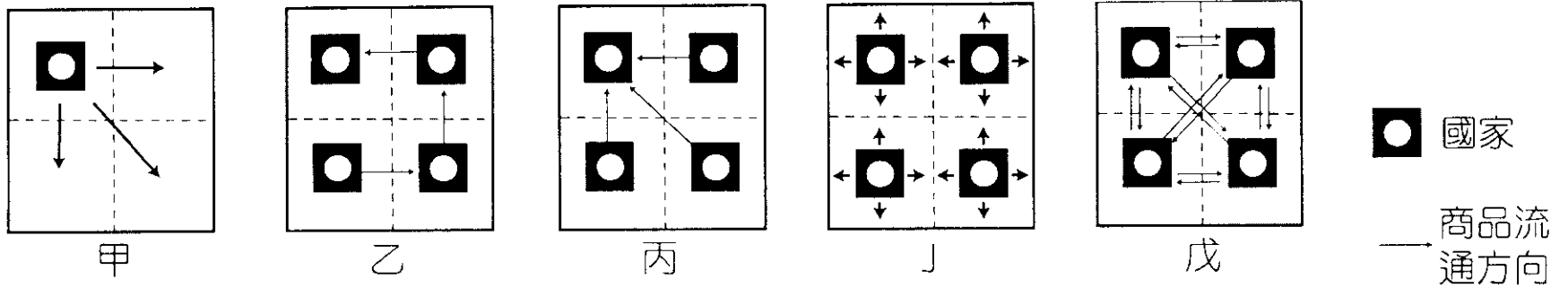


▲照片(四)

29. 近日掀起熱潮的電影非《復仇者聯盟：終局之戰》莫屬，還未看的觀眾紛紛抵制爆雷，南韓夯團 BTS 防彈少年團卻劇透粉絲，在專輯簽名會上，成員 J-HOPE 透露去了電影院，還遇到了 JIN，結果 JIN 想劇透給台下粉絲時，遭到大聲阻止，隊長 RM 就刻意透露一段，讓不少 ARMY（粉絲名）大喊被偶像劇透好無奈。請問《復仇者聯盟：終局之戰》受到歡迎的程度與何種概念有關？

30. 二戰後的德國引進大量土耳其勞工進行重建，Kreuzberg 這裡一度被炸得殘破不堪的樓房，就直接成了土耳其人廉價的棲息地，這些攜家帶眷的土耳其移民在這裡生根發展，也從此讓 Kreuzberg 有了「小伊斯坦堡」的稱號，形成與德國族裔生活風格迥異的空間。請問這可用下列哪一個地理概念來解釋？

*圖(十一)為五種不同的國際分工方式。請問：

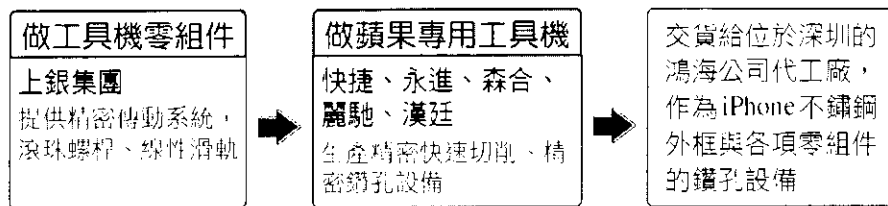


▲圖(十一)

31. 何種國際分工方式最能突破關稅壁壘和貿易保護等政策影響，使產品拓展到國外市場？

(A)甲 (B)乙 (C)丙 (D)丁 (E)戊。

32. 附圖為 iPhone 的製程。請問：此製程應為何種國際分工型態？ (A)甲 (B)乙 (C)丙 (D)丁 (E)戊。



33. 法國空中巴士集團於 1970 年在法國成立，股權分屬英國、法國、德國、西班牙四國政府所投資的公司，其持股比例如表(二)。請問由表中可知其國際分工型態應該為何？(A)甲 (B)乙 (C)丙 (D)丁 (E)戊。

集團成員	股份	分工項目
法國航太公司 (Aérospatiale Matra)	37.90%	駕駛艙、前機艙、中央機身與機翼箱、發動機掛架與升力擾流板、最後組裝及座艙的內裝設備
戴姆勒—克萊斯勒公司 (Daimler-Chrysler)	37.90%	機身、垂直尾翼、尾錐、方向舵、襟翼、擾流器與襟翼整流器並組裝機翼部份
英國航太公司 (British Aerospace)	20.00%	機翼
西班牙 CASA 公司	4.20%	水平安定面、升降舵、鼻艙起落架控制門、前座艙門

▲表(二)

34. 承上題，法國空中巴士將工廠設置於英、法、德、西班牙等國，再運至法國組裝的過程中，和下列何者關係最大？(A)生產技術進步 (B)歐盟取消關稅 (C)規模經濟效益 (D)工業慣性特色。

35. 愛馬仕柏金包 (Hermès Birkin)，聽說要排五年才買的到，因為每一個都是純手工做的，而且做包包不是像福特汽車的那種生產線分工，而是每一個法國師父負責一個包包，從頭到尾都由一個人做，所以每個包包都有編號，都可追溯到源頭及出廠時間，而這些包包則從法國行銷到全世界。請問：愛馬仕的國際分工方式應屬下列何種產業分工鏈型式？

*表(三)是全球主要匯市與臺灣交易時間的對照表。請問：

36. 臺灣時間 9:00AM 開市，同時間新加坡和香港等交易所也同時營業。臺灣、新加坡和香港具有哪些共同特色？(甲)都是亞洲四小虎之一；(乙)三地位同一緯度；(丙)三地都使用中原標準時間；(丁)都是華人居多的地區。

(A)甲丙 (B)丙丁 (C)乙丁 (D)乙丙

37. 芝加哥在臺灣時間 9:00PM 才開市，因此芝加哥的時區經度最接近何者？

(A) 75°E (B) 45°W (C) 75°W (D) 45°E

38. 美國紐約在當地時間 9 月 11 日 8:46 開始第一起恐怖攻擊事件，其後各國股匯市都深受重擊。按照股匯市交易時間，各國股匯市受重擊的正確排列順序為何？

(A)洛杉磯→雪梨→東京→臺灣 (B)芝加哥→東京→香港→雪梨

(C)洛杉磯→中東→倫敦→香港 (D)芝加哥→雪梨→臺灣→日本

39. 911 恐攻事件後，短時間內全球投資人信心崩潰，市場上只要有任何負面消息傳出，就大砍手中股票。此現象說明了下列哪一個事實？(A)全球金融的證券化是這一波金融危機的最大元凶 (B)全球共有紐約、東京、倫敦三大金融交易時區的中心 (C)在全球化與資訊化的推波助瀾下，全球的金融版圖已連成一片，牽一髮而動全身 (D)目前全球有三大金融中心和許多新興的區域金融中心，每天有大量資金在其彼此間流動。

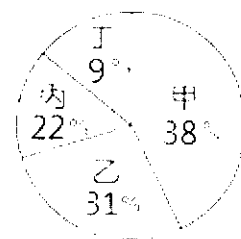
交易所開盤時的臺灣時間	開盤的國際外匯市場
7:00AM	澳洲雪梨
8:00AM	日本東京
9:00AM	新加坡、香港、臺灣
2:30PM	中東
3:30PM	瑞士、德國
4:30PM	英國倫敦
8:30PM	美國紐約
9:00PM	美國芝加哥
3:00AM	美國西岸洛杉磯

▲表(三)

*○○市外籍移工約 11 萬人，為全國最多，該市市政府勞動局繼 2017 年推行全國首創移工休閒育樂參與式預算計畫，今年更增加研習培訓和關懷照顧，像是拍攝移工故事、學 CPR 等共 13 個方案，開放投票。第一屆在逾 3 千人投票下，成功舉辦泰拳、排球、足球等比賽獲得熱烈響應後，今年將觸角延伸，擴大辦理「外籍移工友善措施提案計畫」，200 萬元總預算在「休閒育樂」外增加「研習培訓」及「關懷照顧」2 類別。歷經多場固定和走動式說明會，移工踴躍參加、並提出 19 個初步提案，在國際學生、新住民幫忙擔任雙語引導員下，大家腦力激盪、合併出 13 個提案：運動會和文化藝術、慶祝台灣國慶、移工文化節、籃球排球比賽、移工彩色路跑、全台烹飪比賽、全台移工 AFF 足球聯賽、中英文課程、CPR、移工美食分享學習、烹飪課程、移工生命故事拍攝和移工權益講座。請問：

40. 請問該市為哪一個縣市？(A)新北市 (B)桃園市 (C)台北市 (D)台中市。

41. 截至 2018 年，臺灣合法的藍領階級國際移工總數已超過 68 萬人。圖(十三)為臺灣 2018 年 4 月為止東南亞外籍移工來源國統計圖。請問哪一國移工為了思鄉情懷，會希望舉辦深具當地傳統的潑水節一解鄉愁？(A)甲-越南 (B)乙-泰國 (C)丙-印尼 (D)丁-泰國。



▲圖(十三)

42. 東協 10 國與周邊 6 國完成經濟整合以後，成為亞洲區域結盟的典範。東南亞國協的成立之初，是以政治、軍事為主，促進區域和平的組織。請問圖(十三)何者非東南亞國協創始國？

(A)甲 (B)乙 (C)丙 (D)丁。

*1997 年部分亞洲國家相繼發生股市、房地產崩跌、匯率遽貶、外匯枯竭等危機，釀成「亞洲金融風暴」；2008 年美國金融危機使國際金融市場信用緊縮，更擴大為全球性的金融海嘯。上述金融危機一般認為是這些國家的實體經濟（實際提供生產和服務的經濟活動）和虛擬經濟（純以資本投資於金融商品等，追求資本利得為目的的經濟活動）失衡所導致。請問：

43. 亞洲金融風暴當中，最先受到影響的國家為何國？(A)泰國 (B)日本 (C)韓國 (D)印尼。

44. (甲)受創國推動大規模的建設計畫，積壓大量資金；(乙)受創國發展龐大的重化工業，資金短期難以回收；(丙)受創國產業以「出口導向」為主體，長期過度依賴國際市場與外資；(丁)受創國的產業高度擴張，生產成本提高，出口受抑制，導致貿易逆差擴大；(戊)受創國執行進口替代政策，生產效率低落，產品銷售欠佳。亞洲金融風暴受創國在風暴前的「實體經濟的失衡」應包括上述哪些？(A)甲乙 (B)乙丙 (C)丙丁 (D)丁戊。

45. (甲)銀行高利息貸款；(乙)國際熱錢不斷流入；(丙)房地產、股市等資產價值膨脹；(丁)房地產信貸管制鬆散；(戊)匯率抬升；(己)發行國債支持國營產業，但經營不善。亞洲金融風暴受創國在風暴前的「虛擬經濟的失衡」應與上述哪些受創國國內情勢密切相關？(A)甲乙丙 (B)乙丙丁 (C)丙丁戊 (D)丁戊己。

46. 處於金融風暴中的各國，向哪一單位組織求援，得到融資來緩和局面，被迫下「猛藥」來解決相關問題。雖幫助亞洲各國擺脫短期外債危機，增加外匯儲備已恢復國際投資者的信心，但藥效過猛，且未完全對症下藥，甚至產生了不少副作用。請問下列何者提供亞洲各國援助性貸款？(A)國際貨幣基金組織 (B)世界銀行 (C)亞投行 (D)經濟合作暨發展組織。

*在全球市場競爭下，臺灣為保有產業的競爭力，產業、資金、人才大量流向中國，目前長期在中國發展的臺商已經超過 75 萬。臺商在中國早期以勞力密集和中小企業為主，1998 年大型企業加入，以外銷導向企業為主，2001 年加入 WTO 後，則以開發中國的內需市場為主。請問：

47. 臺商對中國社會、經濟會產生哪些影響？(甲)帶來資金與管理技術；(乙)中國因加工出口區免稅，使預算赤字提高；(丙)使中國原有企業出走；(丁)緩解中國勞動力過剩的問題 (A)甲乙 (B)乙丙 (C)丙丁 (D)甲丁。

48. 由短文可知，臺商在中國設廠的區位布局應該為何？(A)由沿海向內陸 (B)由內陸向沿海 (C)紮根三級城市 (D)往西部地區挺進。

49. 事實上，從 2005 年中共宣布十一·五經濟計畫以來，臺商就逐漸感受到政策變化帶來的成本上升壓力，如 2008 年元旦正式實施勞動合同法，使得工資□□，勞資糾紛增加。加上美國景氣下滑，出口市場萎縮，人民幣□□，以及中國為調控過熱經濟而□□、限制銀行放款等，這些做法使得以加工出口、勞力密集的臺商轉向東南亞。請問：□□各應填入何者？(A)上漲、升值、升息 (B)上漲、貶值、升息 (C)下降、升值、降息 (D)下降、貶值、升息。

50. 統一企業為首先西進地臺商，在新疆烏魯木齊設立第一間番茄廠，展開中國的工業布局。請問統一企業在新疆設廠考量原因為何？(A)氣候條件適宜 (B)交通運輸便捷 (C)響應一帶一路政策 (D)農業人才充沛。

桃園市立平鎮高級中學 107學年第2學期
 期末考三年級第一類組應用地理Ⅱ [20170105301050101118]
 全體考生 試題分析表

全體人數：296 高分組人數：80 低分組人數：80

列印日期：2019/5/3

題號	題型	配分	標準答案	全體					高分組					低分組					全體 答對率	難易 指數	鑑別 指數			
				A	B	C	D	E	未	A	B	C	D	E	未	A	B	C				D	E	未
01	單選題	2.00	A	222	10	14	50	0	0	64	1	3	12	0	0	52	3	4	21	0	0	75.00%	0.725	0.150
02	單選題	2.00	A	156	5	133	2	0	0	61	1	18	0	0	0	26	3	50	1	0	0	52.70%	0.544	0.438
03	單選題	2.00	D	15	23	61	197	1	0	4	4	8	64	0	0	7	8	26	39	0	0	66.55%	0.644	0.313
04	單選題	2.00	D	20	19	79	177	1	0	1	4	20	55	0	0	9	10	24	37	0	0	59.80%	0.575	0.225
05	單選題	2.00	C	34	44	81	26	113	0	9	7	26	10	28	0	11	15	14	9	33	0	27.36%	0.250	0.150
06	單選題	2.00	C	15	7	261	12	0	1	0	1	79	0	0	0	11	5	59	4	0	1	88.18%	0.863	0.250
07	單選題	2.00	D	44	83	7	163	0	0	6	22	0	52	0	0	13	28	3	37	0	0	54.73%	0.550	0.200
08	單選題	2.00	D	40	36	42	177	0	1	8	4	3	64	0	1	10	15	24	31	0	0	59.80%	0.594	0.413
09	單選題	2.00	A	173	9	62	52	0	0	57	1	17	5	0	0	32	2	18	28	0	0	58.45%	0.556	0.313
10	單選題	2.00	B	3	280	10	3	0	0	1	78	1	0	0	0	1	75	2	2	0	0	94.59%	0.956	0.038
11	單選題	2.00	D	2	12	69	213	0	0	0	0	9	71	0	0	1	8	25	46	0	0	71.96%	0.731	0.313
12	單選題	2.00	D	6	3	6	281	0	0	0	0	1	79	0	0	4	2	4	70	0	0	94.93%	0.931	0.113
13	單選題	2.00	D	127	35	22	111	0	1	27	8	1	44	0	0	38	10	8	23	0	1	37.50%	0.419	0.263
14	單選題	2.00	C	10	6	272	8	0	0	1	0	79	0	0	0	6	4	66	4	0	0	91.89%	0.906	0.163
15	單選題	2.00	D	11	3	1	281	0	0	0	0	0	80	0	0	8	2	1	69	0	0	94.93%	0.931	0.138
16	單選題	2.00	B	11	154	34	97	0	0	1	67	2	10	0	0	5	21	12	42	0	0	52.03%	0.550	0.575
17	單選題	2.00	C	35	7	126	127	0	1	6	0	44	30	0	0	10	4	30	36	0	0	42.57%	0.463	0.175
18	單選題	2.00	B	77	183	29	7	0	0	12	60	6	2	0	0	24	40	14	2	0	0	61.82%	0.625	0.250
19	單選題	2.00	C	130	91	60	15	0	0	27	21	28	4	0	0	40	28	5	7	0	0	20.27%	0.206	0.288
20	單選題	2.00	B	22	217	40	17	0	0	3	65	8	4	0	0	11	56	10	3	0	0	73.31%	0.756	0.113
21	單選題	2.00	A	287	1	6	2	0	0	79	0	1	0	0	0	74	1	3	2	0	0	96.96%	0.956	0.063
22	單選題	2.00	B	21	219	3	53	0	0	2	69	1	8	0	0	8	44	2	26	0	0	73.99%	0.706	0.313
23	單選題	2.00	B	64	174	57	1	0	0	13	50	17	0	0	0	22	51	6	1	0	0	58.78%	0.631	-0.013
24	單選題	2.00	D	15	26	7	247	0	1	0	4	2	74	0	0	8	11	3	57	0	1	83.45%	0.819	0.213
25	單選題	2.00	A	112	85	49	49	0	1	40	25	3	12	0	0	25	23	17	14	0	1	37.84%	0.406	0.188
26	單選題	2.00	E	17	12	65	2	201	0	2	0	7	0	71	0	9	9	21	2	40	0	67.57%	0.688	0.400
27	單選題	2.00	D	7	4	10	271	4	0	2	0	1	75	2	0	2	2	5	71	0	0	91.55%	0.913	0.050
28	單選題	2.00	C	82	18	191	5	1	0	18	3	59	0	0	0	27	9	43	1	0	0	64.19%	0.638	0.200
29	單選題	2.00	E	1	4	2	3	286	0	0	0	0	80	0	0	1	2	1	1	75	0	96.62%	0.969	0.063
30	單選題	2.00	B	19	259	12	5	2	0	1	78	1	0	0	0	8	61	7	4	0	0	87.16%	0.869	0.213
31	單選題	2.00	D	5	4	5	215	67	0	0	0	0	72	8	0	4	3	4	33	36	0	72.64%	0.656	0.488
32	單選題	2.00	B	2	220	54	4	16	0	1	65	10	0	4	0	1	51	20	4	4	0	74.32%	0.725	0.175
33	單選題	2.00	C	8	20	189	17	62	0	1	2	62	3	12	0	4	9	40	11	16	0	63.85%	0.638	0.275
34	單選題	2.00	B	14	184	70	28	0	0	6	52	17	5	0	0	3	42	26	9	0	0	62.16%	0.588	0.125
35	單選題	2.00	A	276	7	5	4	4	0	78	1	0	0	1	0	67	6	2	3	2	0	93.24%	0.906	0.138
36	單選題	2.00	B	21	252	21	2	0	0	4	73	3	0	0	0	5	59	14	2	0	0	85.14%	0.825	0.175
37	單選題	2.00	C	10	73	206	7	0	0	0	14	65	1	0	0	4	25	45	6	0	0	69.59%	0.688	0.250
38	單選題	2.00	A	184	45	11	55	0	1	60	8	1	11	0	0	37	14	8	21	0	0	62.16%	0.606	0.288
39	單選題	2.00	C	1	4	284	6	0	1	0	0	80	0	0	0	0	3	73	3	0	1	95.95%	0.956	0.088
40	單選題	2.00	B	4	274	12	6	0	0	1	77	1	1	0	0	1	72	4	3	0	0	92.57%	0.931	0.063
41	單選題	2.00	D	3	64	4	225	0	0	2	9	0	69	0	0	1	28	2	49	0	0	76.01%	0.738	0.250
42	單選題	2.00	B	54	71	121	50	0	0	11	35	26	8	0	0	15	11	37	17	0	0	23.99%	0.288	0.300
43	單選題	2.00	A	242	38	6	10	0	0	79	0	1	0	0	0	46	25	3	6	0	0	81.76%	0.781	0.413
44	單選題	2.00	C	35	77	168	16	0	0	6	12	57	5	0	0	14	26	35	5	0	0	56.76%	0.575	0.275
45	單選題	2.00	B	46	197	41	12	0	0	12	60	7	1	0	0	15	42	18	5	0	0	66.55%	0.638	0.225
46	單選題	2.00	A	235	50	10	1	0	0	72	7	1	0	0	0	46	27	6	1	0	0	79.39%	0.738	0.325
47	單選題	2.00	D	36	4	6	250	0	0	5	0	0	75	0	0	13	3	4	60	0	0	84.46%	0.844	0.188
48	單選題	2.00	A	259	22	8	7	0	0	74	6	0	0	0	0	65	7	3	5	0	0	87.50%	0.869	0.113
49	單選題	2.00	A	156	99	23	18	0	0	54	20	4	2	0	0	25	38	9	8	0	0	52.70%	0.494	0.363
50	單選題	2.00	A	185	12	84	15	0	0	66	2	11	1	0	0	35	6	32	7	0	0	62.50%	0.631	0.388