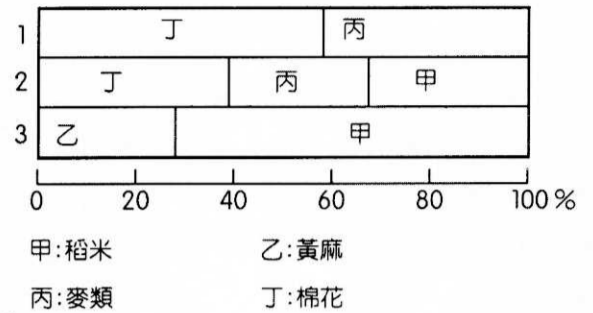


一、單一選擇題，每題 2 分，共 40 分

1.艾霓仔細整理印度大平原 1 ~ 3 區農作物種植比例圖(如右)。請問下列哪一項最能顯示此三區空間的關係？

- (A)由東向西的順序 3→2→1 (B)由東向西的順序 1→2→3 (C)由南向北的順序 1→2→3 (D)由南向北的順序 2→3→1。

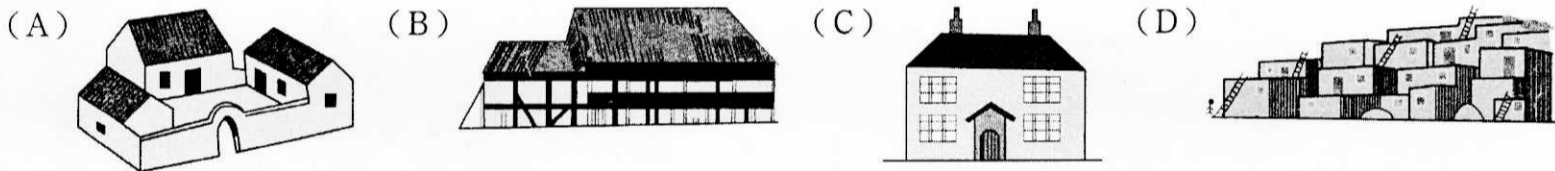


2.深知「澳洲不僅是全球最大黃金、鐵的生產國，其鉛、鎳、鋅蘊藏量也為世界第一」的道理，羿廷在澳洲開設礦業公司，且生意越做越大，成為傲視群雄的企業家。請問下列何者與「澳洲蘊含豐富礦藏」的原因相同？

- (A)沙漠、沙丘遍布 (B)以農牧業立國 (C)觀光勝地大堡礁 (D)地形單調平坦。

3.欣雅利用暑假到印度西北邊的喀什米爾山區旅行，就近欣賞壯闊的喜馬拉雅山及特殊的高地生活。返國時不能免俗地，她希望買些當地的特產回家餽贈親友，請問她應該購買下列哪樣禮物最為適合？ (A)純棉 T 恤 (B)羊毛圍巾 (C)茶葉禮盒 (D)椰子項鍊。

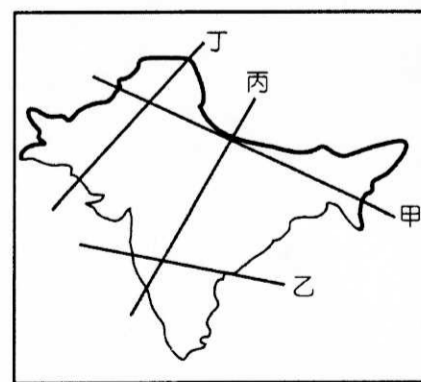
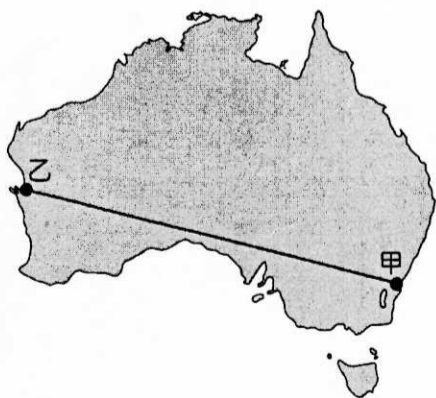
4.半島電視台製播的全新節目「來去我家住一晚」，特別來賓柏元體驗在西亞傳統鄉村聚落的屋舍生活一天。請問他可能是住在下列哪一型式中的房子？



5.世界氣象組織建議的定義：連續 5 天每日最高溫超過平均最高溫 5 °C，稱為熱浪。印度從 2000 年以來極端氣溫持續出現、頻率增加且時間延長。除了天候因素，貧窮與基礎建設不足是導致大量居民熱死的原因，琪萱研究資料發現，「死傷最慘重的是一群社會底層人口，他們在酷熱下持續勞動、缺乏休息，無法隨意尋找遮蔭或是接近補充水分的水井。」請問這個研究的結果反映下列哪一項問題？ (A)印度氣象資料多不透明、公開，大眾無從得知高溫訊息 (B)種姓制度觀念深入民間人心 (C)印度人對自己的身體狀況都很有自信 (D)印度人生性非常勤勞，對於休息，感到惶惶不安。

6.松霖前往中東海灣地區，發現當地為了因應全球氣候災害與擺脫對石油資源的過度依賴，已開始把目光投向本身優勢的條件，發展某項替代能源。請問該項替代能源為何 (A)太陽能發電(B)地熱發電 (C)生質能發電 (D)核能發電。

7.左下圖為澳洲簡圖，心喬沿著甲地至乙地旅行，她會發現下列地理現象的數值變化有「由多變少」的趨勢？(甲)海拔高度(乙)降水量(丙)日照時數(丁)人口密度 (A)甲乙 (B)乙丙 (C)乙丁 (D)丙丁。


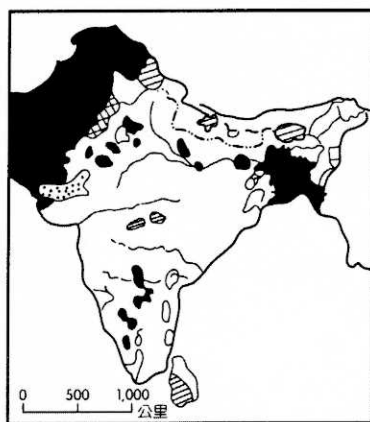


8.印度半島地形可分為三大地形區，亮炫大筆一揮，哪一縱剖面(參看右上圖)正好可通過此三大地形區？ (A)甲 (B)乙 (C)丙 (D)丁。

9.頤瑋的小日記寫道：「在紐西蘭待了這麼多天，今天終於有機會欣賞到原住民——毛利人的歌舞表演了，看他們那樣盡情的歡唱，使人不禁也感染了那股熱情！回想當初他們千里迢迢來到紐西蘭，之後面對前來探險的歐洲人，從彼此友好到因爭執而引發戰爭，不知道他們是否還記得他們的祖先所遭受到的這一切……。」請問由這篇小日記可知，毛利人的祖先根據考據，他們的來處與下列何地的原住民屬於同一系統？ (A)澳洲原住民 (B)泰族 (C)達羅毗荼人 (D)達悟族。

10.承上題，在毛利人的語言中，將紐西蘭稱為奧特亞羅瓦，原意為「綿綿白雲之鄉」，或稱「長白雲之鄉」。主要是因為盛行風將水氣從海上吹來，常在天際出現連綿不絕的雲朵。請問此盛行風最可能最主要是來自下列哪個方位角的風向？
 (A) 45° (B) 135° (C) 225° (D) 315°。

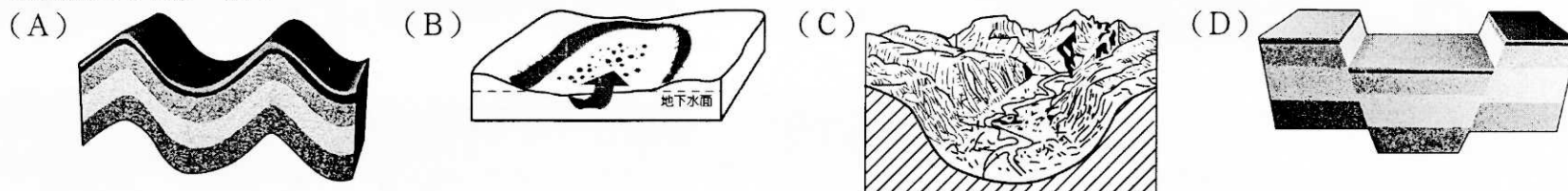
11.佳琪上網搜尋到印度半島「某種地理現象」的主題地圖(左下圖)，但卻發現原 po 者遺漏了圖名。根據此地理現象的空間分布特性，此圖的主題應該與下列何者有關？ (A)氣候 (B)語言 (C)宗教 (D)土地利用。



12.芷榆發現右上圖未免也太神奇了吧！整個世界變了樣。這是根據統計資料所繪製而成的統計變形圖，各國面積大小代表某種出口商品的數量多寡。請問此種商品最有可能為下列何者？(A)石油 (B)牛肉 (C)小麥 (D)乳製品。

13.聯合國特派員前往印度巡察當地發展農業的現況，下列為該小組所觀察到的情況。請問何者最為正確？ (A)宜蓁：「隨著印度工商業的快速發展，許多農村人口移入都市就業，生活水準普遍提高。」 (B)昕穎：「因印度宗教的影響，降低出生率各項措施成效不佳，眾多的人口使當地盛產的稻米消耗殆盡。」 (C)郡瑩：「印度地形平坦，土壤也相當肥沃，可惜生長季短，降雨量不足，因此造成嚴重的糧食供應問題。」 (D)怡萍：「印度每平方公里的耕地人口數高達 1,615 人，因此農業活動相當集約，單位勞工生產量大，可惜的是單位面積產量較小，因此造成窮困的生活型態。」

14.欣瑀對於波斯灣地區能蘊含豐富的石油資源感到十分好奇，遍尋資料後，她發現和原來和下列某一構造有密切的關係，請問是下列哪一個？



15.定杰計畫到尼泊爾健行，時間就訂在最理想 10~11 月。尼泊爾政府每年發放山區健行許可證，帶來 300 ~ 400 萬美元的收入。請你推論定杰選擇在 10~11 月到尼泊爾健行的原因為何？ (A)雨季結束、氣溫合宜 (B)雪花飄落，景色夢幻 (C)氣候漸暖，水氣較少 (D)季風轉換，遊客較少。

16.「從波浪岩搭小飛機回到伯斯後，天空下起雨，晨禾呆坐在小機場的候機室裡，動彈不得，因為雨的突然來襲，氣溫驟降，禦寒的衣物都在飯店裡。……美麗的港口因為雨而擠滿了收帆的船隻，在大雨滂沱中有股寧靜的朦朧美……。」請問伯斯此時最有可能是臺灣的哪一個節慶的前後？ (A)春節 (B)清明節 (C)中元節 (D)中秋節。

17.立宣在網路上看漫畫的時候，突然跳出這一張「西亞傳統駱駝商隊漫畫」，下列哪一項重要地理特徵最能突顯漫畫所呈現的意義？(A)氣候乾燥 (B)伊斯蘭教文化區 (C)石油蘊藏豐富 (D)歐、亞、非過渡位置。



18.庭誼利用假期看了一部電影，因劇情感人，她數度落淚：劇中描述 3 個原住民小女孩，在 1930 年代的「種族淨化」政策下，遭殖民者強行帶離家鄉，送到特定的訓練營裡接受外來者的文化及教育。為逃離訓練營，3 個小女孩靠著驚人的意志，經歷千辛萬苦，赤腳徒步走回 1,500 公里外的家鄉與媽媽團聚。請問這部真人真事影片發生的國家為何？
 (A)印度 (B)澳洲 (C)敘利亞 (D)阿富汗。

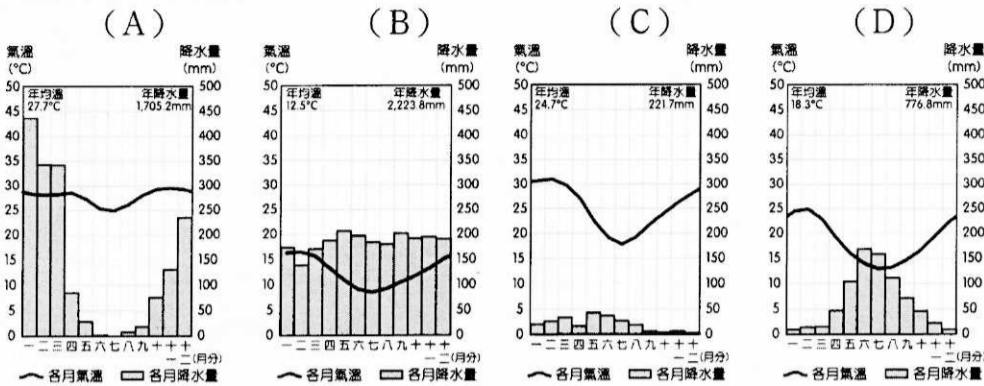
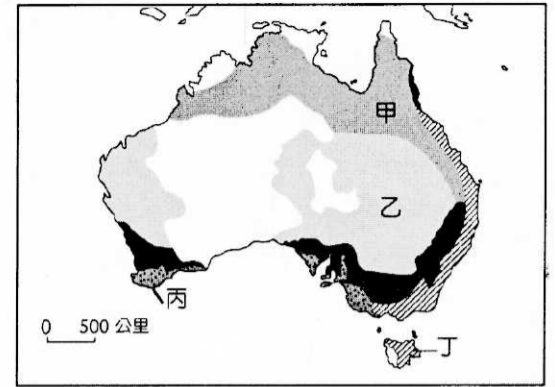
二、題組，每題 2 分，共 60 分

◎為了促進臺灣旅客到澳洲觀光旅行，以及處理澳洲境內勞力不足的問題，澳洲當局對於臺灣年輕人開放無名額限制的打工度假，錦丞得知這個訊息，感到非常心動。請問：

19. 錦丞如願以償前往澳洲農場打工，他主要的工作是修剪羊毛，羊群每天都在天然草地上自由食草，好不快活。請問他打工的農場應該分布於何處？

(A)甲 (B)乙 (C)丙 (D)丁。

20. 該地的氣候圖應該為下列何者？



◎宥蓀上網查 ISIS 的資料，她簡直嚇壞了：「伊拉克和沙姆伊斯蘭國 (ISIS) 現在是地球上最富有的激進恐怖組織，他們在伊拉克北部摩蘇爾這個地方光是靠著勒索等犯罪行為，一個月就可賺進將近 1,200 萬美元，非法販賣 甲 一天還可額外賺進最多 300 萬美元，除了 甲 之外，他們也控制天然氣、農產品如 乙 以及水電，ISIS 還在他們控制的領域徵進口稅，每個星期可以進帳數百萬美元，ISIS 占領的伊拉克北部省分是 乙 生產重鎮，占全伊拉克 乙 供應來源的四成，伊拉克農業部消息來源告訴路透社，ISIS 已經占據了全伊拉克將近三成的農地，食物短缺和不安全性推升食物價格飆漲，又讓 ISIS 從 乙 貿易中獲利。控制水資源和水力發電站也提供 ISIS 額外收入，專家估計 ISIS 的總資產已經有數十億美元，再加上 ISIS 在敘利亞及伊拉克的占領區，憑著稅收加上 甲、糧食販賣等估計一天可以穩定進帳 400 萬美元，龐大的財力讓許多專家都認為 ISIS 比蓋達組織更加危險」，雖然首腦已被美國擊斃，但殘餘視力並未全面剷除。請問：

21. 依文中所述推論，ISIS 主要控制的地區曾為下圖中的哪兩個國家的部分區域？

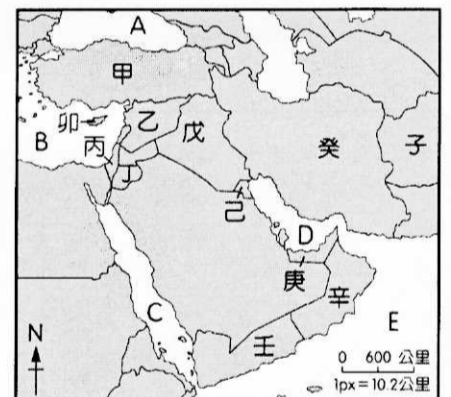
(A)甲乙 (B)乙丁 (C)乙戊 (D)戊庚。

22. 承上題，由其分布可知建立 ISIS 的聖戰組織，主要是屬於何種教派？

(A)蘇菲派 (B)什葉派 (C)遜尼派 (D)哈里哲派。

23. 文中 甲 為此地重要的天然資源，ISIS 藉由非法販賣此天然資源賺取暴利，並控制農產品 乙，引發當地糧食安全疑慮，依據此地的自然環境判斷，此天然資源及農產品最有可能是 (A)甲：石油、乙：稻米 (B)甲：石油、乙：小麥 (C)甲：鐵礦、乙：棉花 (D)甲：鐵礦、乙：椰棗。

24. ISIS 所控制的地區，其農業生產灌溉方式主要為下列何者？ (A)滴灌 (B)坎兒井 (C)軸樞灌溉 (D)築壩蓄水。



◎梓玗閱讀商業週刊，其中有多篇說明某種產業在印度蓬勃發展現況。請問：

報導(一)：在美國紐約 (75°W)，一些放射科醫生在白天下班後，將電腦斷層掃描與核磁共振影像數位化再傳給印度邦加羅爾 (75°E) 的醫生判斷；隔天，美國的醫生可以接到即時的判斷結果。

報導(二)：在金融海嘯中，面對房貸和信用卡帳拖欠情形日益嚴重，許多金融機構使出連環催債術，簡訊、電子郵件是第一波，再來就是電話催繳。由於銀行業務繁重，於是把電話催繳業務交給印度人，成為「催繳員」的理想人選，讓印度追討公司業務一枝獨秀，紛紛增加人手來催款。他們坐在新德里近郊的斗室，不斷撥電話給美國各地的欠款人，提醒他們繳交分期付款的房屋貸款、或是逾期多時的信用卡帳。

25. 由報導(一)的敘述，提到印度與美國之間透過時差優勢，可 24 小時接力完成工作。請問文中兩地差距幾小時？ (A) 6 小時 (B) 8 小時 (C) 10 小時 (D) 12 小時。

26. 由報導(二)的敘述中，將電話催繳卡債的業務一部分交給印度人，印度的主要優勢有：(甲)理工人才(乙)英語優勢(丙)工資低廉(丁)時差(戊)政府政策。請問符合資料(二)敘述的有哪些選項？ (A)甲乙丙 (B)乙丙丁 (C)丙丁戊 (D)甲丁戊。

27. 在上述資料中，提到現今印度某種產業發展的特色，外國將一部分的企業流程交由印度。請問下列哪一名詞最能彰顯此產業的特色？ (A) 跨國產業 (B) 知識經濟產業 (C) 生產性服務業 (D) 企業流程委外產業。


◎國徽往往代表一個國家的立國精神或自然環境的特徵，有時還往往被賦予對國家發展的期許和現況的反應。請問：



(甲)



(乙)



(丙)



(丁)

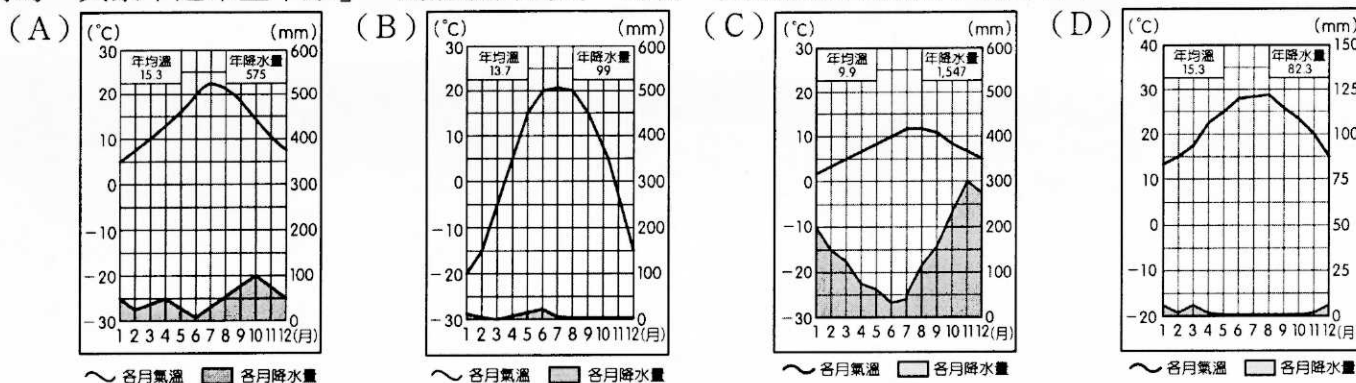
28.(甲)~(丁)何者為亞太經濟合作會議(APEC)的會員國？(A)甲 (B)乙 (C)丙 (D)丁。

29.(甲)國徽中的雙劍代表誓死守護聖地麥加，雙劍上方的植物與可能下列何種含意有關？(A)當地主要的製油經濟作物 (B)當地居民主要的糧食作物 (C)沙漠中防範沙暴災害的樹種 (D)《古蘭經》中已消失的聖樹。

30.(丁)中央圖案為該國花睡蓮。下方水紋象徵當地河道縱橫的地理環境。上方的黃麻為當地主要的經濟作物，兩旁為稻穗所裝飾。黃麻兩則的四顆五角星代表建國的四原則：民族主義、社會主義、世俗主義和民主主義。請問該國為下列哪一國家？(A)印度 (B)斯里蘭卡 (C)巴基斯坦 (D)孟加拉。

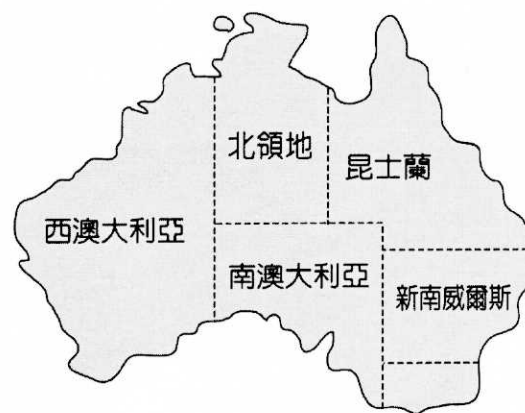
◎ 琬萱最喜歡周杰倫的一首歌，是〈愛在西元前〉，歌詞是這樣的：「祭司 神殿 征戰 弓箭 是誰的從前 喜歡在人潮中妳只屬於我的那畫面 經過蘇美女神身邊 我以女神之名許願 思念像底格里斯河般的蔓延 古文明只剩下難解的語言 傳說就成了永垂不朽的詩篇 我給妳的愛寫在西元前 深埋在美索不達米亞平原 幾十個世紀後出土發現 泥板上的字跡依然清晰可見 我給妳的愛寫在西元前 深埋在美索不達米亞平原 用楔形文字刻下了永遠 那已風化千年的誓言」。

31.歌詞中所稱的「美索不達米亞平原」，為肥沃月灣的一部份，其氣候類型應為下列何者？



32.歌詞中「幾十個世紀後出土發現，泥板上的字跡依然清晰可見」研判造成此一現象的主因為 (A)該地環境負載力低，人跡罕至 (B)該地缺乏化學風化 (C)該地地質古老、堅硬 (D)該地因曾火山熔岩覆蓋，保存完整。

◎「2019 澳洲森林大火燒不停」，災區甲州和乙州已日前已宣布進入緊急狀態。根據《衛報》記者(The Guardian)鈺婷報導：「擁有大堡礁美景的甲州內有45處火勢，人口最稠密的乙州則有超過60起，澳洲氣象局也警示，未來的風勢將強勁且乾燥、高溫，可能使情況更加惡化。此次森林大火「可能是本國從未遇過最危險的」一次，州長貝雷吉克莉安也呼籲民眾遵從指示疏散，切勿大意。這場野火從8日持續至今，奪走3人性命，燒毀逾150間房屋，數千人流離失所或被迫遷離，火勢蔓延至8500平方公里的森林和農田。」請問：



33.若依澳洲的環境判斷，此次發生大火的省分甲州和乙州依序為何？

(A)新南威爾斯、西澳大利亞 (B)北領地、昆士蘭 (C)昆士蘭、新南威爾斯 (D)南澳大利亞、昆士蘭。

34.承上題，森林大火持續蔓延，恐影響下列何種生物的生存，因其缺乏躲避大火的能力或應變之道？(A)袋鼠 (B)桉樹 (C)無尾熊 (D)奇異鳥。

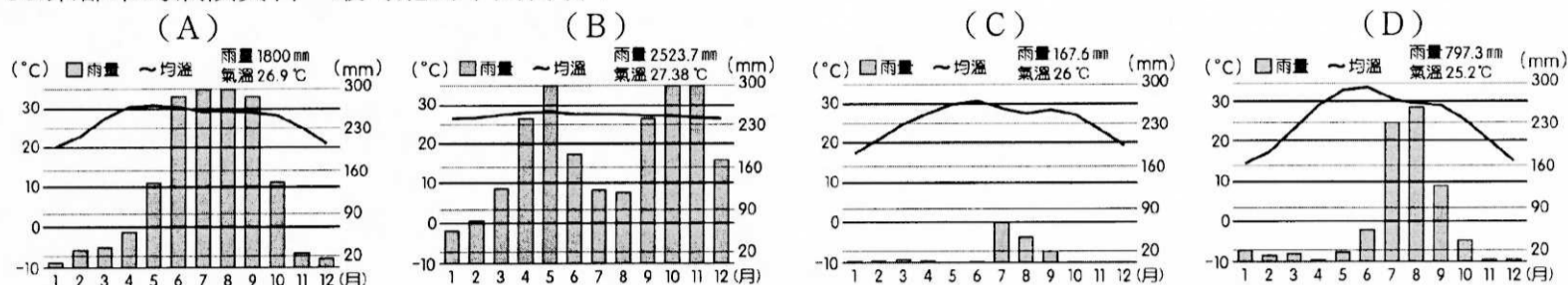
◎2019年初秋，錦郁被公司外派到印度人口數量最多的(某都市)，沒想到竟然遇到嚴重的空氣汙染。汙染嚴重的程度，已經被評定為「就像在毒氣室一樣」的等級，空氣品質指數(AQI)更測得999、不能再更高的爆表紀錄。除了戴口罩外，公司也要她這些日子減少出門，避免不必要的傷害。而當地的空氣汙染來源，包括汽機車的廢氣排放、食物烹煮、工業用設施、農業燃燒汙染及季節性宗教活動等來源。空氣汙染除了對人體造成的健康危害，科學家針對空氣汙染將對地表植被，尤其是農作物的破壞，提出了警告。請問：



35.某都市應位於右圖中何處？

- (A)甲 (B)乙 (C)丙 (D)丁。

36.某都市的氣候資料，最可能為下列何者？



37.鄰近的旁遮普地區，大量燃燒作物殘梗，被認為是空氣汙染源之一。而旁遮普地區農業的發展，與1960年代中期展開的「綠色革命」有密切關聯。請問下列對「綠色革命」內涵及影響的敘述，哪些是正確的？(甲)主要宗旨在於解決農業發展所造成的環境生態危機(乙)主張培育高產、抗病蟲害的優良品種(丙)可解決貧富差距擴大的問題(丁)為開發中國家解決糧食問題的主要手段 (A)甲乙 (B)甲丙 (C)乙丙 (D)乙丁。

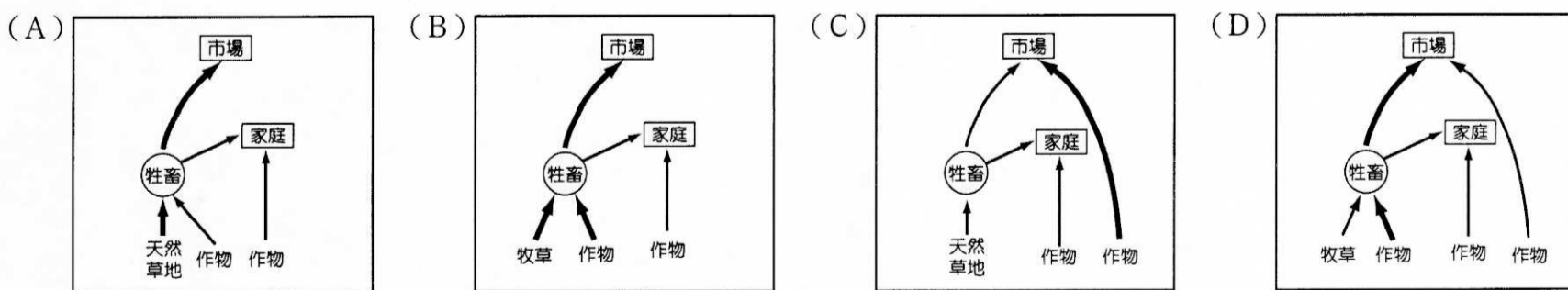
◎莘媛對紐西蘭貿易對象的問題，有感而發，畫了一幅漫畫(附圖)，請問：



38.圖中(甲)有可能為哪一個組織？ (A)北大西洋公約組織 (B)歐洲聯盟 (C)亞太經濟合作會議 (D)石油輸出國組織。

39.圖中(乙)最可能是哪一地區？ (A)亞洲 (B)澳洲 (C)北美洲 (D)南美洲。

40.圖中央的紐西蘭人，其最可能從事哪一種第一級產業活動？



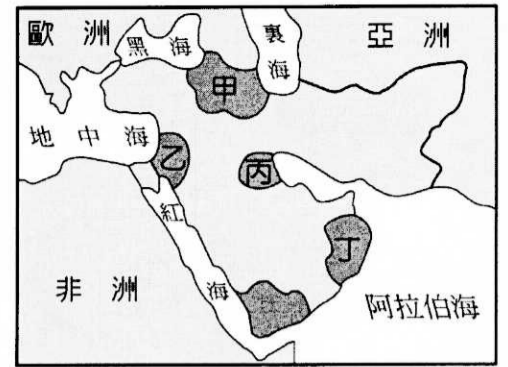
◎玗璇為了完成西亞衝突地圖詳查資料，仔細將西亞地區動盪不安、爭端四起的原因分類有：(甲)競逐石油資源(乙)種族的差異(丙)宗教信仰對立(丁)領土的爭議(戊)水權的爭奪。請問：

41.黎巴嫩獨立以後，內戰10餘年，主要是導因於何種因素？ (A)甲 (B)乙 (C)丙 (D)丁。

42.位於地中海的島國賽普勒斯因哪些因素造成國內的分裂？ (A)甲乙 (B)乙丙 (C)乙戊 (D)丙丁。

43.上列哪些因素是波斯灣戰爭的導火線？ (A)甲乙 (B)丙戊 (C)乙戊 (D)甲丁。

◎歷史常考 100 分的達森，一日閱讀有關某族群的書籍，馬上引發他寫小論文的衝動。書中內容摘要如下：「這個族群人數超過 2,000 萬人，被稱為『世界最大的無國家民族』，因為打算趁著波灣戰爭期間伊拉克無暇他顧時宣告獨立，不料波灣戰爭很快結束，海珊立刻調兵鎮壓展開報復攻擊，因此有 1、2 萬人因害怕遭到報復而逃出國境成為難民，至於留在伊拉克境內而遭屠殺者多達數 10 萬人。」請問：

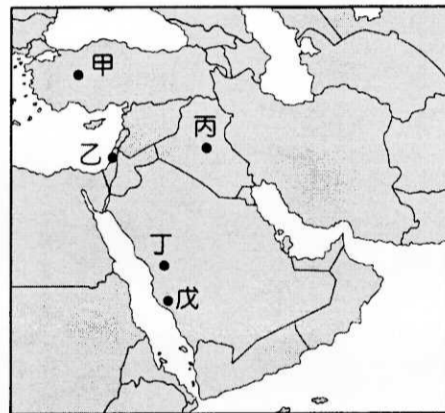


44. 請問文中所提的民族是 (A) 猶太人 (B) 波斯人 (C) 庫德人 (D) 吉普賽人。
 45. 該民族現在的分布位置大致和右圖中哪一區相若？
 (A) 甲 (B) 乙 (C) 丙 (D) 丁。
 46. 該地區最主要的物產是 (A) 石油 (B) 水源 (C) 黃金 (D) 煤礦。

◎宗德是虔誠的穆斯林，他的生活皆以古蘭經和穆罕默德的言行為準則，過著嚴謹的宗教生活，生活中奉行「五功」，即穆斯林的一生中有五項必須實踐的基本功課。請問：

47. 平日他最大的興趣就是研究伊斯蘭教的古籍，發現經典紀載有三個很重要的城市，分別是：
 I、有「宗教之都」之稱，每年伊斯蘭曆 10 ~ 12 月，世界各地信徒紛紛前往朝聖，為地表最大宗教人口流動。
 II、有「和平之城」之稱，為三教聖地，城區內因宗教信仰劃分為三區，雖為和平之城，但實則紛爭不斷。
 III、有「先知之城」之稱，為早年穆罕默德因受壓迫而轉往傳教之處，現也為伊斯蘭教重要聖地。
 上文中的 3 個城市依序位於下圖中何處？

- (A) 甲乙丁 (B) 丁乙戊 (C) 丙乙丁 (D) 戊乙丁。



48. 宗德前往蘇澳遊玩，正在拍照時，手機鈴聲響起，出現右側畫面，他馬上行禮如儀，進行「五功」中的哪一項？(A) 念 (B) 拜 (C) 齋 (D) 課 (E) 朝。

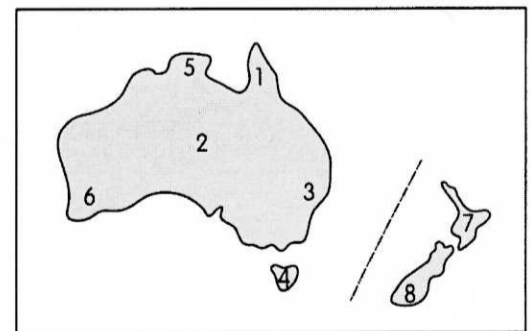
◎照片(一)、(二)是百均在紐西蘭和澳洲度假旅行時所拍攝的地理景觀。請問：



▲照片(一)



▲照片(二)



49. 照片(一)中的地理景觀，山脈是侵蝕作用的產物，水域是侵蝕後的凹狀窪地，再積水成湖的結果。此照片最有可能在右圖的何處拍攝？ (A) 5 (B) 6 (C) 7 (D) 8。
 50. 照片(二)最有可能是在右圖的何處拍攝？ (A) 1 (B) 2 (C) 3 (D) 6。

桃園市立平鎮高級中學 108學年第1學期
 月考二二年級不限組別地理Ⅲ [20191129200020101103]
 全體考生 試題分析表

全體人數: 526 高分組人數: 142 低分組人數: 142

列印日期: 2019/11/29

題號	題型	配分	標準答案	全體					高分組					低分組					全體答對率	難易指數	鑑別指數			
				A	B	C	D	E	未	A	B	C	D	E	未	A	B	C				D	E	未
01	單選題	2.00	A	385	59	46	36	0	0	119	8	10	5	0	0	83	18	23	18	0	0	73.19%	0.711	0.254
02	單選題	2.00	D	48	23	92	362	0	1	11	7	17	107	0	0	15	9	46	71	0	1	68.82%	0.627	0.254
03	單選題	2.00	B	97	397	31	1	0	0	10	127	5	0	0	0	39	90	13	0	0	0	75.48%	0.764	0.261
04	單選題	2.00	D	6	25	9	486	0	0	1	8	1	132	0	0	2	11	6	123	0	0	92.40%	0.898	0.063
05	單選題	2.00	B	12	505	5	3	0	1	2	139	0	1	0	0	4	134	3	0	0	1	96.01%	0.961	0.035
06	單選題	2.00	A	463	26	34	3	0	0	135	2	3	2	0	0	105	15	22	0	0	0	88.02%	0.845	0.211
07	單選題	2.00	C	58	18	438	12	0	0	12	1	129	0	0	0	20	8	104	10	0	0	83.27%	0.820	0.176
08	單選題	2.00	C	75	3	435	13	0	0	8	1	129	4	0	0	36	2	98	6	0	0	82.70%	0.799	0.218
09	單選題	2.00	D	94	6	33	393	0	0	17	3	7	115	0	0	41	3	17	81	0	0	74.71%	0.690	0.239
10	單選題	2.00	D	54	174	145	152	0	2	12	50	42	38	0	0	19	60	34	28	0	1	28.71%	0.232	0.070
11	單選題	2.00	C	21	25	419	61	0	0	2	6	124	10	0	0	7	11	96	28	0	0	79.66%	0.775	0.197
12	單選題	2.00	D	285	53	49	139	0	0	66	13	16	47	0	0	85	17	13	27	0	0	26.43%	0.261	0.141
13	單選題	2.00	B	41	143	108	234	0	0	14	47	20	61	0	0	5	19	46	72	0	0	27.19%	0.232	0.197
14	單選題	2.00	A	323	58	21	124	0	0	96	14	7	25	0	0	71	20	6	45	0	0	61.41%	0.588	0.176
15	單選題	2.00	A	464	16	28	18	0	0	132	4	5	1	0	0	114	7	15	6	0	0	88.21%	0.866	0.127
16	單選題	2.00	C	103	101	219	103	0	2	20	19	84	19	0	0	24	43	39	37	0	0	41.44%	0.430	0.324
17	單選題	2.00	D	28	15	1	482	0	0	4	4	0	134	0	0	11	6	1	124	0	0	91.63%	0.908	0.070
18	單選題	2.00	B	35	447	23	21	0	0	8	124	4	6	0	0	13	105	14	10	0	0	84.98%	0.806	0.134
19	單選題	2.00	B	65	438	13	10	0	0	12	129	0	1	0	0	39	91	5	7	0	0	83.27%	0.775	0.268
20	單選題	2.00	C	78	25	304	119	0	0	9	3	107	23	0	0	32	14	53	43	0	0	57.79%	0.563	0.380
21	單選題	2.00	C	24	37	440	25	0	0	2	3	131	6	0	0	15	19	101	7	0	0	83.65%	0.817	0.211
22	單選題	2.00	C	3	160	361	2	0	0	1	33	108	0	0	0	2	54	84	2	0	0	68.63%	0.676	0.169
23	單選題	2.00	B	76	394	23	33	0	0	14	115	8	5	0	0	30	94	6	12	0	0	74.90%	0.736	0.148
24	單選題	2.00	D	80	164	134	148	0	0	14	33	41	54	0	0	30	56	26	30	0	0	28.14%	0.296	0.169
25	單選題	2.00	C	6	21	201	299	0	0	1	4	72	65	0	0	3	7	36	97	0	0	38.02%	0.377	0.261
26	單選題	2.00	B	79	442	2	3	0	0	21	120	1	0	0	0	27	111	1	3	0	0	84.03%	0.813	0.063
27	單選題	2.00	D	56	13	9	448	0	0	10	5	0	127	0	0	24	4	4	110	0	0	85.17%	0.835	0.120
28	單選題	2.00	C	34	53	422	17	0	0	3	3	134	2	0	0	16	28	88	10	0	0	80.23%	0.782	0.324
29	單選題	2.00	B	118	347	21	41	0	0	30	103	4	5	0	0	39	74	10	19	0	0	65.97%	0.623	0.204
30	單選題	2.00	D	95	23	47	360	0	1	20	2	8	112	0	0	27	17	22	76	0	0	68.44%	0.662	0.254
31	單選題	2.00	D	257	13	134	122	0	0	58	3	22	59	0	0	66	6	58	12	0	0	23.19%	0.250	0.331
32	單選題	2.00	B	10	124	256	136	0	0	0	49	53	40	0	0	4	22	85	31	0	0	23.57%	0.250	0.190
33	單選題	2.00	C	10	42	455	19	0	0	2	8	130	2	0	0	6	22	101	13	0	0	86.50%	0.813	0.204
34	單選題	2.00	C	26	15	447	38	0	0	8	2	120	12	0	0	11	9	111	11	0	0	84.98%	0.813	0.063
35	單選題	2.00	B	64	189	154	119	0	0	9	63	38	32	0	0	33	33	46	30	0	0	35.93%	0.338	0.211
36	單選題	2.00	D	186	62	95	183	0	0	45	7	35	55	0	0	49	24	20	49	0	0	34.79%	0.366	0.042
37	單選題	2.00	D	58	23	10	435	0	0	8	7	0	127	0	0	24	9	5	104	0	0	82.70%	0.813	0.162
38	單選題	2.00	B	28	409	87	3	0	0	3	117	20	3	0	0	15	99	28	0	0	0	77.76%	0.761	0.127
39	單選題	2.00	A	276	192	44	13	0	1	97	36	7	2	0	0	45	68	20	8	0	1	52.47%	0.500	0.366
40	單選題	2.00	B	170	190	57	109	0	0	37	74	11	20	0	0	47	36	17	42	0	0	36.12%	0.387	0.268
41	單選題	2.00	C	21	77	344	84	0	0	4	10	109	19	0	0	10	28	76	28	0	0	65.40%	0.651	0.232
42	單選題	2.00	B	14	369	31	112	0	0	2	112	6	22	0	0	10	78	15	39	0	0	70.15%	0.669	0.239
43	單選題	2.00	D	78	36	22	390	0	0	12	6	3	121	0	0	35	16	13	78	0	0	74.14%	0.701	0.303
44	單選題	2.00	C	64	17	425	20	0	0	11	3	127	1	0	0	31	7	92	12	0	0	80.80%	0.771	0.246
45	單選題	2.00	A	254	120	138	15	0	0	86	25	30	1	0	0	48	49	39	7	0	0	48.10%	0.468	0.275
46	單選題	2.00	A	301	112	11	102	0	0	84	30	6	22	0	0	76	30	2	34	0	0	57.22%	0.563	0.056
47	單選題	2.00	D	45	159	60	262	0	0	7	41	11	83	0	0	14	41	32	55	0	0	49.81%	0.486	0.197
48	單選題	2.00	B	7	415	10	10	84	0	2	115	3	4	18	0	1	107	4	4	26	0	78.90%	0.782	0.056
49	單選題	2.00	D	15	16	46	449	0	0	5	3	3	131	0	0	6	9	24	103	0	0	85.36%	0.824	0.197
50	單選題	2.00	B	36	433	32	25	0	0	5	126	6	5	0	0	21	90	19	12	0	0	82.32%	0.761	0.254