

適用班級：101-114

考試範圍：歷史第二冊 2-2 到 4-2

注意事項：基本資料請確實劃記，未確實劃記者倒扣 5 分

試卷張數：試卷 4 張，共 8 頁、答案卡 1 張

填答方式：答案卡(請用 2B 鉛筆確實劃記，機器未能判讀者不予計分)

班級：_____

座號：_____

姓名：_____

一、單一選擇題：64%，共計 32 題，每題 2 分

- () 01. 當今，中國境內朝鮮族，主要位居於吉林省所管轄的「延邊朝鮮族自治州」以及「長白朝鮮自治縣」等兩地。請問朝鮮人移居東北的歷史，下列敘述何者正確？
- (A) 清朝政府招攬漢人與朝鮮人至東北開墾，以遏制英國與俄國對東北的野心
 (B) 朝鮮被日本兼併後，出現一波移民東北的風潮，此風潮是日本政策性移民的結果
 (C) 朝鮮人民移民東北，除地緣因素之外，也與朝鮮內部生存壓力有關
 (D) 滿洲國成立後，招募朝鮮人，稀釋東北日本人的數量，進而擺脫日本的控制
- () 02. 馬來西亞當地的閩南人有句成語叫作「三代成峇」，根據這句話的定義，所有在馬來西亞出生的華人都成為「峇峇」。請問成語所代表的意義為何？
- (A) 成語帶有藐視的成分 (B) 華人血統與祖國認同的消失
 (C) 成語帶有尊崇的成分 (D) 華人文化融合現居地的色彩
- () 03. 東南亞是華人早期移民最大的分布區，至今約有 3000 萬華人。請問：下列有關華人移民東南亞的敘述，何者錯誤？
- (A) 以閩、粵移民為主，乃因原居地山多平原少，謀生不易
 (B) 華人在當地，主要從事熱帶栽培業和採礦業
 (C) 因為工作勤奮，現今各國的經濟和政治都受華人掌握
 (D) 華人種族觀念深，不易與當地居民融合，常引起排華事件
- () 04. 一位近代地理學家綜論四川人口地理結構時說：「雖然清代以前本地人後裔還能在溪南及西部地區找到，但相對來說數量很少。四川東部、西部和南部以湖廣為主，河南、安徽和江蘇籍，主要在南部各縣，相當多的陝西、甘肅籍在北區和西部某些縣份，廣東、福建、江蘇和浙江籍則主要住在成都和重慶等大都市。」這種人口籍貫分布結構的形成，主要的因素是？
- (A) 從順治至道光年間，各省過剩人口不斷移入四川
 (B) 太平天國之亂時，江南各省難民紛紛避亂到四川
 (C) 國軍剿共時期，各地農民隨紅軍長征播遷四川
 (D) 中日戰爭期間，淪陷區各省軍民大量湧入四川
- () 05. 美國通過一項法令，重新安置超過 10 萬名定居美國西岸的日本人，儘管大多數人為美國公民，且此法令違反正當程序，他們仍選擇配合，以此表示對美國的忠誠。但是換來的命運是被遣送到集中營。集中營通常位在氣候嚴峻的地方，人數從七千到九千人不等，十分擁擠，生活環境相當嚴峻。請問上述法令通過的背景應該在何時？
- (A) 1907 年 (B) 1937 年 (C) 1942 年 (D) 1965 年
- () 06. 由 1793 年開始，中國人便在麻六甲開掘了第一個□礦。之後四十多年中，在麻六甲附近亦陸續發現新的□礦礦苗。1883 年，麻六甲的郊外已有五千多人在礦場工作。很可能得他們大部分是中國人。……值此之故，中國移民人口在 1817 年至 1836 年之間成

長了 14 倍。□礦開採可說是主要的移民拉力。」請問□礦最可能指的是何種礦產？

(A) 金 (B) 銀 (C) 銅 (D) 錫

- () 07. 某一少數部族從祖先向南遷居中國境內後，與漢人長期雜居，卻常受漢人欺凌，後來人口漸多，甚至有官員提出此部族可能為潛在威脅。而後此少數部族鼓動分散於中國境內的部落反抗朝廷，並建立政權。請問此部族可能是下列何者？
(A) 匈奴 (B) 契丹 (C) 蒙古 (D) 女真
- () 08. 1990 年 11 月法國在首都巴黎豎立一座銅碑，紀念 1914 年到 1918 年間為法國所犧牲的華人及其貢獻。請問此碑是紀念華人的何項事蹟？
(A) 修築西伯利亞鐵路 (B) 冒險跟隨淘金熱
(C) 遭到排華屠殺 (D) 參加第一次世界大戰
- () 09. 馬籍華人導演廖克發的電影《波蘿蜜》片中，馬籍華人主角因為名額限制，無法進入馬來西亞當地的大學就讀。只好輾轉於臺灣就學。請問上述馬來西亞華人無法擁有平等機會與權利的情形與哪一事件有關？
(A) 九三〇事件 (B) 萬寶山事件 (C) 五一三事件 (D) 黑色五月事件
- () 10. 「某個朝代」北方人的飲食習慣受外來民族影響，喜好食用羊肉、饅餅等西域食物，此外連南方海產料理也成為北方人們飲食常見選項。即使遭逢「某場變故」後，國家免於亡國之難，大量人口南遷，促進南方地區開發，而且政府對交通要道的維護，南方食物對北方的供應不僅沒有中斷，「南糧北運」模式更成為支持國家的命脈。請問：這個「某個朝代」與「某場變故」的配對，下列何者正確？
(A) 西晉—永嘉之禍 (B) 唐朝—安史之亂
(C) 北宋—靖康之難 (D) 清朝—太平天國
- () 11. 資料一：關於徐福：《史記·秦始皇本紀》提到秦始皇派徐福帶童男女數千人，以及糧食、藥品、衣履與耕具，入東海蓬萊求仙。有人認為蓬萊即為日本，日本為紀念徐福，設有徐福公園。
資料二：根據日本在西元八世紀完成的史書《日本書紀》記載「弓月君為秦始皇子孫，三世紀的時候，率領百濟的人民到日本，並傳入養蠶與織布技術」
資料三：學者指出中國移民到日本，「從五世紀初前後開始增加，移民多半從朝鮮半島南部的新羅、百濟間之加羅地區東渡……東渡日本的移民們曾把各種技術與文化帶入而造成極大影響，……(日本)五世紀前半已開始生產鐵器、武具、玉器等。」
上述三則關於秦漢至魏晉時期東亞國家間移民的資料，根據資料，對秦漢至魏進東亞人群移動與文明交流理解，下列對資料解讀的看法，何者較為適當？
(A) 資料一徐福是否到過日本是未能確定的傳說，對理解東亞人群移動與交流沒有幫助
(B) 資料二史書《日本書紀》有確切記載，弓月君應該確有其人，也從經朝鮮到過日本
(C) 資料三學者說法較為可信，中國移民將進步文明帶入日本，日本才開始有文明發展
(D) 資料一與資料二無法證實確有徐福與弓月君，但能佐證資料三東亞文明的傳播方向
- () 12. 隋唐以降，佛教於東亞甚有影響力，以下甲、乙、丙、丁四位僧侶曾扮演東亞國家間交流的中介角色，依據四位僧侶的介紹，請問四位僧侶依時代順序排列為何？
甲：中國朝廷因為招降日本不成，出海攻打三次也失敗。於是派為使節改善雙方關係，然而卻被日本當成間諜。

乙：年輕時期到中國修習佛法，回到新羅後，提出「世俗五戒」，此戒律後來影響「花郎道」精神的形成。

丙：屢屢受到長崎佛寺的邀請，決定赴日傳教交流。由於正值海禁，只好借助鄭氏海商船隻赴日，後來還開啟日本煎茶道風潮

丁：多次想渡海至日本未果，至第六次隨使節回國才成功，除創立新宗派之外，日本亦蓋唐昭提寺為修行講道處所。

(A) 乙丁甲丙 (B) 丙甲乙丁 (C) 甲乙丁丙 (D) 丁甲乙丙

- () 13. 阿明在整理有關中國華人於世界各地的勞動情形，但他忘記寫上個地區位置，根據以下表格內容，及(甲)東北亞；(乙)東南亞；(丙)歐洲；(丁)美洲。請問：地區 1-4 的正確排列應為何者？

地區	1	2	3	4
前往原因	獲取更好的生活	被拐騙	政府推動	對新知識的渴求
工作內容	開採礦產 採收熱帶作物	掏金 挖鳥糞	建造軍用設施 搬運彈藥	學習新知識 貿易
發展後期	成為當地 重要族群	開設餐館 落地生根	遣送回國 少部分人留下	擔任政府 重要官員

(A) 甲乙丙丁 (B) 乙丙丁甲 (C) 乙丁丙甲 (D) 甲乙丁丙

- () 14. 「某地」蔗糖產業興盛，許多日本移民受雇為蔗農，1890 年代日本人已佔「某地」人口的 40%。美國基於太平洋戰略考量，深怕「某地」成為日本勢力，推出補貼本國糖業的法案，希望吸引投資「某地」糖廠的美國僑民能遊說甚至推翻當地政權，使「某地」成為美國領土，此法案被稱為美國「糖的陰謀」。請問：「某地」為下列何者？

(A) 巴西 (B) 古巴 (C) 菲律賓 (D) 夏威夷

- () 15. 1960 年代，軍方發起政變，推翻立場親近共產黨政府，並且以肅清共產黨的名義，剷除許多異議份子，許多華人亦被指為共產黨遭受屠殺。政變後，倖存華人為了避禍，將姓名隱藏於新名字之中，例如 lim(林)改為 Salim，並歸化當地國籍。然而政府仍舊不信任華人，在國籍旁加註「WNI」，以此標註華人身分。請問此政變發生的國家為？

(A) 緬甸 (B) 越南 (C) 馬來西亞 (D) 印尼

- () 16. 1970 年代，東南亞國家排華風氣逐漸緩解，除了因為當地華人勢力對各國經濟發展仍有無法忽略的影響之外，國際因素亦是排華緩解的因素。此因素也使原來提倡「英語」教育的新加坡亦推行「講華語」政策。請問影響排華緩解的「國際因素」較可能為何？

(A) 新加坡、馬來西亞與臺灣為亞洲四小龍，希望與臺灣維持良好的經濟合作關係

(B) 英國加強在東南亞的影響力，馬來西亞與新加坡提倡華文以求國內團結抗英

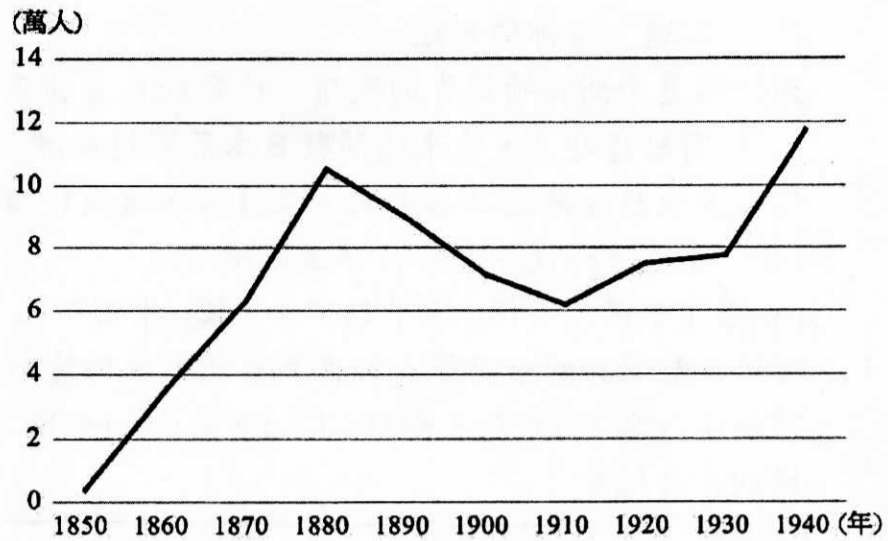
(C) 新加坡希望以「華語」為訴求，尋求東南亞華人的支持，提升新加坡的影響力

(D) 中國改革開放及中(共)美建交，經濟實力與影響力增長，希望尋求與中國經濟合作

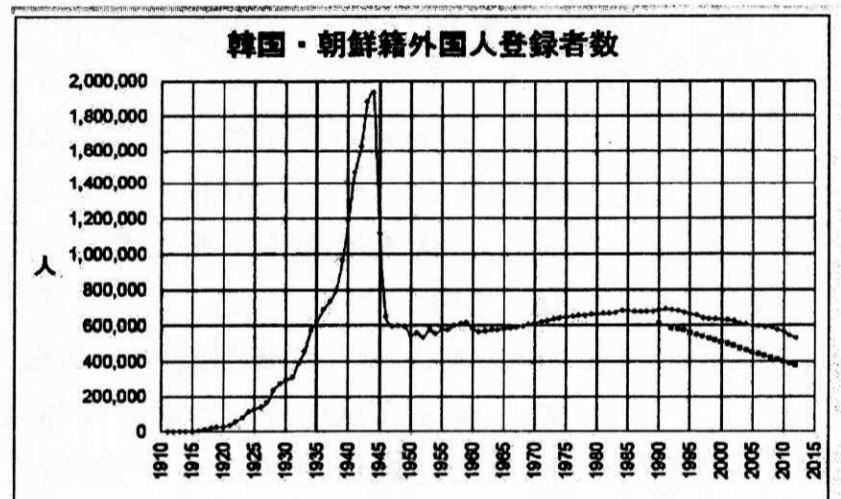
- () 17. 中美貿易戰期間，中國提高美國大豆關稅，轉而從巴西進口大豆。巴西至今為世界第二大大豆生產國，其實源於 20 世紀初期日本開始大量移民巴西，引進大豆栽培所致。而此移民潮，除了因為日本與巴西兩國的移民協議外，還與下列哪一個法案實施有關？

(A) 《紳士協定》 (B) 《排華法案》 (C) 《移民與國籍法》 (D) 《移民法案》

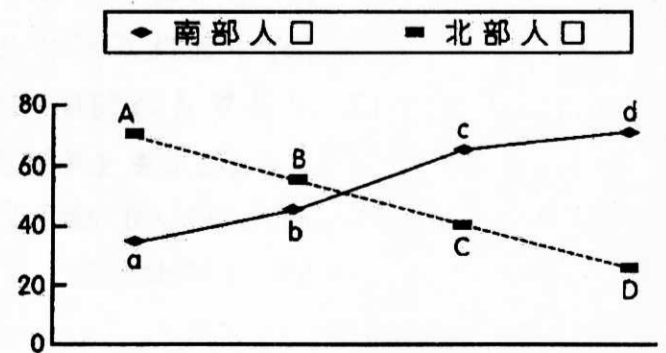
- () 18. 右圖為美國華人人口曲線圖，請問 1880 年代後華人人口大幅下降，是因為下列哪個法案的通過？



- (A) 《移民與國籍法》 (B) 《排華法案》 (C) 《紳士協定》 (D) 《移民法案》
- () 19. 承上題，1940 年代美國華人人口來到高峰，除了移民限制廢除之外，還肇因於下列哪個事件後，美國為了尋求中國支持，較為友善對待華人移民？
- (A) 九一八事件 (B) 珍珠港事變 (C) 中日戰爭 (D) 日俄戰爭
- () 20. 下圖為 20 世紀在日朝鮮人數量變化曲線圖，其中 1940 至 1945 年間在日朝鮮人數量大幅上升，最有可能的原因是？



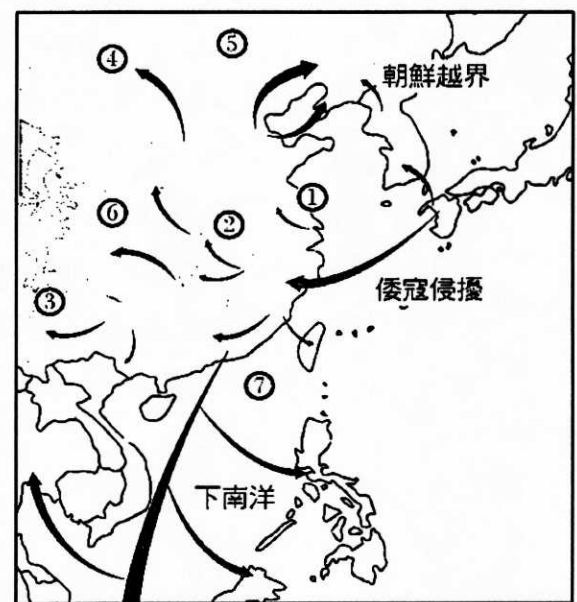
- (A) 太平洋戰爭局勢緊張，日本男性至前線作戰，日本政府大量引進朝鮮勞工填補空缺
- (B) 英、美等國要求俄國對日宣戰，為免受俄國入侵朝鮮半島波及，朝鮮人到日本避難
- (C) 受皇民化運動的影響，朝鮮人主動響應日本政府需求，至日本抵禦英美盟軍的轟炸
- (D) 二次大戰後期，共產主義在朝鮮半島逐漸興起，許多朝鮮資本家因而轉往日本發展
- () 21. 下為中國歷代北方、南方人口在全國總人口數比例之變化，圖中虛線(ABCD)代表北方人口，實線(abcd)代表南方人口。請問圖中虛、實兩線交錯，南方人口開始超越北方的時間大約出現在何時？是因為何事產生？



- (A) 魏晉南北朝—永嘉之禍
- (B) 唐朝中期—南方經濟發展
- (C) 兩宋之間—靖康之難
- (D) 明清之間—湖廣熟天下足

- () 22. 知名的村社組織「明香社」(後改為「明鄉社」)是一群明亡後不願被清朝統治的遺民所建，他們轉往海外另建家園，或當地政權承認。今日在下列何地可見其史蹟？
 (A) 越南胡志明市 (B) 臺灣臺南 (C) 印尼雅加達 (D) 泰國曼谷
- () 23. 近代日本的一場對外戰爭，日本雖傾全國之力好不容易獲得勝利，但卻因此導致日本國內糧食短缺，糧價上漲，農村男性因戰爭徵召，生產力受到破壞。使得國內人口壓力倍增，致使日本政府朝向臺灣、朝鮮與中國東北的移民措施更為積極。請問此戰爭為何？
 (A) 甲午戰爭 (B) 日俄戰爭 (C) 中日戰爭 (D) 太平洋戰爭
- () 24. 1850 至 1860 年間，客家人移民海外到今天的馬來西亞港市「檳城」的人口數量，突然增加許多，可能與中國發生嚴重的內亂有關。這場內亂源起廣西，帶有宗教色彩，影響遍及東南數省，時間長達 10 年以上。請問，此中國的嚴重內亂最有可能為何？
 (A) 白蓮教之亂 (B) 林爽文事件 (C) 太平天國之亂 (D) 義和團之亂
- () 25. 中國歷史動亂的發生，常肇因於天災人禍，「此場動亂」的發生，伴隨當時全球氣候異常導致農業歉收，加上人口數量成長過多，逐漸超過環境負載力，農民難以維生。同時，政府為了應付東北崛起的反抗勢力，加徵「遼餉」、「練餉」等額外稅收。導致動亂大規模爆發，甚至造成朝代覆滅。請問「此場動亂」為何？
 (A) 東漢末年黃巾之亂 (B) 唐朝中葉安史之亂
 (C) 明朝末年流寇之亂 (D) 清朝中葉太平天國
- () 26. 林書豪曾為著名的美國華人球星，其外婆原是臺灣兒科醫師，1969 年帶著女兒(林書豪母親)赴美定居，之後林書豪父母結識，於美國加州生下林書豪。林書豪身為醫師的外婆順利至美國定居，有可能是哪個法案通過的緣故？
 (A) 《移民與國籍法》 (B) 《紳士協定》 (C) 《排華法案》 (D) 《1924 新移民法》
- () 27. 19 世紀末至 20 世紀初，廣東華商於朝鮮成立「同順泰」，而來自閩、粵與三江地區的華商則於日本設立「泰益號」，兩者皆透過華人的貿易網絡與日本帝國版圖的擴張，不斷拓展貿易據點。然而，「某一時期」隨著中日關係的惡化，華人受到敵視與排擠，兩者的經營開始衰退。請問「某一時期」為下列何時？
 (A) 1910 年代 (B) 1920 年代 (C) 1930 年代 (D) 1940 年代

- () 28. 右圖為明清中國人群移動路線圖，其中「兩條路線」的目的地，清朝政府原對其採取「封禁政策」，然而人口壓力增長，仍然不斷有民眾不顧禁令前往開墾。19 世紀後期為了對抗外國勢力的侵擾，清朝政府才決定解除禁令，招民墾荒。請問此兩條路線為？



- (A) ④ ⑤ (B) ⑤ ⑦
 (C) ③ ⑥ (D) ① ②
- () 29. 隋唐時期，來自新羅的崔致遠、日本的阿備仲麻呂以及安南的姜公輔，皆應試科舉，並在唐朝中央任官。對於這些人就學任官的現象，下列理解何者較為正確？

- (A) 隋唐中國國力強盛，其他國家紛紛派遣留學生來到中國，學習中國制度、文化
 (B) 隋唐時期對周邊地區的征服，這些地區為了宣示臣服，派遣使節去到唐朝任官
 (C) 隋唐經濟實力的成長，吸引周邊地區與中國貿易，希望透過任官促進商業交流
 (D) 隋唐漢字文化圈的擴展，中國成為文明輸出國，並且吸納其他周邊地區的人才
- () 30. 關於宋代以後政府對地方治理，「胥吏」有其存在的必要，請問關於「胥吏」的敘述，下列何者正確？
 (A) 「胥吏」包含治理州、縣的地方官，以及師爺、衙役等輔助公務的人員
 (B) 「胥吏」由國家給予固定的薪水，屬於國家正式官僚體制內的編制人員
 (C) 「胥吏」有兩面性，能輔助地方官治理，但亦時常收受規費，危害鄉里
 (D) 「胥吏」同現代公務員，地方政府任用時，必須透過公務考試進行遴選
- () 31. 1650 年代，華商阿均帶著家屬恩美，來到日本貿易，請問當時他們會有何種經歷？
 (A) 阿均航行到大阪、神戶等地，希望多去幾個港口與更多日人做生意
 (B) 恩美出門逛逛時，發現許多西班牙人與朝鮮人結伴到街上去泡溫泉
 (C) 阿均遇到華人工匠製作瓷器，工匠說他是被織田信長從朝鮮抓來的
 (D) 恩美聽說日本喜歡中國儒學，有一位學者朱舜水被邀請至日本講學
- () 32. 資料一：20 世紀初長崎華商「泰益號」的店長陳世望，終身沒有加入日本籍。而他的義弟陳世科於 1911 年恢復日本籍，爭取特約商品經銷權。
 資料二：爪哇一位福建華商，二次大戰期間歐洲紡織品銷路中斷，轉與日本保持貿易往來，他同時也是「巴達維亞華僑捐助祖國(中國)慈善事業委員會」副會長。
 資料三：據說東南亞的福建商人會將外國國籍證書展示於門庭之上。印尼華商郭春秧同時擁有荷蘭、英國與日本的國籍。
- 上述三則資料是關於中國近代華商對於國籍的選擇，請問應該如何理解此現象？
 (A) 華商具有強烈的民族意識，取得他國國籍，為中國從事諜報工作
 (B) 華商在其他國家的威脅下，不得不取得他國國籍，保障自身利益
 (C) 華商基於利益考量，國籍選擇保持彈性，與其中國認同不相衝突
 (D) 華商為生意發展，選擇拋棄孱弱的中國，歸化他國以求他國保護

二、題組題：16%，共計 8 題，每題 2 分

● 右圖為小張研究中國三次大規模人口移動所整理的路線圖，其中乙、丙三種不同的箭頭各表示中國不同時期的人口移動。請問：



- () 33. 根據圖上移動內容，三次人口移動的先後順序為何？
 (A) 丙→乙→甲 (B) 甲→乙→丙
 (C) 乙→甲→丙 (D) 甲→丙→乙
- () 34. 導致「丙」時期出現大規模人口移動的主要事件為何
 (A) 明清流寇之亂 (B) 唐朝黃巢之亂
 (C) 晉朝永嘉之亂 (D) 北魏孝文帝漢化

● 資料一：1712 年，康熙帝下詔：「長久旅居海外的人，家鄉督撫行文外國，帶回國立刻處斬。」

資料二：1728 年，雍正帝諭令：「朕認為私自出國不歸的人，既然不想回國，就不允許他們回到內地。」

資料三：1907 年，光緒帝上諭：「派楊士琦前往海外各港埠考察，切實宣布皇帝德意，好好撫慰僑胞。如有僑胞募集鉅資，願回國振興大宗商業，除從優封賞，一定要求地方官妥為保

護，以示重視實業而照顧僑民之意。」

- () 35. 從資料一和資料二來看，清朝政府原本採取不樂見華人長期移居海外的立場，然而，資料三卻希望「好好撫慰僑胞」，並鼓勵回國，請問，由上述三則資料看來，清朝政府態度的轉變，主要著眼於「何種」因素考量？
(A) 政治因素 (B) 國際因素 (C) 文化因素 (D) 經濟因素
- () 36. 從上述資料可以看到清朝政府對海外華人態度的轉變，不過，影響華人大量移民海外的因素，除了清政府態度轉變外，也與 19 世紀「哪項條約的簽訂」有關，致使華人能以簽約的方式出國工作？
(A) 鴉片戰爭《南京條約》 (B) 英法聯軍《北京條約》
(C) 甲午戰爭《馬關條約》 (D) 八國聯軍《辛丑條約》

● 資料一：「我做皮貨生意，同治二年到省城賣皮，賣了四十三銀兩，遇見認識的陳阿里，我也是賣豬到省城的。他們約我到澳門玩，……我喝醉了，酒醒了，就在豬仔館內。……見西洋官，給合同一張，告訴我做八年工。」

資料二：「豬販害怕失去利益，便代為答應，強迫他們畫押。畫押後驅至工作所在地，鞭打凌虐，比豬不如，逃也逃不了。……至於是否水土不服，無人過問，病死就草草掩埋。染病不死，但羸弱不堪工作，就將其驅逐，其一無所有，葬身路旁。此為豬仔之名的由來。」

- () 37. 這兩則資料的主題，下列推論何者最為適當？
(A) 豬販負責將豬隻從鄉村運至城市，提供城市肉類最佳來源
(B) 兩則資料其實反映華人在明末清初從中國移民海外的過程
(C) 華人出於自願簽署「勞動契約」，成為移工前往海外工作
(D) 華人迫於形勢簽署「勞動契約」，開啟外籍移工的淒慘生活
- () 38. 這兩則資料的主題，華人在海外工作的處境，與下列何者最為相符？
(A) 華人受到契約保障，工資優渥、福利完善，受到妥善對待
(B) 華人在惡劣的條件下工作，客死異鄉的情況層出不窮
(C) 當時華人可能被送往東南亞或美國，受到當地民眾善待
(D) 華人受到殖民政府的猜忌，在東南亞無法發展商業與金融事業

● 資料一：我們當時的日本青年，充滿熱情地奔向滿洲國，只為了在滿洲國這片大地上建設理想的國家。為此傾心盡力……民族協和的理想，將隨著歷史的發展而益發地發揚光大吧。

資料二：我等大和民族是內在十分優秀卓越的民族，對外以寬厚仁德指導其他民族，補足其不足之處，令其誠心服膺於我，以共同完成道義世界的使命。

資料三：滿洲國日本官吏的《服務心得》：「應該盡量疏遠朝鮮民族與漢民族，不應使其親密。兩民族產生衝突時，若其對錯各半時，須支持朝鮮民族，壓抑漢民族；若朝鮮民族有錯時，則兩方同等處置。」

- () 39. 日本影響滿洲國的經營方針，強調建設「民族協和」的「王道樂土」。由上述三則資料來看，加上對當時歷史背景的理解，應當如何看待日本提出的「民族協和」？
(A) 「民族協和」以「五族」為範疇，除「日、朝、漢」外，還包含「滿、俄」民族
(B) 滿洲國統治下，日本人位居領導地位，而其他民族則一律平等，沒有差別待遇
(C) 為了實現「民族協和」理念，日本人基於道義責任，保障身為少數的朝鮮人權權益
(D) 「民族協和」是以日人優先為前提，其他民族則在日本所主導的社會秩序下生存
- () 40. 由資料三可看到日本官吏處理民族紛爭的立場。然而，滿洲國成立「之前」，日本也

曾採取此立場，介入漢人與朝鮮人的紛爭，甚至造成衝突事件，請問此衝突事件為何？
(A) 一二八事件 (B) 萬寶山事件 (C) 九三〇事件 (D) 五一三事件

三、多重選擇題：20%，共計 5 題，每題 4 分（答錯 1 個選項倒扣 0.8 分）

- () 41. 傳統中國為了避免大規模民變發生，政府常會透過許多措施，或藉助地方社會力量，彌補對地方治理的缺失，穩定秩序，請問下列何者為穩定社會的政府施政或民間作為？
(A) 政府透過冊封神明勳爵，將「忠」「孝」等價值融入宗教，標榜政府重視的理念
(B) 地方士紳與宗族，透過舉辦鄉約聚會和興辦義學，宣揚倫理教化，救濟貧困族人
(C) 為了強化國家實力，大量徵集民力，興建各種大型公共工程，例如開鑿大型運河
(D) 許多士人與商人印行《功過格》與《太上感應篇》等勸善書，使其流行於底層社會
(E) 為了瓦解倭寇與海上的叛亂勢力，政府實施海禁與遷界令，嚴格取締民間走私貿易
- () 42. 明朝中葉到清朝初期，許多因素使中國人口往城市或市鎮移動，請問下列何者為是？
(A) 歐洲在中國沿海港口設立工廠，城市工業化，提供許多就業機會
(B) 遠距貿易的盛行與專業市鎮興起，需要更多工匠與勞力投入生產
(C) 海禁解除與歐人東來，促使沿海市鎮商業發展，吸引許多人前往
(D) 朝鮮、日本頻繁與中國的貿易，許多日人和朝鮮人來到城市交易
(E) 攤丁入畝實施，人身遷徙較自由，容易往就業機會較多市鎮移動
- () 43. 學者曾經提出「推拉理論」來解釋人口的移動，就你對影響人口移動「推力」與「拉力」理解，下列何者正確？
(A) 三一運動：拉力—朝鮮人移往中國東北
(B) 加州發現金礦：推力—大量華工移入美國舊金山
(C) 唐朝進步文化：拉力—日本遣唐使來到中國
(D) 1929 年經濟大蕭條：推力—日本人移往朝鮮
(E) 新羅與百濟間戰爭：拉力—朝鮮人移居日本
- () 44. 19 世紀後期沛錚與嘉欣來到東南亞旅行，下列哪些事情很可能是當時她們的經歷
(A) 沛錚在馬來西亞吃了很多娘惹料理，例如：叻沙、肉骨茶
(B) 嘉欣發現「炒雜碎」很流行，看到許多人拿來當配飯佐料
(C) 沛錚被蚊子咬，塗了虎標萬金油，發現是緬甸中醫發明的
(D) 沛錚在越南看到當地華人祭拜被視為當地神明的拿督公
(E) 嘉欣覺得「沙嗲醬」味道與「沙茶醬」很像，想打包回家
- () 45. 無論是 19 世紀初期日本在成立的關東廳，或是 1930 年代將退伍軍人移往中國東北的「屯田兵」計畫，甚至後來青年義勇軍移往滿洲國。日本這些帶有軍事性質的移民措施，主要是為了與哪些國家在東北的勢力競爭？
(A) 英國 (B) 美國 (C) 俄國 (D) 中國 (E) 法國

桃園市立平鎮高級中學 108學年第2學期
 月考二一年級不限組別歷史[20200528100020C00052]
 全體考生 試題分析表

全體人數：471 高分組人數：127 低分組人數：127

列印日期：2020/5/28

題號	題型	配分	標準答案	全體					高分組					低分組					全體 答對率	難易 指數	鑑別 指數			
				A	B	C	D	E	未	A	B	C	D	E	未	A	B	C				D	E	未
01	單選題	2.00	C	24	158	280	8	0	2	1	23	102	0	0	1	15	56	50	6	0	0	59.24%	0.598	0.409
02	單選題	2.00	D	28	54	7	382	0	0	2	9	1	115	0	0	17	19	5	86	0	0	81.10%	0.791	0.228
03	單選題	2.00	C	21	14	358	77	0	1	5	0	105	17	0	0	6	7	85	29	0	0	76.01%	0.748	0.157
04	單選題	2.00	A	327	109	10	24	0	1	114	12	0	1	0	0	51	50	8	17	0	1	69.43%	0.650	0.496
05	單選題	2.00	C	66	123	211	71	0	1	14	26	73	14	0	0	25	34	43	26	0	0	44.80%	0.457	0.236
06	單選題	2.00	D	80	24	13	355	0	0	7	1	3	116	0	0	36	13	6	73	0	0	75.16%	0.740	0.346
07	單選題	2.00	A	165	44	156	106	0	0	78	8	24	17	0	0	27	11	46	43	0	0	35.03%	0.413	0.402
08	單選題	2.00	D	77	31	71	291	0	1	11	4	2	110	0	0	31	15	38	42	0	1	61.78%	0.598	0.535
09	單選題	2.00	C	47	69	285	69	1	0	4	4	109	9	1	0	16	38	45	28	0	0	60.51%	0.606	0.504
10	單選題	2.00	B	88	162	204	17	0	0	18	53	56	0	0	0	36	25	54	12	0	0	34.39%	0.307	0.220
11	單選題	2.00	D	10	171	41	249	0	0	0	44	5	78	0	0	8	53	19	47	0	0	52.87%	0.492	0.244
12	單選題	2.00	A	217	56	142	55	0	1	82	5	36	4	0	0	43	28	37	19	0	0	46.07%	0.492	0.307
13	單選題	2.00	C	7	40	415	9	0	0	1	1	125	0	0	0	2	28	92	5	0	0	88.11%	0.854	0.260
14	單選題	2.00	D	38	54	28	351	0	0	2	7	2	116	0	0	13	18	15	81	0	0	74.52%	0.776	0.276
15	單選題	2.00	D	45	80	165	181	0	0	8	10	31	78	0	0	15	36	53	23	0	0	38.43%	0.398	0.433
16	單選題	2.00	D	19	25	103	324	0	0	1	6	17	103	0	0	8	13	38	68	0	0	68.79%	0.673	0.276
17	單選題	2.00	A	215	66	57	133	0	0	73	20	6	28	0	0	48	19	25	35	0	0	45.65%	0.476	0.197
18	單選題	2.00	B	9	433	12	17	0	0	0	125	1	1	0	0	5	107	7	8	0	0	91.93%	0.913	0.142
19	單選題	2.00	B	40	381	33	17	0	0	2	116	8	1	0	0	27	86	8	6	0	0	80.89%	0.795	0.236
20	單選題	2.00	A	367	47	14	43	0	0	119	5	1	2	0	0	68	23	9	27	0	0	77.92%	0.736	0.402
21	單選題	2.00	C	68	120	263	20	0	0	11	25	91	0	0	0	28	37	46	16	0	0	55.84%	0.539	0.354
22	單選題	2.00	A	337	45	68	19	0	2	110	6	7	4	0	0	74	16	27	9	0	1	71.55%	0.724	0.283
23	單選題	2.00	B	34	314	45	78	0	0	7	105	6	9	0	0	15	64	21	27	0	0	66.67%	0.665	0.323
24	單選題	2.00	C	76	6	368	21	0	0	6	0	119	2	0	0	46	3	67	11	0	0	78.13%	0.732	0.409
25	單選題	2.00	C	67	56	313	35	0	0	6	3	114	4	0	0	29	29	49	20	0	0	66.45%	0.642	0.512
26	單選題	2.00	A	298	22	4	147	0	0	92	2	0	33	0	0	71	8	2	46	0	0	63.27%	0.642	0.165
27	單選題	2.00	C	63	57	238	113	0	0	6	7	87	27	0	0	25	23	52	27	0	0	50.53%	0.547	0.276
28	單選題	2.00	A	220	192	31	28	0	0	92	27	4	4	0	0	36	63	15	13	0	0	46.71%	0.504	0.441
29	單選題	2.00	D,A	361	22	34	54	0	0	108	4	4	11	0	0	76	10	25	16	0	0	88.11%	0.831	0.213
30	單選題	2.00	C	156	32	252	31	0	0	32	6	83	6	0	0	52	13	46	16	0	0	53.50%	0.508	0.291
31	單選題	2.00	D	44	17	87	323	0	0	4	2	16	105	0	0	18	6	35	68	0	0	68.58%	0.681	0.291
32	單選題	2.00	C	3	75	355	39	0	0	0	11	111	5	0	0	3	28	79	17	0	0	75.16%	0.748	0.252
33	單選題	2.00	A	374	31	38	26	0	2	119	3	2	2	0	1	80	17	16	14	0	0	79.41%	0.783	0.307
34	單選題	2.00	C	46	42	305	78	0	0	8	5	95	19	0	0	14	22	69	22	0	0	64.76%	0.646	0.205
35	單選題	2.00	D	40	75	10	345	0	1	6	8	4	109	0	0	19	27	3	78	0	0	73.25%	0.736	0.244
36	單選題	2.00	B	124	304	17	26	0	1	17	108	0	2	0	0	43	60	12	13	0	0	64.54%	0.661	0.378
37	單選題	2.00	D	0	44	14	412	0	1	0	4	1	122	0	0	0	13	10	104	0	0	87.47%	0.890	0.142
38	單選題	2.00	B	4	460	4	2	0	1	0	127	0	0	0	0	4	117	4	2	0	0	97.66%	0.961	0.079
39	單選題	2.00	D	44	18	54	354	0	1	7	2	8	110	0	0	20	9	22	76	0	0	75.16%	0.732	0.268
40	單選題	2.00	B	49	313	59	50	1	1	4	116	7	1	1	0	22	48	25	32	0	0	66.24%	0.642	0.528
41	多重選五	4.00	ABD	300	419	149	365	255	0	89	121	17	115	61	0	71	99	76	71	80	0	26.75%	0.252	0.268
42	多重選五	4.00	BCE	185	384	338	215	329	1	32	112	93	31	107	0	69	92	89	78	69	1	17.41%	0.205	0.268
43	多重選五	4.00	CD	81	48	458	423	58	0	6	3	127	121	5	0	49	26	119	103	30	0	68.15%	0.634	0.528
44	多重選五	4.00	ACE	390	225	289	287	412	0	114	35	83	66	124	0	104	81	70	82	102	0	12.95%	0.142	0.173
45	多重選五	4.00	CD	84	61	456	406	49	1	8	3	127	120	3	0	38	32	117	97	25	1	68.37%	0.681	0.449