

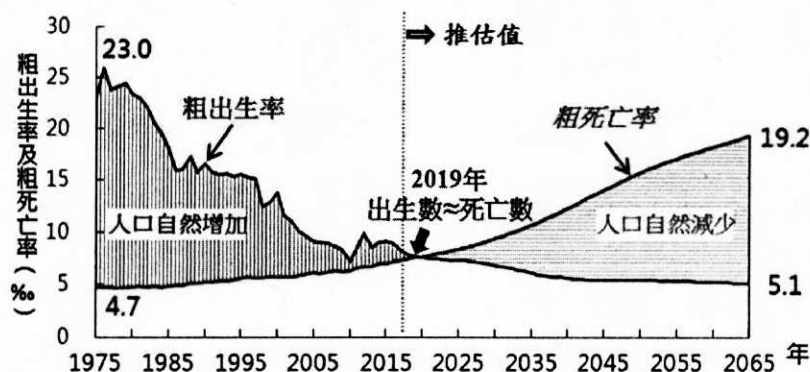
桃園市立平鎮高中 108 學年度第二學期 公民與社會科 期中考

※命題範圍：第一冊 3-2~3-3、第四、五、八課全 ※適用班級：108-113 ※說明：本試題共 40 題，總計 6 頁。請同學於作答前將電腦卡班級、姓名、座號填寫完備，資料不全者一律扣測驗總分 5 分

班級：一年_____班 姓名：_____ 座號：_____ / 命題教師：曾露瑤

一、單選題 47.5 % (共 19 題，一題 2.5 分，答錯不倒扣)

- () 自 1870 年，加拿大政府與天主教會合作，在全國各地設置了數以千計的「原住民寄宿學校」，將原住民學齡兒童強行帶離家庭，進行「土著同化」原則。「寄宿學校」裡，原住民兒童不允許說母語、不得保留原有的宗教與習慣，只能說英語或法語。請就題述判斷哪一說明為是？
(A) 加拿大政府所為符合文化相對論，並藉同化隔離原住民
(B) 加拿大政府所舉在保障原住民兒童生存並落實公平正義
(C) 政府所為已違反「我族中心主義」概念，侵害人權甚鉅
(D) 政府單位透過統治階層權力的壓迫致使文化位階的形成
- () 右圖為 2018 年國家發展委員會發布之「中華民國人口推估 (2018 至 2065 年)」，請結合此圖與下列選項，選出說明正確者：(A)2019 年後出生率不斷下降，代表政府挹注社會福利之資源銳減 (B)2019 年後我國人口逐漸減少，挹注醫療資源延長老年人壽命便可解決此況 (C)1975 年後粗出生率持續下降之況與工業革命後社會結構的變化相關 (D)政府藉由完整社會津貼之舉，可改變圖中 2019 年後之況
- () 因應新冠肺炎 (COVID-19) 的防疫及衝擊，行政院於 2020 年 2 月底編列特別預算 600 億元，其中有關○○等防治經費編有 196 億元。請就題述判斷下列關於○○的相關說明，選出正確者：(A) ○○應填入「社會保險」，受感染者不限條件皆可申請經費補助 (B) ○○應填入「社會救助」，亦稱之為社會安全的最後一道防線 (C) ○○應填入「社會津貼」，主在挹注受感染者經濟資源並提供支援 (D) ○○應填入「社會福利」，以避免受感染者生活匱乏而提供的急難救助
- () 我國○○的產生係因一選區只能選出一名立委的情況下，非支持當選者的選民可能覺得該名立委代表性不夠，區域型選舉也可能受限於地方，無法讓全國型的專業人士進入國會，故需○○來進行彌補。請結合題述與下列選項，判斷關於○○之說明何者為是？(A) 各政黨提出名單後由政黨票選出，無得票率門檻之設定便可獲取席次 (B) 規定一個縣市一定要有一席立委，且容易出現「票票不等值」之現象 (C) 在野黨為求勝選，可能主導該次選舉選區劃分並出現「傑利蠅螞」現象 (D) 為落實性別平等設有婦女保障名額，各政黨當選名單須有一半是女性
- () 下圖為某報紙社論就我國原住民立委選制所做之評論。請就此評論判斷下列哪一說明正確：



按我國●●規定，原住民立委總席次共計 6 席，採○○選制。該選制導致原住民立委參選者辛苦萬分，因每個縣市都有原住民，參選人都要去爭取支持，選舉期間爬山涉水實屬常態...

- (A) 23 歲便可擔任參選人，當選者任期四年，得連選連任之 (B) ●●為《憲法》，需藉由最高位階的法律規範保障立委選舉 (C) ○○應填入單一選區制，投票者僅可投選一票予一位候選人 (D) 透過題述可知，原住民立委選舉總人數較少，故屬小選區
- () 美國於 2012 年 11 月初舉辦「波多黎各公投」，公投結果 61%贊成成為美國第 51 州。此次公投由兩輪投票構成。在第一輪中，波多黎各人就「在與美國關係上是否想改變現狀」進行投票。隨後，波多黎各人就如何作出改變進行選擇，有「成為美國一州」、「擴大自治權」和「完全獨立」三個選項供投票者選擇。公投結果出爐後，波多黎各自由邦若欲成為美國一州尚需經美國國會通過，並經美國總統簽署後方正式生效。請結合題述與下列選項，判斷哪一說明正確？
(A) 美國與我國相同，可就主權議題及預算進行公投 (B) 我國公投若欲有效，其流程與「波多黎各公投」相同
(C) 為具民意代表性，此公投次數與法國總統大選相同 (D) 此公投若於我國舉辦，不可與其他全國性選舉共同舉辦
- () 2019 年我國公視推出社會寫實電視劇《我們與惡的距離》(The World Between Us)，劇情描述「思覺失調症」(Schizophrenia，精神疾病的一種) 患者在發病時做出隨機殺人之情事後，受害者家屬、加害人家屬及新聞媒體等角色如何詮釋此況。請結合題述與下列選項，選出說明為是者：(A) 推出此電視劇之媒體，所有權屬私人企業並以廣告為收入來源 (B) 媒體工作者可能出現拒絕上級錯誤指令的「新聞室的社會化」現象 (C) 患此疾病者受我國「兩公約」保障其自由權，故殺人得不償命 (D) 患有該疾病者並受輔助宣告者，則不具公職人員參選之資格
- () 維基百科：「●●目的是為了誤導大眾，帶來政治、經濟、市場、或心理得到成就感和利益的新聞或宣傳，包括通過傳統新聞媒體 (印刷和廣播) 或在線社交媒體傳播的故意錯誤資訊或惡作劇。」請就題述判斷下列選項哪一為是？
(A) 閱聽人接收資訊時，應落實守門人角色以避免●●現象再現 (B) 該現象的出現說明媒體使用「過濾泡泡」機制過濾新聞 (C) 媒體應落實「使用權」，避免此現象充斥於閱聽人日常生活中 (D) ●●應填入「假新聞」，和媒體「偏向娛樂化」相關

9. () 我國選舉文化常吸引國際人士前來觀摩，尤其在選前各政黨無不「各出奇招」，希望贏得選舉。右圖為報紙中出現政黨刊登的廣告，同時也反映出我國某種公職人員選舉的特別樣態，而對於此種選舉的描述，何者正確？(A) 採單一選區兩票制 (B) 當選席次採並立制計算 (C) 廣告呈現選舉過程地方派系角力 (D) 實現間接、代議民主制度的精神
10. () 2014 年司法院大法官會議釋字第 721 號：「憲法增修條文第四條第一項及第二項規定：『立法院立法委員自第七屆起○人，任期●年，***，……一、自由地區直轄市、縣市七十三人。每縣市至少一人。二、自由地區平地原住民及山地原住民各三人。三、全國不分區及僑居國外國民共三十四人。前項第一款依各直轄市、縣市人口比例分配，並按應選名額劃分同額選舉區選出之。第三款依政黨名單投票選舉之……；各政黨當選名單中，婦女不得低於二分之一。』」

需要您無私的一票

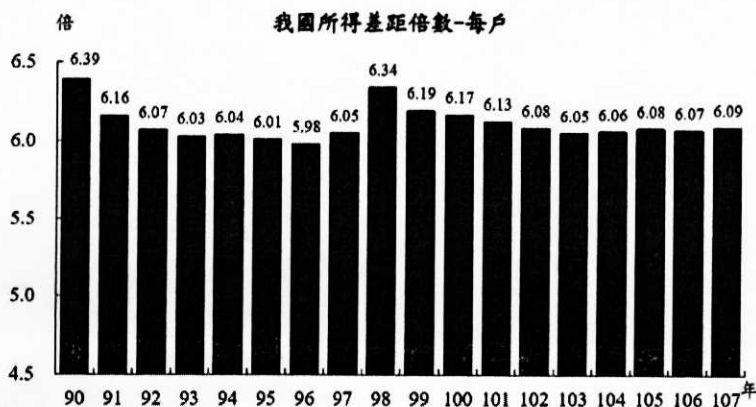
大配票 團結大勝利

勝		選		配		票		辦		法	
身位編號	身位編號	身位編號	身位編號	身位編號	身位編號	身位編號	身位編號	身位編號	身位編號	身位編號	身位編號
1-2 號投	3-4 號投	5-6 號投	7-8 號投	9-0 號投	1-2 號投	3-4 號投	5-6 號投	7-8 號投	9-0 號投	1-2 號投	3-4 號投
⊙	⊙	⊙	⊙	⊙	⊙	⊙	⊙	⊙	⊙	⊙	⊙
9	11	12	13	15							
洪名朗	林大全	何寬敬	林武功	康樂惠							

11月29日 一起讓○○黨擊出不可能的全壘打

- (A) ○●*** 依序應填入「113；4；為實現人人皆可參政，得連選連任一次」
- (B) 欲參選第三款立法委員，則需藉由政黨推薦參選之，不可脫黨參選之
- (C) 自由地區直轄市當選人數較為多，故其採大選區制以符合選舉制度規範
- (D) 我國第二、三款選舉制度規範，可與羅爾斯正義論之第一原則相呼應
11. () 社會安全之存在，最初旨在解決貧窮問題。自十八世紀工業革命興起和資本主義盛行後，社會問題益顯複雜嚴重，社會安全更受到重視。試就下列關於社會安全歷史發展之相關敘述，選出概念正確者：
- (A) 1601 年英國所通過的「濟貧法」(The Poor Law) 是社會安全措施的重要開端
- (B) 正式採用「社會安全」一詞，藉由立法責成國家推動社會保險與社會救助等社會安全措施係法國
- (C) 英國的貝佛里奇報告書 (The Beveridge Report) 建議以社會救助制度來克服貧困和疾病等問題
- (D) 德國俾斯麥宰相大力推動軍、公教保險制度，以利國家保險制度的完備與開展

12. () 右圖為 2018 年行政院主計總處發布之「國民所得統計及國內經濟情勢展望」，當中關於家庭收支調查的部分指出，2018 年，每戶可支配所得差距倍數，已從 2017 年的 6.07 倍，增至 6.09 倍。請結合右圖與下列選項說明，判斷哪一概念為是？
- (A) 政府公告此統計數據，得以說明公共政策網路參與平臺以發揮其作用 (B) 我國政府藉由民主治理做法，「政府能做，民間不做」便可有效改善右圖之況 (C) 以「政府角色」發展而論，萬能政府的出現主在解決右圖之現象 (D) 數據有高有低可說明政府單位統計時忽略行政過程的代表性



13. () 時任高雄市長韓國瑜上任後帶職參選總統，引發公民割草行動、We Care 等民間團體不滿，2019 年 7 月就想提出罷免，卻因法規限制延至 2019 年 12 月 26 日向中選會遞交第一階段提案。若以 2018 年高雄市長總選舉人數為 228 萬，請結合題述與下列選項，判斷哪一說明為是？(A) 「法規限制」之法為《公職人員選舉罷免法》，該法規定市長不得帶職參選總統 (B) 2019 年 12 月 26 日遞交提案罷免案之人數至少為 228,000 人方達法定提案門檻 (C) 第二階段「連署門檻」較提案門檻為高，然提議人名冊可挪作連署人名冊使用 (D) 罷免案之有效同意票數須多於不同意票數，估計約 57 萬票同意票，罷免即通過

14. () 右表為日本某次國會選舉結果的資料，總席次共 480 席 (300 席為區域代表，180 席為政黨比例代表)。下列對此份資料的解讀，何者正確？(A) 甲黨在眾議院的總席次會比乙黨少 (B) 政黨得票率可以完全轉換為國會席次 (C) 政黨得票率與所獲得的席次產生落差 (D) 甲、乙兩黨共獲得 166 席。

---	甲黨	乙黨
政黨得票率	15%	20%
區域代表當選席次	40	30

15. () 2018 年 11 月 24 日我國舉辦「九合一選舉」，選出新一屆的縣市長、縣市議員等…。其中桃園市升格為直轄市後第二屆議員共計 63 位議員，各區市議員當選人數統計如右表。請就題述判斷下列說明哪一正確？(A) 透過表格統計數據可知，本選舉採單一選區選舉制度 (B) 藉由表格數據可知，桃園區為桃園市人口最多之選區 (C) 中壢區地理範圍較大溪復興區為大，故當選人數較為多 (D) 藉由表格統計可知，桃園市共分為 12 個行政區

桃園區：12 人	大園區：2 人	楊梅區：4 人	平地原住民：4 人
龜山區：4 人	大溪復興區：2 人	龍潭區：3 人	山地原住民：3 人
八德區：5 人	中壢區：11 人	新屋區：1 人	
蘆竹區：4 人	平鎮區：6 人	觀音區：2 人	---

16. () 2020 年 5 月 15 日是臺北文創的 7 歲生日。臺北文創係由富邦建設、台灣大哥大共同投資及營運，更是我國第一宗文創 BOT 案。請問臺北文創可與我國民主治理的哪一作法相呼應？
- (A) 管制鬆綁：將某些不適合由行政機關推動的公共事務，改以公共法人辦理
- (B) 地方化：減少政府管制，開放市場競爭，由民間扮演過去政府的部分角色
- (C) 行政法人化：透過開放市場競爭，解除政府對某些業務的管制及責任負擔
- (D) 委外化：政府將業務委託民間執行，以提高資源使用效率與降低人事成本
17. () 教宗方濟各 (Pope Francis, 1936—) 曾言：「復甦不應讓『在進步的祭壇上落後的人被犧牲』，尤其是窮人。」試結合此述與下列選項說明，判斷哪一概念正確？(A) 教宗方濟各所言可與我國全民健保「全民共同分擔責任」精神相呼應 (B) 我國政府透過挹注資源予偏鄉地區，可避免教宗方濟各所言之況再現 (C) 教宗方濟各所言可與我國全民健保欠缺「使用效率」之概念相呼應 (D) 我國設有國民接受基本醫療服務之制度，人人均繳交相同之健保費用

18. () 1651 年托馬斯·霍布斯 (Thomas Hobbes) 出版《利維坦》(Leviathan) 一書 (該書又譯《巨靈》、《巨靈論》),「利維坦」原為《舊約聖經》中記載的一種怪獸 (見右圖), 在本書中用來比喻強勢的國家。霍布斯認為社會要和平就必需要社會契約。社會是一群人在一個威權之下, 而每個人都將所有的自然權力交付給這威權, 讓它來維持內部和平和進行外部防禦, 只保留自己免於一死的權力。這個主權必須是一個「利維坦」, 一個絕對的威權。請結合題述與下列選項說明, 判斷哪一為是?



- (A) 以現今民主國家而論,「利維坦」為委託人, 人民為代理人
- (B) 人民藉由課責「利維坦」, 便可達人民善治及貼近民意之效
- (C) 按我國《政府資訊公開法》, 人民有權要求「利維坦」公開所有資訊
- (D) 透過定期的選舉、議會的監督等..., 可有效制衡「利維坦」

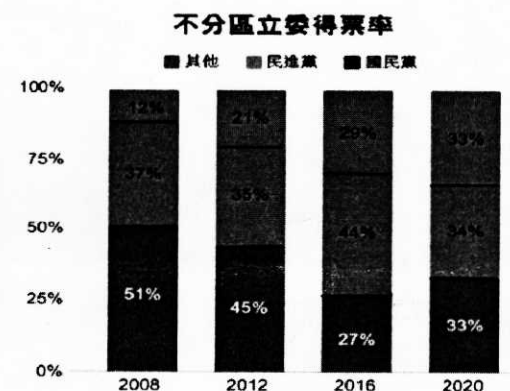
19. () 2019 年桃園市「中路二號」社會住宅完工並對外開放出租, 目前承租期限以 3 年為一期, 原則上可租 2 期, 以「3+3」合計共 6 年。桃園市第二個社會住宅「蘆竹 2 號」則預定於 2020 年 7 月完工, 預計開放出租後將造福更多住宅需求者。請就桃園市此二大社會住宅。請結合題述與下列說明, 選出概念正確者:

- (A) 來源: 私有土地興建, 由政府重新規劃低度利用空間, 結合公共設施
- (B) 興建單位: 由政府單位、營利組織、建商、住宅法人共同規畫與興建
- (C) 經營單位: 由政府、物產管理公司、住宅法人、非營利組織共同經營之
- (D) 租期: 凡社會住宅皆有承租期限, 以便其他需求者亦可享受此社會福利

二、單選題組 52.5% (共 21 題, 一題 2.5 分, 答錯不倒扣)

(一) 2020 年第 15 任總統、副總統及第 10 屆立法委員選舉開票結果出爐, 現任總統蔡英文以 817 萬票成功連任總統 (得票率為 57.13%)。本次總計有 1446 萬 4571 人投下總統、副總統票, 投票率達 74.9%。下圖表為立委選舉席次分布。

2020 立委選舉席次分布		2020 不分區立委席次	
民進黨: 61 席	無黨籍: 5 席	民進黨: 13 席	台灣民眾黨: 5 席
國民黨: 38 席	時代力量: 3 席	國民黨: 13 席	時代力量: 3 席
台灣民眾黨: 5 席	台灣基進: 1 席	---	



→ 新聞來源:「2020 大選結果: 蔡英文連任、藍綠得票版圖、立委席次分布」, 109.5.10 取自「聯合報鳴人堂」:

<https://opinion.udn.com/opinion/story/10763/4284347>

20. () 請就文述與圖表統計數據, 判斷下列哪一說明正確? (A) 總統、副總統選舉投票率達 74.9%, 意謂當選者擁有正當性 (B) 本次選舉, 時任總統獲過半得票率, 足見此次選舉具合法性 (C) 台灣基進黨在分區立委選舉表現較政黨時代力量表現亮眼 (D) 不分區立委選制與總統大選相同, 故皆由民進黨獲得最高票
21. () 請結合底線劃記處與下列選項, 選出概念正確者:
- (A) 總計 817 萬人領票並落實形式平等的票票等值原則
 - (B) 817 萬人投票過程中可主張羅爾斯的第二正義原則
 - (C) 817 萬人可使用不在籍投票, 故本次投票率得過半
 - (D) 高投票率和參與投票者年齡由 20 歲降至 18 歲相關
22. () 請結合此次兩大選舉與下列選項, 選出概念正確者:
- (A) 透過立委選舉結果可知, 不分區立委選制較有利於大黨
 - (B) 藉由立委選舉總席次可知, 我國分區立委採用兩輪投票制
 - (C) 總統大選採用之選舉制度容易產生選擇性投票(棄保效應)
 - (D) 圖片中的立委選舉容易產生得票數與席位不成比例之疑慮
23. () 請就最右圖 (不分區立委得票率。該圖由上至下代表「其他政黨」→「民進黨」→「國民黨」), 選出下列選項說明正確者:
- (A) 「其他」政黨得票率不斷增加, 係因選制採有利小黨的小選區制
 - (B) 「其他」政黨得票率有增加之況與選制採相對多數決息息相關
 - (C) 民進黨得票率不斷增加, 可知其執政時同時具備正當性及合法性
 - (D) 透過「其他」政黨得票率不斷增加可知, 我國並未設定得票率門檻

(二)、因應新型冠狀肺炎，2020 年 3 月 12 日開始我國實施實名口罩 2.0，健保 App 或健保卡插卡下單，免排隊，超商取貨，自付運費。此次疫情意外掀起數位經濟。數位社會雖有益處，卻也帶來不少問題。(甲)例如網路時代的傳播模式與往昔大相逕庭，網路傳播所呈現網路霸凌，及假訊息(例如透過網路媒體散播武漢肺炎疫情謠言或不實訊息。對此，政府通過《嚴重特殊傳染性肺炎防治及紓困振興特別條例》，明定有此舉者將處 3 年以下有期徒刑、拘役或併科新台幣 300 萬元以下罰金。NCC 亦發出新聞稿表示，已要求網際網路服務業者 (ISP) 和社群媒體遵守法律、強化自律機制等...。(乙)而政府透過教育，針對偏遠地區及特定族群提出改善方案，就是為了改善其中一項問題。為改善此問題，部分民間單位挹注資源予學校機關，例如政治大學便是在民間企業捐贈下，自 2015 年起推動 Soobi (施筆獸) 計畫，透過培訓志工，以營隊活動方式讓偏鄉學童接觸程式設計領域。

→ 資料來源：「疫情防治與數位社會」，109.5.10 取自「民報」：
<https://www.peoplenews.tw/news/ed6ac357-779b-46d7-8202-26298cad1a13>

24. () 請就底線劃記處(甲)與下列選項，選出說明正確者：
(A) 藉由底線畫記處可知，NCC 擔任「守門人」角色 (B) 透過畫記處可知，置入性行銷導致媒體亂象百出
(C) 我國《社會秩序維護法》亦有關於此舉罰金之懲處 (D) NCC 藉由規範避免錯誤的「媒體再現」及「媒體真實」
25. () 請就底線劃記處(乙)判斷，政府所欲解決的問題應為何？
(A) 應為「媒體接近」，讓偏遠地區族群主動製作媒體內容 (B) 應為「媒體使用」，即教育偏遠地區族群可答辯媒體資訊
(C) 應為「數位落差」，因非人人取得及運用資訊能力皆相同 (D) 應為「資訊貧富不均」，偏遠地區不知何謂媒體資源資訊
26. () 請結合底線劃記關於「Soobi (施筆獸) 計畫」(乙)與下列選項，選出說明正確者：(A) 此計畫主為第一部門挹注資源予第三部門，以落實地方治理 (B) 透過敘述可知，民間企業透過組成利益團體影響學校組成型態 (C) 全球化間接導致此計畫的成形，此計畫可落實另類全球化精神 (D) 藉由此計畫的實施，可有效縮短城鄉差距及改變「反向歧視」

(三)、2026 年臺灣將進入超高齡社會，但由於壽險公司提供的長照保險只能給付現金，無法進行實物或服務提供，致投保率不到 5%。為解決長照資源不足的問題，金管會提出方案，一是由各地方政府提供公有地，讓保險業者投資辦理日間照護結合托幼中心，同時將可促使從事家務勞動者轉至此中心從事相同勞動性質的工作；二是由政府發建設公債，吸引金融業資金來興建長照機構，讓老年人口順利在地安養照顧。

27. () 文中提及我國因應超高齡化社會可能面臨長照問題的既有措施，根據文本下列選項何者正確？
甲、長照保險與國民年金保險原理近似，皆依據風險分擔原則設計推動
乙、長照保險係由國家開辦納保的社會保險，以確保國人老年生活無虞
丙、因民眾抱持搭便車心態使用長照公共財，企業鮮少願投入長照設施
丁、國民年金與長照保險皆屬於社會安全網的重要防線，保障國人生活
(A) 甲乙 (B) 甲丁 (C) 乙丙 (D) 丙丁
28. () 根據文中金管會所提的方案，下列哪一組合說明正確？
甲、若由保險公司參與投資興建地方長照機構，係符合公私協力治理模式
乙、金管會鼓勵第二部門投入長照服務提供，合乎福利多元主義概念主張
丙、透過文述可知，金管會所舉符合行政過程要求中的「被動回應性」
丁、政府發行建設公債吸引地方資金投資，可實現我國民主治理中的「地方化」
(A) 甲乙 (B) 甲丙 (C) 乙丁 (D) 丙丁

(四)、【原住民人權宣言，盼獲自決權】原住民團體邀請學者、社團代表和部落代表與會，共同簽署與發表「原住民族人權宣言」，呼籲政府落實「原住民族基本法」中保障民族自決的精神，並提出七大訴求。包括承認萬物間的相互依存關係；確立原住民族自決、賦予原住民族土地、水資源、傳統領域的管理權；保障並維護原住民的傳統知識、生活方式、語言和文化等；確立原住民有效參與影響原住民社群行動的集體同意權；確立種子主權和糧食安全；保護傳統農業和基因資源。

29. () 文述「從日據時代到 1980 年代，是原住民遭受文化滅絕最深刻的時候」可見，原住民文化保存受到極大的威脅。試就下列現象，哪些可能是導致原住民文化遭受邊緣化？
甲、原住民族語言並未被列入官方語言，且日漸遭內部族人淡忘
乙、原住民自身的酗酒文化，導致其社會經濟地位不如漢人民族
丙、政府訂定的年節假期時，以漢人的民俗節慶或國家慶典為主
丁、政府全無訂定保障原住民權益的規範，致使其遭受社會漠視
(A) 甲乙 (B) 甲丙 (C) 乙丁 (D) 丙丁

30. () 茲就 SEI (Social Economic Index, 社會經濟指數) 概念而論, 原住民族因長期位處社會經濟地位弱勢, 連帶影響其文化權的延續與發聲。試就我國當前現有與原住民人權相關之社會安全制度而論, 選出下列說明正確者:
- (A) 若原住民之生活狀況已低於生活標準以下, 政府第一時間可予以社會保險的服務
 - (B) 為避免原住民遭受糧食方面安全的威脅, 政府可提供全民健保的社會災害救助
 - (C) 為促進與實現形式上的平等, 政府可提供各類福利服務以提升原住民之生活品質
 - (D) 面對原住民漸升的失業率窘況, 政府可提供適才適所的就業安全等職前(業)訓練

(五)、自新冠肺炎爆發後, 政府就經濟發展面提出許多紓困方案。某立委於個人社群網站上提及, 投保國民年金弱勢者, 例如: 失業者、轉換工作者、家庭主婦等..., 對疫情影響最沒有抵禦能力, 應被納入政府紓困方案。另因此疫情, 於待業期間出現經濟不穩定之況, 並無法如期繳納國民年金保費, 勞工保險局指出可日後補繳, 或採分期繳納, 若為家庭總收入較低者, 還可申請國保費補助。政府為完整社會安全制度, 自 101 年起建立社福津貼調整機制, 明定每 4 年參照消費者物價指數(CPI)成長率, 調整各項主要社福津貼給付額度。依行政院主計總處 109 年 1 月 8 日提供之數據, 108 年消費者物價指數較 104 年成長 3.97%, 爰衛生福利部及各直轄市政府自今(109)年 1 月 1 日起, 調增低收入戶生活補助、國民年金等各項津貼及給付, 每人每月依領取項目不同, 調增金額在新臺幣 78 元至 489 元不等, 估計逾有 282 萬餘人受惠。國民年金另就低收入戶設定每月不用繳保費之政策, 其中家庭總收入未達當年度最低生活費 1.5 倍, 每月只須繳 494 元等。

→ 新聞來源:「投保國民年金應被納入政府紓困方案」, 109.5.7 取自「NEWTALK」: <https://newtalk.tw/news/view/2020-05-04/401558>

→ 新聞來源:「繳不起國民年金保費? 3 方法不錯失回本機會」, 109.5.7 取自「聯合新聞網」: <https://udn.com/news/story/7238/4193470>

31. () 透過文述「投保國民年金弱勢者, 例如: 失業者、轉換工作者、家庭主婦等...」可知, 家庭主婦、經濟條件欠佳者都將列入國民年金的受保範圍。試就下列敘述判斷, 哪一選項亦需繳納國民年金?
- (A) 23 歲且甫加入國軍志願役行列的小明
 - (B) 40 歲逢遇經濟大蕭條, 中年失業的「阿曼達」
 - (C) 已加入農保的小華, 隸屬於非勞動力者之範疇
 - (D) 22 歲大學剛畢業的小優, 正處於畢業即失業的狀況
32. () 透過文述「...另因此疫情, 於待業期間出現經濟不穩定之況, 並無法如期繳納國民年金保費, 勞工保險局指出可日後補繳, 或採分期繳納, 若為家庭總收入較低者, 還可申請國保費補助」及「...調增低收入戶生活補助、國民年金等各項津貼及給付, 每人每月依領取項目不同, 調增金額在新臺幣 78 元至 489 元不等, 估計逾有 282 萬餘人受惠」可知, 我國社會安全制度已造福許多民眾。請結合題述與下列選項, 判斷下列概念哪一正確?(A) 國民年金人人皆須繳費方得享有保障及福利 (B) 國民年金僅保障待業及經濟狀況不穩定之勞工 (C) 國民年金之性質屬強制保險, 可達全民納保之成效 (D) 國民年金屬社會津貼之範疇, 可保障弱勢者基本生活無虞

(六)、(甲)電影「白宮第一管家」(The Butler) 描述男主角西索 (Cecil) 以白宮管家身份隨侍在政治權力核心身旁, 長達 34 年的時間, 歷經七任總統。期間, 他見證了越戰爆發、水門案竊聽事件、總統約翰·甘迺迪(John Fitzgerald Kennedy) 遭人暗殺與黑人民權運動興起。(乙)西索 (Cecil) 是個 1920 年代來自於鄉下棉花田的黑人窮小子, 一個備受種族歧視欺壓、社會最底層的小人物, 藉由服侍白宮政治峰層養家活口。(丙)電影某面段呈現西索 (Cecil) 順從並服侍著白人權貴, 對比西索 (Cecil) 的大兒子以憤怒的面目, 以參加社會運動爭取平權...

→ 資料來源:「白宮第一管家」, 109.5.12 取自「雅虎奇摩電影」: https://movies.yahoo.com.tw/movieinfo_main.html/id=5148

33. () 請綜合底線畫記處「甲」與下列選項說明, 判斷哪一為是?
- (A) 透過底線數字說明可知, 美國總統任期一任五年, 較我國總統任期為長
 - (B) 在我國, 白宮領導者需藉由人民連署或政黨推薦方得獲參選資格
 - (C) 白宮管家所侍奉者係由人民透過直接選舉產生, 採單一選區選舉制度
 - (D) 管家所服侍之對象, 其與我國總統選舉資格相同, 皆 30 歲方得成為候選人
34. () 請綜合底線畫記處「乙」與下列選項說明, 判斷哪一組合為是?
- 甲、西索 (Cecil) 所處時代充斥著因權力壓迫而產生的文化位階現象
 - 乙、西索 (Cecil) 因具我族中心主義而服侍白宮政治峰層養家活口
 - 丙、西索 (Cecil) 所處的社會氛圍與欠缺多元文化主義觀念相關
 - 丁、欲破除西索 (Cecil) 所處環境之況, 需藉由認知共存後, 再明白何謂差異
- (A) 甲丙 (B) 甲丁 (C) 乙丙 (D) 乙丁
35. () 請綜合底線畫記處「丙」與下列選項說明, 判斷哪一為是?
- (A) 西索 (Cecil) 的大兒子藉由最激烈的手法參與政治, 由上而下的表達訴求
 - (B) 西索 (Cecil) 大兒子參與社會運動爭取平權, 該手段亦可稱之為「遊說」
 - (C) 凡參與社會運動者皆須參與壓力團體, 藉此影響政治決策及實現己身目標
 - (D) 西索 (Cecil) 大兒子除可藉由上述方式參與政治外, 影響輿論亦可為之

(七)、2019年6月中,《公民投票法》再修正!(甲)立法院三讀通過公投法修法,公投時間與大選脫鉤,公投日定於八月第四個星期六,自2021年起,每二年舉行一次,且公投日為放假日。回顧過往,(乙)公投法實施於2004年,分為全國性及地方性公民投票,通過門檻極高,被外界譏為「鳥籠公投」。時至2017年底,公投法通過修法,從提案人人數、連署人人數、公投通過票數、公投年齡等多方面降低,進而影響2018年底該次公民投票成為中華民國歷史全國性公民投票案數最多的一次,也是首次有議案通過(相關提案及通過與否統計見右表)。

第7案 反空汙 通過	第8案 反深澳 電廠 通過	第9案 反核食 通過	第10案 婚姻限 1男1女 通過	第11案 高中前不實施 同志教育 通過
第12案 另立 同婚專法 通過	第13案 東奧正名 不通過	第14案 《民法》 保障同性婚姻 不通過	第15案 國中小實施 性平教育 不通過	第16案 以核賡綠 通過

- 新聞來源:「公投法修法三讀通過!2021年起公投日與大選脫鉤」,109.5.17 取自「聯合新聞網」:<https://udn.com/news/story/120565/3877255>
- 新聞來源:「為什麼今年公投特別多?公投過了會怎樣?」,109.5.17 取自「天下雜誌」:<https://www.cw.com.tw/article/article.action?id=5093026>
- 資料來源:「公民投票」,109.5.17 取自「維基百科」:
https://zh.wikipedia.org/wiki/%E5%85%AC%E6%B0%91%E6%8A%95%E7%A5%A8#_%E4%B8%AD%E8%8F%AF%E6%B0%91%E5%9C%8B

36. () 請就文述(甲)判斷,下列選項說明哪一為是?
 (A) 文中所述之大選為總統及縣市首長兩大選舉 (B) 公投時間訂於假日,主可實現人民之創制及複決權
 (C) 修法主在實踐《公民投票法》所保障的人民參政權 (D) 每兩年舉辦一次公投,說明我國採有限政府之型態
37. () 請就文述(乙)判斷,下列選項說明哪一為是?
 (A) 回顧過往全國性公投皆無法成案,主與公投僅得探討人事任用相關
 (B) 過往公投夭折之因通過門檻為「投票率過半」及「有效票過半同意」
 (C) 我國迄今尚未舉辦過地方性公投,故僅有全國性公投有高門檻之問題
 (D) 現今全國性公投提案人數需達最近一次總統、副總統選舉人總數的「5%」
38. () 請結合底線劃記處(乙)與下列選項說明,判斷哪一為是?
 (A) 公投通過率達70%,可與我國降低公投法定年齡相關 (B) 公投第13~15案因未通過,故未來均不可再重新提案
 (C) 本次公投10個案子皆屬於全國性法律的創制及複決 (D) 為實現主權在民,「公民連署」為公投唯一提案方式

(八)、鎮高國舉行眾議院選舉,參選的政黨先提出優秀人才名單供選民參考,選民則將選票投給屬意的政黨以產生當選者,下表是各黨選舉後的得票數,請就表格回答以下問題:

甲	乙	丙	丁	戊	己
4200	3600	2200	250	400	350

39. () 鎮高國眾議院選舉採取何種制度?
 (A) 複數選區相對多數制 (B) 混合投票聯立制 (C) 混合投票並立制 (D) 比例代表制
40. () 若該國眾議院席次150席,分配席次的門檻與我國相同,各黨分配的席次何者正確?
 (A) 甲:57席 (B) 乙:36席 (C) 丙:33席 (D) 戊:6席

● 本試題結束!提醒同學別忘了檢查及畫卡(班級、姓名、座號) ●

桃園市立平鎮高級中學 108學年第2學期 月考二一年級不限組別公民與社會[20200527100020C00071] 全體考生 試題分析表

題號	題型	題分	標準答案	全體			218			高分組			59			低分組			59			全體答對率	難易指數	鑑別指數
				A	B	C	D	E	未	A	B	C	D	E	未	A	B	C	D	E	未			
1	單選題	2.5	D	4	0	52	162	0	0	2	0	9	48	0	0	0	0	22	37	0	0	74.31%	0.720	0.186
2	單選題	2.5	D	8	7	92	111	0	0	1	0	21	37	0	0	4	4	27	24	0	0	50.92%	0.517	0.220
3	單選題	2.5	B	42	120	43	12	0	1	9	38	10	2	0	0	15	27	10	6	0	1	55.05%	0.551	0.186
4	單選題	2.5	D	44	38	42	94	0	0	7	9	4	39	0	0	16	15	15	13	0	0	43.12%	0.441	0.441
5	單選題	2.5	A	125	35	44	13	0	1	49	5	5	0	0	0	19	14	21	4	0	1	57.34%	0.576	0.508
6	單選題	2.5	C	35	89	72	22	0	0	4	17	35	3	0	0	20	24	8	7	0	0	33.03%	0.364	0.458
7	單選題	2.5	D	42	19	19	136	0	2	13	5	3	37	0	1	12	4	8	35	0	0	62.39%	0.610	0.034
8	單選題	2.5	D	76	8	10	123	0	1	20	0	1	38	0	0	26	2	4	26	0	1	56.42%	0.542	0.203
9	單選題	2.5	D	48	104	32	34	0	0	14	21	8	16	0	0	18	30	6	5	0	0	15.60%	0.178	0.186
10	單選題	2.5	B	42	124	35	16	0	1	5	48	4	2	0	0	18	20	16	4	0	1	56.88%	0.576	0.475
11	單選題	2.5	A	106	19	48	45	0	0	34	5	8	12	0	0	20	6	19	14	0	0	48.62%	0.458	0.237
12	單選題	2.5	C	70	20	119	9	0	0	11	4	42	2	0	0	23	7	25	4	0	0	54.59%	0.568	0.288
13	單選題	2.5	D	12	49	46	110	0	1	1	9	12	37	0	0	6	18	19	16	0	0	50.46%	0.449	0.356
14	單選題	2.5	C	49	37	127	4	0	1	5	9	44	0	0	1	22	11	23	3	0	0	58.26%	0.568	0.356
15	單選題	2.5	B	22	130	8	58	0	0	4	50	1	4	0	0	12	23	0	24	0	0	59.63%	0.619	0.458
16	單選題	2.5	D	10	7	4	197	0	0	1	0	0	58	0	0	6	3	4	46	0	0	90.37%	0.881	0.203
17	單選題	2.5	B	58	148	6	6	0	0	14	45	0	0	0	0	22	28	4	5	0	0	67.89%	0.619	0.288
18	單選題	2.5	D	15	27	17	159	0	0	1	8	2	48	0	0	7	10	6	36	0	0	72.94%	0.712	0.203
19	單選題	2.5	C	8	59	24	127	0	0	2	11	6	40	0	0	4	18	5	32	0	0	11.01%	0.093	0.017
20	單選題	2.5	C	117	61	18	22	0	1	30	17	5	7	0	0	29	17	7	5	0	1	8.26%	0.102	-0.034
21	單選題	2.5	A	93	93	12	20	0	1	28	26	2	3	0	0	22	26	4	7	0	1	42.20%	0.415	0.119
22	單選題	2.5	C	93	12	61	53	0	0	19	1	22	17	0	0	27	7	14	11	0	0	27.52%	0.305	0.136
23	單選題	2.5	B	67	74	58	19	0	0	15	27	14	3	0	0	23	13	13	10	0	0	33.94%	0.339	0.237
24	單選題	2.5	D	75	2	61	80	0	0	20	0	14	25	0	0	22	1	15	21	0	0	36.70%	0.390	0.068
25	單選題	2.5	C	11	12	135	60	0	0	1	0	44	14	0	0	6	11	27	15	0	0	61.93%	0.602	0.288
26	單選題	2.5	C	38	41	25	114	0	0	9	8	11	31	0	0	13	18	4	24	0	0	11.47%	0.127	0.119
27	單選題	2.5	B	57	103	22	36	0	0	8	40	8	3	0	0	21	19	8	11	0	0	47.25%	0.500	0.356
28	單選題	2.5	A	135	40	33	10	0	0	45	9	3	2	0	0	26	12	16	5	0	0	61.93%	0.602	0.322
29	單選題	2.5	B	11	135	7	65	0	0	1	49	1	8	0	0	5	32	5	17	0	0	61.93%	0.686	0.288
30	單選題	2.5	D	5	5	75	132	0	1	0	1	10	48	0	0	4	2	29	23	0	1	60.55%	0.602	0.424
31	單選題	2.5	B	21	161	22	13	0	1	4	53	1	1	0	0	8	27	16	7	0	1	73.85%	0.678	0.441
32	單選題	2.5	C	55	39	86	38	0	0	11	11	32	5	0	0	13	15	16	15	0	0	39.45%	0.407	0.271
33	單選題	2.5	B	82	77	58	1	0	0	22	29	8	0	0	0	27	10	21	1	0	0	35.32%	0.331	0.322
34	單選題	2.5	A	171	30	11	5	0	1	56	2	1	0	0	0	40	8	6	4	0	1	78.44%	0.814	0.271
35	單選題	2.5	D	9	58	20	130	0	1	0	13	5	41	0	0	7	14	10	28	0	0	59.63%	0.585	0.220
36	單選題	2.5	B	40	44	124	8	0	2	12	15	30	2	0	0	7	10	38	2	0	2	20.18%	0.212	0.085
37	單選題	2.5	B	12	160	19	25	0	2	1	51	1	6	0	0	8	32	9	8	0	2	73.39%	0.703	0.322
38	單選題	2.5	A	97	13	81	23	0	4	37	2	17	2	0	1	17	7	22	10	0	3	44.50%	0.458	0.339
39	單選題	2.5	D	25	22	37	130	0	4	2	6	3	48	0	0	10	7	19	19	0	4	59.63%	0.568	0.492
40	單選題	2.5	C	77	49	62	24	0	6	21	13	18	5	0	2	24	13	12	7	0	3	28.44%	0.254	0.102

選填題或五選項以上各題以 1(或A) 表示作答正確, 2(或B) 表示作答錯誤