

適用班級：高二

考試範圍：第三冊東南亞、南亞、澳紐

注意事項：基本資料及答案卡劃記錯誤扣總分五分

填答方式：答案卡

一、單一選擇題(38 小題，每格 2 分，共 76 分)

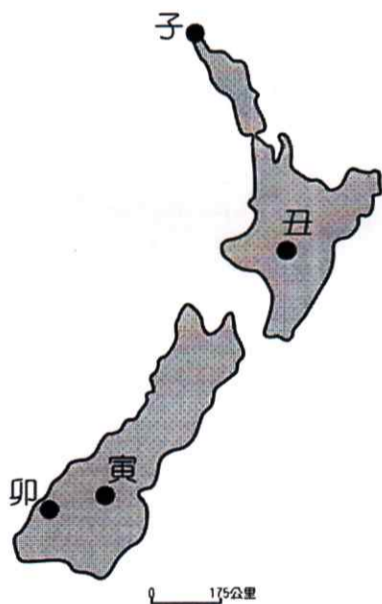
1. 恆河及印度河皆發源自北方的喜馬拉雅山，然而受自然環境的影響，兩條河川所形成的特色各不相同。表中列出有關這兩條河川的敘述，何者正確？

| | (A)注入海域 | (B)河川水量 | (C)歷史發展 | (D)糧食作物 |
|-----|---------|---------|---------|---------|
| 恆河 | 阿拉伯海 | 下游易成水患 | 佛教聖河 | 小麥為主 |
| 印度河 | 孟加拉灣 | 下游氣候乾旱 | 古文化發源地區 | 稻米為主 |

2. 茶葉同為印度與斯里蘭卡兩國重要的外銷產品，下列何者為兩國的茶葉生產的共同特性？ (A)均以紅茶為主要外銷產品 (B)產地均分布在平原地區 (C)產地的宗教信仰多以耆那教為主 (D)產地氣候均為熱帶雨林氣候

3. 2015 年 9 月新加坡、馬來西亞南部及中南半島都受到嚴重霾害影響，跨國霾害濃煙來自印尼蘇門答臘和加里曼丹等地進行非法「燒芭」引發的山林大火。由上文判斷，霾害發生時的盛行風向最可能是 (A)東北風 (B)東南風 (C)西北風 (D)西南風

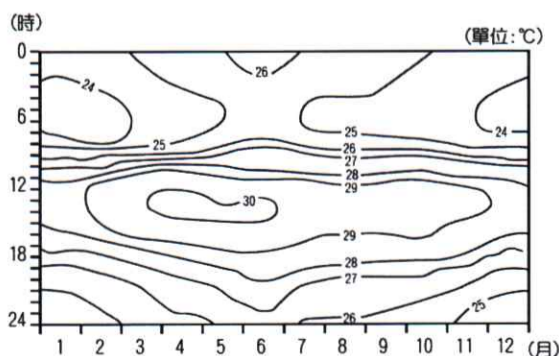
4. 紐西蘭有「活的地形教室」的稱號，境內可見許多奇偉壯麗的地形景觀，關於圖中地形景觀的分布地點，下列哪三項說明較合理？(甲)可於丑地見到火口湖；(乙)可於卯地觀賞壯麗的峽灣；(丙)可於子地沿岸珊瑚礁海域浮潛；(丁)可於寅地觀賞寧靜狹長的槽湖。



(A)甲乙丙 (B)甲乙丁 (C)甲丙丁 (D)乙丙丁

5. 東南亞地區發展熱帶栽培業，早期主要種植橡膠，現在則改種油棕，造成如此轉變的主要原因為何？ (A)工資上漲 (B)技術層次提升 (C)基於比較利益原則 (D)土地成本取得增加

6. 圖為某地的氣溫等值線示意圖。該地最有可能是：



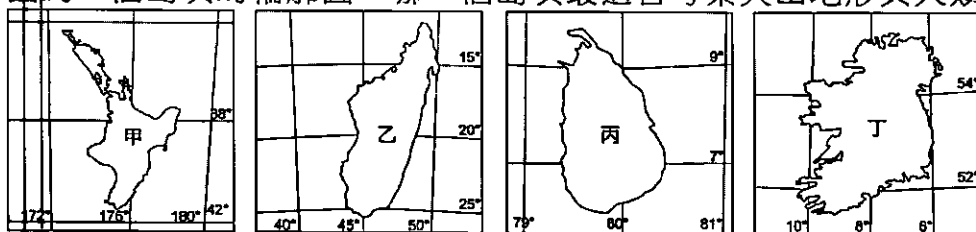
(A)邦加羅爾 (B)清邁 (C)雪梨 (D)新加坡

7. 南亞大部分地區多屬於熱帶季風氣候，一年可概分為雨季、涼季與熱季，導致熱季時乾熱難耐的主因為何？(甲)季風轉換；(乙)風力微弱；(丙)太陽直射區域北移；(丁)太陽直射區域南移。 (A)甲乙丙 (B)甲乙丁 (C)甲丙丁 (D)乙丙丁

8. 塔爾沙漠是印度半島上最乾燥的地區，下列哪些是塔爾沙漠形成的主要原因？(甲)沿海有涼流流經；(乙)背東北信風；(丙)位於西南季風的行徑末端；(丁)終年副熱帶高壓籠罩。(A)甲乙 (B)甲丙 (C)乙丙 (D)丙丁
9. 頻繁的天災、長期的外力入侵，以及階級森嚴的社會制度等，導致印度人民心靈常須祈求神明庇佑，印度因此有「宗教大拼盤」之稱。除了約八成的印度教信徒，印度目前第二多信仰人口的宗教為下列何者？(A)佛教 (B)基督教 (C)耆那教 (D)伊斯蘭教
10. 圖為澳洲國徽，位居左右位置為澳洲特有種袋鼠與鸕鶿，以象徵該國具有多種特有珍奇原生物種。造成此現象的原因，主要是該國具有下列哪項特色？



- (A)地廣人稀，人類活動干擾少 (B)遠離其他陸塊，物種獨立演化 (C)原住民視袋鼠與鸕鶿為神靈 (D)境內有熱帶雨林氣候，生物多樣性高
11. 印度大平原為南亞人口聚集的精華區，下列有關該地的敘述正確者為何？(A)印度大平原原為歐亞和印澳板塊交接帶的海溝 (B)平原西北部有熔岩風化而成的黑色土壤，適合棉花種植 (C)西側的恆河平原為印度文明的發源地 (D)當地富含煤、鐵、磷等礦產，成為工業發展的原料
12. 在十九世紀時，遠在南半球的澳洲也成為吸引華人移入的地區之一，就推拉理論而言，澳洲主要具備下列何種拉力？(A)當地氣候條件溫潤適宜居住 (B)地廣人稀而且文化相似性高 (C)開採礦產提供大量工作機會 (D)英國政府提供移民開發資金
13. 圖為四個島嶼的輪廓圖。哪一個島嶼最適合考察火山地形與人類活動的關係？

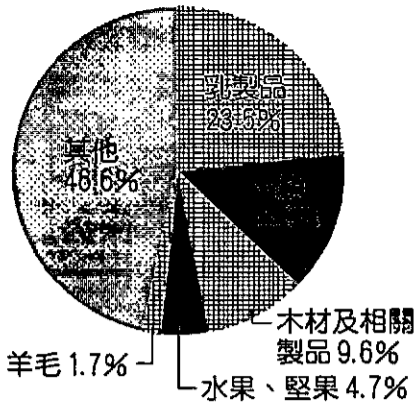


- (A)甲 (B)乙 (C)丙 (D)丁
14. 煤礦是澳洲重要的出口產品，主要分布在下列哪個地形區？(A)西部高原 (B)大分水嶺 (C)中部低地平原 (D)東部沿海平原
15. 以下對於東南亞地區位置的敘述，哪二項正確？(甲)南以印尼諸島聯結亞洲、澳洲；(乙)西以麻六甲海峽溝通太平、印度兩大洋；(丙)中南半島五國皆為中國的陸地鄰國；(丁)除印尼跨赤道兩側外，其他國家皆位在北半球。(A)甲乙 (B)甲丙 (C)乙丁 (D)丙丁
16. 論南向或新南向政策，南僑集團是臺灣唯一在東協內需版圖布局完整的廠商。南僑將整個東南亞市場分成三級：第一級是菲、星、馬、泰和汶萊；第二級為印尼、越南；第三級是緬甸、柬埔寨和寮國，依序進攻。」南僑集團將東南亞市場分為三級的主要考量因素為何？(A)與泰國曼谷總部的距離 (B)殖民母國不同，飲食習慣有差異 (C)人均 GDP 不同，消費能力高低有別 (D)因宗教導致飲食習慣差異，故將相同宗教區規劃成同一區
17. 南海的許多珊瑚礁島嶼，在主權歸屬問題上時有爭議，如臺灣、中國、汶萊、馬來西亞、菲律賓和越南等國家，都宣稱對南海諸島或部分島嶼擁有主權。各國在這片海域爭搶的利益主要是下列何者？(甲)運輸；(乙)觀光；(丙)漁業；(丁)能源；(戊)農業。(A)甲乙丙 (B)乙丁戊 (C)甲丙丁 (D)丙丁戊
18. 紐約時報 2011 年 1 月 31 日報導：「美國新的情報評估指出，巴基斯坦自美國總統歐巴馬上任後，持續擴展核子武器及其生產核武物料的能力，巴國核武實力已直追全球第五大核武強權英國。一名美國外交官表示，巴國處心積慮發展核武主要的目的是嚇阻宿敵印度。」造成印巴交惡的主因包括下列哪三項？(甲)宗教信仰的差異；(乙)印度河流域水權的紛爭；(丙)爭奪喀什米爾的主導權；(丁)搶占全球軟體國際分工體系的市場。(A)甲乙丙 (B)甲乙丁 (C)甲丙丁 (D)乙丙丁
19. 圖為 Google 於某聯邦民主共和國紀念日時所繪製的首頁圖案，以當地色彩濃厚的景觀做為設計元素，包含山脈、傳統宗教的五色旗，請問該國最有可能為何？



- (A)印度 (B)不丹 (C)尼泊爾 (D)巴基斯坦


20. 圖最可能是下列哪個國家 2015 年的出口商品結構比例圖？



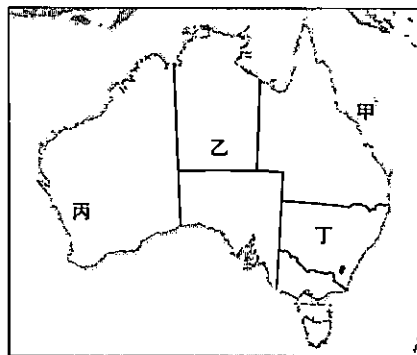
(A)澳洲 (B)寮國 (C)尼泊爾 (D)紐西蘭

21. 牛肉麵是臺灣的道地小吃，但目前臺灣的牛肉主要依靠國外進口。其中澳洲牛肉的 28%，以及紐西蘭牛肉的 18%，就快占了半數（2017 年統計）。但在下列哪些科技發展以前，出口牛肉對澳洲和紐西蘭來說，根本是一個不可能的任務？(甲)屠宰設施；(乙)冷凍設備；(丙)品種改良；(丁)船隻技術。 (A)甲乙 (B)甲丙 (C)乙丁 (D)丙丁
22. 印度電影《美味情書》訴說了兩個不相識的都市人透過一個餐盒連繫的愛情故事。導演透過印度的「代送愛心便當」服務作為題材，串起男女主角之間的連結。代送便當服務在印度被稱為「達巴瓦拉」，始於英屬印度時期。許多來到殖民地的英國人不喜歡本地食物，因此請人將午餐直接送至工作地點。英國的殖民不只為印度帶來了這項特有的地方商業，還帶來了什麼影響？(甲)使印度成為全球最重要的紅茶產地；(乙)完善的基礎建設；(丙)基督教成為印度第三大宗教；(丁)英語成為印度第二大語言；(戊)設立種姓制度區分人的等級。 (A)甲乙丙 (B)乙丁戊 (C)甲丙丁 (D)甲丁戊
23. 南洋群島受板塊推擠影響，陸地極為破碎，如菲律賓擁有 7,000 多個島嶼，印尼更超過 13,000 個以上，而菲國東緣及印國南緣為板塊接觸帶，故多火山、地震，有許多新褶曲山聳峙其間。請問 2004 年 12 月 26 日所發生的南亞大海嘯，震央在亞齊省西岸 160km 處，是哪兩個板塊碰撞所造成的重大災害？ (A)太平洋板塊、歐亞板塊 (B)歐亞板塊、印澳板塊 (C)印澳板塊、菲律賓海板塊 (D)歐亞板塊、菲律賓海板塊
24. 東南亞地區的自然資源相當豐富，主要包括下列哪三項？(甲)擁有全球面積最大的熱帶雨林；(乙)南洋群島多國盛產石油；(丙)生物多樣性高；(丁)是世界重要硬木與熱帶經濟作物供應地；(戊)屬古老結晶岩，金屬礦藏豐富。 (A)甲乙丙 (B)乙丙丁 (C)丙丁戊 (D)甲丁戊
25. 由於多元文化的影響，印度宗教色彩濃厚，下列有關印度各宗教的敘述，何者正確？ (A)印度教在當地最為盛行，為雅利安人所創建的一神信仰 (B)佛教發源自印度，因而成為當地第二大宗教 (C)錫克教強調人人平等，主要分布於印度西北旁遮普地區 (D)伊斯蘭教由殖民者傳入，盛行於沿海和東北部山區
26. 近年來印尼森林消失的速度飛快，主要與下列哪二項開發行為有關？(甲)開墾成為肉牛牧場；(乙)當作柴薪燃料；(丙)商業性木材輸出；(丁)轉變種植熱帶經濟作物。 (A)甲乙 (B)丙丁 (C)甲丙 (D)乙丁
27. 東南亞獨特的地理位置及自然環境造就出其豐富的文化樣貌，請問下列哪二項文化景觀與華人有關？(甲)越式長棍麵包；(乙)泰式綠咖哩；(丙)娘惹糕；(丁)越南河內文廟；(戊)吳哥窟；(己)印尼班達亞齊大清真寺。 (A)甲乙 (B)乙己 (C)丙丁 (D)丁戊
28. 「印度是世界十大礦藏國之一。有煤、原油、天然氣等能源礦產，鐵、銅、鋅、金、鎂等多種金屬礦產，及雲母、花崗石、大理石、石灰石等數十種非金屬礦產與各種稀有金屬礦產。」引文所述內容和印度的哪項地理環境特徵關係最密切？ (A)喜馬拉雅山為新褶曲山地 (B)南部德干高原為古老結晶岩層 (C)印度大平原為河流沖積平原 (D)印度半島氣候分成雨、涼、熱 3 季
29. 某殖民國家在殖民地推行「強迫種植制度」，農民被迫將良田種植咖啡、甘蔗、茶、菸草、胡椒等經濟作物，並規定：總耕地面積至少要有五分之一種植經濟作物。殖民政府將收穫全部運往歐洲銷售，賺取巨大財富。直到二十世紀中期，這個殖民地經由武裝抗爭才取得獨立。請問：該殖民地獨立後，具有下列哪項區域特色？ (A)居民的宗教信仰種類繁多 (B)國家經濟泡沫化日趨嚴重 (C)伊波拉病毒感染頻繁爆發 (D)人口成長進入低穩定階段
30. 澳洲地形分三區，若沿 30°S 繪製剖面圖，則應最接近下列何種型態？
- (A) (B) (C) (D)
31. 出口殖民物產，是過去東南亞國家經濟發展的重要基礎，然而這樣的發展模式卻也隱藏下列哪二種問題？(甲)對各國造成生態危機的隱憂；(乙)糧食短缺問題嚴重時常造成饑荒；(丙)至今仍未建立各國工業發展基礎；(丁)過度依賴國際市場，經濟表現波動幅度大。 (A)甲乙 (B)甲丁 (C)乙丙 (D)丙丁
32. 「印度這個國家在產業發展上呈現了二元性的矛盾現象，例如今日政府積極招商、引進外資的同時，國內的基礎建設品質卻相當惡劣，導致政府選擇以『軟實力』為主要的產業發展主軸。」請問印度國內基礎建設品質惡劣，最可能造成下列何種影響？ (A)重工業發展受限 (B)休閒農業的產值無法有效提升 (C)農產加工業不振 (D)服務業商品圈過小

33. 不丹運用其自然環境優勢發展電力產業，甚至還能夠輸出至鄰國，下列哪一個國家具有相似的環境優勢，可生產相同電力輸出至其他國家？ (A)孟加拉的太陽能發電 (B)尼泊爾的水力發電 (C)馬爾地夫的潮汐發電 (D)巴基斯坦的地熱發電
34. 印度擁有眾多善於以流利英語進行溝通的科技人才，主因與下列何者有關？(甲)都市化程度高，英語流通速度快；(乙)國內缺乏主要的強勢語系；(丙)境內語系眾多且複雜；(丁)英國殖民時期的影響。 (A)甲乙丙 (B)甲乙丁 (C)甲丙丁 (D)乙丙丁
35. 2019年8月，臺灣農委會與印尼農業部簽署「印尼青農在臺實習計畫協議」，開啟兩國農業技術交流的序幕。農委會表示在遴選實習場域作業上，為了確保印尼青農的信仰，以及生產環境的安全性，簽署實習計畫的農場以蔬果農場為主，畜牧與養殖部分則僅通過蛋雞場類型。請問：會有這樣的考量主要在於印尼以哪一種信仰為主？ (A)佛教 (B)基督宗教 (C)印度教 (D)伊斯蘭教
36. 亞太經合會 (Asia-Pacific Economic Cooperation) 成立於 1989 年，於同年 11 月，澳洲、汶萊、加拿大、印尼、日本、韓國、馬來西亞、紐西蘭、菲律賓、新加坡、泰國、美國等 12 個創始會員國，舉行首屆「亞洲太平洋經濟合作部長級會議」。1991 年 11 月，第三屆部長級會議在首爾舉行並通過《漢城宣言》，正式確定亞太經合會的宗旨、工作範圍、運作方式、參與形式。請問 APEC 最一開始的主導國家是下列何者？ (A)韓國 (B)美國 (C)澳洲 (D)紐西蘭
37. 特務泰瑞收到一封杜芬舒斯博士寄來的挑戰信，裡面只有兩張照片，一張是飛哥和小佛被捉走的樣子，另一張則是如圖(一)的地形景觀卡塔丘塔。請問泰瑞最可能要前往圖(二)何處救人？

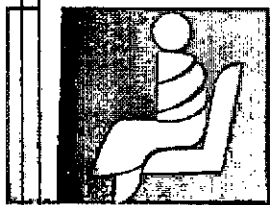


圖(一)



圖(二)

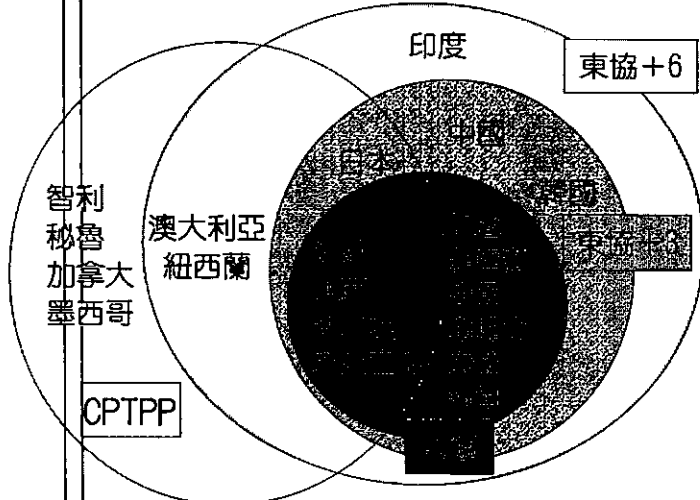
- (A)甲 (B)乙 (C)丙 (D)丁
38. 悠悠到東南亞某國自助旅行，在當地的大眾運輸工具上看到如圖的標示，表示應讓座給僧侶以示尊重，悠悠了解此與該國的社會文化有關。請問悠悠在哪一國家旅遊？



- (A)泰國 (B)汶萊 (C)新加坡 (D)東帝汶

二、題組題(16 小題，每格 1.5 分，共 24 分)

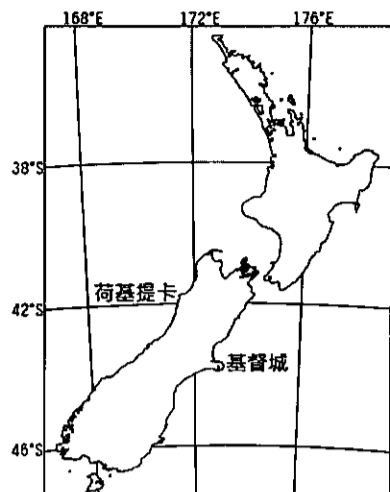
※因應貿易自由化與區域經濟整合的潮流，許多國家透過參與區域經貿組織來維持競爭優勢。亞洲地區的經貿整合，主要是在東協的主導下發展「區域全面經濟夥伴協定」(RCEP)，與「跨太平洋夥伴全面進步協定」(CPTPP) 兩者成員國有部分重疊，頗有競爭的意味。圖為東協、東亞自由貿易區(東協+3)、RCEP(東協+6)及 CPTPP 成員國比較圖。請問：



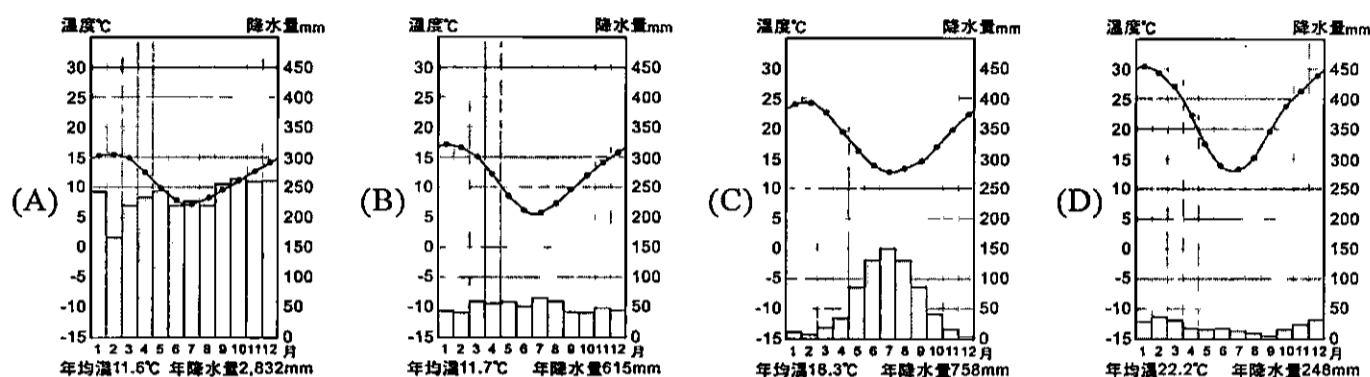
39. 東協由原來 10 國，不斷擴大經濟貿易合作對象，進展至今朝向 RCEP 16 個成員國的組織邁進，主要與下列哪一因素有關？ (A)對外交通不便，基礎設施缺乏 (B)缺乏原物料供應，生產成本高 (C)人口成長率低，總體經濟規模不大 (D)原東協 10 國產業互補性低，區域內貿易成長有限

40. 參考上圖 CPTPP 與 RCEP 成員國組成，相較於 CPTPP，RCEP 具有下列哪些優勢？(甲)礦產資源多；(乙)市場規模更大；(丙)勞力素質更高；(丁)成員國地理鄰近性更高。正確的是： (A)甲乙 (B)甲丙 (C)乙丁 (D)丙丁

※圖為紐西蘭南島基督城的位置，請問：



41. 下列哪一個氣候圖與基督城的氣候最吻合？



42. 基督城的降水量特徵，主要受到哪一項因素影響所致？ (A)位於迎風坡，降水豐沛 (B)位於背風坡，降水較少 (C)受行星風系南北移動影響，夏乾冬雨 (D)地處高緯，全年少降水

※西元前四世紀，位於印度西南岸的喀拉拉 (Kerala)，即因胡椒、檀香木、象牙等各式各樣的豐饒物產吸引大批腓尼基、羅馬、阿拉伯及中國人橫渡印度洋、中國及東南亞海域，前來貿易，逐漸闢出了一條海上航線。但當時船隻沒有動力，因此必須是順著季風航行，且受到航海設備的限制，通常到了印度即不再前進。而 2014 年印度提出的季風計畫，主要聚焦於印度洋的季風現象及其形成的文化活動。如印度洋周遭的商人就利用印度洋季風，展開貿易與宗教活動，印度希望可以藉由季風計畫復興環印度洋古代海上航路和環印度洋地區國家間的文化聯繫，推動沿岸國家集體申報世界文化遺產等項目，塑造環印度洋國家的文化共識，進而擴大到印度洋周邊國家的貿易合作。請問：

43. 早期阿拉伯的商人憑藉季風來往西亞地區與印度進行貿易，阿拉伯商人應該在何時出發，利用季風順風前往印度貿易？ (A)一月／東北季風 (B)四月／東南季風 (C)七月／西南季風 (D)十月／西北季風

44. 下列哪些文化現象，可以作為印度洋貿易活動興盛的證據？ (A)澳洲的原住民在洞穴的岩壁上留下壁畫 (B)阿拉伯數字藉由阿拉伯人貿易從印度傳入歐洲 (C)中國的造紙術向西傳播，間接促使文藝復興 (D)雅利安人由西亞移入南亞地區，並帶來印度教

※近來許多國際知名品牌，包括微軟、佳能等科技大廠紛紛退出泰國，將產能移往泰國以外的東南亞國家設廠生產。請問：

45. 這些科技大廠停止泰國製造廠的生產活動，其主要的因素可能為何？(甲)勞工工資上漲；(乙)製造技術過時；(丙)種族衝突不斷；(丁)工業慣性仍在。 (A)甲乙 (B)甲丁 (C)乙丙 (D)丙丁

46. 這些科技大廠紛紛退出泰國，將產能移往其它東南亞國家，其中又以工資低廉、勞工勤奮的國家為首選，最可能為以下何者？ (A)印尼 (B)越南 (C)新加坡 (D)馬來西亞

※南亞區域合作聯盟志在打造南亞自由貿易區，讓南亞各國相互減免關稅，同時擴大規模吸引外資，成員國包含孟加拉、不丹、印度、馬爾地夫、尼泊爾及斯里蘭卡等七國。近年來，臺灣紡織業因生產成本提高，積極外移至其他地區，而南亞諸國十分適合紡織業加工，像是尼泊爾與孟加拉皆具有不同的原料區位優勢，儘管尼泊爾與不丹屬於內陸國，但是與印度和孟加拉共同簽署海陸轉運協定，解決尼泊爾與不丹運輸不便的困境。請問：

47. 尼泊爾與孟加拉於紡織加工業上，具有不同的原料區位優勢，下列有關於此兩國的區位優勢配對，何者最適當？ (A)尼泊爾：棉花；孟加拉：羊毛 (B)尼泊爾：黃麻；孟加拉：棉花 (C)尼泊爾：羊毛；孟加拉：黃麻 (D)尼泊爾：棉花；孟加拉：黃麻

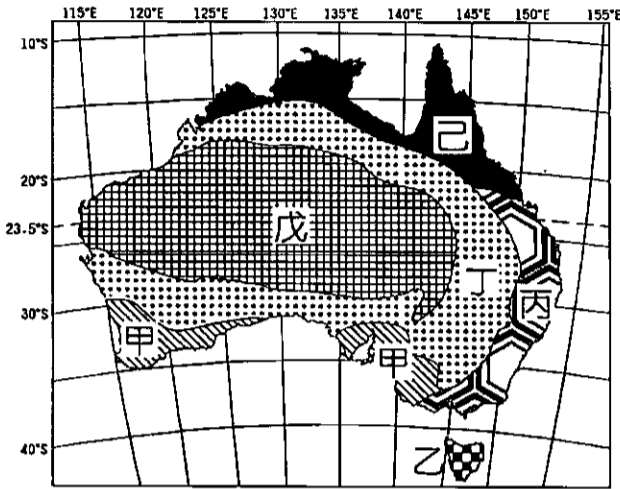
48. 臺灣某廠商欲前往南亞地區設廠投資紡織廠，其對各國的自然環境、社會現況等進行評估，下列針對哪個國家的評論資料最符合事實？ (A) 斯里蘭卡：盛產棉花，適合生產棉布外銷他國，再進行加工 (B) 尼泊爾：以海島度假為名，適合潛水機能服飾廠商在此設廠 (C) 不丹：勞力資源充沛，薪資便宜，適合各式服裝加工廠在此 (D) 尼泊爾：登山觀光產業發達，適合登山機能服飾業在此設廠

※ 東南亞是海外華人分布最多的區域，華人在此也發揮相當大的影響力。請問：

49. 東南亞之所以成為最多華人分布的區域，與下列哪一因素關係最密切？ (A) 兩者位置相近 (B) 東南亞地形平坦多耕地 (C) 當地宗教信仰與華人一致 (D) 東南亞地區全區屬季風氣候區

50. 華人在當地所發揮的影響力，主要表現在下列哪幾項？(甲)同時擁有經濟與政治實力；(乙)初期為東南亞提供充足勞力；(丙)新加坡為華人執政國家；(丁)在殖民時期成為殖民者與當地居民的中間商。 (A) 甲乙丙 (B) 乙丙丁 (C) 甲丙丁 (D) 甲乙丁

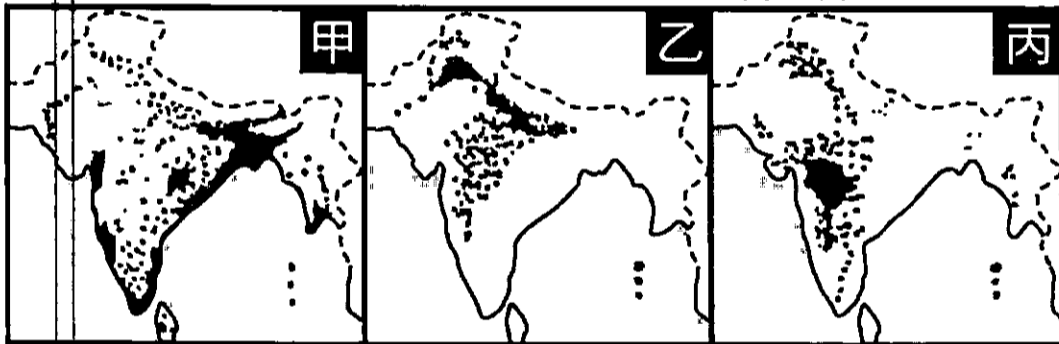
※ 圖為澳洲氣候類型分布圖，請根據該圖回答下列問題：



51. 影響澳洲各類型氣候分布的最主要因素為何？ (A) 行星風系類型 (B) 海陸分布差異 (C) 洋流性質差異 (D) 地勢高低起伏

52. 圖中哪兩種氣候類型的乾季較不明顯？ (A) 甲丙 (B) 乙丁 (C) 戊己 (D) 乙丙

※ 圖為印度半島三種主要作物的分布圖。請回答(1)~(2)題：



53. 甲~丙依序為哪些重要的農作物？ (A) 稻米、棉花、小麥 (B) 茶葉、稻米、小麥 (C) 稻米、小麥、棉花 (D) 小麥、茶葉、黃麻

54. 影響三種作物有不同區位分布的最主要自然因素是 (A) 氣溫 (B) 雨量 (C) 地形 (D) 風向

桃園市立平鎮高級中學 109學年第1學期
 月考一二年級不限組別地理[20191009200010C00063]
 全體考生 試題分析表

全體人數: 343 高分組人數: 93 低分組人數: 93

列印日期: 2020/10/14

| 題號 | 題型 | 配分 | 標準答案 | 全體 | | | | | 高分組 | | | | | 低分組 | | | | | 全體 答對率 | 難易 指數 | 鑑別 指數 | | | |
|----|-----|------|------|-----|-----|-----|-----|---|-----|----|----|----|----|-----|---|----|----|----|-----------|----------|----------|--------|-------|--------|
| | | | | A | B | C | D | E | 未 | A | B | C | D | E | 未 | A | B | C | | | | D | E | 未 |
| 01 | 單選題 | 2.00 | B | 23 | 203 | 78 | 40 | 0 | 0 | 2 | 80 | 8 | 3 | 0 | 0 | 10 | 32 | 31 | 21 | 0 | 0 | 58.89% | 0.597 | 0.527 |
| 02 | 單選題 | 2.00 | A | 291 | 24 | 9 | 19 | 0 | 0 | 90 | 2 | 1 | 0 | 0 | 0 | 65 | 14 | 5 | 9 | 0 | 0 | 84.84% | 0.833 | 0.269 |
| 03 | 單選題 | 2.00 | D | 28 | 85 | 16 | 214 | 0 | 0 | 2 | 21 | 2 | 68 | 0 | 0 | 14 | 27 | 10 | 42 | 0 | 0 | 62.39% | 0.591 | 0.280 |
| 04 | 單選題 | 2.00 | B | 35 | 260 | 40 | 8 | 0 | 0 | 1 | 90 | 1 | 1 | 0 | 0 | 18 | 51 | 21 | 3 | 0 | 0 | 75.80% | 0.758 | 0.419 |
| 05 | 單選題 | 2.00 | C | 5 | 41 | 271 | 26 | 0 | 0 | 0 | 5 | 86 | 2 | 0 | 0 | 4 | 20 | 54 | 15 | 0 | 0 | 79.01% | 0.753 | 0.344 |
| 06 | 單選題 | 2.00 | D | 62 | 37 | 24 | 219 | 0 | 1 | 10 | 6 | 4 | 73 | 0 | 0 | 20 | 17 | 5 | 50 | 0 | 1 | 63.85% | 0.661 | 0.247 |
| 07 | 單選題 | 2.00 | A | 259 | 75 | 8 | 1 | 0 | 0 | 79 | 13 | 1 | 0 | 0 | 0 | 53 | 35 | 4 | 1 | 0 | 0 | 75.51% | 0.710 | 0.280 |
| 08 | 單選題 | 2.00 | D | 27 | 30 | 42 | 244 | 0 | 0 | 0 | 2 | 5 | 86 | 0 | 0 | 16 | 10 | 19 | 48 | 0 | 0 | 71.14% | 0.720 | 0.409 |
| 09 | 單選題 | 2.00 | D | 108 | 3 | 16 | 216 | 0 | 0 | 18 | 1 | 3 | 71 | 0 | 0 | 42 | 0 | 7 | 44 | 0 | 0 | 62.97% | 0.618 | 0.290 |
| 10 | 單選題 | 2.00 | B | 5 | 329 | 1 | 8 | 0 | 0 | 0 | 93 | 0 | 0 | 0 | 0 | 4 | 82 | 1 | 6 | 0 | 0 | 95.92% | 0.941 | 0.118 |
| 11 | 單選題 | 2.00 | A | 120 | 97 | 80 | 45 | 0 | 1 | 58 | 18 | 12 | 5 | 0 | 0 | 13 | 28 | 32 | 19 | 0 | 1 | 34.99% | 0.382 | 0.484 |
| 12 | 單選題 | 2.00 | C | 15 | 12 | 298 | 18 | 0 | 0 | 3 | 0 | 88 | 2 | 0 | 0 | 9 | 6 | 69 | 9 | 0 | 0 | 86.88% | 0.844 | 0.204 |
| 13 | 單選題 | 2.00 | A | 285 | 38 | 11 | 9 | 0 | 0 | 88 | 4 | 1 | 0 | 0 | 0 | 69 | 14 | 7 | 3 | 0 | 0 | 83.09% | 0.844 | 0.204 |
| 14 | 單選題 | 2.00 | B | 249 | 57 | 24 | 13 | 0 | 0 | 68 | 21 | 1 | 3 | 0 | 0 | 62 | 12 | 14 | 5 | 0 | 0 | 16.62% | 0.177 | 0.097 |
| 15 | 單選題 | 2.00 | A | 221 | 22 | 79 | 21 | 0 | 0 | 75 | 3 | 12 | 3 | 0 | 0 | 43 | 11 | 26 | 13 | 0 | 0 | 64.43% | 0.634 | 0.344 |
| 16 | 單選題 | 2.00 | C | 3 | 17 | 298 | 25 | 0 | 0 | 1 | 0 | 92 | 0 | 0 | 0 | 2 | 9 | 68 | 14 | 0 | 0 | 86.88% | 0.860 | 0.258 |
| 17 | 單選題 | 2.00 | C | 57 | 5 | 274 | 7 | 0 | 0 | 14 | 0 | 79 | 0 | 0 | 0 | 19 | 5 | 65 | 4 | 0 | 0 | 79.88% | 0.774 | 0.151 |
| 18 | 單選題 | 2.00 | A | 305 | 10 | 20 | 8 | 0 | 0 | 89 | 1 | 3 | 0 | 0 | 0 | 71 | 7 | 8 | 7 | 0 | 0 | 88.92% | 0.860 | 0.194 |
| 19 | 單選題 | 2.00 | C | 71 | 79 | 176 | 17 | 0 | 0 | 14 | 24 | 53 | 2 | 0 | 0 | 21 | 24 | 40 | 8 | 0 | 0 | 51.31% | 0.500 | 0.140 |
| 20 | 單選題 | 2.00 | D | 112 | 0 | 2 | 227 | 0 | 2 | 11 | 0 | 0 | 82 | 0 | 0 | 50 | 0 | 2 | 39 | 0 | 2 | 66.18% | 0.651 | 0.462 |
| 21 | 單選題 | 2.00 | C | 6 | 2 | 334 | 1 | 0 | 0 | 0 | 0 | 92 | 1 | 0 | 0 | 2 | 2 | 89 | 0 | 0 | 0 | 97.38% | 0.973 | 0.032 |
| 22 | 單選題 | 2.00 | C | 39 | 24 | 244 | 36 | 0 | 0 | 4 | 1 | 82 | 6 | 0 | 0 | 18 | 19 | 44 | 12 | 0 | 0 | 71.14% | 0.677 | 0.409 |
| 23 | 單選題 | 2.00 | B | 15 | 229 | 66 | 33 | 0 | 0 | 3 | 80 | 6 | 4 | 0 | 0 | 5 | 40 | 34 | 14 | 0 | 0 | 66.76% | 0.645 | 0.430 |
| 24 | 單選題 | 2.00 | B | 32 | 180 | 91 | 40 | 0 | 0 | 7 | 72 | 9 | 5 | 0 | 0 | 12 | 33 | 33 | 15 | 0 | 0 | 52.48% | 0.565 | 0.419 |
| 25 | 單選題 | 2.00 | C | 29 | 77 | 206 | 31 | 0 | 0 | 1 | 9 | 81 | 2 | 0 | 0 | 11 | 35 | 28 | 19 | 0 | 0 | 60.06% | 0.586 | 0.570 |
| 26 | 單選題 | 2.00 | B | 1 | 292 | 3 | 47 | 0 | 0 | 0 | 83 | 0 | 10 | 0 | 0 | 0 | 74 | 2 | 17 | 0 | 0 | 85.13% | 0.844 | 0.097 |
| 27 | 單選題 | 2.00 | C | 6 | 8 | 298 | 31 | 0 | 0 | 0 | 0 | 87 | 6 | 0 | 0 | 3 | 3 | 75 | 12 | 0 | 0 | 86.88% | 0.871 | 0.129 |
| 28 | 單選題 | 2.00 | B | 7 | 330 | 4 | 2 | 0 | 0 | 1 | 92 | 0 | 0 | 0 | 0 | 2 | 86 | 3 | 2 | 0 | 0 | 96.21% | 0.957 | 0.065 |
| 29 | 單選題 | 2.00 | A | 230 | 66 | 5 | 42 | 0 | 0 | 77 | 12 | 0 | 4 | 0 | 0 | 53 | 23 | 2 | 15 | 0 | 0 | 67.06% | 0.699 | 0.258 |
| 30 | 單選題 | 2.00 | C | 52 | 31 | 253 | 7 | 0 | 0 | 10 | 1 | 81 | 1 | 0 | 0 | 22 | 18 | 49 | 4 | 0 | 0 | 73.76% | 0.699 | 0.344 |
| 31 | 單選題 | 2.00 | B | 8 | 166 | 22 | 146 | 0 | 1 | 2 | 57 | 5 | 29 | 0 | 0 | 3 | 32 | 10 | 47 | 0 | 1 | 48.40% | 0.478 | 0.269 |
| 32 | 單選題 | 2.00 | A | 259 | 14 | 36 | 34 | 0 | 0 | 81 | 1 | 4 | 7 | 0 | 0 | 62 | 4 | 16 | 11 | 0 | 0 | 75.51% | 0.769 | 0.204 |
| 33 | 單選題 | 2.00 | B | 12 | 289 | 27 | 15 | 0 | 0 | 0 | 90 | 2 | 1 | 0 | 0 | 10 | 61 | 12 | 10 | 0 | 0 | 84.26% | 0.812 | 0.312 |
| 34 | 單選題 | 2.00 | D | 3 | 31 | 60 | 249 | 0 | 0 | 0 | 3 | 10 | 80 | 0 | 0 | 1 | 8 | 17 | 67 | 0 | 0 | 72.59% | 0.790 | 0.140 |
| 35 | 單選題 | 2.00 | D | 17 | 4 | 39 | 283 | 0 | 0 | 0 | 0 | 1 | 92 | 0 | 0 | 11 | 2 | 19 | 61 | 0 | 0 | 82.51% | 0.823 | 0.333 |
| 36 | 單選題 | 2.00 | C | 8 | 43 | 261 | 31 | 0 | 0 | 0 | 6 | 81 | 6 | 0 | 0 | 6 | 16 | 58 | 13 | 0 | 0 | 76.09% | 0.747 | 0.247 |
| 37 | 單選題 | 2.00 | B | 23 | 219 | 82 | 18 | 0 | 1 | 5 | 69 | 17 | 1 | 0 | 1 | 10 | 54 | 23 | 6 | 0 | 0 | 63.85% | 0.661 | 0.161 |
| 38 | 單選題 | 2.00 | A | 312 | 16 | 5 | 10 | 0 | 0 | 91 | 1 | 0 | 1 | 0 | 0 | 77 | 10 | 1 | 5 | 0 | 0 | 90.96% | 0.903 | 0.151 |
| 39 | 單選題 | 1.50 | D | 2 | 7 | 4 | 330 | 0 | 0 | 0 | 0 | 0 | 93 | 0 | 0 | 1 | 6 | 3 | 83 | 0 | 0 | 96.21% | 0.946 | 0.108 |
| 40 | 單選題 | 1.50 | C | 41 | 18 | 236 | 48 | 0 | 0 | 6 | 2 | 68 | 17 | 0 | 0 | 16 | 4 | 57 | 16 | 0 | 0 | 68.80% | 0.672 | 0.118 |
| 41 | 單選題 | 1.50 | B | 46 | 232 | 43 | 22 | 0 | 0 | 7 | 77 | 4 | 5 | 0 | 0 | 15 | 47 | 22 | 9 | 0 | 0 | 67.64% | 0.667 | 0.323 |
| 42 | 單選題 | 1.50 | B | 50 | 260 | 25 | 8 | 0 | 0 | 4 | 87 | 1 | 1 | 0 | 0 | 20 | 58 | 12 | 3 | 0 | 0 | 75.80% | 0.780 | 0.312 |
| 43 | 單選題 | 1.50 | C | 34 | 17 | 250 | 42 | 0 | 0 | 3 | 0 | 81 | 9 | 0 | 0 | 15 | 12 | 46 | 20 | 0 | 0 | 72.89% | 0.683 | 0.376 |
| 44 | 單選題 | 1.50 | B | 5 | 297 | 18 | 23 | 0 | 0 | 1 | 89 | 2 | 1 | 0 | 0 | 3 | 76 | 6 | 8 | 0 | 0 | 86.59% | 0.887 | 0.140 |
| 45 | 單選題 | 1.50 | A | 151 | 175 | 4 | 13 | 0 | 0 | 54 | 37 | 0 | 2 | 0 | 0 | 33 | 54 | 2 | 4 | 0 | 0 | 44.02% | 0.468 | 0.226 |
| 46 | 單選題 | 1.50 | B | 212 | 111 | 4 | 16 | 0 | 0 | 60 | 27 | 1 | 5 | 0 | 0 | 52 | 34 | 3 | 4 | 0 | 0 | 32.36% | 0.328 | -0.075 |
| 47 | 單選題 | 1.50 | C | 11 | 52 | 99 | 181 | 0 | 0 | 1 | 7 | 35 | 50 | 0 | 0 | 6 | 22 | 22 | 43 | 0 | 0 | 28.86% | 0.306 | 0.140 |
| 48 | 單選題 | 1.50 | D | 24 | 13 | 65 | 241 | 0 | 0 | 2 | 1 | 8 | 82 | 0 | 0 | 7 | 8 | 24 | 54 | 0 | 0 | 70.26% | 0.731 | 0.301 |
| 49 | 單選題 | 1.50 | A | 317 | 14 | 7 | 5 | 0 | 0 | 89 | 3 | 0 | 1 | 0 | 0 | 84 | 3 | 4 | 2 | 0 | 0 | 92.42% | 0.930 | 0.054 |
| 50 | 單選題 | 1.50 | B | 110 | 59 | 83 | 91 | 0 | 0 | 32 | 17 | 22 | 22 | 0 | 0 | 23 | 17 | 25 | 28 | 0 | 0 | 17.20% | 0.183 | 0.000 |
| 51 | 單選題 | 1.50 | A | 179 | 58 | 71 | 36 | 0 | 0 | 68 | 14 | 8 | 4 | 0 | 0 | 22 | 26 | 27 | 18 | 0 | 0 | 51.90% | 0.478 | 0.484 |
| 52 | 單選題 | 1.50 | D | 31 | 41 | 71 | 200 | 0 | 0 | 2 | 9 | 13 | 69 | 0 | 0 | 14 | 13 | 37 | 29 | 0 | 0 | 58.31% | 0.527 | 0.430 |
| 53 | 單選題 | 1.50 | C | 72 | 40 | 217 | 13 | 0 | 1 | 8 | 6 | 78 | 1 | 0 | 0 | 23 | 17 | 43 | 10 | 0 | 0 | 63.27% | 0.651 | 0.376 |
| 54 | 單選題 | 1.50 | B | 4 | 314 | 20 | 2 | 0 | 3 | 0 | 90 | 3 | 0 | 0 | 0 | 2 | 78 | 11 | 2 | 0 | 0 | 91.55% | 0.903 | 0.129 |

