

桃園市立平鎮高級中學 109 學年度第一學期 期末考

適用班級：高二 201~207、209、212、213

考試範圍：高中地理第三冊 ch5 美國、ch6 中南美洲、chB 漢南非洲

注意事項：基本資料於答案卡畫記錯誤或缺漏者扣總分 5 分

共四張八頁

一、單選題(每題 2 分)：

1. 旅遊雜誌上寫著：「到了○○，你即可看到許多大型農場，農場內有工人宿舍、學校、天主教堂；除了宿舍附近種有一些蔬菜和水果外。停下腳步，來杯農場內產的咖啡，一定可以安慰你旅途的疲憊。」請問，○○應該是指哪個地方？ (A)亞馬孫盆地 (B)墨西哥高原 (C)巴西高原 (D)彭巴草原。

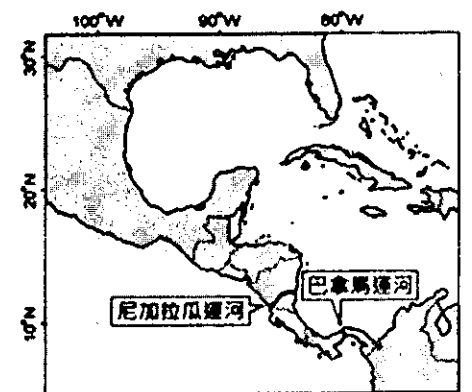
2. 右表為 2018 年非洲部分國家出生率和死亡率的統計，該表反映出這些國家正處於人口轉型的哪一個階段？(A)高穩定 (B)低穩定 (C)早期擴張 (D)晚期擴張。

國家	出生率(‰)	死亡率(‰)
南非	19.9	9.3
肯亞	22.6	6.7
埃及	28.8	4.5

3. 史瓦帝尼為我國在非洲南部的邦交國，其地理位置正好處於南非共和國的東部。根據派駐當地的外交人員表示，該地區的氣候類型和臺灣有點類似，都是在炎熱的夏季時有充沛的降水，形成當地的雨季。請問，該地區主要的降雨成因為何？(甲)熱帶氣旋；(乙)東南信風；(丙)西南季風；(丁)暖流經過；(戊)地形阻擋；(己)滯留鋒面。(A)甲丙丁 (B)乙丁戊 (C)乙戊己 (D)丙丁戊。

4. 在聯合國討論議案時，非洲國家具有一定的影響力，主要原因為何？(A)人口成長為各洲第一 (B)幼年人口比例高於各洲 (C)經濟成長率最高的洲 (D)國家數眾多，居各洲之冠。

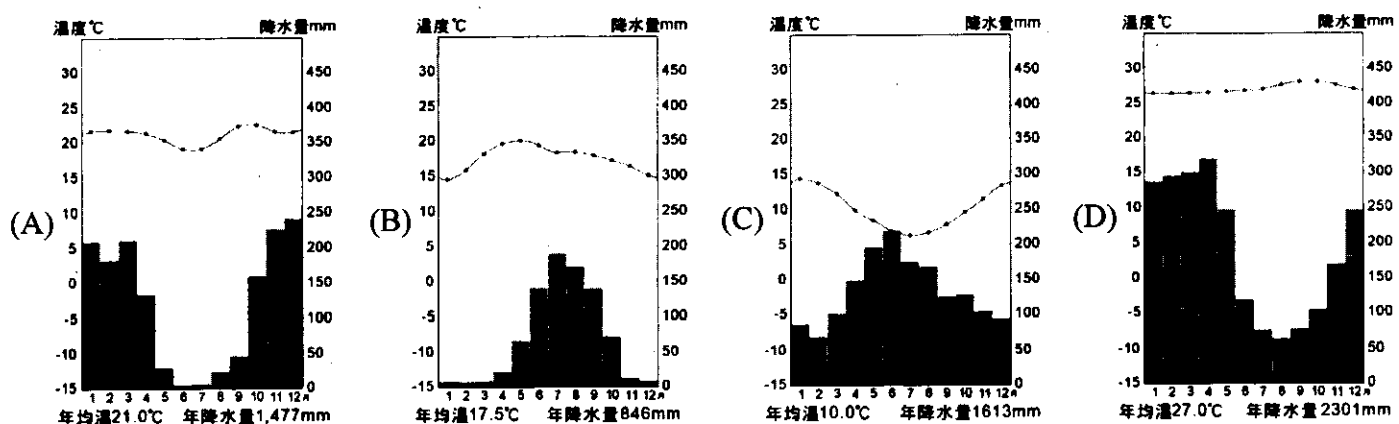
5. 2014 年 12 月尼加拉瓜運河開始興建，預計 2019 年完成，右圖為尼加拉瓜運河位置圖。該運河啟用後，若僅考慮距離要素，古巴沿海港口到下列哪個地區的海運，比起過去利用巴拿馬運河的航程，其距離縮短最多？(A)巴西里約 (B)秘魯利馬 (C)美國洛杉磯 (D)美國紐約。



6. 表為中南美洲五個國家的首都海拔高度。請問形成人口聚居於高海拔地區的原因為何？(A)景觀優美 (B)礦藏開發 (C)氣候涼爽 (D)水源豐沛。

國家	墨西哥	波利維亞	厄瓜多	哥倫比亞	秘魯
都市	墨西哥城	拉巴斯	基多	波哥大	庫斯科
高度 (m)	2,250	3,630	2,850	2,644	3,399

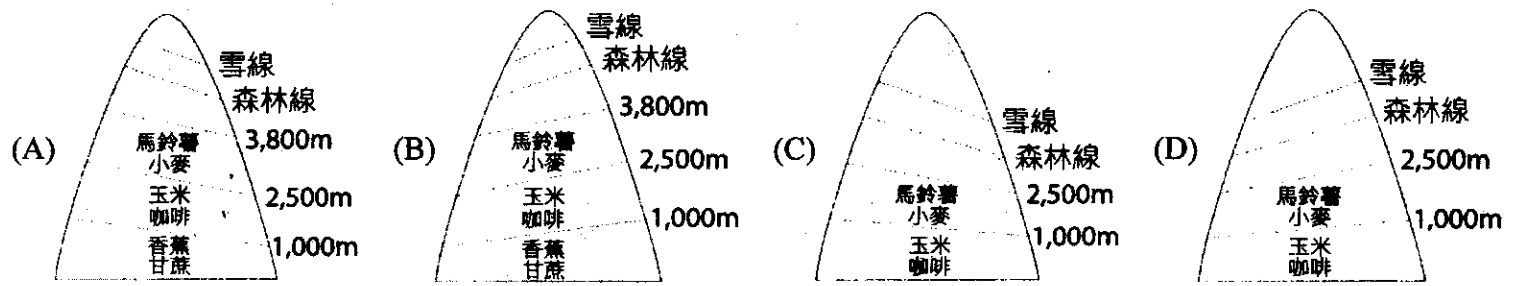
7. 墨西哥高原有阿茲特克文明，該地至今仍為人口聚集之地，其氣候類型為下列何者？



8. 下列是關於四個拉丁美洲國家的新聞標題：

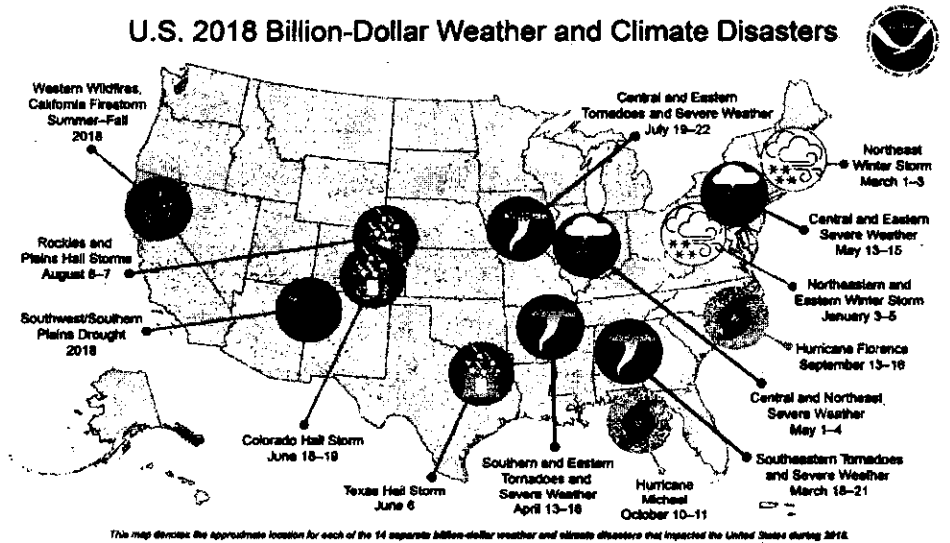
(甲)油價下跌，委內瑞拉處在通貨膨脹和物資短缺的窘境；(乙)巴西違約大砍森林，挪威揚言撤回環保補助；(丙)中國企業有意參與建造阿根廷 - 智利的安地斯山隧道；(丁)哥倫比亞再度播放臺灣偶像劇「16 個夏天」。請問哪則新聞標題所提及的現象，最適合用「依賴式經濟」的概念解釋？ (A)甲 (B)乙 (C)丙 (D)丁。

9. 安地斯山脈是陸地上最長的山脈，約 7,000 公里長，縱跨南美洲，平均高度約 4,000 公尺，對於南美洲的氣候、人文發展，影響深遠。請問下列有關於安地斯山脈北段土地利用的垂直分布示意圖（左方為北方），何者最恰當？



二、題組題(第 10~35 題每題 2 分，第 36~55 題每題 1.5 分)：

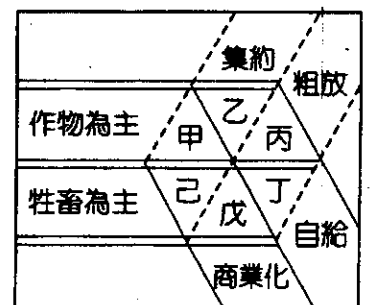
★根據美國國家海洋暨大氣總署 (NOAA) 於 2019 年公布的一項報告，在 2018 年期間，美國經歷了非常活躍的天氣和氣候災害。總體而言，美國受到了 14 次各達 10 億美元災難事件的影響：兩次熱帶氣旋、8 次強烈風暴（包含冰雹及龍捲風）、2 次冬季風暴、2 次乾旱和野火（如右圖）。請問：



10. 美國西部加州因為夏季缺乏降水，加上高溫，易造成森林大火。美國西部夏季降水偏少的原因為何？(甲)位於信風的背風側；(乙)副熱帶高壓帶籠罩；(丙)涼流經過；(丁)熱帶大陸氣團籠罩。(A)甲乙 (B)乙丙 (C)丙丁 (D)甲丁。
11. 2018 年 8 次強烈風暴（包含冰雹及龍捲風）幾乎都發生在美國中部地區，主要影響因素為何？(A)地形平坦 (B)氣候暖濕 (C)距海遠近 (D)緯度高低。
12. 從圖中判斷，龍捲風所侵襲的環境，最容易造成哪一種產業的巨大損失？(A)電影產業 (B)資訊產業 (C)農牧產業 (D)金融產業。

★「為迅速增胖，用動物屍體當營養劑，把牛變成肉食動物；為使口感吹彈，把牛變油花牛，宰殺前餵瘦肉精。瘦肉精為全球第十大藥廠禮來公司為了抗氣喘而研發出來的藥，它的成分『萊克多巴胺』是一種類似腎上腺素的合成物質，可以加速分解體內脂肪和合成蛋白質，用在動物身上能達到極高的換肉率。」

13. 上述為美國某農業區牛隻飼養的部分敘述，請問：此區應位於以下哪一農業帶？(A)酪農帶 (B)玉米帶 (C)小麥帶 (D)棉花帶。
14. 右圖為各種農業的經營特色，請問：本文敘述知農業型態，其經營型態最符合圖中何者？(A)甲 (B)丙 (C)戊 (D)己。



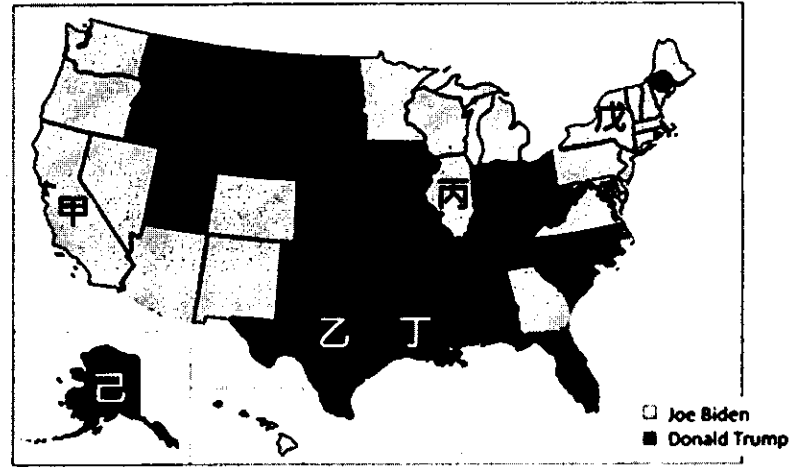
★下列歌詞為基督教經典詩歌《奇異恩典》，在十八世紀由約翰牛頓 (John Newton) 創作。

Amazing grace! (how sweet the sound)
That sav'd a wretch like me!
I once was lost, but now am found,
Was blind, but now I see.

約翰牛頓早年是大西洋的奴隸船主，曾跨洲運送大量奴隸，後反省自身行為後創作此曲，最後也成為英國廢除奴隸制的主要推手。請問：

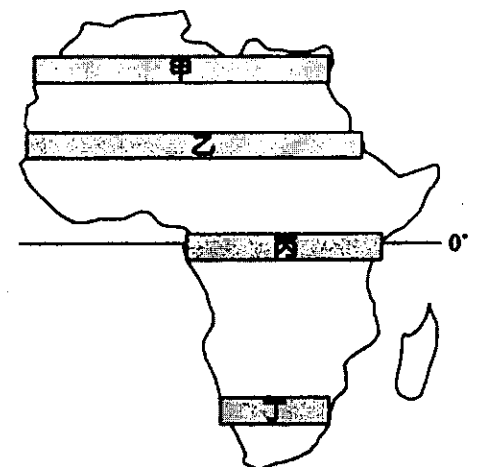
15. 約翰牛頓早年運送奴隸的航行路線可能為何？ (A)獅子山→美國 (B)古巴→英國 (C)塞內加爾→荷蘭 (D)肯亞→海地。
16. 約翰牛頓可能利用哪些自然動力，加快運送奴隸的速度？(甲)巴西暖流；(乙)北赤道洋流；(丙)加那利涼流；(丁)信風；(戊)西風。(A)甲丙 (B)甲丁 (C)乙丁 (D)丁戊。
17. 相關的貿易活動對非洲造成哪些影響？(甲)玉米、花生成為西非常見食物；(乙)擴大漠南非洲的部落衝突規模；(丙)西非人口多集中在海岸都市；(丁)西非居民多信奉伊斯蘭教。(A)甲乙 (B)甲丁 (C)乙丙 (D)丙丁。

★第 59 屆美國總統大選於 2020 年 11 月 3 日舉辦，候選人唐納·川普爭取連任提出「讓美國再次強大」，喬·拜登聲言「為國家靈魂而戰」。兩人之爭受到全球媒體關注，也顯示出歷屆美國總統選舉結果對世界局勢有極大影響力。附圖為選舉結果地圖，淺色與深色分別代表兩位候選人拜登 (Biden) 與川普 (Trump) 票數領先的州。圖中可看出拜登領先的州多位於東北、西北、西南地區，而川普則在中西部與南部地區較有優勢。請問：



18. 拜登於甲、丙、戊三區票數領先，而川普在乙、丁、己三區票數領先，下列對於此六區的敘述何者正確？ (A)丙、戊區早期因高科技產業的發展，各自發展出人口密集的都會區 (B)丁、己區擁有石油資源，是重要石化工業基地 (C)甲、丙區終年陽光普照、氣候宜人 (D)乙、丁區仰賴良好的灌溉系統，得以發展商業性穀物業。
19. 受全球化的影響，近年美國製造產業持續出走，造成藍領工作機會迅速流失。因應此現象，美國總統川普上任以來，推動「美國優先」的戰略主軸，包括匯率操縱、發動美中貿易戰等。而 2020 年的大選中，候選人拜登也強調「美國第一」，要終結「美國凋敝」情況，矢言振興美國製造業。這些政見尤其對自 1980 年代起工業衰退的地區來說特別重要，甚至成為兩次選舉決定川普選舉勝敗的關鍵地區之一。請問對這個議題特別關注的白人勞工，最可能位居以下何地？ (A)西北部太平洋岸 (B)西南部內陸區 (C)東南部陽光帶 (D)五大湖區。
20. 承上題，美國的製造產業外移到國外，進而造成美國藍領白人失業問題，這種現象最符合以下哪一個概念？ (A)區位移轉 (B)產業升級 (C)工業慣性 (D)工業連鎖。
21. 2008 年歐巴馬當選總統時被視為非裔黑人族裔的一大勝利，而 2020 年民主黨的副總統候選人賀錦麗更是主要政黨總統參選名單上的第一位黑人女性和亞洲人。下列何者是非裔黑人的特色？ (A)現為美國第二大族群，僅次於歐裔白人 (B)傳統食物為玉米脆片與莎莎醬 (C)甲區為主要聚集地 (D)其藍調、嘻哈樂與爵士樂等深深影響世界音樂。

★某高中與 NGO 合作，推動學生募款集資贊助非洲村莊鑿井費用，對許多非洲地區而言，擁有乾淨飲用水是遙不可及的夢想，該計畫援助國的人民平均要走 10 公里才能取得用水，但水源不乾淨對健康造成極大威脅，設立水井刻不容緩。根據聯合國統計，每年有 180 萬名非洲兒童死於因飲用水所引發的疾病，改善水資源困境是非洲發展的重要課題。請問：



22. 改善水資源困境是非洲發展的重要課題，非洲大部分地區會面臨到缺水的難題。請問造成非洲大部分地區缺水的自然環境因素為何？ (A)緯度低 (B)副熱帶高壓籠罩 (C)位於盛行風背風側 (D)內陸距海遙遠。
23. 該 NGO 援助的國家有馬利、衣索比亞等國，皆位於沙黑爾 (Sahel) 地區。該區應該是圖中的哪個地帶？ (A)甲 (B)乙 (C)丙 (D)丁。

24. 沙黑爾地區氣候為過渡性氣候，請問是位在哪兩種氣候間的過渡帶？ (A)熱帶雨林氣候與熱帶莽原氣候 (B)熱帶莽原氣候與熱帶沙漠氣候 (C)熱帶沙漠氣候與溫帶地中海型氣候 (D)熱帶沙漠氣候與夏雨型暖濕氣候。
25. 鑿井取用地下水雖然可以改善人民生活品質，卻也可能導致沙黑爾地區沙漠化加劇。下列哪兩個現象不利於沙黑爾地區的沙漠化治理？(甲)提高土地利用集約度以增加收入；(乙)退農還牧，農地改為畜牧；(丙)將游牧帶往北遷移取得更多草場；(丁)種植防風林減少風沙危害；(戊)避免過度灌溉，注意田間排水。(A)甲丙 (B)甲丁 (C)乙丙 (D)乙戊。

★「與二十世紀亞洲小龍小虎的發展邏輯相同，近 20 年來，非洲各國也積極推動勞力密集的成衣業與紡織業投資，一方面希望能增加國內的技術就業，一方面也希望能藉此打進國際代工市場、進而拉攏國家工業化的腳步。因此廉價搶市的二手衣，才成了東非共同體公開針對的「眼中釘」。於是，在 2016 年年初，在肯亞、烏干達與盧安達的強勢動員下，東非共同體正式向「二手衣宣戰」。各國以保護區域成衣產業為名，同步調高二手衣關稅，並期待在 2019 年後，全面禁止舊衣進口。以盧安達為例，2016 年後，舊衣進口關稅一口氣從每公斤 0.2 美金，調漲至 2.5 美金——稅率調幅高達 1,250%——但二手衣的進口總值，也大幅縮減了 35%。」請問：

26. 非洲各國發展成衣業與紡織業的優勢為何？ (A)棉花產量大 (B)地理位置佳 (C)勞力成本低廉 (D)礦物燃料產地。
27. 肯亞、烏干達與盧安達所推行的主要政策目標為何？ (A)進口替代 (B)出口擴張 (C)產業群聚 (D)貿易自由化。

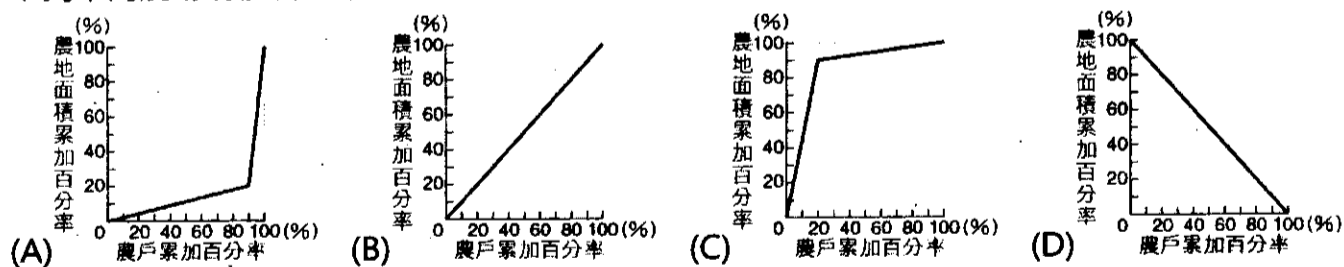
★右表為美國某都市 4 個不同時期距市中心不同距離的人口密度變化。請問：

28. 若按美國都市發展順序，此 4 階段排列的正確順序為何？ (A)甲丙丁乙 (B)乙甲丙丁 (C)丙丁甲乙 (D)丁丙甲乙。
29. 下列哪兩項因素是促使美國都市居住人口密度發生變化的原因？(甲)捷運系統的建立；(乙)汽車普及；(丙)高速公路興建；(丁)大型購物中心出現。(A)甲乙 (B)乙丙 (C)甲丁 (D)丙丁。

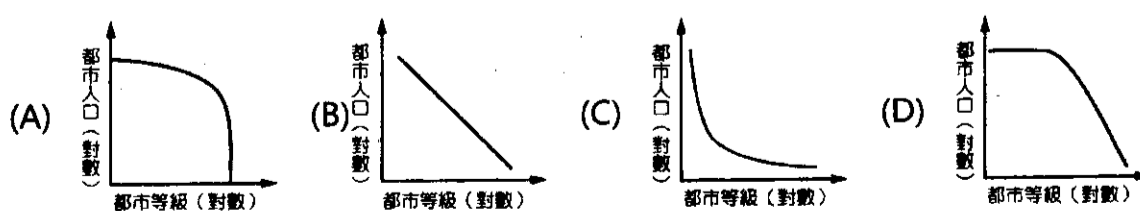
時 期	距市中心距離 (km)		
	0	8	16
甲	115	70	5
乙	135	40	3
丙	100	90	25
丁	80	115	40

★一張來自阿根廷的照片引起國際討論，照片中一位女孩像動物般四肢跪地，在熱浪中倚著水坑喝水，而類似的畫面在市中心也司空見慣。這些孩子跟隨父母從鄉村來到都市，父母在鄉村無法自行決定種植作物，在都市裡也難以找到適當的工作，因此常有許多孩子在路邊乞討。請問：

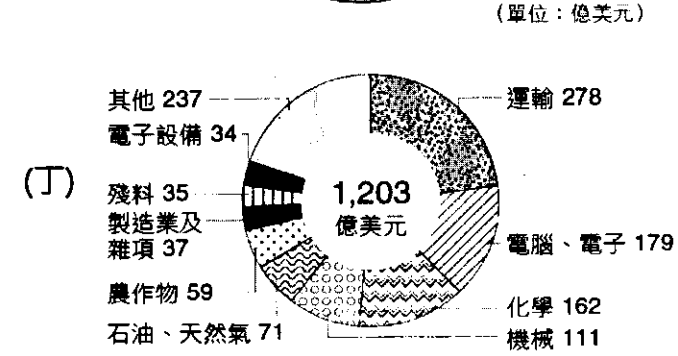
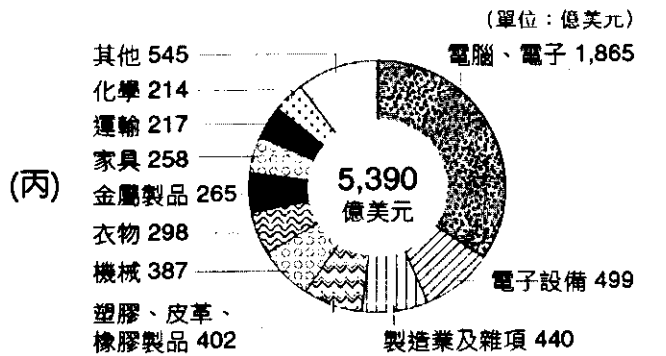
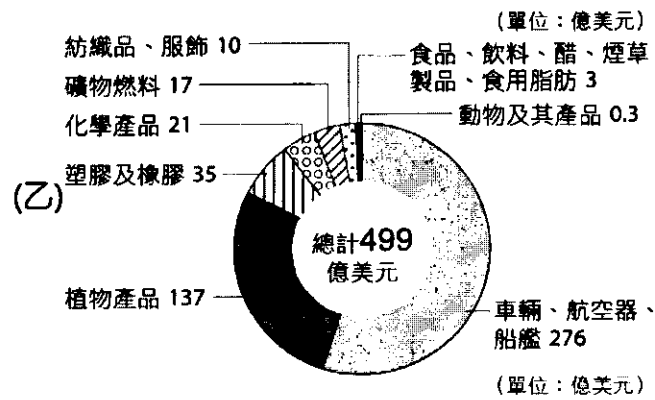
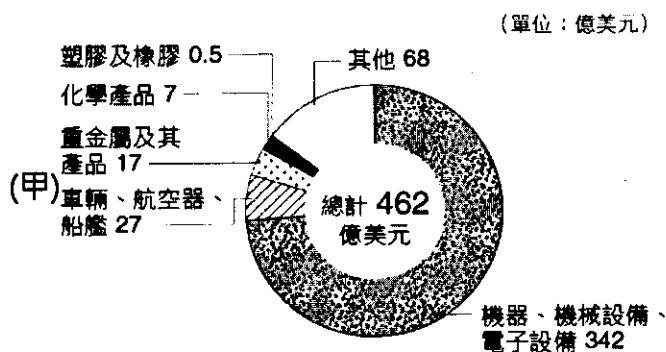
30. 下列不同農場規模農戶數與所占全國農地面積的累加百分率圖，哪張較符合阿根廷的農場規模情況？



31. 阿根廷的土地分配狀況，也常見於中南美洲各國，這樣的土地分配狀況，對於中南美洲的農業有哪些影響？ (A)農產僅供國內市場消費 (B)租佃關係不利農地改良 (C)大部分農地利用效率高 (D)大部分農地作物種類多元。
32. 下列何者最接近阿根廷的都市階層體系？



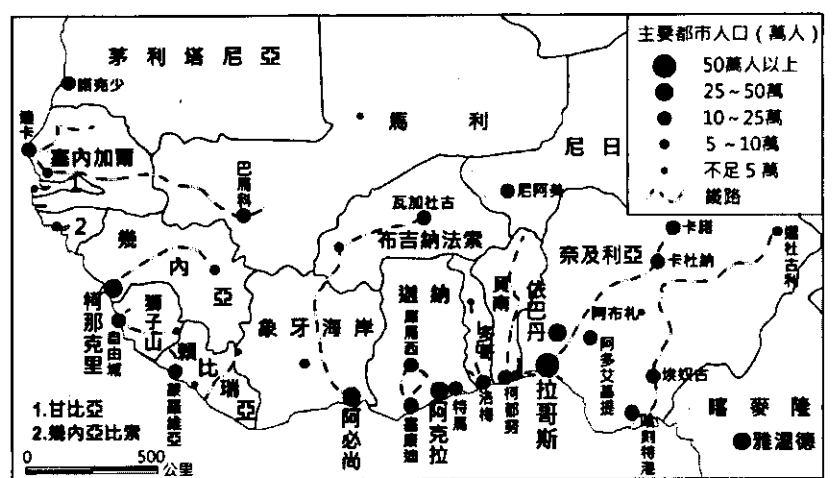
★美中貿易戰打得沸沸揚揚，造成國際各大企業重新布局。下列為 2018 年有關美中貿易現況，包括「美國從中國進口圖、美國出口到中國圖、美國從中國進口受關稅影響圖、美國出口到中國受關稅影響圖」，從這四張圖中，可判斷美中貿易戰的發展，請問：



33. (甲)~(丁)四張圖中，哪一張應為「美國出口到中國受關稅影響圖」？ (A)甲 (B)乙 (C)丙 (D)丁。
34. 由(甲)~(丁)四圖判斷，下列哪一項敘述正確？ (A)中國是美國最大的出口國 (B)中國的工業生產品質較佳 (C)美國的商業農業發展優於中國 (D)美國是全球最大汽車產國。
35. 針對美中貿易戰持續發酵，下列哪一種現象最可能發生？ (A)中國大量生產工業產品 (B)吸引外國企業投資中國 (C)加速美國石油外銷總量 (D)中國轉向歐洲購買客機。

★象牙海岸、布吉納法索與貝南在法國殖民時期皆有興建鐵路（如右圖），獨立後尼日希望鐵路能從布吉納法索的瓦加杜古延伸至尼日的尼阿美，再延伸至貝南，形成西非環線鐵路，但因各國缺乏資金，難以施行計畫。2013 年時法國各銀行為首宣布將募資籌建鐵路，但最後因種種原因而失敗。2018 年時貝南、尼日總統宣布將與中國合作，由中國提供貸款與技術支援，興建貝南至尼日段鐵路，也讓西非環線鐵路不再是空談。請問：

36. 由已興建的鐵路判斷，當初興建鐵路目的為何？ (A) 便於輸出農礦原料至歐洲 (B) 連結非洲各主要傳統部落 (C) 疏散沿海過度集中的人口 (D) 便於殖民地出口工業製品。
37. 除鐵路為殖民時期產物外，下列哪些現象也與殖民活動相關？(甲)西非主要都市多位於沿海；(乙)尼日北方多穆斯林；(丙)布吉納法索官方語言為法語；(丁)象牙海岸為全球最大可可出口國。 (A)甲乙丙 (B)甲乙丁 (C)甲丙丁 (D)乙丙丁。




★非洲第三世界國家企圖效法亞洲、中南美洲國家的經濟轉型經驗，卻成效有限。專家認為，非洲國家的貧窮實深受國際經濟全球化的影響。請問：

38. 在經濟全球化之下，非洲國家的工商貿易具有下列哪些特性？(甲)不對等的貿易型態；(乙)工業技術升級不易；(丙)高度依賴國外資金；(丁)以出口導向帶來工業升級。 (A)甲乙丙 (B)乙丙丁 (C)甲丙丁 (D)甲乙丁。

39. 下列何者最能解釋「全球化」使非洲第三世界國家的貧窮問題更加凸顯？(甲)出口初級加工品，利潤少；(乙)糧作面積減少，進口價格高；(丙)部落眾多、戰爭頻仍；(丁)高度依賴國際市場，風險高。(A)甲乙丙 (B)乙丙丁 (C)甲乙丁 (D)甲丙丁。

★南方共同市場和歐洲聯盟經過 20 年的談判後，於 2019 年 6 月底達成一項涉及 25% 全球經濟和 7.8 億人口的歷史性貿易協定。歐盟執委會主席榮科 (Jean-Claude Juncker) 表示「在國際貿易關係緊張之際，歐盟發出這個強烈的信號，倡議基於規則的貿易。這是歐盟有史以來達成的最大貿易協定，其結果將對環境和消費者有利。」隸屬南方共同市場的甲國經濟部預測這項協議將有助於提高本國國內生產毛額 15 年內增加 3,360 億元，對歐盟的出口將增加約 3,840 億元。當中，橙汁、水果和咖啡等國產品將享有折扣率，而肉類、糖和乙醇等產品出口商將通過配額制取得更多外銷到歐洲市場的機會。然而，非政府組織綠色和平組織 (Greenpeace) 卻認為，這項協定對兩大洲來說將是一場「災難」。請問：

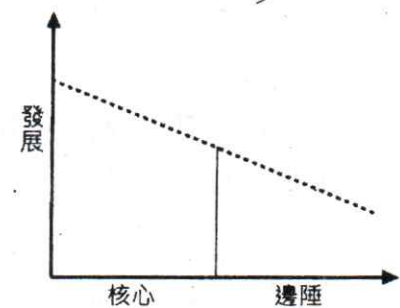
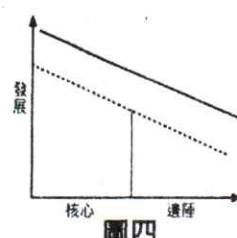
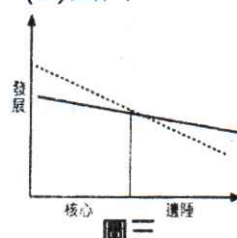
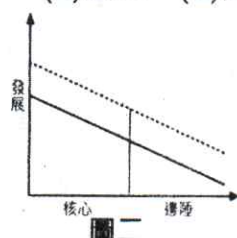
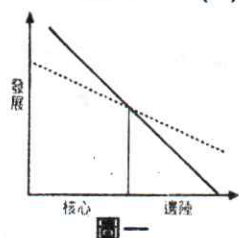
40. 請問文中所指的「南方共同市場」的旗幟為下表中何者？ (A)甲 (B)乙 (C)丙 (D)丁。



41. 根據上文所述，文中所指的甲國應該為下列何者？ (A)巴西 (B)阿根廷 (C)南非 (D)衣索比亞。
42. 綠色和平組織認為，此貿易協定可能是一場「災難」，此貿易協定最有可能對中南美洲產生哪些不利的影響？(甲)出口附加價值低的產品，形成貿易上不平等的交換；(乙)開發原始森林，增加耕地面積，破壞氣候平衡機制；(丙)為擴大農牧面積，導致過度灌溉，引發土壤鹽鹼化；(丁)大量種植經濟作物，排擠糧食作物，導致糧食不足。(A)甲乙丙 (B)甲乙丁 (C)甲丙丁 (D)乙丙丁

★現今非洲諸國為增進非洲內部各國間的貿易量與擺脫依賴式經濟，因此在 2019 年 54 個國家簽署「非洲大陸自由貿易協定(AfCFTA)」，但目前此協議只是框架，內部還有許多問題需要面對。除此之外，部分專家認為若無平衡措施，非洲大陸自由貿易協定實行後將導致資源、人口往南非、奈及利亞等核心國移動，其他非洲邊陲區國家將愈顯沒落，請問：

43. 從協議的名稱可以看出，非洲大陸自由貿易協定希望達成何項目標？ (A)促進與歐美間的貿易 (B)減少非洲各國間的關稅 (C)廢除各國間的邊境管控 (D)成立非洲單一貨幣。
44. 非洲各國若執行貿易協定可能會遭遇哪些問題？(甲)非洲人口全球最多，導致資源嚴重不足；(乙)基礎建設短缺，跨國運輸成本過高；(丙)部分國家政治局勢不穩定，影響商人投資意願；(丁)非洲諸國多出口農礦原料，互補性偏低。(A)甲乙丙 (B)甲乙丁 (C)甲丙丁 (D)乙丙丁。
45. 右圖為非洲核心區與邊陲區國家發展現況。請問，若無專家所提的平衡措施，未來非洲大陸自由貿易協定實行後，核心區與邊陲區的發展變化應會如下列哪一張圖？ (A)圖一 (B)圖二 (C)圖三 (D)圖四。

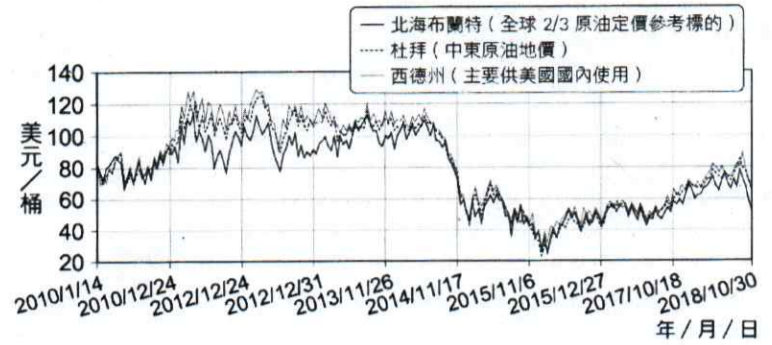


★委內瑞拉是全球石油蘊藏量最豐富的國家，甚至比沙烏地阿拉伯還要多。該國的經濟結構，石油佔全年出口金額比重的 80%，2004 年甚至經濟成長率高達 17%。但從 2013 年起總統馬杜羅上任後的錯誤政策，以及全球原油價格暴跌，導致收入銳減。政府遂大量印製鈔票，導致發生嚴重的通貨膨脹問題，人民連最基本的食物和藥品都嚴重缺乏，迫使不少居民遷往其他國家，尋找生存的機會。根據聯合國的資料顯示，2014 年以來，逃亡出國的民眾已

超過 500 萬人，大多前往臨近的哥倫比亞、厄瓜多以及秘魯，雖然因新冠疫情一度迫使移民潮趨緩，但如今防疫工作稍為放鬆，南美鄰近國家擔心，可能將有數十萬委內瑞拉難民蜂擁而至。請問：

46. 上文底線處的描述，反映委內瑞拉的經濟具有殖民地式經濟的哪一項特色？ (A)單一經濟結構 (B)不對等貿易型態 (C)工業技術層次低落 (D)易受市場價格影響。

47. 附圖為全球石油價格變化圖，請根據上文與附圖，推論造成全球原油價格快速崩盤，導致委內瑞拉經濟受到重創的可能原因為何？ (A)美國開挖頁岩油 (B)波斯灣產油量下滑 (C)中國大量進口石油 (D)OPEC 大量減產石油。



48. 難民的逃難路線為「委內瑞拉→哥倫比亞→翻越安地斯山→厄瓜多→秘魯」，該路途可見何種文明？ (A)在沼澤區創造島田耕作，田間有灌溉水渠 (B)曾於特斯科科湖上興建特諾奇蒂特蘭城遺蹟 (C)駱馬與羊駝為搬運的馱獸，亦是紡織原料來源 (D)以堅硬的石灰岩為建築基石，打造廟宇與宮殿。

★閱讀下列文章，回答問題：

南北戰爭後，加勒比海地區所生產的香蕉已經無法滿足美國對於香蕉的需求，因此香蕉產地擴大至中美洲地區，但是香蕉採收後，為避免香蕉過度成熟，必須以冷藏設備保存，且盡快送至消費者手中。

而美國鐵路企業家——基斯，在哥斯大黎加興建連結首都與港口之間的鐵路後，拿下該鐵道 99 年的經營權與鐵道周圍 80 萬英畝免稅土地種植香蕉，隨後成立聯合果品公司。聯合果品公司在中美洲當地政府的支持下，開闢一座座的香蕉園，並自由使用當地港口設施，憑藉著先進的冷藏設備延緩香蕉成熟；相比之下當地的小蕉農，根本無力與聯合果品公司競爭，只能任由其所產的香蕉被低價收購。

後來聯合果品公司更大量收購土地種植經濟作物，使得中美洲傳統糧食作物——玉米產量減少，不足以供應國內需求，因此糧食仰賴進口，其中有四成的糧食來自美國。中美洲平均一年消費六百萬噸玉米，卻有三百萬噸的玉米仰賴進口。

1951 年瓜地馬拉總統阿本茲，宣布將聯合果品公司在瓜地馬拉大片因巴拿馬病而休耕的土地，約占瓜國可耕地面積的七成，收歸國有後分發予無耕地可耕的貧民，但引起該公司強烈不滿。曾任職於聯合果品公司的美國國務卿杜勒斯於 1954 年策動阿本茲的競爭對手阿馬斯從宏都拉斯入侵，導致阿本茲辭職，落魄的流亡墨西哥。

49. 關於文章所述的農業活動類型，下列敘述何者為非？ (A)熱帶栽培業 (B)殖民地式經濟 (C)產業分工鏈 (D)跨國農企業。

50. 除了香蕉之外，中美洲地區還大量種植哪些農產品，成為該地區的主要經濟作物？ (A)大豆、玉米 (B)咖啡、橡膠 (C)可可、茶葉 (D)甘蔗、棉花。

51. 被稱為「香蕉共和國」的國家，下列關於其在經濟、國家發展上的困境敘述何者錯誤？ (A)外債高築，屢屢發生債務危機 (B)資金、技術依賴美國 (C)排擠糧食生產，導致糧食不足 (D)國內政治受外國干預，導致國內局勢不穩。

背面尚有試題！！！！

★閱讀下列文章，回答問題：

美國自 1994 年與加拿大、墨西哥簽訂北美自由貿易協定 (NAFTA)，以讓貨物、服務、資本自由流動以後，至 2018 年止，約失去了 70 萬個工作機會，加上墨西哥吸引了美、加跨國公司在邊境設立，工資偏低，卻不敵中國產品競爭，使得北美洲國家整體的競爭力下降，因此美國召集三國重新磋商，於 2018 年 9 月 30 日簽訂新的美加墨協議 (USMCA)，取代原有的北美自由貿易協定。「市場內幕」

(Markets insider) 將兩項協議之間的差別，歸納如下：

(1)消除汽車及零件的關稅障礙：提高美國汽車免稅銷往加、墨的比例，以及工資待遇。此外，加拿大可享受有出口至美國的免稅待遇，由 180 萬輛汽車提高至 260 萬輛，汽車零件在 324 億美元內免稅。墨西哥享有相同待遇，汽車零件免稅額更高達 1,080 億美元。同時，三國境內的汽車製造比例由 62.5% 提高至 75%，且 40% 的汽車勞工，時薪待遇必須高於 16 美元。(照片(一))

(2)農牧產品：加拿大須開放家禽、蛋類市場，不列顛哥倫比亞省的公營酒舖必須陳列販售美國酒。墨西哥必須進口美國乳酪。美國乳製品進入加拿大的比例由 1% 增為 3.6%，且不得訂定對美國酪農業不利的價格措施。


(3)效期與爭端解決機制：新的協議則具有 16 年效期，每 6 年須提出檢討、修訂與擴充。投資國得以對會員國的不公平貿易機制提出反彈，特別是美、加兩國在墨西哥能源產業的投資，必須受到保障。

(4)保持匯率穩定：各國匯率必須根據市場供需自行調整，政府不得有進行干預貨幣升貶的動作。

(5)延長智慧財產權年限：醫藥製品擁有的專利由 8 年延長為 10 年，著作版權由作者去世後 50 年延長為 70 年。

(6)旅客可攜帶的貨品免稅額提高：由美國入境加拿大可攜帶的免稅品，由 20 加元提高到 40 加元，跨境電子商品免稅額更提高到 150 加元；墨西哥也將兩國入境免稅品金額，由 50 美元提高到 117 美元。

預計新的協議生效後，將為北美洲未來發展帶來新的契機。



照片(一) 美加墨協議簽訂後，將使美國汽車工業增加 2.8 萬個就業機會，但價格提升也使年銷售量銳減 14 萬輛之多

52. 由文中敘述可知，美國與加拿大、墨西哥等國，基於下列何項共同因素進行區域經濟結盟？ (A)地緣位置 (B)地形分布 (C)民族類別 (D)宗教文化。
53. 文中所述之各項措施，何者對於美國進行跨境貿易最具裨益？ (A)延長專利年限 (B)提高勞工時薪 (C)開放乳品市場 (D)提高海關免稅額。
54. USMCA 與 NAFTA 相較，具有下列何項 NAFTA 所無之特色？ (A)人民可自由遷徙 (B)能源效率大幅提高 (C)勞工薪資得到保障 (D)可自由調整匯率。
55. 美國所採行的何項措施，為「全球化」的結果，與「區域性經濟協議」的簽訂並無關聯？ (A)提高貿易自由度 (B)設置邊境工業區 (C)降低貨物運輸成本 (D)實施新移民，廢除國籍配額制。

桃園市立平鎮高級中學 109學年第1學期
 期末考二年級不限組別地理[20210119200050C00063]
 全體考生 試題分析表

全體人數：348 高分組人數：94 低分組人數：94

列印日期：2021/1/19

題號	題型	配分	標準答案	全體					高分組					低分組					全體 答對率	難易 指數	鑑別 指數			
				A	B	C	D	E	未	A	B	C	D	E	未	A	B	C				D	E	未
01	單選題	2.00	C	16	23	266	43	0	0	3	5	82	4	0	0	3	8	65	18	0	0	76.44%	0.782	0.181
02	單選題	2.00	D	37	56	175	80	0	0	8	9	53	24	0	0	12	22	34	26	0	0	22.99%	0.266	-0.021
03	單選題	2.00	B	86	209	33	19	0	0	14	75	3	2	0	0	33	38	16	7	0	0	60.06%	0.601	0.394
04	單選題	2.00	D	38	16	4	290	0	0	5	1	0	88	0	0	14	7	2	71	0	0	83.33%	0.846	0.181
05	單選題	2.00	C	29	36	240	42	0	0	1	4	84	5	0	0	15	15	45	18	0	1	68.97%	0.686	0.415
06	單選題	2.00	C	0	8	336	4	0	0	0	0	94	0	0	0	7	83	4	0	0	0	96.55%	0.941	0.117
07	單選題	2.00	B	30	263	34	21	0	0	4	84	2	4	0	0	14	54	17	9	0	0	75.57%	0.734	0.319
08	單選題	2.00	A	319	17	10	2	0	0	89	4	1	0	0	0	80	9	4	1	0	0	91.67%	0.899	0.096
09	單選題	2.00	A	145	127	45	31	0	0	52	29	10	3	0	0	26	35	19	14	0	0	41.67%	0.415	0.277
10	單選題	2.00	B	117	182	20	28	0	1	22	65	6	1	0	0	42	32	3	16	0	1	52.30%	0.516	0.351
11	單選題	2.00	A	319	13	11	4	0	1	92	2	0	0	0	0	79	4	8	2	0	1	91.67%	0.910	0.138
12	單選題	2.00	C	2	7	337	2	0	0	0	0	94	0	0	0	1	3	89	1	0	0	96.84%	0.973	0.053
13	單選題	2.00	B	176	134	30	8	0	0	44	42	7	1	0	0	54	28	10	2	0	0	38.51%	0.372	0.149
14	單選題	2.00	D	12	8	213	115	0	0	3	2	53	36	0	0	4	3	60	27	0	0	33.05%	0.335	0.096
15	單選題	2.00	A	194	25	6	123	0	0	65	2	1	26	0	0	39	17	1	37	0	0	55.75%	0.553	0.277
16	單選題	2.00	C	18	45	256	28	0	1	1	7	80	5	0	1	7	22	51	14	0	0	73.56%	0.697	0.309
17	單選題	2.00	A	53	24	216	55	0	0	13	3	60	18	0	0	20	8	56	10	0	0	15.23%	0.176	-0.074
18	單選題	2.00	B	27	217	15	89	0	0	3	80	0	11	0	0	17	33	10	34	0	0	62.36%	0.601	0.500
19	單選題	2.00	D	13	16	30	289	0	0	0	0	3	91	0	0	5	10	13	66	0	0	83.05%	0.835	0.266
20	單選題	2.00	A	310	3	23	12	0	0	92	0	1	1	0	0	72	1	14	7	0	0	89.08%	0.872	0.213
21	單選題	2.00	D	35	11	8	294	0	0	5	0	0	89	0	0	13	4	5	72	0	0	84.48%	0.856	0.181
22	單選題	2.00	B	8	267	27	44	0	2	1	80	3	10	0	0	3	65	10	16	0	0	76.72%	0.771	0.160
23	單選題	2.00	B	10	308	22	8	0	0	1	93	0	0	0	0	4	66	18	6	0	0	88.51%	0.846	0.287
24	單選題	2.00	B	21	304	17	6	0	0	3	91	0	0	0	0	13	64	14	3	0	0	87.36%	0.824	0.287
25	單選題	2.00	A	245	16	65	23	0	0	74	0	17	3	0	0	57	8	16	14	0	0	70.11%	0.691	0.191
26	單選題	2.00	C	16	2	328	1	0	1	1	0	93	0	0	0	8	2	84	0	0	0	94.25%	0.941	0.096
27	單選題	2.00	A	192	107	14	35	0	0	67	19	1	7	0	0	43	35	7	9	0	0	55.17%	0.585	0.255
28	單選題	2.00	B	5	278	7	58	0	0	2	83	0	9	0	0	2	58	6	28	0	0	79.89%	0.750	0.266
29	單選題	2.00	B	27	228	9	84	0	0	3	74	0	17	0	0	16	51	7	20	0	0	65.52%	0.665	0.245
30	單選題	2.00	A	168	17	110	51	0	2	57	1	31	4	0	1	29	12	32	20	0	1	48.28%	0.457	0.298
31	單選題	2.00	B	10	296	31	10	0	1	0	89	5	0	0	0	8	64	19	2	0	1	85.06%	0.814	0.266
32	單選題	2.00	C	11	17	294	26	0	0	1	1	90	2	0	0	3	9	64	18	0	0	84.48%	0.819	0.277
33	單選題	2.00	B	83	150	41	74	0	0	20	53	3	18	0	0	22	26	18	28	0	0	43.10%	0.420	0.287
34	單選題	2.00	C	115	18	188	27	0	0	18	2	71	3	0	0	31	7	45	11	0	0	54.02%	0.617	0.277
35	單選題	2.00	D	73	35	8	232	0	0	12	7	1	74	0	0	26	14	3	51	0	0	66.67%	0.665	0.245
36	單選題	1.50	A	250	16	9	73	0	0	82	2	1	9	0	0	50	8	5	31	0	0	71.84%	0.702	0.340
37	單選題	1.50	C	45	24	255	24	0	0	6	2	84	2	0	0	19	11	51	13	0	0	73.28%	0.718	0.351
38	單選題	1.50	A	311	4	20	13	0	0	92	1	0	1	0	0	73	2	11	8	0	0	89.37%	0.878	0.202
39	單選題	1.50	C	4	17	238	89	0	0	0	4	71	19	0	0	1	6	59	28	0	0	68.39%	0.691	0.128
40	單選題	1.50	D	6	24	101	217	0	0	2	1	19	72	0	0	2	11	35	46	0	0	62.36%	0.628	0.277
41	單選題	1.50	A	213	67	42	26	0	0	67	15	7	5	0	0	44	23	15	12	0	0	61.21%	0.590	0.245
42	單選題	1.50	B	35	96	61	156	0	0	5	32	13	44	0	0	10	24	18	42	0	0	27.59%	0.298	0.085
43	單選題	1.50	B	24	285	33	5	0	1	2	87	5	0	0	0	8	64	21	1	0	0	81.90%	0.803	0.245
44	單選題	1.50	D	29	30	26	263	0	0	2	3	3	86	0	0	13	14	10	57	0	0	75.57%	0.761	0.309
45	單選題	1.50	A	278	11	50	8	0	1	81	2	10	1	0	0	69	4	18	2	0	1	79.89%	0.798	0.128
46	單選題	1.50	A	151	6	4	187	0	0	44	0	0	50	0	0	39	5	3	47	0	0	43.39%	0.441	0.053
47	單選題	1.50	A	299	16	6	27	0	0	89	0	1	4	0	0	70	9	4	11	0	0	85.92%	0.846	0.202
48	單選題	1.50	C	16	45	221	66	0	0	0	5	73	16	0	0	8	21	48	17	0	0	63.51%	0.644	0.266
49	單選題	1.50	C	4	34	281	29	0	0	0	4	83	7	0	0	1	12	69	12	0	0	80.75%	0.809	0.149
50	單選題	1.50	B	68	235	28	17	0	0	4	82	4	4	0	0	30	51	8	5	0	0	67.53%	0.707	0.330
51	單選題	1.50	A	190	28	24	106	0	0	60	7	6	21	0	0	42	12	9	31	0	0	54.60%	0.543	0.191
52	單選題	1.50	A	337	2	3	2	0	4	94	0	0	0	0	0	89	0	3	2	0	0	96.84%	0.973	0.053
53	單選題	1.50	C	13	30	150	151	0	4	0	12	47	35	0	0	3	9	34	48	0	0	43.10%	0.431	0.138
54	單選題	1.50	C	27	31	208	78	0	4	4	6	70	14	0	0	8	10	48	28	0	0	59.77%	0.628	0.234
55	單選題	1.50	D	59	25	40	218	1	5	14	6	7	66	0	1	15	9	17	53	0	0	62.64%	0.633	0.138