

桃園市立平鎮高級中學 109 學年度第二學期 第一次期中考

適用班級：高二 208、210、211

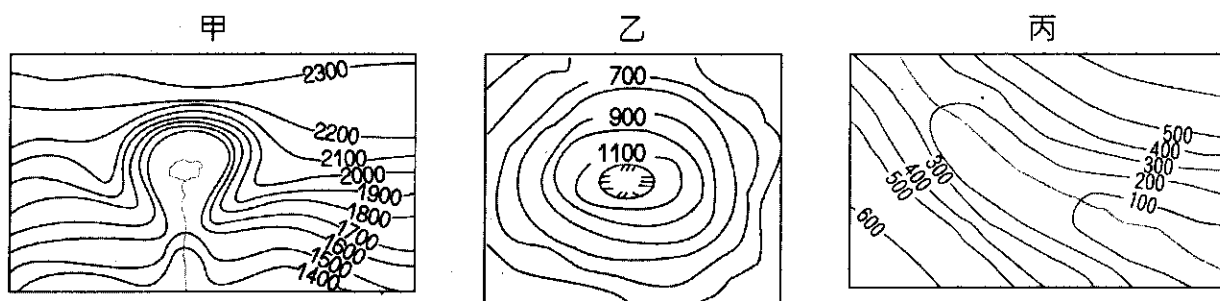
考試範圍：高中地理第三冊 ch1、ch2、chA

注意事項：基本資料於答案卡畫記錯誤或缺漏者扣總分 5 分

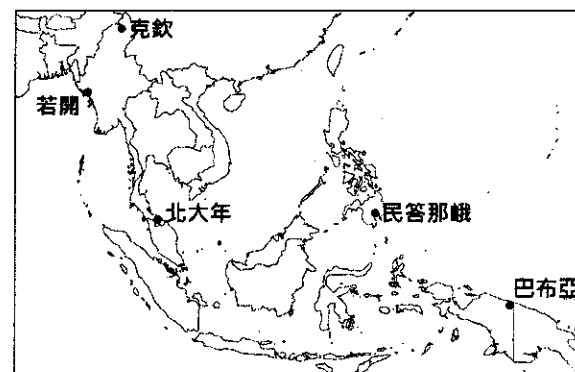
共三張五頁

一、單一選擇題(每題 2 分)

1. 印度的資訊技術和商業流程委外產業 (IT BPO) 發展始於 1970 年代。1980 年代末期迄今 20 年間，每年以 2 位數的速度成長，被譽為印度的「黃金、矽晶及石油」(gold、silicon and oil)。下列哪個選項與印度 IT BPO 的發展關係較小？(A)勞工充足 (B)精通英語 (C)工資低廉 (D)消費市場廣大。
2. 汶萊國土面積比臺灣還小，但每人平均國民所得超過臺灣兩倍，居東南亞第二位，僅次於新加坡。造成此現象的原因主要為下列何者？(A)高科技產品的研發 (B)提供國際金融的服務 (C)香料作物的市場獨占 (D)石油與天然氣的出口。
3. 2018 年 12 月 23 日印尼兩大島之間的巽他海峽因喀拉喀托火山爆發(右圖中的標示)，引發海底岩層滑坡導致海嘯，造成超過千人死傷。該災害的發生，主要是下列哪兩個板塊碰撞所造成？(A)歐亞板塊、印澳板塊 (B)太平洋板塊、歐亞板塊 (C)印澳板塊、菲律賓海板塊 (D)太平洋板塊、菲律賓海板塊。
4. 以下對新加坡經濟發展的敘述，哪三項正確？(甲)因掌控麻六甲海峽的地理位置優勢，殖民時期新加坡為荷蘭於東南亞最主要的海軍基地；(乙)隨著 1869 年巴拿馬運河開通，帶動全球貿易迅速成長，新加坡成為世界主要貿易據點；(丙)1965 年獨立後，其後成立加工出口區，由原料出口轉為產品外銷；(丁)1970 年代中期即與臺灣、香港、南韓共享「亞洲四小龍」之美譽，也是東南亞最早的新興工業化國家；(戊)目前為東南亞地區的金融中心。(A)甲乙丙 (B)甲丁戊 (C)乙丙丁 (D)丙丁戊。
5. 「在世界各地都能品嚐到相同口味的漢堡是麥當勞一直堅持的原則，但卻有國家因宗教的關係，讓麥當勞不得不屈服，採用不添加牛肉的特殊菜單，並在特殊節日時，推出素食漢堡。」引文所指的國家應是 (A)印尼 (B)印度 (C)孟加拉 (D)巴基斯坦。
6. 紐西蘭因擁有多樣的地形景觀，有「活的地形教室」之稱。以下為紐西蘭可觀察到的地形，由甲至丙依序為何種地形？(A)火山口、滲穴、峽灣 (B)火山口、滲穴、冰河槽 (C)冰斗、滲穴、冰河槽 (D)冰斗、火山口、冰河槽。



7. 「尼爾前往澳洲打工度假已經 5 個月了，剛來的時候因為文化不同鬧出了不少笑話。其中一個便是在逛超級市場時發生的慘劇，起因是尼爾的室友買了一包袋鼠肉，害尼爾在不知情的情況下，把他最喜歡的袋鼠給吃下肚了。詢問當地的友人後才知道，其實當地也不是人人都會吃袋鼠肉，一部分的肉是出口到國外的。但讓尼爾印象最深的是，在麥當勞打工時，被當地的澳洲人無故辱罵的情形，好在主管有幫忙解圍，事後主管也和他解釋是因為外來的打工族，多多少少會排擠到當地的工作機會，才會有這樣的情況。」請問：澳洲政府明知國外打工族會排擠當地人的工作機會，為什麼還是要開放大量人口來澳洲呢？(甲)可增加觀光收入；(乙)有規定外國人打工的期限；(丙)澳洲勞動力需要補充；(丁)為增加澳洲人的競爭力；(戊)可增加澳洲房地產收入。(A)甲乙丙 (B)甲乙戊 (C)甲丙丁 (D)乙丙丁。
8. 某地居民與大洋洲的美拉尼西亞人關係密切，近六成信奉基督教，與甲國其他地區幾乎以信仰伊斯蘭教的文化特色差異頗大，因此有追求獨立的聲浪。某地最可能指的是右圖中的何者？(A)克欽 (B)北大年 (C)巴布亞 (D)民答那峨。
9. 南亞某國的主要產業為水力發電、農業及觀光業，其中水力發電不僅自給充足，尚可供外銷出口，以印度為最大輸出國。此外，由於該國無任何港口，因此許多貨物的進出口皆需仰賴印度的主要港口。此國家的主要宗教信仰最可能為下列何者？(A)佛教 (B)印度教 (C)天主教 (D)伊斯蘭教。



二、題組題(每題 2 分)

★自二十世紀初開始，隨著東南亞民族主義的興起和民族國家的建立，也伴隨著對華人少數族群的歧視甚至於更惡劣的傷害，請問：

10. 東南亞國家常發生「排華運動」，其產生的原因與以下哪些因素有關？(甲)早期華僑多存「落葉歸根」、「衣錦還鄉」的過客心態，對移居地認同程度較低，導致與當地人之間產生巨大隔閡；(乙)西方殖民以後，殖民者利用華人主導經濟，當地人掌握政治之間的矛盾，相互箝制，來鞏固統治者的利益，使雙方嫌隙更深；(丙)華人在殖民勢力撤離後，因缺少政治力的保護，在東南亞各國內所享有的地位及權利遭到壓抑；(丁)東南亞與中國在經貿上處於競爭關係，加上政治上的衝突，造成當地居民報復排華。(A)甲乙丙 (B)甲乙丁 (C)甲丙丁 (D)乙丙丁。
11. 下列哪一個國家沒有發生排華運動？(A)越南 (B)寮國 (C)印尼 (D)新加坡。

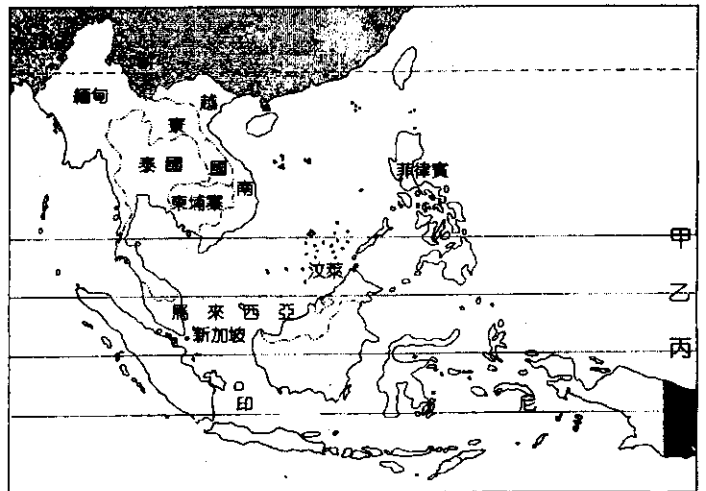
★新加坡、馬來西亞的霾害，主要是 6~8 月南半球之□□信風越過赤道後受科氏力轉向為□□風，將蘇門答臘的煙霧吹向星馬兩國（新加坡又稱星洲）。請問：

12. 下表為越南、新加坡、寮國、馬來西亞四國的三級產業就業比例，代表不同發展程度的國家類型。其中霾害嚴重的新加坡、馬來西亞分別是何者？(A)甲丁 (B)乙甲 (C)乙丙 (D)丙丁。

產業人口 (%)	甲	乙	丙	丁
第一級產業	11.1%	0.1%	48%	55.8%
第二級產業	36%	19.6%	21%	16.9%
第三級產業	53.5%	80.3%	31%	27.3%

13. 右圖中甲~丁之緯線，何者為赤道？(A)甲 (B)乙 (C)丙 (D)丁。
14. □□內的風向依序應填入哪兩項？(甲)東南；(乙)西北；(丙)東北；(丁)西南。(A)乙丙 (B)甲丁 (C)甲丙 (D)乙丁。

★根據綠色和平組織的報導，馬來西亞的 IOI 集團利用東南亞大量的勞力資源從事【甲】作物種植與油脂化工，企圖達到垂直整合模式。為求擴大經營規模，陸續收購鄰近【乙】國土地，並且燃燒天然雨林獲取更多土地以便種植【甲】作物。請問：



15. 根據題幹中【甲】最可能是哪一種作物？(A)橡膠 (B)可可 (C)油棕 (D)菸草。
16. 若要長期監控馬來西亞熱帶雨林被破壞的情形，最好的方法是：
(A)對當地居民進行問卷調查 (B)定期至雨林區實地勘查 (C)查閱當地雨林面積之統計資料 (D)透過衛星影像定期監測。
17. 【甲】作物的生產過程中，具有哪一種特徵？(A)經常搭配家禽動物的飼養 (B)透過垂直整合方式擴大市場占有率 (C)多以原料或半成品形式送到各地市場 (D)雇主多能大幅提升產地工人的平均薪資。
18. 依據該集團產業內容需求，併購【乙】國土地，不僅環境適合栽培【甲】作物，同時可以直接聘請到較多當地的廉價勞工，請問【乙】最可能是哪一國？(A)印尼 (B)印度 (C)汶萊 (D)菲律賓。

★2017 年 7 月份，印度總理莫迪 (Narendra Modi) 所屬右翼印度人民黨領導的國家民主聯盟 (NDA) 推出柯文德 (Ram Nath Kovind) 作為候選人，最後順利出任印度第 14 屆總統。柯文德 1945 年出生在現今北方邦坎普爾郊縣的一個貧困村莊，父親是一位鐵工，屬於賤民階級的弱勢族群。請問：

19. 柯文德與莫迪同為低階種姓的出生背景，這次選舉堪稱低階種姓大勝利，但也有人質疑這將再次拉大印度社會的階級衝突。下列對於種姓制度的敘述何者正確？(A)共分為婆羅門、剎帝利、吠舍及賤民四大種姓階級 (B)種姓制度除血緣外亦會影響其職業及接受教育的機會，導致低階種姓常難以翻身 (C)1947 年印度脫離英國殖民獨立後，《憲法》正式廢除種姓制度，種姓制度現今對社會實際影響不大 (D)因為種姓制度印度女性地位崇高，柯文德競爭對手為女性就是最好例證。
20. 印度總理莫迪自 2014 年上任以來大刀闊斧的進行改革，希望讓印度經濟起飛。推出「印度製造」活動，鼓勵外商到當地投資製造，扶植國內製造業來推動經濟和增加職缺，甚至促成蘋果公司在印度生產 iPhone。許多科技公司考慮設廠於邦加羅爾的原因，下列何者錯誤？(A)印度豐富礦產資源 (B)相對低廉薪資 (C)鄰近重點大學提供相關技術人才 (D)與美國矽谷時差近半日，利於生產銜接。
21. 蘋果公司在印度製造的 iPhone SE 選定處理器與 iPhone 6s 同級，外觀如同 iPhone 5s，且記憶體僅 16GB，規格雖不如主流市場，但折合臺幣 7,000 元有找，是全世界最便宜的 iPhone 手機。蘋果公司在印度使用不同於他國

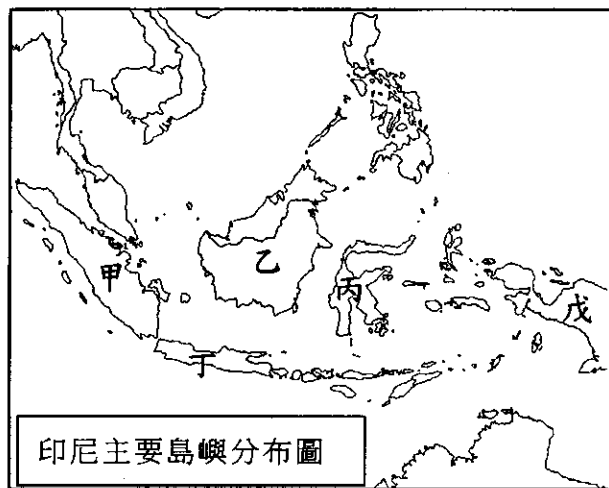
行銷策略的主要原因為何？ (A)印度智慧型手機市場已飽和 (B)印度實施計畫經濟貧富差距小，對奢侈品需求不高 (C)印度市場廣大，壓低售價積極搶占市占率 (D)印度行動網路發展緩慢，網路市場發展前景堪憂。

★國徽上通常運用該國的自然環境特徵，如地形、動物、植物，或是該國的風土人情、歷史文化等元素設計而成。右圖為南亞某國的國徽，其中央圖案為國花，下方水紋象徵當地河道縱橫的地理環境，上方的黃麻為當地主要的經濟作物，兩旁為當地主要糧食作物 - 水稻。請問：



22. 此國徽最有可能為下列哪一個國家？ (A)不丹 (B)尼泊爾 (C)孟加拉 (D)巴基斯坦。
 23. 造成該國境內河道縱橫的原因，最有可能為下列何者？ (A)全球暖化造成侵蝕基準面上移 (B)河流侵蝕作用所形成的地形 (C)地勢坡度極緩泥沙易淤積 (D)位於山麓附近的沖積扇地形。


★「印尼首都雅加達目前人口數約 1 千萬，加上從雅加達近郊通勤的人數，居住於大雅加達地區人口高達 3 千萬，而此島的人口約占全國人口 57%，且 GDP 占全國的 58.6% (2017 年)。除了都市交通壅塞令印尼經濟每年損失達 10 萬億印尼盾 (約 68 億美元) 外，人口不斷湧入造成地下水超抽，陸地持續下沉，若不採取相關挽救措施，預計 2030 年將沉沒。印尼總統佐科威於 2019 年 4 月決議將遷都，預計 2024 年開始，新首都位於婆羅洲東加里曼丹省兩縣境內，具有天災風險低、位處印尼群島中心等優勢。」請問：



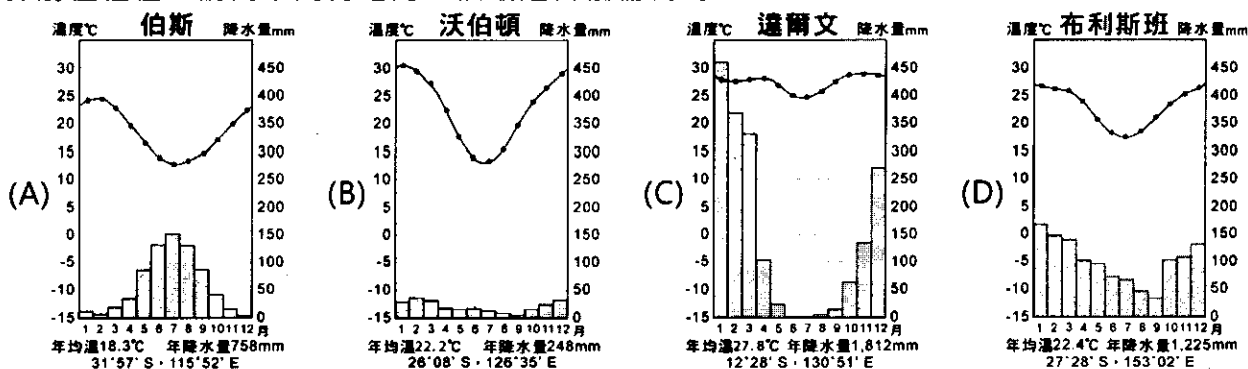
24. 根據資料可知，印尼遷都的可能原因為何？(甲)居民超抽地下水；(乙)降低種族衝突的發生；(丙)都市交通壅塞；(丁)平衡區域發展；(戊)加速天然資源的開採。 (A)甲乙丙 (B)乙丙丁 (C)甲丙丁 (D)乙丁戊。
 25. 根據敘述，圖中遷都的方向應為？ (A)甲→乙 (B)丙→丁 (C)丁→乙 (D)丁→戊。

★小朋被邀請參加一款新遊戲的內部測試，玩家必須扮演十八世紀的英國移民，每一個玩家都可以在澳洲大陸開始一段截然不同的人生模擬遊戲。請各位一起來找尋看看這款遊戲有沒有 bug(出錯)的地方。

26. 當小朋剛進入到遊戲時，他發現自己正在一艘船上，詢問過水手後，才知道他們正在太平洋上航行，再 2 天的航程就可以到達他們這趟旅行的目的地。這是一個靠近海岸，但附近卻有優良港灣的城市，當地是早期歐洲移民的登陸處。請問這個城市最可能是下列何者？ (A)基督城 (B)伯斯 (C)雪梨 (D)墨爾本。
 27. 小朋順利抵達澳洲大陸後，迫不及待的想要去打怪練級，但他看到野外的動物後，卻發現不太對勁，遊戲製作組將一隻不屬於澳洲的動物放到了這邊。小朋將他們拍照後上傳給製作組，請大家一起來幫忙，看看是哪隻動物放錯了？



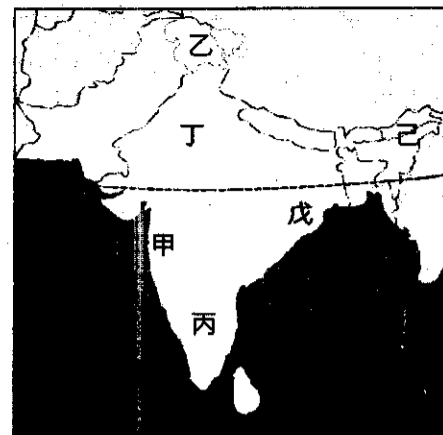
28. 在野外練級的小朋，被突然出現的袋鼠魔王打敗，於是他決定先來務農以累積資金。他聽聞現在市場上葡萄的價格最高，便打算前往種植。請問下列何地的氣候最適合種植葡萄？



29. 小朋成功將葡萄高價賣出後，終於湊到足夠的金額可以打造裝備，若以澳洲當地的礦產資源來看，下列哪一個系列的裝備是最容易取得的？ (A)木鎧甲 (B)銀鎧甲 (C)銅鎧甲 (D)鐵鎧甲。
 30. 取得全新裝備的小朋信心滿滿的前往野外，打算找袋鼠魔王報仇。但一出城門就看到滿坑滿谷的袋鼠怪物在肆虐。請問這情況用哪個處理方法是最符合環境永續原則？ (A)政府開放捕獵名額，還可當成商品來出口 (B)找回澳洲野犬，重回大自然的規律 (C)禁止獵殺，每隻袋鼠都是生態的一部分 (D)開放商業養殖，並可以認養作為寵物。

★附圖為南亞地區簡圖，請問：

31. 看電影為印度人民重要的休閒活動，寶萊塢 (Bollywood) 電影工業蓬勃發展，成為全球每年電影產量最多的地區。請問寶萊塢位於圖中何處？ (A)甲 (B)丙 (C)丁 (D)戊。
32. 承上題，今日寶萊塢的電影風行全球，甚至成為行銷印度文化的主要途徑，當地拍攝電影使用的語言應為何？ (A)泰米爾語 (B)泰盧固語 (C)印第語 (D)僧加羅語。
33. 關於「乙」地的敘述，下列何者正確？ (A)位喜馬拉雅山東側，戰略地位重要 (B)當地以盛產紅茶聞名世界，為當地主要收入來源 (C)該區的衝突，主要是印度教和伊斯蘭教的對立所致 (D)其主權歸屬曾引爆印度和孟加拉之間的戰爭。

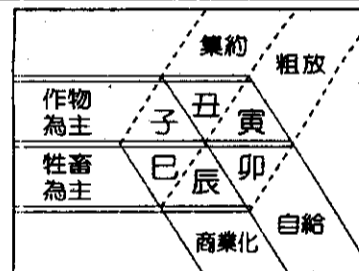


★1980~1990年馬、泰、菲、印4國因對內進行經濟改革，對外採取開放政策，吸引大量外資進入，成為第二代的新興工業化國家。表所列為2017年此4國的貿易資料。請問：

	出口總值 (億美元)	進口總值 (億美元)	每人 GDP (美元)	主要出口商品	主要進口商品
甲	1,689	1,501	12,400	棕櫚油、橡膠、木漿、銅、原油、天然氣、輪胎、首飾	機械與設備、鋼鐵、燃料、糧食
乙	482	894	8,400	椰製品、銅製品、金、電纜線、電子零件及產品、工業代工產品、運輸設備	電子產品、礦物燃料、機械及運輸設備、紡織布料、穀物、塑膠、鋼鐵
丙	1,879	1,607	29,100	棕櫚油、原油、天然氣、化學品、電子零件及產品	電子產品、機械、石化產品、塑膠、運輸工具、鋼鐵、化學製品
丁	2,351	2,032	17,900	稻米、橡膠、乙烯、寶石、石油煉製品、電腦、電子零件、汽車	機械、電機零件、原物料和半成品、原油、大豆、小麥

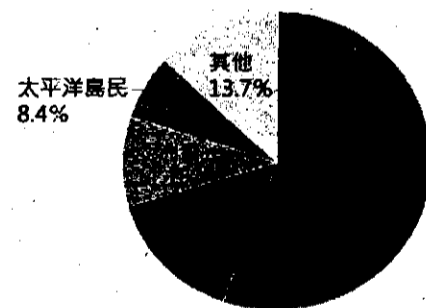
資料來源：CIA、貿協全球資訊網

34. 在吸引外資的眾多條件中，何者是此4國所共同具備的條件？ (A)豐富的礦產 (B)低廉的勞工 (C)氣候良好少天災 (D)政府清廉效率佳。
35. 從表中主要出口商品的內容判斷，丙國主要的農業經營特徵最可能是右圖中的何者？ (A)子 (B)丑 (C)寅 (D)卯。
36. 乙國具有下列哪一項貿易特色？ (A)國際收支為負債國，恐不利於經濟發展 (B)較其他三國易受國際經濟不景氣影響 (C)因貿易順差，故可迅速累積外匯存底 (D)因人超較大，造成國內通貨膨脹問題嚴重。



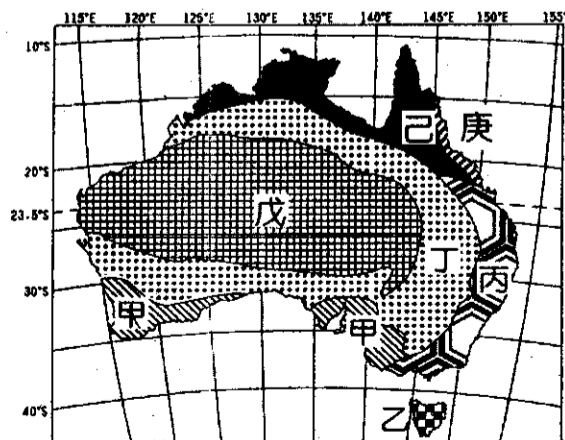
★小殷在上地理課前，準備先來預習紐西蘭的課程，但他對右列的圓餅圖統計結果頗為困惑，請幫忙解答他的問題。

37. 請問紐西蘭的歐洲裔當中，以哪國人的後代最多？ (A)英國 (B)法國 (C)德國 (D)義大利。
38. 小殷將各種族比例加起來，發現數字超過了100%。請問下列何者的解釋最合理？ (A)繪圖者數據有誤 (B)受訪者自認多種族 (C)有混血兒的緣故 (D)因為有新移民加入。



★右圖為澳洲氣候類型分布圖，請根據該圖回答下列問題：

39. 從圖中可看出戊氣候所占的面積最大，形成此氣候最主要的原因為何？ (A)行星風系類型 (B)海陸分布差異 (C)洋流性質差異 (D)地勢高低起伏。
40. 圖中哪兩種氣候類型有明顯乾季？ (A)甲己 (B)乙丁 (C)戊己 (D)乙丙。
41. 澳洲的主要都市大多位於哪一氣候區內？ (A)甲 (B)丙 (C)丁 (D)庚。



★「熱浪侵襲印度數週，創下 51°C 的破紀錄高溫。境內十三省農作物枯萎，數百人死亡，數以萬計小農不得不離開自己的土地，進入城市求生，更有不少農民不願屈居城市裡的貧民窟，選擇自盡。

印度前一次歷史高溫紀錄是 50.6°C，發生在 1956 年的拉賈斯坦邦阿爾瓦爾市。世界最高溫紀錄則是 56.7°C，發生在 1913 年 7 月的加州死亡谷。

印度氣象局 (India Meteorological Department, IMD) 警告，當地中部和西北部分地區熱浪將持續，並伴隨沙塵暴，已有多處河川、湖泊和水壩出現乾涸現象。」請問：

42. 從文中推斷出這是幾月的新聞報導？ (A)二月 (B)五月 (C)八月 (D)十一月。

43. 印度熱浪與乾旱問題，必須仰賴每年雨季的降水解決，而降水的來源為何？ (A)西南季風 (B)西北季風 (C)東南季風 (D)東北季風。

44. 怕熱又討厭下雨的老師如果要去印度旅遊，最適合在哪個假期前往？ (A)寒假 (B)清明節 (C)暑假 (D)雙十節。

★2008 年金融海嘯侵襲全球，澳洲身為資源大國，受惠於中國對原物料的龐大需求，出現了充分就業與貿易順差的榮景，率先走出全球景氣低迷的陰霾，展現經濟奇蹟。然而隨著近年鐵礦砂與煤礦的需求逐降，其價格持續崩跌，外匯收入也隨之驟減，澳洲政府被迫需要不斷的舉債才能平衡政府開支。當初澳洲的優勢也變成其經濟的最大弱點。請問：

45. 由文中可得知，中國與澳洲的貿易關係十分密切，請問下列哪個組織的形成，與此兩國間頻繁的貿易交流有關？ (A)太平洋島國論壇 (PIF) (B)石油輸出國家組織 (OPEC) (C)跨太平洋夥伴全面進步協定 (CPTPP) (D)區域全面經濟夥伴協定 (RCEP)。

46. 澳洲目前面臨的債務危機，與該國哪一個經濟特色關係最密切？ (A)產品多元化 (B)市場自由化 (C)原料出口導向 (D)地方特色產業盛行。

47. 澳洲政府若採取貨幣貶值作法以幫助礦業度過難關，將對澳洲國內產生下列哪些影響？(甲)進口物價下跌；(乙)出口商獲利提高；(丙)觀光客人數增加；(丁)國外投資澳洲房產意願增加。(A)甲乙丙 (B)乙丙丁 (C)甲丙丁 (D)甲乙丁。

★元代周達觀《真臘風土記》中詳細記載 13 世紀元朝對真臘的交通貿易情形。以下節錄：

真臘國或稱占臘，其國自稱曰甘孛智。歷閩、廣海外諸州港口，過七洲洋，經交趾洋到占城。又自占城順風可半月到真蒲，乃其境也。又自真蒲行坤申針，過崑崙洋，入港。港凡數十，惟第四港可入，其餘悉以沙淺故不通巨舟。然而彌望皆修藤古木，黃沙白葦，倉卒未易辨認，故舟人以尋港為難事。自港口北行，順水可半月，抵其地曰查南，乃其屬郡也。又自查南換小舟，順水可十餘日，過半路村、佛村，渡淡洋，可抵其地曰干傍，取城五十里。請問：

48. 從文章中判斷，周達觀隨元朝使節團至真臘國登岸，其登岸時間為何？ (A)11~2 月 (B)3~5 月 (C)6~10 月 (D)4~6 月。

49. 文章中真臘國的環境敘述有可能形容下列哪一種地形？ (A)三角洲 (B)峽灣 (C)斷崖 (D)谷灣。

50. 文章中自港口北行，應是順著哪一條河流？ (A)昭披耶河 (B)湄公河 (C)薩爾溫江 (D)伊洛瓦底江。

桃園市立平鎮高級中學 109學年第2學期
 月考一二年級不限組別地理[20210331200010C00063]
 全體考生 試題分析表

全體人數：127 高分組人數：34 低分組人數：34

列印日期：2021/3/31

題號	題型	配分	標準答案	全體					高分組					低分組					全體 答對率	難易 指數	鑑別 指數			
				A	B	C	D	E	未	A	B	C	D	E	未	A	B	C				D	E	未
01	單選題	2.00	D	7	19	6	95	0	0	1	1	1	31	0	0	5	14	3	12	0	0	74.80%	0.632	0.559
02	單選題	2.00	D	5	7	9	106	0	0	0	1	0	33	0	0	2	4	7	21	0	0	83.46%	0.794	0.353
03	單選題	2.00	A	84	4	37	2	0	0	29	0	3	2	0	0	12	1	21	0	0	0	66.14%	0.603	0.500
04	單選題	2.00	D	6	33	10	78	0	0	0	2	1	31	0	0	4	10	4	16	0	0	61.42%	0.691	0.441
05	單選題	2.00	B	7	111	4	5	0	0	0	33	0	1	0	0	3	26	3	2	0	0	87.40%	0.868	0.206
06	單選題	2.00	D	6	18	13	90	0	0	2	2	3	27	0	0	3	5	6	20	0	0	70.87%	0.691	0.206
07	單選題	2.00	A	61	4	52	10	0	0	21	0	13	0	0	0	12	1	11	10	0	0	48.03%	0.485	0.265
08	單選題	2.00	C	5	13	71	38	0	0	0	2	26	6	0	0	4	8	11	11	0	0	55.91%	0.544	0.441
09	單選題	2.00	A	75	20	8	24	0	0	25	3	0	6	0	0	12	8	4	10	0	0	59.06%	0.544	0.382
10	單選題	2.00	A	103	7	9	8	0	0	27	1	3	3	0	0	23	2	5	4	0	0	81.10%	0.735	0.118
11	單選題	2.00	D	3	3	1	120	0	0	1	0	0	33	0	0	1	2	1	30	0	0	94.49%	0.926	0.088
12	單選題	2.00	B	2	89	34	2	0	0	0	28	6	0	0	0	1	23	9	1	0	0	70.08%	0.750	0.147
13	單選題	2.00	C	13	20	64	30	0	0	0	1	26	7	0	0	8	8	14	4	0	0	50.39%	0.588	0.353
14	單選題	2.00	B	8	94	19	6	0	0	0	32	2	0	0	0	7	12	13	2	0	0	74.02%	0.647	0.588
15	單選題	2.00	C	8	0	119	0	0	0	1	0	33	0	0	0	3	0	31	0	0	0	93.70%	0.941	0.059
16	單選題	2.00	D	1	14	5	107	0	0	0	1	0	33	0	0	1	5	4	24	0	0	84.25%	0.838	0.265
17	單選題	2.00	C	5	46	75	1	0	0	1	8	25	0	0	0	3	15	15	1	0	0	59.06%	0.588	0.294
18	單選題	2.00	A	114	4	5	4	0	0	34	0	0	0	0	0	25	2	4	3	0	0	89.76%	0.868	0.265
19	單選題	2.00	B	6	120	1	0	0	0	0	34	0	0	0	0	4	29	1	0	0	0	94.49%	0.926	0.147
20	單選題	2.00	A	85	4	31	7	0	0	23	0	10	1	0	0	22	2	6	4	0	0	66.93%	0.662	0.029
21	單選題	2.00	C	4	12	104	7	0	0	0	1	29	4	0	0	2	5	26	1	0	0	81.89%	0.809	0.088
22	單選題	2.00	C	7	17	94	9	0	0	1	1	31	1	0	0	4	6	18	6	0	0	74.02%	0.721	0.382
23	單選題	2.00	C	1	35	18	73	0	0	0	11	5	18	0	0	1	15	4	14	0	0	14.17%	0.132	0.029
24	單選題	2.00	C	3	0	124	0	0	0	0	0	34	0	0	0	2	0	32	0	0	0	97.64%	0.971	0.059
25	單選題	2.00	C	31	5	88	3	0	0	9	0	25	0	0	0	11	4	17	2	0	0	69.29%	0.618	0.235
26	單選題	2.00	C	7	8	82	30	0	0	1	0	31	2	0	0	4	5	19	6	0	0	64.57%	0.735	0.353
27	單選題	2.00	D	6	44	2	75	0	0	0	6	0	28	0	0	1	16	1	16	0	0	59.06%	0.647	0.353
28	單選題	2.00	A	93	1	14	19	0	0	32	0	2	0	0	0	12	0	6	16	0	0	73.23%	0.647	0.588
29	單選題	2.00	D	15	13	15	84	0	0	2	0	1	31	0	0	9	4	8	13	0	0	66.14%	0.647	0.529
30	單選題	2.00	B	61	45	15	6	0	0	17	12	5	0	0	0	18	12	4	0	0	0	35.43%	0.353	0.000
31	單選題	2.00	A	97	10	9	11	0	0	31	3	0	0	0	0	19	2	5	8	0	0	76.38%	0.735	0.353
32	單選題	2.00	C	17	5	102	3	0	0	2	0	32	0	0	0	10	3	19	2	0	0	80.31%	0.750	0.382
33	單選題	2.00	C	11	8	99	9	0	0	2	0	32	0	0	0	3	5	20	6	0	0	77.95%	0.765	0.353
34	單選題	2.00	B	24	99	3	0	0	1	8	25	1	0	0	0	7	24	2	0	0	1	77.95%	0.721	0.029
35	單選題	2.00	A	100	19	5	3	0	0	32	2	0	0	0	0	24	6	2	2	0	0	78.74%	0.824	0.235
36	單選題	2.00	A	68	18	8	33	0	0	23	3	1	7	0	0	21	5	3	5	0	0	53.54%	0.647	0.059
37	單選題	2.00	A	119	7	1	0	0	0	34	0	0	0	0	0	29	4	1	0	0	0	93.70%	0.926	0.147
38	單選題	2.00	B	3	56	43	25	0	0	1	17	11	5	0	0	0	16	9	9	0	0	44.09%	0.485	0.029
39	單選題	2.00	A	66	21	24	16	0	0	25	3	6	0	0	0	10	9	7	8	0	0	51.97%	0.515	0.441
40	單選題	2.00	A	90	7	24	6	0	0	28	1	3	2	0	0	17	3	11	3	0	0	70.87%	0.662	0.324
41	單選題	2.00	B	1	119	4	3	0	0	0	34	0	0	0	0	0	27	4	3	0	0	93.70%	0.897	0.206
42	單選題	2.00	B	14	66	41	6	0	0	0	28	6	0	0	0	3	10	19	2	0	0	51.97%	0.559	0.529
43	單選題	2.00	A	94	5	21	7	0	0	29	0	5	0	0	0	18	4	6	6	0	0	74.02%	0.691	0.324
44	單選題	2.00	A	74	15	8	30	0	0	29	3	0	2	0	0	8	7	5	14	0	0	58.27%	0.544	0.618
45	單選題	2.00	D	6	1	22	98	0	0	1	0	2	31	0	0	4	1	9	20	0	0	77.17%	0.750	0.324
46	單選題	2.00	C	0	9	114	4	0	0	0	1	33	0	0	0	0	4	28	2	0	0	89.76%	0.897	0.147
47	單選題	2.00	B	7	99	18	3	0	0	2	32	0	0	0	0	4	17	11	2	0	0	77.95%	0.721	0.441
48	單選題	2.00	A	80	14	25	8	0	0	30	0	4	0	0	0	10	11	8	5	0	0	62.99%	0.588	0.588
49	單選題	2.00	A	99	16	2	10	0	0	33	1	0	0	0	0	23	6	1	4	0	0	77.95%	0.824	0.294
50	單選題	2.00	B	9	93	14	11	0	0	1	27	2	4	0	0	3	21	6	4	0	0	73.23%	0.706	0.176