

適用班級：高二 1~14 班

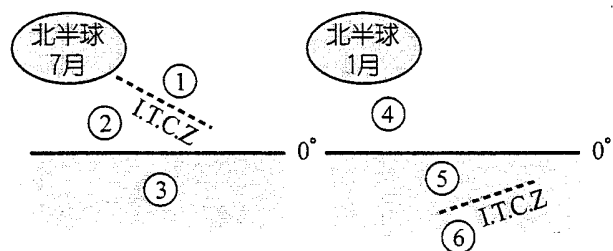
考試範圍：第三冊 1~5 章

注意事項：基本資料劃記錯誤扣總分五分

填答方式：答案卡

一、單選題(一題二分)

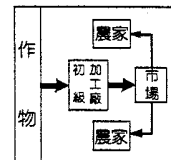
1. 南洋群島受板塊推擠影響，陸地極為破碎，如菲律賓擁有 7,000 多個島嶼，印尼更超過 13,000 個以上，而菲國東緣及印國南緣為板塊接觸帶，故多火山、地震，有許多新褶曲山聳峙其間。請問 2004 年 12 月 26 日所發生的南亞大海嘯，是哪兩個板塊碰撞所造成的重大災害？ (A) 太平洋板塊、歐亞板塊 (B) 歐亞板塊、印澳板塊 (C) 印澳板塊、菲律賓海板塊 (D) 歐亞板塊、菲律賓海板塊。
2. 東南亞地區主要出口商品為熱帶經濟作物、木材、礦產資源，這樣的經濟發展特色，容易造成下列哪一個問題？ (A) 產品易被其他地區取代 (B) 隨工資上漲導致生產成本大增 (C) 機械取代人工造成失業率上升 (D) 容易受到國際市場價格波動影響。
3. 每年 7~9 月間，日本本州的日本海沿岸地區，不時傳出氣溫驟升至 36°C 甚至 38°C 的新聞，請問該天氣現象與下列哪一因素有關？ (A) 熱帶氣旋 (B) 西北季風 (C) 東南季風 (D) 對馬暖流。
4. 旅居日本的玉琪提及 1995 年在東京所見的社會現象：「買了十多年菜的超市忽然歇業，聽說老闆原本小有資產，卻聽信人，隨環境起舞，借巨金投資股票、房地產，終究血本無歸。到銀行匯款，竟只剩兩部提款機，原來該行已被其他銀行合併。社區圖書館出現許多穿西裝打領帶，每天由早泡到晚上的『假上班族』。打開報紙就抖出一疊出售廠房的廣告折頁。」引文最可能為下列何種現象的寫照？ (A) 產業空洞化 (B) 高齡化社會 (C) 泡沫經濟破滅 (D) 國際貿易自由化。
5. 赤道一帶的東南亞冬夏盛行風向常呈現如圖所示的現象。下列有關①~⑥區風向的敘述如下：(甲)此區共出現兩種風向；(乙)②與⑥區吹東南風；(丙)①與②區風向相同；(丁)④區因信風與季風同一方向，風力特別強。上述正確的共有幾項？ (A) 0 (B) 1 (C) 2 (D) 3 項。



6. (甲)降雪豐富；(乙)冬季降水略少；(丙)溫差較大；(丁)地勢較高。北海道居民利用哪些環境特徵種植高糖分、香脆之瓜果，內銷之外尚可賣至海外？ (A) 甲乙 (B) 乙丙 (C) 丙丁 (D) 甲丁。
7. 表為日本各項經濟指標數據變化百分比(以 1985 年為基準)，造成日本經濟發生此種變化的因素為哪三項？(甲)寬鬆而低利率的銀行貸款；(乙)經濟長期成長；(丙)國際油價下跌；(丁)亞洲金融風暴；(戊)美國的干預。 (A) 甲乙丙 (B) 乙丙丁 (C) 甲丁戊 (D) 丙丁戊。

| 基準年度 (1985) | 股價指數 增加率(%) | 地價指數 增加率(%) | 國民資產 增加率(%) | 國民生產總值 增加率(%) |
|----------------|----------------|----------------|----------------|------------------|
| 1987 | 185 | 107 | 17.7 | 4.9 |
| 1989 | 309 | 285 | 14.7 | 4.8 |

8. 圖中為某種市場指向農牧活動的流程示意圖。下列哪兩個文化區內，此種農牧活動最為盛行？(甲)東亞文化區；(乙)東南亞文化區；(丙)拉丁美洲文化區；(丁)大洋洲文化區。 (A) 甲乙 (B) 丙丁 (C) 乙丙 (D) 甲丁。



9. 照片為某國家宮廷傳統服飾，也稱為「唐衣」，當時受到中國影響甚深，請問關於該國家敘述哪三項正確？(甲)食器多為打不破的碗筷與當時生活戰亂頻繁有關；(乙)由於冬季嚴寒農業無法經營，居民醃製泡菜供寒冬食用；(丙)當地居民多半以「伙房」度過寒冬；(丁)氣候有明顯的過渡性。 (A) 甲乙丙 (B) 甲乙丁 (C) 甲丙丁 (D) 乙丙丁。



10. 以下對於二次大戰前東南亞地區殖民國勢力範圍之配對，哪些正確？(甲)菲律賓—美國；(乙)馬來西亞—英國；(丙)越南—法國；(丁)東帝汶—荷蘭。 (A) 甲乙丙 (B) 乙丙丁 (C) 甲乙丁 (D) 甲丙丁。
11. 現行的國際組織若以功能區分，大概可以分為政治軍事性以及經濟合作型，下列各種國際組織中，哪一個的功能明顯和其他三者不同？ (A) 歐洲聯盟 (B) 北美自由貿易區 (C) 亞太經濟合作會議 (D) 北大西洋公約組織。

12. (甲)歐盟；(乙)美國；(丙)日本；(丁)中國；(戊)巴西。請問，以上哪些地區或國家，可謂全球的三大經濟核心區？ (A)甲乙丙 (B)甲乙丁 (C)甲乙戊 (D)乙丁戊。

13. 國內部分產業在國際市場上面臨區域的貿易整合危機，例如臺灣石化業部分產品在 2008 年已被中國課徵 6.5% 的反傾銷稅，但隨著中國於 2010 年加入某區域組織生效後，該組織內成員國輸往中國的相關產品的關稅會降至 0。因臺灣尚未加入該組織，使得臺灣的石化、機械及汽車等產業在銷往該組織的成員國時，均會受到差異關稅的影響。請問這個區域結盟組織是： (A) 歐盟 (B) 亞太經濟合作組織 (C) 東協 (D) 經濟合作與發展組織。

14. 請閱讀下列文章並改正之：「東南亞國家的人民生活受宗教影響很大。中南半島國家主要信奉(甲)大乘佛教。泰國、緬甸、寮國、越南均視佛教為國教。男生一生均要剃度出家一次，喪葬、婚壽喜慶、政府大典均需僧侶祈禱祝福。緬甸有『萬塔之國』別稱，而昔日首都(乙)曼谷有「金塔之都」的雅名。(丙)天主教於十三世紀，隨商人傳入南洋群島，以爪哇島為中心向外擴散，今除菲律賓中北部由(丁)葡萄牙人傳入的西方宗教外，大多是……。」下列修改答案正確為何？ (A) 甲—藏傳佛教 (B) 乙—河內市 (C) 丙—伊斯蘭教 (D) 丁—美國人。

15. 照片中為王先生去年出外旅遊時所拍攝的某地風光。請判斷該照片所呈現的景觀最可能出現在哪一個地區？ (A) 美國東南岸 (B) 西班牙庇里牛斯山區 (C) 菲律賓呂宋島 (D) 大洋洲社會群島。



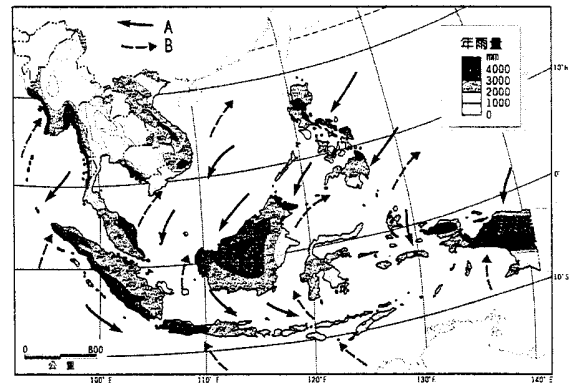
16. 東南亞國協（東協）擁有十個會員國，為亞太經濟板塊重要的一部分。請問：東協最早的五個會員國—泰國、馬來西亞、菲律賓、印尼和新加坡之共同特徵為何？ (A) 均曾為西方國家的殖民地 (B) 族群文化複雜多元的國家 (C) 農、礦產資源豐富的國家 (D) 都市體系均呈首要型都市型態。

17. 二十世紀末，隨著蘇聯和東歐共產國家相繼解體，東、西冷戰結束，世界各國之間的互動更加頻繁，國與國之間的經濟競爭日趨激烈，許多國家乃相互結盟，以提升競爭力。臺灣因為地緣關係，受到以下哪一區域經濟組織影響最大？ (A) EU (B) AU (C) APEC (D) OPEC。

二、題組題(一題二分)

※右圖是東南亞冬夏季風方向與年降水量分布圖，請根據此圖回答以下問題：

18. B 風主要出現於哪一季節？ (A) 春 (B) 夏 (C) 秋 (D) 冬。
19. 由圖可知，以下中南半島哪一地區冬季仍有降雨機會？ (A) 緬甸南部 (B) 泰國中部 (C) 柬埔寨 (D) 越南中部。
20. 造成緬甸南部沿海年雨量超過 4,000 公釐的主要原因為何？ (A) 迎印度洋暖濕的夏季季風 (B) 迎中國南海暖濕的冬季季風 (C) 間熱帶輻合區終年籠罩 (D) 鋒面長期滯留。
21. 造成泰國中北部雨量偏少的主要原因為何？ (A) 山脈阻隔 (B) 副熱帶高壓帶長期籠罩 (C) 涼流影響 (D) 境內水體稀少。



※被列為世界重要文化遺產的吳哥寺廟群占地 200 平方公里，包含超過 100 個寺廟，乃是九~十三世紀時的高棉國王為鞏固權力而建。請回答以下問題：

22. 吳哥窟之宗教景觀與以下何地較接近？ (A) 婆羅浮屠 (B) 泰姬瑪哈陵 (C) 峇里島 (D) 泰國玉佛寺。
23. 目前柬埔寨主要屬於哪一宗教分布區？ (A) 印度教 (B) 大乘佛教 (C) 小乘佛教 (D) 伊斯蘭教。
24. 西方殖民時代，柬埔寨淪為哪一國殖民地？ (A) 英 (B) 法 (C) 荷 (D) 西。

※附圖為中南半島上的六個國家簡圖。請回答：



圖 1



圖 2



照片 1

25. 圖 2 是一張世界上與中華民國國旗極為相似的國旗(該國舊國旗)，該國旗為圖 1 中哪國的國旗？ (A)甲 (B)乙 (C)丙 (D)戊。
26. 中南半島流經最多國家的河川，出海口處位在圖 1 中哪一國？ (A)甲 (B)丙 (C)丁 (D)戊。
27. 己國與其他五國最大的共同點是 (A)山脈地形 (B)氣候特徵 (C)宗教文化 (D)種族來源。
28. 照片 1 類似旗袍的服飾為哪國的傳統服飾？ (A)甲 (B)乙 (C)丙 (D)丁。
29. ①均為 APEC 的成員國；②均為 ASEAN 的成員國；③主要種族早期來自中國南部；④氣溫以熱帶為主；⑤同屬湄南河流域國家。圖中甲~戊五國有何共同性？ (A)①②③ (B)①②⑤ (C)②④⑤ (D)②③④。

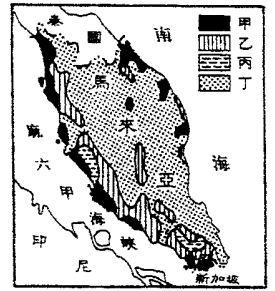


圖 3

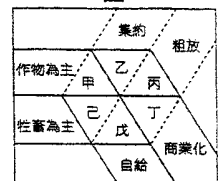


圖 4

※馬來西亞為亞洲四小虎平均 GDP 最高的國家，過去以橡膠、錫礦為兩大富源，今日橡膠種植逐漸被油棕取代，圖 3 即為馬來西亞的重心-馬來半島的簡圖。請回答：

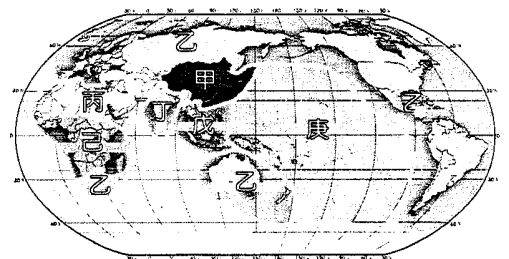
30. 馬來西亞的「膠錫地帶」位於圖中何區？ (A)甲 (B)乙 (C)丙 (D)丁。
31. 近年印尼的油棕種植面積和產量節節上升，直逼馬來西亞。印尼油棕業有哪些條件較優於馬來西亞？①氣候較為濕熱；②工資較為低廉；③加工技術較高；④人力資源較豐沛；⑤農業機械化較高 (A)①② (B)②④ (C)③④ (D)①⑤。
32. 馬來西亞的橡膠、錫礦、棕櫚油等物產的盛產，成就了新加坡的何項經濟特色？ (A)出口導向 (B)高科技產業 (C)進口替代 (D)轉口貿易。
33. 馬、印尼兩國種植橡膠、油棕屬於圖 4 的農業活動特徵分類圖中的哪一類型？ (A)甲 (B)乙 (C)丙 (D)丁。

※二次大戰後，全球經濟聯繫日益密切，競爭也益發劇烈，「區域性經濟合作組織」因應而生，如東南亞國協期望在 10+1、10+3、10+6 機制中，掃除關稅與非關稅的貿易壁壘，以挑戰其他經濟體。請回答：

34. 從目前條件分析，東協加一（10+1）與歐盟相比，東協加一較具優勢的是 (A)技術 (B)資本 (C)勞力 (D)動力。
35. 東協內部國家能達成合作共識的最主要原因為何？(甲)宗教文化複雜，企求透過合作，促使區域穩定；(乙)農礦產互補性高，會員國間的貿易可共創利潤；(丙)藉著政治上之結盟，逐步向西方資本陣營靠攏；(丁)藉由區域整合，以因應新的全球經濟秩序發展 (A)甲乙 (B)乙丙 (C)丙丁 (D)甲丁。
36. 「東協加一」的構想，東協各國認知有所不同，部分東南亞國家持保留態度，其原因是擔心此自由貿易區成立後會有何種問題產生？ (A)將面臨中國相同產業的強勢競爭 (B)將引發歐、美強烈抵制 (C)將使本國文化特質被中國同化 (D)將使日本與韓國減少對東南亞的投資。
37. 因「東協」境內國家經濟發展性質相似，缺乏互補性，為彌補此缺憾，「東協」積極尋找具有互補的國家結合，最近醞釀的「東協 10+3」，其中「3」是指哪三國？ (A)中國、香港、南韓 (B)中國、南韓、日本 (C)中國、日本、紐西蘭 (D)中國、紐西蘭、澳大利亞。
38. 東南亞國協在 1967 年創立，組織目的為鞏固經濟、政治、文化上的合作關係，追求區域的共榮，請問何者不是其會員國的普遍現象（除新加坡以外）？ (A)殖民地式經濟 (B)勞力密集 (C)原料出口導向 (D)投資環境佳。
39. 在近年政府外貿發展的「南向政策」中，促使東南亞各國與臺灣的經貿關係日益密切。下列有關臺商對東南亞投資環境之評估，正確的有幾項？(甲)工資低廉；(乙)對外商的管制相當多；(丙)動力、通訊及交通等基礎設施完善；(丁)城鄉之間的建設差距大 (A)甲乙 (B)乙丙 (C)丙丁 (D)甲丁。
40. 東南亞國家常發生「排華運動」，其產生的原因與以下何者較為無關？ (A)早期華僑多存「落葉歸根」、「衣錦還鄉」的過客心態，對移居地認同程度較低，導致與當地人之間產生巨大隔閡 (B)西方殖民以後，殖民者利用華人主導經濟，當地人掌握政治之間的矛盾，相互箝制，來鞏固統治者的利益，雙方嫌隙更深 (C)華人在殖民勢力撤離後，因缺少政治力的保護，在東南亞各國內所享有地位及權利遭到壓抑 (D)華人的出生率較高，引起當地人的危機感。

※附圖為世界文化分區圖，請根據此圖回答以下問題：

41. 哪個文化區的自然環境條件不佳，經濟發展程度最為落後？ (A)丙 (B)丁 (C)戊 (D)己。
42. 全球化並不一定會增進不同國家、民族之間的和諧，在某些情況下，甚至可能加劇不同文化傳統的國家、民族之間的衝突。例如，911 事件呈現出哪二個文化區之間的衝突？ (A)甲乙 (B)乙丙 (C)丙丁 (D)丁戊。



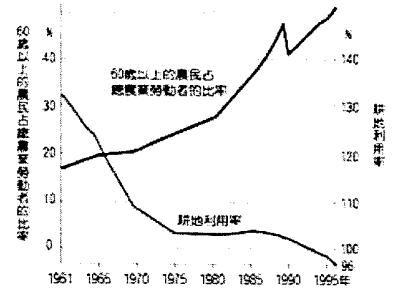
※附圖是日本耕地利用率與 60 歲以上農民比率之變化，兩者頗有關聯。試問：

43.(甲)勞動力短缺；(乙)農民所得偏低；(丙)工業化吸引；(丁)耕地逐漸粗放；(戊)鐵路運輸發展。

造成圖中兩條曲線變化的主因有：(A)甲乙 (B)乙丙 (C)丙丁 (D)丁戊。

44.(甲)設立專業專區；(乙)透過農協組織；(丙)管制糧食進口；(丁)推行機械化。日本政府解決

圖中問題的主要策略有：(A)甲乙丙 (B)乙丙丁 (C)甲丙丁 (D)甲乙丁。

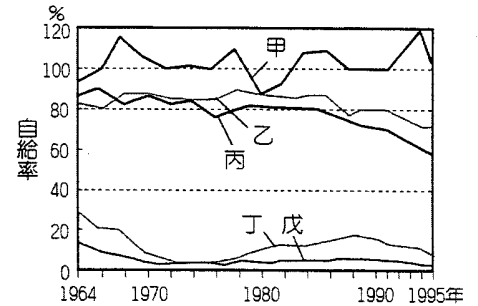


※附圖為日本農產自給率變化圖。請問：

45.圖中的「甲」作物自給率最高，它最有可能是何種農產？(A)小麥 (B)稻米 (C)大豆 (D)肉類。

46.乙曲線是牛乳、乳製品。下列因素中，哪些是影響日本畜牧業逐漸發達最主要的因素？①溫帶海洋性氣候②國際廉價飼料供應③山多平原少④飲食習慣西化⑤國外市場需求 (A)①③ (B)①⑤ (C)②③ (D)②④。

47.丁、戊兩種糧食的自給率很低，耕種面積也不多，因此需要大量進口。下列因素，哪些「不是」影響丁、戊糧食自給率的主要因素？(A)可耕地面積狹小 (B)工商業發達，土地變更用途 (C)都市化程度高，農業市場需求改變 (D)以米為主食，排擠其他糧食作物的種植。



※日本位居歐亞大陸東側外海，由於位置的獨特性，形成多種自然災害共生的自然環境，包括：(甲)颱風；(乙)地震；(丙)冷害；(丁)土石流；(戊)海嘯；(己)火山爆發。請問：

48.日本易生(丁)土石流災害的區域位於東南部太平洋沿岸，而根據此種空間分布的特性研判，最可能發生土石流災害的時間應為下列何者？(A)冬春兩季 (B)夏秋兩季 (C)持續數天的寒流期間 (D)持續數週的熱浪期間。

49.承上題，除了(丁)土石流之外，哪三項自然災害與「日本位於板塊接觸地帶」的環境條件有關？(A)甲乙丙 (B)乙丙己 (C)乙戊己 (D)丙戊己。

50.2011年3月11日，日本東北發生芮是規模 9.0 強震，繼之而來衝擊名取市的是什麼災害？(A)甲 (B)丙 (C)丁 (D)戊。